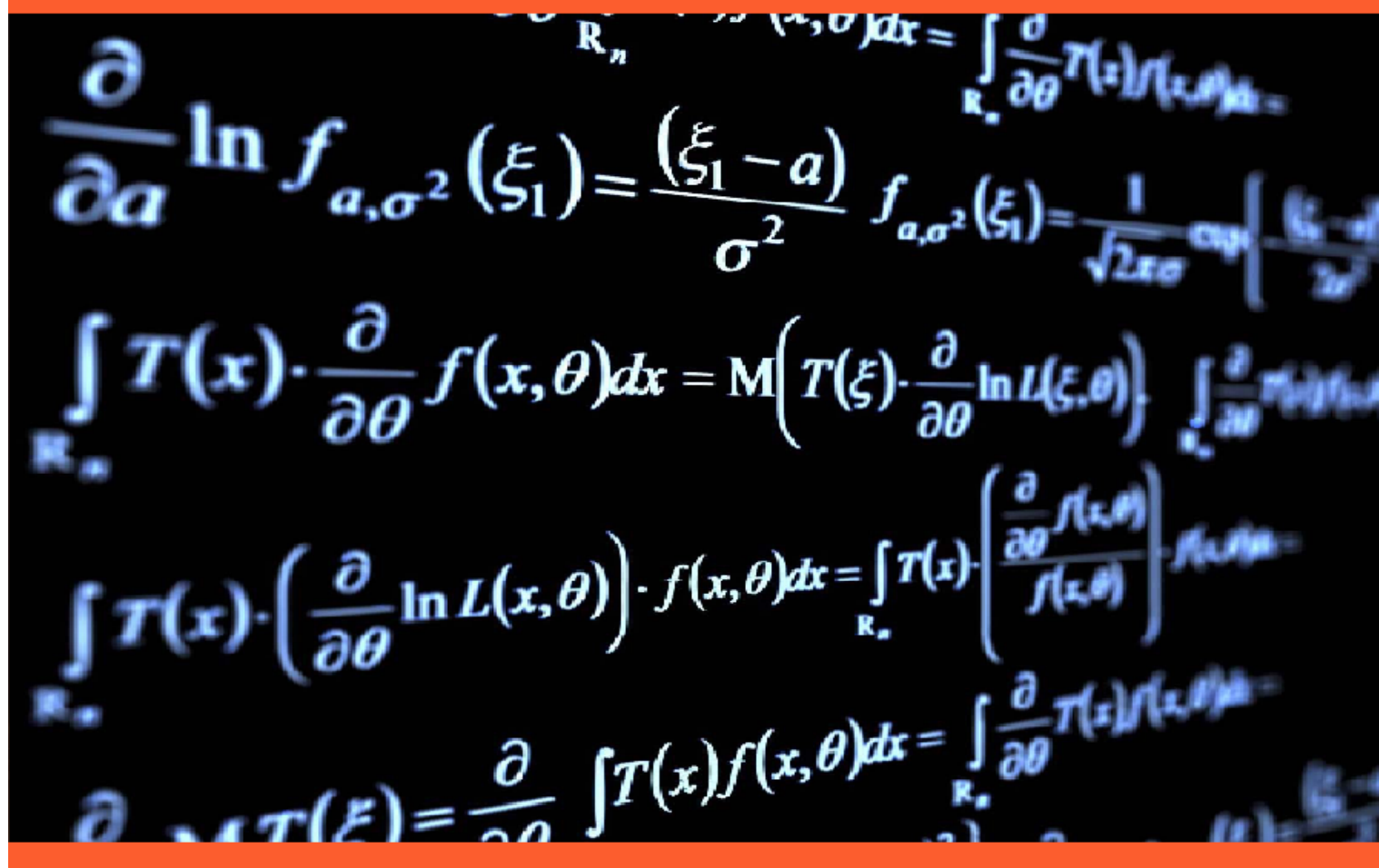




جزوه ریاضی عمومی ۱

دکتر محمد صادق معتقدی



دانلود رایگان جزوه در :

jozveh.danesh3.com

ریاضی عمومی (۱)

مجموعه دروس عمومی

دکتر محمدصادق معتقدی

مؤسسه آموزش عالی آزاد پارسه

پارسه

ویرایش چهارم: بهار ۸۶ | تیراژ: ۱۰۰۰۰ نسخه |

شابک: ۳-۳۷-۸۷۱۹-۹۶۴-۳ | ۳۷-۸۷۱۹-۹۶۴-۳ | ISBN: 964-8719-37-3

نشانی: بالاتر از میدان ولی عصر | کوچه دانش کیان | ساختمان پارسه | تلفن: ۸۸۸۴۹۲۱۱

مقدمه

جزوه حاضر با تکیه بر:

۱- مفاهیم اولیه و خلاصه درس

۲- تشریح مسایل

به منظور آماده‌سازی برای آزمون‌های ورودی کارشناسی ارشد تهیه و تنظیم شده است.

علاقه‌مندان برای حل تست‌های بیشتر می‌توانند به کتب ریاضی عمومی ۱ و ۲، معادلات دیفرانسیل و ریاضی مهندسی تألیف محمدصادق معتقدی، که توسط مؤسسه آموزش عالی پارسه به چاپ رسیده مراجعه نمایند.

دکتر محمدصادق معتقدی

بهار ۸۶

دانشجویان مکتربا

برای کسب آمادگی بیشتر می‌توانید به کتب اینجانب که توسط مؤسسه آموزش عالی آزاد پارسه به چاپ رسیده و در نمایندگی‌های مؤسسه قابل تهیه می‌باشند، مراجعه نمایید.

۱- تست‌های کنکور ریاضی عمومی (۱)

در این کتاب تمامی سؤالات کنکورهای آزاد و سراسری آزمون کارشناسی ارشد مربوط به کلیه رشته‌ها در طی سالیان مختلف با حل کاملاً تشریحی ارائه شده است. این کتاب به عنوان مرجع حل تمرین در دوره‌های حضوری مؤسسه پارسه مورد استفاده قرار می‌گیرد.

۲- درس و تست‌های تألیفی ریاضی عمومی (۱)

در این کتاب مباحث مطرح شده در جزوه موجود ما با جزئیات بسیار کامل‌تر مطرح شده و در طی هر بحث تعداد قابل ملاحظه‌ای از تست‌های تألیفی که مشابه تست‌های کنکور می‌باشد ارائه شده است.

این کتاب به عنوان مرجع درسی در اختیار دانشجویان دوره‌های حضوری مؤسسه پارسه قرار می‌گیرد.

محمدصادق معتقدی

بهمن‌ماه ۱۳۸۵

فصل اول اعداد مختلط

- ۱ اعداد مختلط ۱
۲ بیان منحنی در فرم پارامتری ۴
۳ فرم قطبی اعداد مختلط ۵
۴ دو نکته در رابطه با اعداد مختلط ۷
۱- محاسبه ریشه n ام یک عدد مختلط ۷
۲- محاسبه لگاریتم نپرین یک عدد مختلط ۷

فصل دوم جبرخطی

- ۱ ماتریس ها ۱۰
۱- ترانهاده ماتریس ۱۰
۲- جمع دو ماتریس ۱۰
۳- ضرب عدد در ماتریس ۱۰
۴- ضرب دو ماتریس ۱۱
۲ ماتریس مربع و ماتریس همانی ۱۲
۳ تریس ماتریس ۱۲
۴ دترمینان ماتریس ۱۳
۱- چند خاصیت دترمینان ۱۴
۲- دترمینان کهاد و همسازه ۱۵
۵ ماتریس همسازه ها و ماتریس الحاقی ۱۶
۶ معکوس یک ماتریس مربعی ۱۶
۷ ماتریس متعامد ۱۹
۸ مقادیر ویژه یک ماتریس مربعی ۱۹

فصل سوم هندسه تحلیلی

- ۱ مقدمه ای از مبحث بردارها ۲۵
۱- کسینوس های هادی یک بردار ۲۶
۲- انواع ضرب بردارها ۲۶

۲۷	۳- ضرب داخلی دوبردار.....
۲۷	۴- ضرب خارجی دوبردار.....
۲۸	۵- حاصل ضرب مختلط بردار.....
۲۸	(۲) وابستگی خطی و استقلال خطی در بردارها.....
۳۲	(۳) معادلات صفحه و خط در فضا.....
۳۲	۱- معادله صفحه در فضا.....
۳۳	۲- معادله خط در فضا.....
۳۴	۳- وضعیت دو خط نسبت به همدیگر.....
۳۷	(۴) دستگاه معادلات خطی.....
۳۷	۱- دستگاه معادلات همگن.....
۳۷	۲- دستور کرامر در حل دستگاه معادلات خطی.....

فصل چهارم حد و پیوستگی

۳۹	(۱) تعریف حد.....
۴۳	(۲) قاعده هوپیتال.....
۴۵	(۳) قاعده مشتق گیری از انتگرال (قضیه لایبنیتز).....
۴۵	(۴) مشتق گیری از تابع مرکب.....
۴۶	(۵) مشتق گیری از تابع به توان تابع.....
۴۹	(۶) هم‌ارزی‌ها.....
۴۹	۱- تعریف هم‌ارزی.....
۴۹	۲- هم‌ارزی‌های مثلثاتی.....
۴۹	۳- هم‌ارزی‌های جزء صحیح.....
۵۰	۴- هم‌ارزی نیوتن.....
۵۰	۵- هم‌ارزی‌های جبری.....
۵۲	۶- مرتبه بی‌نهایت‌ها.....
۵۵	(۷) صور مبهم نمایی و رفع ابهام آن.....

فصل پنجم مشتق

۵۸	(۱) تعاریف اولیه.....
۶۲	(۲) مشتق گیری از توابع به فرم $y = u(x)^{v(x)}$
۶۲	(۳) محاسبه مشتق مرتبه n ام.....
۶۳	(۴) کاربرد مشتق در تعیین وضعیت صعودی و نزولی تابع و یافتن اکسترمم نسبی.....
۶۳	(۵) کاربرد مشتق در تعیین وضعیت تحدب و تقعر.....
۶۶	(۶) قضیه آزمون مشتق دوم.....
۶۶	(۷) نسبت‌های وابسته.....
۶۸	(۸) اکسترمم کردن کمیت‌های دلخواه با استفاده از مشتق.....
۷۰	(۹) پیدا کردن کوتاه‌ترین و بلندترین فاصله نقاط یک منحنی تا مبدأ مختصات.....
۷۱	(۱۰) تقریب زدن توابع در نقاط خاص با استفاده از تعریف مشتق.....
۷۱	(۱۱) چند قضیه.....
۷۱	۱- قضیه بولتزانو.....
۷۲	۲- قضیه رول.....
۷۴	۳- قضیه لاگرانژ.....
۷۶	(۱۲) زاویه بین خط مماس بر یک منحنی قطبی.....
۷۶	(۱۳) قاعده مشتق گیری ضمنی.....
۷۷	(۱۴) قاعده مشتق گیری از توابع پارامتری.....
۷۷	(۱۵) قاعده مشتق گیری زنجیره‌ای.....
۷۸	(۱۶) توابع معکوس و بحث‌های مربوط.....

فصل ششم انتگرال گیری و بحث‌های وابسته

- ۱) تعریف انتگرال معین ۸۱
- ۲) تعریف انتگرال نامعین ۸۱
- ۳) تکنیک‌های انتگرال گیری ۸۳
- ۱- روش تغییر متغیر ۸۳
- ۲- روش جزء به جزء ۸۶
- ۳- روش تجزیه کسرها ۹۰
- ۴) انتگرال گیری به صورت معین از توابعی که در فاصله انتگرال گیری طبیعت منحصر به فرد ندارند ۹۲
- ۵) یافتن کران برای یک انتگرال ۹۴
- ۶) برخی از کاربردهای انتگرال معین ۹۶
- ۱- محاسبه مقدار متوسط تابع در یک فاصله ۹۶
- ۲- مجموع‌های ریمانی و محاسبه برخی از حد مجموع‌ها ۹۷
- ۷) محاسبه مساحت ناحیه در صفحه ۹۸
- ۸) محاسبه حجم یک جسم دوار ۹۸
- ۱- روش حلقه مستدیر ۹۹
- ۲- روش پوسته استوانه‌ای ۹۹
- ۹) انتگرال‌های غیرعادی (ناسره) ۱۰۰
- انتگرال‌های معینی که تابع زیر علامت انتگرال در تمام فاصله انتگرال گیری، پیوسته است ولی یک یا هر دو حد انتگرال گیری از جنس بی‌نهایت هستند ۱۰۰
- ۱۰) چند قضیه و چند تعریف ۱۰۱
- ۱- آزمون مقایسه ۱۰۱
- ۲- انتگرال‌های معینی که تابع زیرانتگرال در تمام فاصله انتگرال گیری به جزء در حد بالایی یا پایینی انتگرال معین نمی‌باشد. ۱۰۳
- ۳- انتگرال‌های معینی که تابع زیر علامت انتگرال در یک یا چند نقطه داخل فاصله انتگرال گیری نامعین است. ۱۰۵
- چند مسئله دیگر از قاعده مشتق‌گیری از انتگرال ۱۰۵

فصل هفتم دنباله و سری

- ۱) دنباله ۱۰۷
- ۲) سری‌های نامتناهی ۱۱۰
- ۱- سری‌های هندسی ۱۱۱
- ۲- قاعده ادغام ۱۱۱
- ۳- چند قضیه و آزمون در بحث تعیین همگرایی یا واگرایی سری‌های عددی ۱۱۳
- ۳) آزمون‌هایی برای تعیین وضعیت همگرایی و یا واگرایی سری‌های با جملات مثبت (یا منفی) ۱۱۴
- ۱- آزمون p ۱۱۴
- ۲- آزمون دالامبر ۱۱۴
- ۳- آزمون کوشی ۱۱۵
- ۴- آزمون انتگرال ۱۱۷
- ۴) سری‌های متناوب ۱۱۸
- ۵) سری‌های تابع و بحث فاصله همگرایی و شعاع همگرایی ۱۱۹
- ۶) بسط تیلور و بسط مک‌لورن ۱۲۱

فصل اول

اعداد مختلط

هر عدد مختلط به صورت $z = x + iy$ نوشته می‌شود که در آن x, y اعداد حقیقی بوده و $i = \sqrt{-1}$ به عدد موهومی محض، موسوم است.

$$i^2 = -1$$

$$\text{Re } z = x : \text{قسمت حقیقی } z$$

$$\text{Im } z = y : \text{قسمت موهومی } z$$

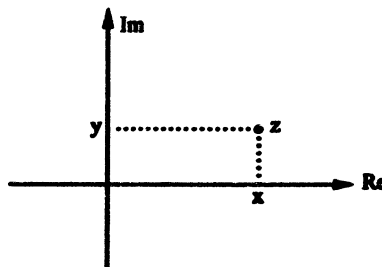
$$|z| = \sqrt{x^2 + y^2} : \text{مدول یا اندازه } z$$

$$\bar{z} = x - iy : \text{مزدوج } z$$

\bar{z} ، مزدوج z می‌باشد که در واقع قرینه نقطه z نسبت به محور x ها می‌باشد.

نکته: از نقطه نظر هندسی، هر عدد مختلط مانند $z = x + iy$ را می‌توان به منزله یک نقطه با مختصات (x, y) در صفحه دکارتی در نظر گرفت.

که طبیعی است در این دستگاه مختصات، محور x ها، محور حقیقی و محور y ها، محور موهومی می‌باشد.



نکته: حاصل ضرب هر عدد مختلط در مزدوج آن، حاصلی صرفاً حقیقی دارد زیرا اگر $z = a + ib$ فرض شود ملاحظه می شود که:

$$z \cdot \bar{z} = (a + ib)(a - ib) = a^2 - (ib)^2 = a^2 + b^2$$

بنابراین با توجه به حقیقت فوق، برای محاسبه حاصل تقسیم دو عدد مختلط کافی است صورت و مخرج کسر را در مزدوج مخرج ضرب

کنیم و مسئله را ادامه دهیم. ($z_2 = c + id$, $z_1 = a + ib$)

$$\frac{z_1}{z_2} = \frac{a + ib}{c + id} = \frac{a + ib}{c + id} \times \frac{c - id}{c - id} = \frac{ac + bd}{c^2 + d^2} + i \frac{bc - ad}{c^2 + d^2}$$

مثال: فرض کنید n یک عدد حقیقی باشد، مقدار n چند انتخاب شود تا عدد مختلط $z = (n+1) + in$ بر روی دایره واحد $|z|=1$ واقع شود؟

حل: از آنجا که تمام نقاط z باید روی دایره $|z|=1$ واقع شوند داریم:

$$|z|=1 \rightarrow |(n+1) + in|=1 \Rightarrow \sqrt{(n+1)^2 + n^2} = 1 \Rightarrow n^2 + 2n + 1 + n^2 = 1 \Rightarrow 2n^2 + 2n = 0 \Rightarrow n = 0, -1$$

مثال: روابط $\begin{cases} \operatorname{Re} z = 0 \\ \operatorname{Im} z \geq 0 \end{cases}$ بیانگر چه شکلی در صفحه مختلط می باشد؟

حل: از آنجائی که، $\operatorname{Re} z = 0$ بیانگر محور y ها و $\operatorname{Im} z \geq 0$ شرط $y \geq 0$ را بیان می کند. لذا روابط مذکور، تماماً نیم محور بالایی محور y ها را توصیف می کند.

مثال: روابط $|z-1| = \operatorname{Re} z$ ، $|z-1| = \operatorname{Im} z$ ، چه اشکالی را در صفحه مختلط معرفی می کنند؟

حل: با فرض $z = x + iy$ داریم:

$$|z-1| = \operatorname{Im} z \Rightarrow |x-1+iy| = y \Rightarrow \sqrt{(x-1)^2 + y^2} = y \Rightarrow (x-1)^2 + y^2 = y^2 \Rightarrow x = 1$$

از طرفی چون $|z-1| \geq 0$ است، لذا یک نیم خط به صورت $x=1, y \geq 0$ مورد نظر می باشد.

برای قسمت دوم داریم:

$$|z-1| = \operatorname{Re} z \rightarrow |x-1+iy| = x \Rightarrow \sqrt{(x-1)^2 + y^2} = x$$

$$x^2 + 1 - 2x + y^2 = x^2$$

پس داریم $x = \frac{1+y^2}{2}$ که بیانگر یک سهمی می باشد.

مثال: اگر z توصیف کننده یک متغیر مختلط باشد، ناحیه ای که با رابطه $\operatorname{Im}\left(\frac{1}{z}\right) > 1$ توصیف می شود را مشخص کنید؟

حل:

$$\frac{1}{z} = \frac{1}{x+iy} \rightarrow \frac{1}{z} = \frac{1}{x+iy} \cdot \frac{x-iy}{x-iy} = \frac{x-iy}{x^2+y^2} \Rightarrow \begin{cases} \operatorname{Re}\left(\frac{1}{z}\right) = \frac{x}{x^2+y^2} \\ \operatorname{Im}\left(\frac{1}{z}\right) = \frac{-y}{x^2+y^2} \end{cases}$$

$$\operatorname{Im}\left(\frac{1}{z}\right) > 1 \Rightarrow \frac{-y}{x^2+y^2} > 1 \Rightarrow x^2 + y^2 + y < 0 \Rightarrow x^2 + \left(y + \frac{1}{2}\right)^2 < \frac{1}{4}$$

مرز ناحیه مورد نظر $\frac{1}{4} = x^2 + \left(y + \frac{1}{2}\right)^2$ می باشد و همان طور که می دانیم دایره ای است به مرکز $\left(0, -\frac{1}{2}\right)$ و شعاع $R = \frac{1}{2}$:
 با مشخص شدن مرز، کافی است وضعیت یک نقطه را مشخص کنیم به عنوان مثال نقطه $(0, 1)$ در خارج دایره قرار دارد و شرط $\frac{-y}{x^2 + y^2} > 1$ را ارضا نمی کند. بنابراین، نقاط داخل دایره ای به مرکز $\left(0, -\frac{1}{2}\right)$ و شعاع $R = \frac{1}{2}$ ناحیه مورد نظر است.
مثال: مکان هندسی نقاطی از صفحه با رابطه $\operatorname{Re}\left(\frac{z-i}{z+i}\right) = 1$ را مشخص کنید.

حل:

$$\operatorname{Re}\left(\frac{z-i}{z+i}\right) = \operatorname{Re}\left(\frac{x+i(y-1)}{x+i(y+1)}\right) = \operatorname{Re}\left(\frac{x+i(y-1)}{x+i(y+1)} \cdot \frac{x-i(y+1)}{x-i(y+1)}\right) = \operatorname{Re}\left(\frac{x^2 + (y^2 - 1) + i(\dots)}{x^2 + (y+1)^2}\right)$$

بنابراین باید داشته باشیم:

$$\frac{x^2 + (y^2 - 1)}{x^2 + (y+1)^2} = 1 \Rightarrow x^2 + y^2 - 1 = x^2 + y^2 + 2y + 1 \Rightarrow y = -1$$

پس مکان هندسی این نقاط خط $y = -1$ است.

مثال: چنانچه z یک متغیر مختلط باشد ($z = x + iy$)، رابطه زیر توصیف کننده چه اشکال یا نواحی خواهد بود؟

$$z\bar{z} = \operatorname{Im}(z^2)$$

$$z\bar{z} = x^2 + y^2$$

$$z^2 = (x + iy)^2 = x^2 - y^2 + 2ixy \rightarrow \operatorname{Im}(z^2) = 2xy$$

$$\Rightarrow x^2 + y^2 = 2xy = x^2 - 2xy + y^2 = 0 \Rightarrow (x - y)^2 = 0 \Rightarrow x - y = 0$$

به صورت خط $x = y$ خواهد بود.

نکته: اگر $z = x + iy$ فرض شود و $z_0 = x_0 + iy_0$ یک عدد مختلط معین باشد، به سادگی می توان نشان داد مکان هندسی نقاطی از

صفحه که با رابطه $|z - z_0| = R$ مشخص می شود، دایره $(x - x_0)^2 + (y - y_0)^2 = R^2$ می باشد، یعنی دایره ای به مرکز z_0 و شعاع R .

بنابراین می توان رابطه $|z - z_0| = R$ را به منزله مکان هندسی نقاطی از صفحه دانست، که فاصله شان تا نقطه z_0 عدد ثابت R می باشد. و بنابراین به سادگی می توان نتیجه گرفت که اگر z_1, z_0 دو عدد مختلط معین باشند آنگاه:

(الف) مکان هندسی نقاطی که با رابطه $|z - z_0| + |z - z_1| = R$ توصیف می شود، یک بیضی به کانونهای z_0, z_1 است، با شرط:

$$|z_0 - z_1| < R$$

(ب) مکان هندسی نقاطی که با رابطه $|z - z_0| - |z - z_1| = R$ توصیف می شود یک هذلولی به کانونهای z_0, z_1 است، با شرط:

$$|z_0 - z_1| > R$$

(ج) مکان هندسی نقاطی که با رابطه $|z - z_0| = |z - z_1|$ توصیف می شود، عمود منصف پاره خطی است که z_0, z_1 را به هم متصل می کند.

نکته: خواص زیر در مجموعه اعداد مختلط برقرار است:

$\overline{(z_1 \pm z_2)} = \bar{z}_1 \pm \bar{z}_2$	$ z = \bar{z} $
$\overline{(z_1 z_2)} = \bar{z}_1 \bar{z}_2$	$ z_1 z_2 = z_1 z_2 $
$\overline{\left(\frac{z_1}{z_2}\right)} = \frac{\bar{z}_1}{\bar{z}_2}$	$\left \frac{z_1}{z_2}\right = \frac{ z_1 }{ z_2 }$

مثال: هرگاه $z = a + ib$ فرض شود حاصل $\left|\frac{iz}{z}\right|$ چه مقدار است؟

حل: با استفاده از خواص بالا داریم:

$$\left|\frac{iz}{z}\right| = \frac{|iz|}{|z|} = \frac{|i||z|}{|z|} = \frac{|i||a+ib|}{|a-ib|} = \frac{1 \times \sqrt{a^2+b^2}}{\sqrt{a^2+b^2}} = 1$$

مثال: اگر z_1, z_2 جوابهای معادله $z^2 + z + 1 = i$ باشد حاصل $|z_1 - z_2|$ چقدر است؟

حل: همان طور که ملاحظه می شود معادله فوق، یک معادله درجه دوم است بنابراین داریم:

$$|z_1 - z_2| = \frac{\sqrt{\Delta}}{|a|} = \left| \frac{\sqrt{(1)^2 - (4)(1)(1-i)}}{1} \right| = |\sqrt{4i-3}| = \sqrt{|4i-3|} = \sqrt{5}$$

بیان منحنی در فرم پارامتری

یک منحنی در صفحه مختلط می تواند توسط یک رابطه، پارامتری نظیر $z(t) = x(t) + iy(t)$ معرفی شود و برای مشخص کردن آن باید پارامتر t را بین x, y حذف کرد.

مثال: منحنی تعریف شده با رابطه $z(t) = \sin^2 t + i \cos^2 t$:

(ب) دایره ای با محیط π است.

(الف) دایره ای با محیط 2π است.

(د) پاره خطی به طول 1 است.

(ج) پاره خطی به طول $\sqrt{2}$ است.

حل:

$$z(t) = \sin^2 t + i \cos^2 t \Rightarrow \begin{cases} x = \sin^2 t \\ y = \cos^2 t \end{cases}$$

لذا داریم: $x + y = 1$ که بیانگر یک خط راست است و چون $x = \sin^2 t \geq 0$ ، $y = \cos^2 t \geq 0$ پس قسمتی از این خط (پاره خط) که در ربع اول قرار گرفته مدنظر است و به سادگی می توان ملاحظه نمود که طول این پاره خط $\sqrt{2}$ است.

مثال: منحنی $z(t) = \cosh t + i \sinh t$ بیانگر چه منحنی ای می باشد؟

(ج) یک هذلولی

(ج) قسمتی از یک هذلولی

(ب) یک بیضی

(الف) قسمتی از یک بیضی

حل:

$$z(t) = \cosh t + i \sinh t \Rightarrow \begin{cases} x = \cosh t \\ y = \sinh t \end{cases}$$

لذا طبق رابطه $\cosh^2 t - \sinh^2 t = 1$ داریم: $x^2 - y^2 = 1$ که بیانگر یک هذلولی است و از آنجا که $x = \cosh t \geq 1$ لذا یکی از شاخه‌های این هذلولی مدنظر است.

فرم قطبی اعداد مختلط:

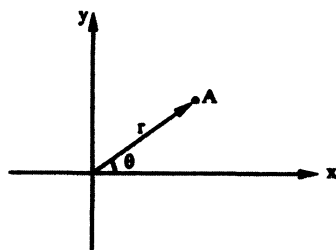
همانطوری که می‌دانیم، برای مشخص کردن یک نقطه در صفحه نیاز به دو مختصه داریم که در مختصات دکارتی این دو مختصه طول و عرض نقطه (x, y) می‌باشد، در دستگاه مختصات قطبی از دو مختصه r, θ مطابق شکل زیر استفاده می‌شود:

$OA = r$: طول شعاع حامل نقطه A

θ : زاویه شعاع حامل نقطه A با جهت مثبت محور x ها

$$\begin{cases} x = r \cos \theta \\ y = r \sin \theta \end{cases}$$

$$(I) \begin{cases} r = \sqrt{x^2 + y^2} \\ \theta = \tan^{-1} \frac{y}{x} \end{cases}$$



بنابراین، نقطه A در مختصات قطبی به صورت $A(r, \theta)$ نشان داده می‌شود.

در محاسبه θ از رابطه (I) باید به این نکته توجه داشته باشیم که تمام زوایایی که در π با هم اختلاف دارند تانژانت یکسانی دارند، لذا باید به موقعیت نقطه و این که در کدام ربع دستگاه مختصات قرار می‌گیرد توجه داشته باشیم. حال با استفاده از دستگاه مختصات قطبی می‌توان نوشت:

$$z = x + iy = r (\cos \theta + i \sin \theta) \xrightarrow{\cos \theta + i \sin \theta = e^{i\theta}} z = r \cdot e^{i\theta}$$

توجه: به خاطر داشته باشید کار کردن با اعداد مختلط وقتی آنها را به صورت قطبی نوشته ایم، در برخی موارد با سهولت بیشتری انجام می‌گیرد، به عنوان مثال اگر $z_1 = \rho e^{i\phi}$ ، $z_0 = r e^{i\theta}$ توصیف کننده دو عدد مختلط معین باشند داریم:

$$z_0 \cdot z_1 = (r e^{i\theta}) (\rho e^{i\phi}) = r \rho e^{i(\theta+\phi)} = r \rho (\cos(\theta+\phi) + i \sin(\theta+\phi))$$

$$\frac{z_0}{z_1} = \frac{r e^{i\theta}}{\rho e^{i\phi}} = \frac{r}{\rho} e^{i(\theta-\phi)} = \frac{r}{\rho} (\cos(\theta-\phi) + i \sin(\theta-\phi))$$

$$(\forall n \in \mathbb{N}) \quad z_0^n = (r e^{i\theta})^n = r^n e^{in\theta} = r^n (\cos n\theta + i \sin n\theta)$$

نکته: رابطه $(\cos \theta + i \sin \theta)^n = \cos n\theta + i \sin n\theta$ به رابطه دمووار معروف است.

مثال: مطلوب است محاسبه مقدار A :

$$A = \left(\frac{1 - \sqrt{3}i}{1 + \sqrt{3}i} \right)^{12}$$

حل: نخست اعداد مختلط صورت و مخرج را در فرم قطبی می‌نویسیم:

می‌دانیم نقطه در ربع چهارم واقع است.

$$1 - \sqrt{3}i = \begin{cases} r = \sqrt{1+3} = 2 \\ \theta = \tan^{-1} \frac{-\sqrt{3}}{1} = -\tan^{-1} \sqrt{3} = \begin{cases} -\frac{\pi}{3} & \text{ربع چهارم} \\ \pi - \frac{\pi}{3} & \text{ربع دوم} \end{cases} \end{cases} \Rightarrow 1 - \sqrt{3}i = 2 e^{-i\frac{\pi}{3}}$$

می‌دانیم نقطه در ربع اول واقع است.

$$1 + \sqrt{3}i = \begin{cases} r = \sqrt{1+3} = 2 \\ \theta = \tan^{-1} \frac{\sqrt{3}}{1} = \begin{cases} \frac{\pi}{3} & \text{ربع اول} \\ \pi + \frac{\pi}{3} & \text{ربع سوم} \end{cases} \end{cases} \Rightarrow 1 + \sqrt{3}i = 2 e^{i\frac{\pi}{3}}$$

$$A = \left(\frac{2e^{-i\frac{\pi}{3}}}{2e^{i\frac{\pi}{3}}} \right)^{12} = \left(e^{-i\frac{2\pi}{3}} \right)^{12} = e^{-8i\pi} = \cos(-8\pi) + i \sin(-8\pi) = 1$$

مثال: اگر z یک عدد مختلط باشد و $|z| = 5$ مطلوب است محاسبه عبارت $\left| ze^{\frac{\pi}{3}i} - z \right|$

حل:

$$\left| ze^{\frac{\pi}{3}i} - z \right| = \left| z \left(e^{\frac{\pi}{3}i} - 1 \right) \right| = |z| \left| e^{\frac{\pi}{3}i} - 1 \right| = |z| \left| \cos \frac{\pi}{3} + i \sin \frac{\pi}{3} - 1 \right| = |z| \left| \frac{-1}{2} + i \frac{\sqrt{3}}{2} \right| = 5 \times \sqrt{\left(\frac{-1}{2} \right)^2 + \left(\frac{\sqrt{3}}{2} \right)^2} = 5$$

مثال: فرض کنید داشته باشیم $z_n = \cos \frac{\pi}{2^n} + i \sin \frac{\pi}{2^n}$ مطلوب است محاسبه:

$$A = \prod_{m=1}^{\infty} z_m$$

حل: با نوشتن z_n به فرم قطبی داریم:

$$z_n = \cos \frac{\pi}{2^n} + i \sin \frac{\pi}{2^n} = e^{i\frac{\pi}{2^n}}$$

$$A = z_1 \cdot z_2 \cdot z_3 \cdot z_n \dots = e^{i\frac{\pi}{2^1}} \cdot e^{i\frac{\pi}{2^2}} \cdot e^{i\frac{\pi}{2^3}} \dots = e^{i\pi \left(\frac{1}{2} + \frac{1}{2^2} + \frac{1}{2^3} + \dots \right)}$$

ملاحظه می‌شود $\left(\frac{1}{2} + \frac{1}{2^2} + \frac{1}{2^3} + \dots \right)$ یک تصاعد هندسی است. با استفاده از رابطه $s_{\infty} = \frac{t_1}{1-q}$

که در آن t_1 : جمله اول، q قدرنسبت تصاعد (با فرض $|q| < 1$) و s_{∞} : مجموع بی‌نهایت جمله می‌باشد، داریم:

$$\frac{1}{2} + \frac{1}{2^2} + \frac{1}{2^3} + \dots \sim \frac{\frac{1}{2}}{1 - \frac{1}{2}} = 1$$

$$A = e^{i\pi} = \cos \pi + i \sin \pi = -1$$

نکته: با توجه به روابط می توان نشان داد:

$$\left. \begin{aligned} e^{i\theta} &= \cos\theta + i\sin\theta \\ \bar{e}^{i\theta} &= \cos\theta - i\sin\theta \end{aligned} \right\} \Rightarrow \begin{cases} \sin\theta = \frac{e^{i\theta} - e^{-i\theta}}{2i} \\ \cos\theta = \frac{e^{i\theta} + e^{-i\theta}}{2} \end{cases}$$

نیز داریم:

$$\begin{aligned} \cosh x &= \cos ix \\ i \sinh x &= \sin ix \end{aligned}$$

مثال: اگر $A = \sin(2+3i)$ باشد، قسمت موهومی A را به دست آورید.

حل:

$$\sin(2+3i) = \sin 2 \cdot \cos 3i + \cos 2 \cdot \sin 3i = \sin 2 \cdot \cosh 3 + i \cos 2 \cdot \sinh 3$$

$$\operatorname{Im}(A) = (\cos 2) \cdot (\sinh 3)$$

که ملاحظه می شود قسمت موهومی عدد A برابر است با:

مثال: مطلوب است قسمت حقیقی عدد $A = (\cos 30 + i \sin 30)^8$

حل: طبق رابطه دم‌آور داریم:

$$\begin{aligned} A &= (\cos 30 + i \sin 30)^8 = \cos(8 \times 30) + i \sin(8 \times 30) \\ &= \cos(240) + i \sin 240 = \frac{-1}{2} - i \frac{\sqrt{3}}{2} \end{aligned}$$

$$\operatorname{Re}(A) = \frac{-1}{2} \quad \text{پس داریم}$$

دو نکته در رابطه با اعداد مختلط

الف) محاسبه ریشه های n ام یک عدد مختلط:

هر عدد مختلط دارای n ریشه n ام می باشد و چنانچه داشته باشیم $z = r e^{i\theta}$ می توان نشان داد:

$$\sqrt[n]{z} = \sqrt[n]{r} \left(\cos \frac{\theta + 2k\pi}{n} + i \sin \frac{\theta + 2k\pi}{n} \right), \quad k = 0, 1, 2, \dots, n-1$$

یعنی برای مثال:

ریشه هفتم یک عدد مختلط، هفت ریشه (اعم از موهومی و حقیقی) دارد.

ب) محاسبه لگاریتم نپرین یک عدد مختلط $(\ln z)$:

در صورتی که $z = r e^{i\theta}$ یک عدد مختلط معین باشد، می توان نشان داد:

$$\operatorname{Ln} z = \operatorname{Ln} r + i(\theta + 2k\pi)$$

که در آن k یک عدد صحیح نسبی دلخواه است و لذا، لگاریتم نپرین یک عدد مختلط دارای بی شمار جواب است.

مثال: مطلوب است عبارت $\sqrt{-i}$.

حل: ابتدا نقطه $-i$ را به فرم قطبی می‌نویسیم:

$$(-i) = \begin{cases} r = 1 \\ \theta = \frac{-\pi}{2} \end{cases}$$

می‌دانیم که عبارت $\sqrt{-i}$ دارای دو ریشه می‌باشد:

$$\sqrt{-i} = \sqrt[2]{1} \left\{ \cos \frac{\frac{-\pi}{2} + 2k\pi}{2} + i \sin \frac{\frac{-\pi}{2} + 2k\pi}{2} \right\}, \quad k = 0, 1$$

$$k = 0 \Rightarrow w_1 = \frac{\sqrt{2}}{2} - i \frac{\sqrt{2}}{2}$$

$$k = 1 \Rightarrow w_2 = \frac{-\sqrt{2}}{2} + i \frac{\sqrt{2}}{2}$$

مثال: عدد مختلط زیر مفروض است:

$$z = \frac{1+i}{1+i+(1-i)^2}$$

مطلوب است محاسبه ریشه‌های دوم این عدد مختلط.

حل:

$$z = \frac{1+i}{1+i+1-1-2i} = \frac{1+i}{1-i} = \frac{1+i}{1-i} \times \frac{1+i}{1+i} = \frac{1+2i-1}{1+1} = i$$

$$(i) = \begin{cases} r = 1 \\ \theta = \frac{\pi}{2} \end{cases}$$

$$\sqrt[2]{z} = \sqrt[2]{i} = \sqrt[2]{1} \left(\cos \frac{\frac{\pi}{2} + 2k\pi}{2} + i \sin \frac{\frac{\pi}{2} + 2k\pi}{2} \right), \quad k = 0, 1$$

$$k = 0 \rightarrow \text{جواب اول: } \cos \frac{\pi}{4} + i \sin \frac{\pi}{4} = \frac{\sqrt{2}}{2} + i \frac{\sqrt{2}}{2}$$

$$k = 1 \rightarrow \text{جواب دوم: } \cos \frac{5\pi}{4} + i \sin \frac{5\pi}{4} = -\frac{\sqrt{2}}{2} - i \frac{\sqrt{2}}{2}$$

مثال: حاصل $\ln(-1)$ را به دست آورید.

حل: نقطه (-1) را به فرم قطبی می‌نویسیم:

$$(-1) = \begin{cases} r = 1 \\ \theta = \pi \end{cases}$$

لذا خواهیم داشت:

$$\ln(-1) = \ln(1) + i(\pi + 2k\pi) = i(\pi + 2k\pi)$$

لذا $\ln(-1)$ دارای بی‌نهایت مقدار موهومی می‌باشد.

مثال: حاصل عدد مختلط $z = i$ را به دست آورید.

حل: نقطه i را به فرم قطبی می نویسیم:

$$(i) = \begin{cases} r = 1 \\ \theta = \frac{\pi}{2} \end{cases}$$

$$\ln z = i \ln i = i \left\{ \ln(1) + i \left(\frac{\pi}{2} + 2k\pi \right) \right\} = - \left(\frac{\pi}{2} + 2k\pi \right)$$

$$z = e^{- \left(\frac{\pi}{2} + 2k\pi \right)}$$

مثال: مقدار $\overline{\exp z}$ (مزدوج e^z) کدام است؟

الف) $\exp z$ ب) $\exp \bar{z}$

ج) $(\exp z)^{-1}$ د) $\exp z^{-1}$

حل:

$$\overline{(e^z)} = \overline{(e^{x+iy})} = \overline{(e^x e^{iy})} = e^x e^{-iy} = e^{x-iy} = e^{\bar{z}} = \exp(\bar{z})$$

مثال: حاصل عبارت $\left(\frac{i - \tan \alpha}{i + \tan \alpha} \right)^n$ کدام است؟

الف) $\left(\frac{i + \tan n \alpha}{i - \tan n \alpha} \right)$ ب) $\left(\frac{1 - i \tan n \alpha}{i + \tan n \alpha} \right)$

ج) $\left(\frac{i + i \tan n \alpha}{1 + i \cot n \alpha} \right)$ د) $\left(\frac{1 + i \tan n \alpha}{1 - i \tan n \alpha} \right)$

حل:

$$\left(\frac{i - \tan \alpha}{i + \tan \alpha} \right)^n = \left(\frac{i - \frac{\sin \alpha}{\cos \alpha}}{i + \frac{\sin \alpha}{\cos \alpha}} \right)^n$$

$$\left(\frac{i \cos \alpha - \sin \alpha}{i \cos \alpha + \sin \alpha} \right)^n = \left(\frac{i(\cos \alpha + i \sin \alpha)}{i(\cos \alpha - i \sin \alpha)} \right)^n$$

$$= \frac{\cos n \alpha + i \sin n \alpha}{\cos n \alpha - i \sin n \alpha} = \frac{1 + i \tan n \alpha}{1 - i \tan n \alpha}$$

طبق رابطه دموآور داریم:

مثال: کدام یک از گزینه‌های زیر یکی از ریشه‌های معادله $z^5 + z^4 + z^3 + z^2 + z + 1 = 0$ می باشد؟

الف) i ب) $-i$ ج) $\frac{1}{2}(1 + i\sqrt{3})$ د) هیچکدام

حل: با ضرب طرفین معادله در $z-1$ به دست می آید:

$$(z-1)(z^5 + z^4 + z^3 + z^2 + z + 1) = 0 \Rightarrow z^6 - 1 = 0 \Rightarrow z^6 = 1$$

$$1 = \begin{cases} r = 1 \\ \theta = 0 \end{cases}$$

لذا ریشه‌های معادله مذکور $z = \sqrt[6]{1}$ (بجز $z = 1$) خواهد بود.

در نتیجه داریم:

$$z = \sqrt[6]{1} \left\{ \cos \frac{0+2k\pi}{6} + i \sin \frac{0+2k\pi}{6} \right\}, k = 0, 1, 2, 3, \dots, 5$$

به ازای $k = 1$ به دست می آید:

$$z = \cos \frac{\pi}{3} + i \sin \frac{\pi}{3} = \frac{1}{2} + i \frac{\sqrt{3}}{2}$$

لذا ملاحظه می شود که گزینه ج صحیح است.

فصل دوم

جبر خطی

ماتریس‌ها

منظور از یک ماتریس، تعدادی از اعداد هستند که در چند سطر و ستون مشخص قرار گرفته‌اند و وقتی می‌گوییم ماتریس $A_{m \times n}$ ، منظور ماتریسی است که دارای m سطر و n ستون می‌باشد و منظور از درایه یا عنصر a_{ij} عنصری (درایه‌ای) از این ماتریس است که در سطر i ام و ستون j ام واقع شده است.

ترانهاده ماتریس

منظور از ترانهاده ماتریس A که آن را با A' یا A^T نشان می‌دهند، ماتریسی است که برای مشخص کردن آن کافی است جای سطرها و ستون‌های ماتریس A را با هم عوض کنیم. لذا طبیعی است که اگر A یک ماتریس $m \times n$ باشد، A' (ترانهاده ماتریس A) یک ماتریس $n \times m$ می‌باشد و البته داریم:

$$A_{ij} = A'_{ji}$$

جمع دو ماتریس

اعمال جمع و تفریق روی دو ماتریس زمانی امکان‌پذیر است که دو ماتریس هم‌مرتبه باشند (تعداد سطرها و ستون‌های دو ماتریس برابر باشد). در این حالت تک‌تک درایه‌های نظیر دو ماتریس را با هم جمع و یا از هم کم می‌کنیم.

$$A_{m \times n} + B_{m \times n} = C_{m \times n}$$

ضرب عدد در ماتریس

اگر بخواهیم عدد حقیقی k را در ماتریس دلخواه A ضرب کنیم، لازم است این عدد را در تک‌تک درایه‌های ماتریس ضرب نماییم.

ضرب دو ماتریس

شرط لازم برای ضرب کردن دو ماتریس، آن است که شماره ستون ماتریس اول با شماره سطر ماتریس دوم برابر باشد:

$$A_{i \times m} \cdot B_{m \times j} = C_{i \times j}$$

و برای به دست آوردن درایه‌های ماتریس حاصل ضرب (C) از رابطه زیر استفاده می‌شود:

$$C_{ij} = \sum_{p=1}^m A_{ip} \cdot B_{pj}$$

نکته: اگر A, B, C سه ماتریس دلخواه باشند، در صورت انجام پذیر بودن اعمال گفته شده داریم:

$$\begin{array}{ll} (k \cdot A)' = k \cdot A' & (A \pm B)' = A' \pm B' \\ (A \cdot B)' = B' \cdot A' & (A')' = A \\ A \cdot B \neq B \cdot A & A \cdot (B \cdot C) = (A \cdot B) \cdot C \end{array}$$

مثال: فرض کنید داشته باشیم $A = \begin{bmatrix} 2 & -1 \\ 1 & 3 \end{bmatrix}$ ، مطلوب است به دست آوردن حاصل ضرب $A \cdot A'$.

$$A \cdot A' = \begin{bmatrix} 2 & -1 \\ 1 & 3 \end{bmatrix} \cdot \begin{bmatrix} 2 & 1 \\ -1 & 3 \end{bmatrix} = \begin{bmatrix} (2)(2) + (-1)(-1) & (2)(1) + (-1)(3) \\ (1)(2) + (3)(-1) & (1)(1) + (3)(3) \end{bmatrix} = \begin{bmatrix} 5 & -1 \\ -1 & 10 \end{bmatrix}$$

مثال: اگر A, B ماتریس‌های $n \times n$ متقارن باشند، در مورد ماتریس $A + B$ چه می‌توان گفت؟

حل: بدیهی است در مورد ماتریس متقارن داریم:

$$(A' = A), (B' = B)$$

$$(A + B)' = A' + B' = A + B$$

پس ماتریس $A + B$ نیز یک ماتریس متقارن است.

مثال: فرض کنید داشته باشیم $A = \begin{bmatrix} 2 & -1 & 3 \\ 3 & 1 & 2 \\ 2 & 3 & -1 \end{bmatrix}$ ، $B = \begin{bmatrix} 0 & 1 & -1 \\ 2 & 4 & 1 \\ 0 & 3 & 2 \end{bmatrix}$ و چنانچه تعریف کنیم $C = A \times B$ ، مطلوب است عضو واقع

بر سطر دوم و ستون سوم از ماتریس C.

حل: طبیعی است که ما به دنبال C_{23} می‌باشیم لذا کافی است سطر دوم از ماتریس A را در ستون سوم از ماتریس B ضرب نماییم، بدین ترتیب به دست می‌آید:

$$A \times B = C \rightarrow \begin{bmatrix} 3 & 1 & 2 \end{bmatrix} \begin{bmatrix} -1 \\ 1 \\ 2 \end{bmatrix} = 2$$

مثال: فرض کنید داشته باشیم $A = \begin{bmatrix} 2 & -1 \\ 1 & 0 \end{bmatrix}$ مطلوب است محاسبه A^{50} .

حل: وقتی می‌خواهیم A^{50} را به دست آوریم لازم است ابتدا با چند ضرب متوالی، یک روال منطقی بیابیم و به یک حالت کلی تعمیم دهیم:

$$A^2 = A \cdot A = \begin{bmatrix} 2 & -1 \\ 1 & 0 \end{bmatrix} \cdot \begin{bmatrix} 2 & -1 \\ 1 & 0 \end{bmatrix} = \begin{bmatrix} 3 & -2 \\ 2 & -1 \end{bmatrix}$$

$$A^3 = A^2 \cdot A = \begin{bmatrix} 3 & -2 \\ 2 & -1 \end{bmatrix} \cdot \begin{bmatrix} 2 & -1 \\ 1 & 0 \end{bmatrix} = \begin{bmatrix} 4 & -3 \\ 3 & -2 \end{bmatrix}$$

اگر دقت کنید ملاحظه می‌شود که اولین عنصر سطر اول یکی بیشتر از توان است، دومین عنصر سطر اول قرینه توان، در اولین عنصر سطر دوم مانند توان و دومین عنصر سطر دوم، یک واحد کمتر از توان با علامت منفی می‌باشد پس لذا می‌توان گفت که:

$$A^{50} = \begin{bmatrix} 51 & -50 \\ 50 & -49 \end{bmatrix}$$

مثال: اگر $A = \begin{bmatrix} 2 & 1 \\ -1 & 0 \end{bmatrix}$ باشد، مطلوب است محاسبه A^{100} :

حل: همانند مثال قبلی داریم:

$$A^2 = \begin{bmatrix} 2 & 1 \\ -1 & 0 \end{bmatrix} \begin{bmatrix} 2 & 1 \\ -1 & 0 \end{bmatrix} = \begin{bmatrix} 3 & 2 \\ -2 & -1 \end{bmatrix}$$

$$A^3 = \begin{bmatrix} 3 & 2 \\ -2 & -1 \end{bmatrix} \begin{bmatrix} 2 & 1 \\ -1 & 0 \end{bmatrix} = \begin{bmatrix} 4 & 3 \\ -3 & -2 \end{bmatrix}$$

با استدلالی مشابه مثال قبل داریم:

$$A^{100} = \begin{bmatrix} 101 & 100 \\ -100 & -99 \end{bmatrix}$$

ماتریس مربعی و ماتریس همانی:

ماتریس مربعی: یک ماتریس را مربعی گویند، هرگاه تعداد سطرها و ستونهای ماتریس با هم برابر باشند.

ماتریس همانی: یا ماتریس یکه، ماتریسی مربعی است که بجز اعضاء روی قطر اصلی ماتریس که برابر یک هستند سایر اعضاء صفر می‌باشند و با I نمایش می‌دهند.

$$I_{2 \times 2} = \begin{bmatrix} 1 & 0 \\ 0 & 1 \end{bmatrix}$$

و البته در مورد این ماتریس‌ها داریم:

$$A \cdot I = I \cdot A = A$$

در مورد ماتریسهای مربعی مباحث زیر مطرح می‌شود:

تریس ماتریس

مجموع عناصر روی قطر اصلی یک ماتریس مربعی را تریس ماتریس گویند و با علامت $\text{Tr} A$ (تریس ماتریس A) نمایش می‌دهند. برای

مثال اگر ماتریس $A = \begin{bmatrix} a & b \\ c & d \end{bmatrix}$ تعریف شده باشد داریم:

$$\text{Tr} A = a + d$$

دترمینان ماتریس

فرض کنید A یک ماتریس مربعی دلخواه باشد. همواره می‌توان عددی را به عنوان دترمینان ماتریس به صورت زیر تعریف کرد که آن را با نماد $|A|$ یا $\det A$ نشان می‌دهند.

برای ماتریسهای 2×2 مثل $A = \begin{bmatrix} a & b \\ c & d \end{bmatrix}$ داریم:

$$\det A = |A| = ad - bc$$

برای ماتریسهای مربعی مرتبه‌های بالاتر، می‌توان حاصل دترمینان را از طریق بسط دترمینان نسبت به یک سطر یا ستون دلخواه محاسبه نمود.

برای مثال برای ماتریس مربعی 3×3 مقابل داریم:

$$A = \begin{bmatrix} a & b & c \\ d & e & f \\ g & h & i \end{bmatrix}_{3 \times 3}$$

$$\det A = |A| = (-1)^{1+1} \cdot a \cdot \begin{vmatrix} e & f \\ h & i \end{vmatrix} + (-1)^{1+2} \cdot b \cdot \begin{vmatrix} d & f \\ g & i \end{vmatrix} + (-1)^{1+3} \cdot c \cdot \begin{vmatrix} d & e \\ g & h \end{vmatrix}$$

$$\det A = |A| = (-1)^{1+2} \cdot b \cdot \begin{vmatrix} d & f \\ g & i \end{vmatrix} + (-1)^{2+2} \cdot e \cdot \begin{vmatrix} a & c \\ g & i \end{vmatrix} + (-1)^{3+2} \cdot h \cdot \begin{vmatrix} a & c \\ d & f \end{vmatrix}$$

تذکر: توجه کنید علامتی که در بسط دترمینان ماتریس برای هر عضو لحاظ می‌گردد از طریق $(-1)^{i+j}$ به دست می‌آید که در آن i مبین سطر و j مبین ستون مربوط به آن عنصر می‌باشد.

تذکر: معمولاً علاقه‌مند هستیم که بسط دترمینان را نسبت به سطر یا ستونی انجام دهیم که در آن عناصر صفر بیشتری وجود دارد.

مثال: فرض کنید داشته باشیم $A = \begin{bmatrix} 2 & 3x \\ -1 & 4 \end{bmatrix}$ ، x را طوری تعیین کنید که داشته باشیم: $\det A = \text{Tr} A$.

حل: بدیهی است:

$$\left. \begin{array}{l} \det A = 8 + 3x \\ \text{Tr} A = 6 \end{array} \right\} \rightarrow 8 + 3x = 6 \rightarrow x = \frac{-2}{3}$$

مثال: فرض کنید داشته باشیم $A = \begin{bmatrix} 2 & -1 & 3 & 1 \\ 3 & 0 & 2 & 4 \\ 0 & 3 & 0 & 0 \\ 1 & 2 & 1 & 3 \end{bmatrix}$ مطلوب است محاسبه دترمینان A .

حل: ملاحظه می‌شود که بیشترین عنصر صفر (0) در سطر سوم ماتریس دیده می‌شود لذا بسط دترمینان را نسبت به سطر سوم انجام می‌دهیم.

$$\det(A) = -3 \begin{vmatrix} 2 & 3 & 1 \\ 3 & 2 & 4 \\ 1 & 1 & 3 \end{vmatrix} = -3[2(6-4) - 3(9-4) + 1(3-2)] = 30$$

مثال: مطلوب است محاسبه x از حل دترمینان زیر:

$$\begin{vmatrix} 2x & -1 & 3 \\ x & 2 & 1 \\ 1 & 3 & 1 \end{vmatrix} = 11$$

حل: با بسط دترمینان مذکور حول سطر اول داریم:

$$2x \begin{vmatrix} 2 & 1 \\ 3 & 1 \end{vmatrix} + \begin{vmatrix} x & 1 \\ 1 & 1 \end{vmatrix} + 3 \begin{vmatrix} x & 2 \\ 1 & 3 \end{vmatrix} = 11$$

$$-2x + x - 1 + 9x - 6 = 11$$

$$8x = 18 \Rightarrow x = \frac{18}{8}$$

مثال: مقدار دترمینان $\begin{vmatrix} 2\cos\theta & 1 & 0 \\ 1 & 2\cos\theta & 1 \\ 0 & 1 & 2\cos\theta \end{vmatrix}$ چه مقدار می‌باشد؟

حل: با بسط دترمینان حول سطر اول داریم:

$$\begin{aligned} 2\cos\theta (4\cos^2\theta - 1) - 1(2\cos\theta - 0) &= 4\cos\theta (2\cos^2\theta - 1) = 4\cos\theta \cos 2\theta = \frac{4\cos\theta \sin\theta \cos 2\theta}{\sin\theta} \\ &= \frac{2\sin 2\theta \cos 2\theta}{\sin\theta} = \frac{\sin 4\theta}{\sin\theta} \end{aligned}$$

چند خاصیت دترمینان

تذکر: چنانچه تمام درایه‌های یک سطر و یا یک ستون ماتریسی برابر صفر باشد، دترمینان آن ماتریس برابر صفر می‌باشد.

تذکر: دترمینان یک ماتریس بالا مثلثی یا پایین مثلثی، برابر است با حاصل ضرب عناصر قطر اصلی. (توجه: یک ماتریس مربعی را زمانی از نوع مثلثی می‌گویند که تمام درایه‌های بالای قطر اصلی و یا تمام درایه‌های پایین قطر اصلی صفر باشد).

مثال: مطلوب است محاسبه دترمینان ماتریس مقابل:

$$A = \begin{bmatrix} 1 & 2 & 3 & 0 \\ 0 & 2 & 5 & 3 \\ 0 & 0 & 1 & 0 \\ 0 & 0 & 0 & 3 \end{bmatrix}$$

حل: از آنجاکه ماتریس مذکور از نوع بالا مثلثی می‌باشد، دترمینان ماتریس A به صورت زیر خواهد بود:

$$\det(A) = |A| = 1 \times 2 \times 1 \times 3 = 6$$

چند تذکر:

- ۱- چنانچه دو سطر یک ماتریس با هم یکسان و یا دو ستون ماتریس با هم یکسان باشد، دترمینان ماتریس صفر می‌باشد.
- ۲- چنانچه یک سطر ماتریسی k برابر سطر دیگر و یا یک ستون ماتریسی k برابر ستون دیگر باشد، دترمینان ماتریس برابر صفر است.
- ۳- چنانچه k برابر یک سطر ماتریسی با L برابر سطر دیگر این ماتریس جمع شده باشد و حاصل در سطر دیگری از ماتریس نوشته شده باشد، دترمینان ماتریس برابر صفر است (این موضوع برای ستون‌ها نیز صدق می‌کند).
- ۴- اگر یک سطر و یا یک ستون ماتریسی را در عدد k ضرب کنیم، دترمینان حاصله k برابر دترمینان ماتریس اولیه خواهد بود.

۵- فرض کنید A, B دو ماتریس مربعی $n \times n$ یک عدد حقیقی و p یک عدد طبیعی باشد می توان نشان داد:

$$\begin{aligned} |A'| &= |A| \\ |A \cdot B| &= |A| \cdot |B| \\ |A^p| &= |A|^p \\ |k \cdot A| &= k^n |A| \end{aligned}$$

مثال: مطلوب است محاسبه دترمینان ماتریسهای زیر:

$$\text{I) } A = \begin{bmatrix} 3 & -1 & 2 & 4 \\ 1 & 2 & 3 & 1 \\ 4 & 1 & 5 & 5 \\ 3 & 1 & 0 & 2 \end{bmatrix}$$

حل: با کمی دقت ملاحظه می شود مجموع سطر اول و دوم ماتریس در سطر سوم آن نوشته شده است بنابراین $|A| = 0$ است.

$$\text{II) } B = \begin{bmatrix} 2 & -1 & 3 & 4 \\ 1 & 3 & 1 & 1 \\ 2 & 0 & 1 & 2 \\ -4 & 2 & -6 & -8 \end{bmatrix}$$

حل: به وضوح می بینیم از ضرب سطر اول ماتریس در عدد 2- دقیقاً سطر چهارم حاصل می شود بنابراین $|B| = 0$ است.

مثال: فرض کنید $A = \begin{bmatrix} 2 & 4 \\ 3 & 5 \end{bmatrix}$, $B = \begin{bmatrix} 3 & 5 \\ 2 & 3 \end{bmatrix}$ چنانچه $C = A^3 \cdot 4B \cdot B^5$, مطلوب است محاسبه دترمینان C .

حل:

$$|A| = 2 \times 5 - 3 \times 4 = -2 = |A'|$$

$$|B| = 3 \times 3 - 2 \times 5 = -1 = |B'|$$

$$|C| = |A^3 \cdot 4B \cdot B^5| = |A|^3 \cdot |4B| \cdot |B|^5 = |A|^3 \cdot 4^2 |B| \cdot |B|^5 = -2^3 \times 4^2 \times (-1)(-1)^5 = -2^3 \times 4^2 = -128$$

دترمینان کهاد و همسازه:

فرض کنید A یک ماتریس مربعی باشد، در این صورت برای هر کدام از عناصر این ماتریس می توان یک دترمینان کهاد و یک همسازه تعریف کرد.

دترمینان کهاد عنصر a_{ij} : دترمینان حاصل از حذف سطر i ام و ستون j ام از ماتریس A را دترمینان کهاد عنصر a_{ij} گویند که با علامت Δ_{ij} مشخص می شود.

همسازه عنصر a_{ij} از رابطه زیر به دست می آید:

$$a_{ij} \text{ همسازه عنصر } = N_{ij} = (-1)^{i+j} \cdot \Delta_{ij}$$

ماتریس همسازها و ماتریس الحاقی (وابسته)

اگر A یک ماتریس مربعی باشد و ما تمام همسازهای آن را یافته باشیم، چنانچه این همسازها را به ترتیب درون ماتریسی بچینیم به ماتریس حاصله، ماتریس همسازهای A گویند و آن را با N نمایش می‌دهند و به ترانهاده آن یعنی N' ماتریس الحاقی ماتریس A می‌گویند و گاهی با علامت $\text{adj}(A)$ و یا A^* نیز نمایش می‌دهند.

با توجه به موارد فوق بدیهی است که داریم:

$$N'_{ij} = N_{ji}$$

اگر ماتریس A به صورت $A = \begin{bmatrix} a & b & c \\ d & e & f \\ g & h & i \end{bmatrix}$ باشد نخست همسازهای ماتریس را به دست می‌آوریم. برای مثال داریم:

$$N_{11} = (-1)^{1+1} \begin{vmatrix} e & f \\ h & i \end{vmatrix} \quad N_{12} = (-1)^{1+2} \begin{vmatrix} d & f \\ g & i \end{vmatrix}$$

$$N_{32} = (-1)^{3+2} \begin{vmatrix} a & c \\ d & f \end{vmatrix} \quad N_{21} = (-1)^{2+1} \begin{vmatrix} b & c \\ h & i \end{vmatrix}$$

و به همین ترتیب، سایر همسازهای ماتریس را به دست می‌آوریم. حال ماتریس N (ماتریس همسازها) را به صورت زیر مشخص می‌کنیم:

$$N = \begin{bmatrix} N_{11} & N_{12} & N_{13} \\ N_{21} & N_{22} & N_{23} \\ N_{31} & N_{32} & N_{33} \end{bmatrix}$$

با ترانهاده نمودن ماتریس N و ماتریس الحاقی یا N' به دست می‌آید:

$$N' = \begin{bmatrix} N_{11} & N_{21} & N_{31} \\ N_{12} & N_{22} & N_{32} \\ N_{13} & N_{23} & N_{33} \end{bmatrix}$$

مثال: فرض کنید $A = \begin{bmatrix} 2 & 0 & 4 \\ 1 & 2 & 3 \\ 1 & 1 & -1 \end{bmatrix}$ درایه واقع بر سطر دوم ستون سوم از ماتریس الحاقی این ماتریس را به دست آورید.

حل: بدیهی است درایه واقع بر سطر دوم، ستون سوم از ماتریس الحاقی همان درایه سطر سوم و ستون دوم ماتریس همساز می‌باشد پس داریم:

$$N'_{23} = N_{32}$$

$$N_{32} = (-1)^{3+2} \cdot \Delta_{32} = (-1) \cdot \begin{vmatrix} 2 & 4 \\ 1 & 3 \end{vmatrix} = (-1)(6-4) = -2$$

معکوس یک ماتریس مربعی

اگر A یک ماتریس مربعی غیر منفرد باشد (یعنی $|A| \neq 0$)، آنگاه معکوس پذیر است. یعنی می‌توان ماتریسی مانند A^{-1} پیدا کرد به طوری که $A \cdot A^{-1} = A^{-1} \cdot A = I$ که در این رابطه A^{-1} را معکوس ماتریس A گویند و برای پیدا کردن آن می‌توان نوشت:

$$A^{-1} = \frac{N'}{|A|}$$

نکته: اگر $A = \begin{bmatrix} a & b \\ c & d \end{bmatrix}$ و $ad - bc \neq 0$ ($|A| \neq 0$) باشد آنگاه معکوس ماتریس A را می توان از رابطه زیر محاسبه کرد:

$$A^{-1} = \frac{\begin{bmatrix} d & -b \\ -c & a \end{bmatrix}}{ad - bc}$$

نکته: اگر A, B دو ماتریس مربعی $n \times n$ و p یک عدد طبیعی و k یک عدد حقیقی باشد داریم:

$$\begin{aligned} (A^{-1})' &= (A')^{-1} & (kA)^{-1} &= k^{-1} A^{-1} \\ (A^{-1})^p &= (A^p)^{-1} & (A \cdot B)^{-1} &= B^{-1} \cdot A^{-1} \\ |A^{-1}| &= \frac{1}{|A|} \end{aligned}$$

مثال: فرض کنید داشته باشیم $A = \begin{bmatrix} 2 & 1 & 0 \\ 3 & 2 & 1 \\ 5 & 1 & -1 \end{bmatrix}$ مطلوب است درایه واقع بر سطر اول ستون دوم از ماتریس معکوس A .

حل: می دانیم $A^{-1} = \frac{N'}{|A|}$ با توجه به استدلال های قبلی می دانیم:

$$A_{12}^{-1} = \frac{N'_{12}}{|A|} = \frac{N_{21}}{|A|}$$

بسط دترمینان حول سطر اول:

$$|A| = 2(-2-1) - 1(-3-5) = 2$$

حال می نویسیم:

$$N_{21} = (-1)^{2+1} \Delta_{21} = (-1) \cdot \begin{vmatrix} 1 & 0 \\ 1 & -1 \end{vmatrix} = 1$$

$$A_{12}^{-1} = \frac{1}{2}$$

مثال: فرض کنید داشته باشیم $A = \begin{bmatrix} 2 & 3 & 1 \\ 0 & 4 & 2 \\ 0 & 0 & -1 \end{bmatrix}$ مطلوب است مجموع عناصر روی قطر اصلی معکوس این ماتریس.

حل: به واسطه مثلی بودن ماتریس داریم:

$$|A| = 2 \times 4 \times (-1) = -8$$

$$A_{11}^{-1} + A_{22}^{-1} + A_{33}^{-1} = \frac{N'_{11}}{|A|} + \frac{N'_{22}}{|A|} + \frac{N'_{33}}{|A|} = \frac{N_{11} + N_{22} + N_{33}}{|A|} = \frac{(-1)^{1+1} \Delta_{11} + (-1)^{2+2} \Delta_{22} + (-1)^{3+3} \Delta_{33}}{|A|} = \frac{-1}{4}$$

مثال: فرض کنید داشته باشیم $|A^3| = 27$ و چنانچه A یک ماتریس مربعی 5×5 باشد مطلوب است محاسبه دترمینان $\frac{1}{2} A^{-1}$.

حل:

$$|A^3| = |A|^3 = 27 \Rightarrow |A| = 3$$

$$|A^{-1}| = \frac{1}{|A|} = \frac{1}{3}$$

از طرفی بدیهی است چون A یک ماتریس 5×5 است، A^{-1} نیز یک ماتریس 5×5 است پس می‌توان نوشت:

$$\left| \frac{1}{2} A^{-1} \right| = \left(\frac{1}{2} \right)^5 |A^{-1}| = \frac{1}{3} \times \frac{1}{2^5}$$

مثال: اگر A یک ماتریس مربعی 5×5 باشد و بدانیم دترمینان آن برابر 6 می‌باشد، مطلوب است محاسبه دترمینان ماتریس الحاقی آن:

حل: می‌دانیم:

$$A^{-1} = \frac{N'}{|A|} \Rightarrow |A| A^{-1} = N'$$

از طرفی داریم:

$$|A^{-1}| = \frac{1}{|A|} = \frac{1}{6}$$

از آنجا که می‌دانیم هرگاه یک سطر ماتریس را در عدد k ضرب کنیم، دترمینان حاصله k برابر دترمینان ماتریس اصلی می‌شود و با توجه به اینکه ماتریس $|A| A^{-1}$ ، همان ماتریس A^{-1} است که تمام درایه‌های آن در $|A|$ ضرب شده است می‌توان نوشت:

$$||A| A^{-1}| = |N'| = 6^5 \times \frac{1}{6} = 6^4$$

مثال: اگر A یک ماتریس حقیقی $n \times n$ و k یک عدد حقیقی باشد، آنگاه $\text{adj}(kA)$ برابر کدام یک از گزینه‌های زیر است: ($\text{adj} A$)
ماتریس الحاقی A می‌باشد).

(د) $\text{adj} A$

(ج) $k \text{ adj} A$

(ب) $k^n \text{ adj} A$

(الف) $k^{n-1} \text{ adj} A$

حل: با فرض وارون پذیر بودن A می‌توان نوشت:

$$A^{-1} = \frac{\text{adj} A}{|A|} \Rightarrow \text{adj} A = |A| A^{-1}$$

$$\text{adj}(kA) = |kA| (kA)^{-1}$$

لذا خواهیم داشت:

$$|kA| = k^n |A|$$

چون ماتریس A یک ماتریس $n \times n$ است لذا خواهیم داشت:

از طرفی چون $k \in \mathbb{R}$ است با مراجعه به خواص ماتریس می‌دانیم که $(kA)^{-1} = k^{-1} A^{-1}$ در نتیجه داریم:

$$\text{adj}(kA) = k^n |A| k^{-1} A^{-1} = k^{n-1} |A| A^{-1} = k^{n-1} \text{adj}(A)$$

ماتریس متعامد

ماتریس مربعی A را متعامد گویند هرگاه $A' = A^{-1}$ باشد و البته در این حالت خواهیم داشت:

$$|A| = \pm 1$$

مثال: اگر A, B دو ماتریس $n \times n$ متعامد باشند و داشته باشیم: $|A| + |B| = 0$ مطلوب است محاسبه: $|A + B|$.

حل: با توجه به اینکه ماتریسهای A, B متعامد هستند داریم:

$$A^{-1} = A', \quad B^{-1} = B'$$

لذا می توان نوشت:

$$A + B = A(I + A^{-1}B) = A(I + A'B) = A(B^{-1} + A')B = A(B' + A')B = A(A + B)'B$$

$$|A + B| = |A(A + B)'B| = |A| |(A + B)'| |B|$$

با توجه به فرض مساله داریم $|A| = -|B|$ پس می توان نوشت:

$$|A + B| = -(|A|)^2 |A + B|$$

$$|A + B| = 0$$

در نتیجه داریم:

مقادیر ویژه یک ماتریس مربعی

تعریف: در ماتریس مربعی $An \times n$ اگر بتوان مقادیر λ را به گونه ای تعیین نمود که داشته باشیم: $AX = \lambda X$ که در آن X یک

ماتریس $n \times 1$ است، آنگاه λ های به دست آمده را مقادیر ویژه ماتریس A ، X را بردار ویژه متناظر با این مقادیر ویژه می گوئیم:

برای محاسبه مقادیر ویژه کافی است که معادله مشخصه ماتریس A را که به فرم زیر نوشته می شود را حل نماییم:

$$\det(A - \lambda I) = 0$$

برای مثال برای ماتریس $A = \begin{bmatrix} a & b & c \\ d & e & f \\ g & h & i \end{bmatrix}$ معادله مشخصه به صورت زیر که از حل آن مقادیر ویژه ماتریس A به دست می آید:

$$A - \lambda I = \begin{bmatrix} a & b & c \\ d & e & f \\ g & h & i \end{bmatrix} - \begin{bmatrix} \lambda & 0 & 0 \\ 0 & \lambda & 0 \\ 0 & 0 & \lambda \end{bmatrix} = \begin{bmatrix} a-\lambda & b & c \\ d & e-\lambda & f \\ g & h & i-\lambda \end{bmatrix}$$

$$\det(A - \lambda I) = \begin{vmatrix} a-\lambda & b & c \\ d & e-\lambda & f \\ g & h & i-\lambda \end{vmatrix} = 0$$

از حل معادله فوق سه مقدار ویژه برای ماتریس A حاصل می شود و با حل معادله $(A - \lambda I)X = 0$ بردار X (بردار ویژه متناظر با مقادیر ویژه λ) به دست می آید.

مقادیر ویژه و نیز بردارهای ویژه دارای کاربردهای زیادی در علوم مختلف هستند که صحبت در مورد آنها از حوصله این مبحث خارج است.

مثال: مقادیر ویژه ماتریس زیر را بیابید.

$$A = \begin{bmatrix} 3 & 4 \\ 4 & -2 \end{bmatrix}$$

حل: معادله مشخصه ماتریس چنین است:

$$\begin{vmatrix} 3-\lambda & 4 \\ 4 & -2-\lambda \end{vmatrix} = 0 \Rightarrow (3-\lambda)(-2-\lambda)-16=0 \Rightarrow \lambda^2-\lambda-22=0 \Rightarrow \lambda = \frac{1 \pm \sqrt{1+4(22)}}{2} = \frac{1 \pm \sqrt{89}}{2}$$

λ_1, λ_2 مقادیر ویژه ماتریس هستند:

$$\lambda_1 = \frac{1+\sqrt{89}}{2}$$

$$\lambda_2 = \frac{1-\sqrt{89}}{2}$$

مثال: مقادیر ویژه ماتریس زیر چقدر است؟

$$B = \begin{bmatrix} 13 & -3 & 5 \\ 0 & 4 & 0 \\ -15 & 9 & -7 \end{bmatrix}$$

حل: معادله مشخصه ماتریس چنین است:

$$\begin{vmatrix} 13-\lambda & -3 & 5 \\ 0 & 4-\lambda & 0 \\ -15 & 9 & -7-\lambda \end{vmatrix} = 0$$

با بسط این دترمینان حول سطر دوم داریم:

$$(4-\lambda)\{(13-\lambda)(-7-\lambda)+(5)(15)\}=0 \Rightarrow (4-\lambda)\{-91-13\lambda+7\lambda+\lambda^2+75\}=0 \Rightarrow (4-\lambda)(\lambda^2-6\lambda-16)=0$$

$$\Rightarrow \begin{cases} 4-\lambda=0 \Rightarrow \lambda=4 \\ \lambda^2-6\lambda-16=0 \Rightarrow \lambda=8, -2 \end{cases}$$

مثال: مقدار a چقدر باشد تا یکی از مقادیر ویژه ماتریس $A = \begin{bmatrix} a & 0 & 1 \\ 2 & 1 & 0 \\ 1 & 2 & 2 \end{bmatrix}$ برابر $\lambda=3$ باشد. بردار ویژه نظیر این مقدار ویژه را تعیین کنید.

حل: با توجه به رابطه $\det(A-\lambda I)=0$ داریم: (در اینجا $\lambda=3$ می‌باشد)

$$\begin{vmatrix} a-3 & 0 & 1 \\ 2 & 1-3 & 0 \\ 1 & 2 & 2-3 \end{vmatrix} = 0 \Rightarrow (a-3)\{(2-0)\}-(0)+(1)\{(4+2)\}=0 \Rightarrow a=0$$

برای یافتن بردار ویژه نظیر $\lambda=3$ داریم:

$$(A-3I).X=0$$

$$\begin{bmatrix} -3 & 0 & 1 \\ 2 & -2 & 0 \\ 1 & 2 & -1 \end{bmatrix} \begin{bmatrix} x \\ y \\ z \end{bmatrix} = \begin{bmatrix} 0 \\ 0 \\ 0 \end{bmatrix}$$

از حل معادله ماتریسی فوق داریم:

$$\begin{cases} -3x + z = 0 \rightarrow z = 3x \\ 2x - 2y = 0 \rightarrow y = x \\ x + 2y - z = 0 \rightarrow x + 2x - 3x = 0 \end{cases}$$

ملاحظه می شود که سه معادله وابستگی خطی دارند. در نتیجه داریم:

$$X = \begin{bmatrix} x \\ x \\ 3x \end{bmatrix} \rightarrow \begin{bmatrix} 1 \\ 1 \\ 3 \end{bmatrix}$$

نکته مهم:

فرض کنید A یک ماتریس مربعی 3×3 باشد که مقادیر ویژه آن $\lambda_1, \lambda_2, \lambda_3$ است. همواره داریم:

$$\lambda_1 + \lambda_2 + \lambda_3 = \text{Tr}(A)$$

$$\lambda_1 \times \lambda_2 \times \lambda_3 = \det(A)$$

$$\lambda_1 \lambda_2 + \lambda_1 \lambda_3 + \lambda_2 \lambda_3 = \frac{1}{2} \{ (\text{Tr} A)^2 - \text{Tr} A^2 \}$$

مثال: فرض کنید $A = \begin{bmatrix} 13 & -3 & 5 \\ 0 & 4 & 0 \\ -15 & 9 & -7 \end{bmatrix}$ مقادیر ویژه این ماتریس کدام است؟

(د) $4, 8, -2$

(ج) $-4, 8, -2$

(ب) $-4, 8, 2$

(الف) $4, -8, 2$

حل: بدون نیاز به حل معادله مشخصه، با توجه به نکات بالا داریم:

$$\text{Tr}(A) = \lambda_1 + \lambda_2 + \lambda_3$$

$$\text{Tr}(A) = 13 + 4 + (-7) = 10$$

بنابراین با توجه به گزینه ها ملاحظه می شود، تنها گزینه ای که رابطه بالا را ارضا می کند گزینه (د) می باشد.

مثال: مقادیر ویژه ماتریس $A = \begin{bmatrix} -14 & 1 & 0 \\ 0 & 2 & 0 \\ 1 & 0 & 2 \end{bmatrix}$ کدام اند؟

(د) $2, 15$

(ج) $2, -14$

(ب) $-2, 1$

(الف) $2, 14$

حل: اگر چه می توان با تشکیل معادله مشخصه مقادیر ویژه را محاسبه کرد اما راه حل ساده مساله چنین است:

ماتریس A یک ماتریس مربعی 3×3 می باشد بنابراین باید 3 مقدار ویژه داشته باشد وقتی به گزینه ها نگاه می کنیم در تمام گزینه ها فقط دو عدد نوشته شده است. بنابراین، بدیهی است که در هر گزینه یکی از اعداد تکراری می باشد و با توجه به این مطلب که داریم:

$$\lambda_1 + \lambda_2 + \lambda_3 = \text{Tr}(A) = (-14 + 2 + 2) = -10$$

می توان گزینه ها را به طور جداگانه آزمایش کرد به عنوان مثال گزینه (الف) می تواند دو مقدار ویژه را 2 و یکی را 14 یا دو مقدار ویژه را 14 و یکی را 2 توصیف کند. لذا با این منطق تنها گزینه (ج) می تواند صحیح باشد: $\lambda_1 = \lambda_2 = 2, \lambda_3 = -14$

مثال: ماتریس زیر را در نظر بگیرید. $A = \begin{bmatrix} 5 & 1 & * \\ -3 & 6 & 2 \\ 1 & -4 & 1 \end{bmatrix}$ چنانچه یکی از مقادیر ویژه ماتریس $\lambda = 2$ باشد و بدانیم $|A| = 42$ است،

دو مقدار ویژه دیگر ماتریس را به دست آورید.

حل: می دانیم $\lambda_1 = 2$ با استفاده از نکاتی که قبلاً ذکر شد داریم:

$$\lambda_1 + \lambda_2 + \lambda_3 = \text{Tr}(A) \Rightarrow 2 + \lambda_2 + \lambda_3 = 6 + 5 + 1 \Rightarrow \lambda_2 + \lambda_3 = 10$$

$$\lambda_1 \times \lambda_2 \times \lambda_3 = \det(A) \Rightarrow 2\lambda_2\lambda_3 = 42 \Rightarrow \lambda_2\lambda_3 = 21$$

از حل دو معادله فوق به دست می آید: $\lambda_2 = 7$, $\lambda_3 = 3$

مثال: بردارهای ویژه ماتریس $A = \begin{bmatrix} 5 & 4 \\ 1 & 2 \end{bmatrix}$ را به دست آورید.

حل: با حل معادله مشخصه داریم:

$$\begin{vmatrix} 5-\lambda & 4 \\ 1 & 2-\lambda \end{vmatrix} = 0 \Rightarrow \lambda^2 - 7\lambda + 6 = 0 \Rightarrow \lambda_1 = 1, \lambda_2 = 6$$

برای به دست آوردن بردار ویژه نظیر مقدار ویژه $\lambda_1 = 1$ داریم:

$$\lambda_1 = 1 \Rightarrow (A - (1)I).X = 0 \Rightarrow \begin{bmatrix} 4 & 4 \\ 1 & 1 \end{bmatrix} \begin{bmatrix} x \\ y \end{bmatrix} = \begin{bmatrix} 0 \\ 0 \end{bmatrix} \Rightarrow \begin{cases} 4x + 4y = 0 \\ x + y = 0 \end{cases} \Rightarrow x = -y \Rightarrow \begin{bmatrix} x \\ y \end{bmatrix} \rightarrow \begin{bmatrix} 1 \\ -1 \end{bmatrix}$$

و نیز برای به دست آوردن بردار ویژه نظیر مقدار ویژه $\lambda_2 = 6$ داریم:

$$\lambda_2 = 6 \Rightarrow (A - 6I).X = 0 \Rightarrow \begin{bmatrix} -1 & 4 \\ 1 & -4 \end{bmatrix} \begin{bmatrix} x \\ y \end{bmatrix} = 0$$

$$\Rightarrow \begin{cases} -x + 4y = 0 \\ x - 4y = 0 \end{cases} \Rightarrow x = +4y \Rightarrow \begin{bmatrix} x \\ y \end{bmatrix} \rightarrow \begin{bmatrix} 4 \\ 1 \end{bmatrix}$$

مثال: مطلوب است مقادیر ویژه ماتریس $A = \begin{bmatrix} \cos \theta & -\sin \theta \\ \sin \theta & \cos \theta \end{bmatrix}$

الف) $\lambda_1 = e^{2i\theta}$, $\lambda_2 = e^{-2i\theta}$

ج) $\lambda_1 = e^{i\theta}$, $\lambda_2 = e^{2i\theta}$

ب) $\lambda_1 = \lambda_2 = e^{i\theta}$

د) $\lambda_1 = e^{i\theta}$, $\lambda_2 = e^{-i\theta}$

حل: با حل معادله مشخصه داریم:

$$\det(A - \lambda I) = 0 \Rightarrow \begin{vmatrix} \cos \theta - \lambda & -\sin \theta \\ \sin \theta & \cos \theta - \lambda \end{vmatrix} = 0 \Rightarrow \lambda^2 - 2\cos \theta(\lambda) + 1 = 0 \Rightarrow \lambda = \cos \theta \pm \sqrt{\cos^2 \theta - 1} = \cos \theta \pm i \sin \theta$$

با توجه به این نکته که می دانیم $e^{i\theta} = \cos \theta + i \sin \theta$ می توان نوشت:

$$\lambda_1 = e^{i\theta}$$

$$\lambda_2 = e^{-i\theta}$$

توجه به نکات زیر در حل تست ها می تواند مفید باشد:

نکته: یک ماتریس مربعی $n \times n$ دارای n مقدار ویژه می باشد که البته ممکن است تعدادی از این مقادیر ویژه، تکراری باشند.

نکته: اگر مقادیر ویژه ماتریسی به گونه‌ای باشند که یکی از آنها صفر باشد، واضح است دترمینان آن ماتریس صفر است و لذا ماتریس موردنظر معکوس پذیر نمی‌باشد.

هرگاه دو مقدار ویژه یک ماتریس یکسان باشد، دلیلی ندارد که بردارهای ویژه متناظر با این دو مقدار نیز یکسان باشند.

بردارهای ویژه وابسته به مقدار ویژه متمایز، مستقل از یکدیگرند.

- تعداد بردارهای ویژه متناظر با مقدار ویژه λ بی شمار است.

- مقادیر ویژه A, A^T یکسان است.

- اگر ماتریس A نامنفرد باشد مقادیر ویژه A^{-1} ، عکس مقادیر ویژه A می‌باشند.

- اگر λ یک مقدار ویژه ماتریس A باشد، آنگاه λ^n یک مقدار ویژه ماتریس A^n است.

مثال: اگر ماتریس $A_{4 \times 4}$ دارای مقادیر ویژه $-1, 1, 0, 2$ باشد در مورد ماتریس معکوس A^{-1} چه می‌توان گفت؟

حل: با توجه به نکات گفته شده، ماتریس مزبور دارای مقدار ویژه صفر می‌باشد. لذا $\det A = 0$ است پس ماتریس مذکور، معکوس پذیر نمی‌باشد.

مثال: اگر A یک ماتریس 3×3 با مقادیر ویژه $1, 2, 3$ باشد مقادیر ویژه ماتریس $B = 2A - I$ کدام‌اند؟

الف) $0, 1, 2$ ب) $2, 4, 6$ ج) $1, 3, 5$ د) $-5, -3, 1$

حل: می‌دانیم ماتریس $2A$ همان ماتریس A است که درایه‌های آن در عدد 2 ضرب شده است. لذا بدیهی است که:

$$\text{Tr}(2A) = 2\text{Tr}(A)$$

$$\text{Tr}(I) = 3, \quad \text{Tr}(A) = \lambda_1 + \lambda_2 + \lambda_3 = 6$$

و نیز داریم:

لذا می‌توان نتیجه گرفت:

$$\text{Tr}(B) = \text{Tr}(2A) - \text{Tr}(I) = 12 - 3 = 9$$

پس مجموع مقادیر ویژه ماتریس B باید معادل 9 باشد و تنها جواب قابل قبول گزینه (ج) می‌باشد.

توجه: البته از آن‌جا که از رابطه $B = 2A - I$ می‌توان نتیجه گرفت: $\lambda_B = 2\lambda_A - 1$ نیز می‌توان صحت گزینه ج را دید.

تعیین رتبه یا رنک یک ماتریس (Rank)

تعریف: رتبه یک ماتریس $A_{m \times n}$ برابر k است، هرگاه بزرگترین ماتریس مربعی با دترمینان غیرصفر که از داخل این ماتریس می‌توان استخراج کرد از مرتبه k باشد. به تعبیر دیگر رتبه یک ماتریس برابر است با حداقل تعداد سطرهاى مستقل خطی و تعداد ستون‌های مستقل خطی موجود در آن ماتریس (معمولاً رتبه یک ماتریس را با تلفیق این دو جمله پیدا می‌کنیم).

مثال: رتبه ماتریس زیر را پیدا کنید.

$$A = \begin{bmatrix} 3 & -1 & 2 & 1 \\ 6 & -2 & 4 & 2 \\ 0 & 0 & 0 & 0 \end{bmatrix}$$

حل: بدیهی است از آنجا که ماتریس موردنظر یک ماتریس 3×4 می‌باشد، بنابراین رتبه آن 4 نخواهد بود. از طرفی همانطور که

ملاحظه می‌شود، تمام ماتریس‌های 3×3 قابل استخراج از داخل این ماتریس دارای دترمینان صفر می‌باشند (همگی یک سطر با

درایه‌های صفر دارند). لذا رتبه ماتریس 3 نخواهد بود.

از طرفی، تمام دترمینان مربعی 2×2 که از داخل این ماتریس می‌توان استخراج کرد برابر صفراند. بنابراین رتبه ماتریس 2 نخواهد بود. از آنجا که لااقل یک عدد غیر صفر در این ماتریس وجود دارد لذا رتبه ماتریس موردنظر برابر 1 است.

مثال: رتبه ماتریس زیر را پیدا کنید.

$$A = \begin{bmatrix} -1 & 2 & 1 & 3 \\ 1 & 2 & 2 & -1 \\ 0 & 4 & 3 & 2 \\ -1 & 6 & 4 & 5 \end{bmatrix}$$

حل: با کمی دقت ملاحظه می‌شود که تعداد سطرهای مستقل خطی در این ماتریس دو می‌باشد. یعنی سطرهای اول و دوم مستقل‌اند. و نیز داریم:

$$\text{سطر دوم} + \text{سطر اول} = \text{سطر سوم}$$

$$\text{سطر سوم} + \text{سطر اول} = \text{سطر چهارم}$$

بنابراین، نمی‌توان یک دترمینان مربعی 3×3 از داخل ماتریس استخراج کرد که مخالف صفر باشد.

حال این سوال مطرح است که آیا می‌توان لااقل یک دترمینان 2×2 مخالف صفر از داخل ماتریس A استخراج کرد؟ با کمی دقت، وجود لااقل یک دترمینان 2×2 مخالف صفر به سادگی قابل رؤیت است.

$$\begin{vmatrix} -1 & 2 \\ 1 & 2 \end{vmatrix} = -4 \neq 0$$

$$\text{Rank } A = 2$$

لذا رتبه ماتریس A برابر 2 می‌باشد:

مثال: ماتریس $A = \begin{bmatrix} 2 & -1 & a \\ 4 & -2 & 3 \\ 1 & 0 & 2 \end{bmatrix}$ مفروض است. مقدار a چقدر باشد تا رتبه این ماتریس برابر 3 نباشد و سپس تعیین کنید در این

حالت رتبه ماتریس چند است؟

حل: ماتریس موردنظر ما یک ماتریس 3×3 است. طبیعی است اگر قرار است رتبه آن 3 نباشد، باید دترمینان آن برابر صفر شده باشد. پس داریم:

$$|A| = 0 \Rightarrow 2(-4-0) + 1(8-3) + a(0+2) = 0 \Rightarrow a = \frac{3}{2}$$

پس ماتریس مذکور به صورت $A = \begin{bmatrix} 2 & -1 & \frac{3}{2} \\ 4 & -2 & 3 \\ 1 & 0 & 2 \end{bmatrix}$ خواهد بود.

حال باید ببینیم آیا لااقل یک دترمینان 2×2 مخالف صفر در این ماتریس قابل رؤیت است؟ با کمی دقت ملاحظه می‌شود:

$$\begin{vmatrix} 4 & -2 \\ 1 & 0 \end{vmatrix} = 2 \neq 0$$

پس رتبه ماتریس مذکور 2 است.

$$\text{Rank } A = 2$$

فصل سوم

هندسه تحلیلی

مقدمه‌ای از مبحث بردارها

دو نقطه A به مختصات $A(x_1, y_1, z_1)$ و B به مختصات $B(x_2, y_2, z_2)$ را در فضا در نظر بگیرید. بردار \overline{AB} در مختصات دکارتی به صورت زیر قابل تعریف است:

$$\overline{AB} = (x_2 - x_1)\vec{i} + (y_2 - y_1)\vec{j} + (z_2 - z_1)\vec{k}$$

که در آن $\vec{i}, \vec{j}, \vec{k}$ به ترتیب بردارهای یک‌سه محور x, y, z هستند و طول بردار \overline{AB} فاصله مستقیم دو نقطه A, B می‌باشد که از رابطه زیر به دست می‌آید:

$$AB = \sqrt{(x_2 - x_1)^2 + (y_2 - y_1)^2 + (z_2 - z_1)^2}$$

و همچنین مختصات نقطه M به گونه‌ای که پاره خط AB را به نسبت λ تقسیم کند به صورت زیر معین می‌گردد:

$$\begin{aligned} x_m &= \frac{x_1 + \lambda x_2}{1 + \lambda} \\ y_m &= \frac{y_1 + \lambda y_2}{1 + \lambda} \\ z_m &= \frac{z_1 + \lambda z_2}{1 + \lambda} \end{aligned}$$

تعریف:

۱- اندازه بردار $\vec{u}(a, b, c)$ به صورت زیر تعریف می‌شود:

$$|\vec{u}| = \sqrt{a^2 + b^2 + c^2}$$

۲- بردار یکه بردار $\vec{u}(a, b, c)$ برداری است که امتداد و جهت آن مانند بردار \vec{u} است ولی طول آن واحد است و آن را با $\vec{\lambda}_u$ نشان می‌دهند و به صورت زیر به دست می‌آید:

$$\vec{\lambda}_u = \frac{\vec{u}}{|\vec{u}|} = \frac{a\vec{i} + b\vec{j} + c\vec{k}}{\sqrt{a^2 + b^2 + c^2}}$$

مثال: دو نقطه A, B با مختصات زیر مفروض است. مطلوب است بردار یکه متناظر با بردار \overline{AB} .

$$B(3, 0, 2), A(2, 1, -3)$$

حل : طبق تعاریف بالا ابتدا بردار \overline{AB} به صورت زیر به دست می‌آید:

$$\overline{AB} = (3-2, 0-1, 2+3) = (1, -1, 5)$$

طول بردار \overline{AB} به صورت زیر به دست می‌آید:

$$|\overline{AB}| = \sqrt{(1)^2 + (-1)^2 + (5)^2} = \sqrt{27}$$

بردار یکه \overline{AB} به صورت زیر به دست می‌آید:

$$\vec{\lambda}_{AB} = \frac{\overline{AB}}{|\overline{AB}|} = \frac{\vec{i} - \vec{j} + 5\vec{k}}{\sqrt{27}} = \left(\frac{1}{\sqrt{27}}\right)\vec{i} - \left(\frac{1}{\sqrt{27}}\right)\vec{j} + \left(\frac{5}{\sqrt{27}}\right)\vec{k}$$

کسینوس‌های هادی یک بردار

بردار $\vec{A} = a\vec{i} + b\vec{j} + c\vec{k}$ با محورهای x, y, z به ترتیب زوایای α, β, γ می‌سازد که کسینوس‌های این زوایا (کسینوس‌های هادی بردار) را می‌توان به صورت زیر محاسبه کرد:

$$\cos \alpha = \frac{a}{|\vec{A}|} \quad \cos \beta = \frac{b}{|\vec{A}|} \quad \cos \gamma = \frac{c}{|\vec{A}|}$$

و همواره داریم:

$$\cos^2 \alpha + \cos^2 \beta + \cos^2 \gamma = 1$$

- انواع ضرب بردارها:

ضرب عدد در بردار: بردار $\vec{u} = a\vec{i} + b\vec{j} + c\vec{k}$ و عدد حقیقی k را در نظر بگیرید حاصلضرب عدد در بردار، برداری است که به صورت زیر تعریف می‌شود:

$$k\vec{u} = (ka)\vec{i} + (kb)\vec{j} + (kc)\vec{k}$$

ضرب داخلی دو بردار (ضرب اسکالر)

دو بردار $\vec{u} = a\vec{i} + b\vec{j} + c\vec{k}$, $\vec{v} = m\vec{i} + n\vec{j} + p\vec{k}$ را در نظر بگیرید. حاصلضرب داخلی دو بردار، عددی است که به یکی از دو صورت زیر مشخص می‌شود:

$$\begin{aligned}\vec{u} \cdot \vec{v} &= am + bn + cp \\ \vec{u} \cdot \vec{v} &= |\vec{u}| \cdot |\vec{v}| \cdot \cos \theta\end{aligned}$$

که در رابطه بالا θ زاویه بین دو بردار است.

نکته: با دقت به دو رابطه نوشته شده، می‌توان زاویه بین دو بردار $\vec{u} = a\vec{i} + b\vec{j} + c\vec{k}$, $\vec{v} = m\vec{i} + n\vec{j} + p\vec{k}$ را با توجه به فرمول زیر محاسبه کرد:

$$\cos \theta = \frac{am + bn + cp}{|\vec{u}| \cdot |\vec{v}|}$$

لذا طبیعی است که شرط عمود بودن دو بردار بر هم، آن است که $\vec{u} \cdot \vec{v} = am + bn + cp = 0$

همان‌طور که ملاحظه می‌شود ضرب داخلی دو بردار دارای خاصیت جابجایی بوده و داریم:

$$\vec{u} \cdot \vec{v} = \vec{v} \cdot \vec{u}$$

نکته: دو بردار $\vec{u} = a\vec{i} + b\vec{j} + c\vec{k}$, $\vec{v} = m\vec{i} + n\vec{j} + p\vec{k}$ را در نظر بگیرید به سادگی می‌توان نشان داد:

$$\vec{A}_B = (\vec{A} \cdot \vec{\lambda}_B) \vec{\lambda}_B$$

(الف) تصویر بردار \vec{A} روی بردار \vec{B} عبارت است از:

(که در آن $\vec{\lambda}_B$ بردار یکه \vec{B} می‌باشد)

$$\vec{A}'_B = 2\vec{A}_B - \vec{A}$$

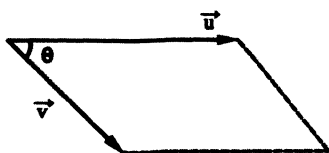
(ب) قرینه بردار \vec{A} نسبت به بردار \vec{B} عبارت است از:

ضرب خارجی دو بردار (ضرب برداری)

دو بردار $\vec{u} = a\vec{i} + b\vec{j} + c\vec{k}$, $\vec{v} = m\vec{i} + n\vec{j} + p\vec{k}$ را در نظر بگیرید. حاصلضرب خارجی دو بردار برداری است که به صورت زیر تعریف می‌شود:

$$\vec{u} \times \vec{v} = \begin{vmatrix} \vec{i} & \vec{j} & \vec{k} \\ a & b & c \\ m & n & p \end{vmatrix}$$

نکته: از حاصلضرب خارجی دو بردار، برداری حاصل می‌شود که دو ویژگی مهم دارد.



اگر فرض کنیم $\vec{N} = \vec{u} \times \vec{v}$ پس می‌توان گفت:

(۱) بردار \vec{N} بر هر دو بردار \vec{u} , \vec{v} عمود است.

(۲) اندازه بردار \vec{N} برابر مساحت متوازی‌الاضلاع است که می‌توان بر روی دو بردار \vec{u} , \vec{v} بنا کرد (یعنی به عبارتی دیگر، مساحت متوازی‌الاضلاع همان طول بردار حاصلضرب خارجی دو بردار سازنده آن می‌باشد).

$$|\vec{N}| = |\vec{u}| |\vec{v}| \sin \theta = \text{مساحت متوازی‌الاضلاع}$$

$$\vec{u} \times \vec{v} = -(\vec{v} \times \vec{u})$$

(۳) ضرب خارجی دو بردار دارای خاصیت جابه‌جایی نمی‌باشد:

حاصل ضرب مختلط سه بردار:

بردارهای $\vec{u} = a\vec{i} + b\vec{j} + c\vec{k}$, $\vec{v} = m\vec{i} + n\vec{j} + p\vec{k}$ و $\vec{w} = \alpha\vec{i} + \beta\vec{j} + \gamma\vec{k}$ را در نظر بگیرید. حاصل ضرب مختلط این سه بردار، برداری است که به صورت زیر تعریف می‌شود:

$$\vec{u} \cdot (\vec{v} \times \vec{w}) = \begin{vmatrix} a & b & c \\ m & n & p \\ \alpha & \beta & \gamma \end{vmatrix}$$

توجه داشته باشید قدرمطلق حاصل ضرب مختلط این سه بردار، حجم متوازی‌السطوحی است که بر روی این سه بردار، قابل ساختن است. لذا طبیعی است که اگر حاصل ضرب مختلط سه بردار برابر صفر باشد، آن سه بردار در یک صفحه واقع هستند. پس برای چک کردن هم صفحه بودن سه بردار می‌توان از این مفهوم استفاده کرد.

وابستگی خطی و استقلال خطی در بردارها

تعریف: بردارهای $\vec{u}_1, \vec{u}_2, \dots, \vec{u}_n$ را وابسته خطی گویند هرگاه اعداد ثابتی مانند k_1, k_2, \dots, k_n (که همگی همزمان صفر نمی‌باشند) یافت شود به گونه‌ای که:

$$k_1 \vec{u}_1 + k_2 \vec{u}_2 + k_3 \vec{u}_3 + \dots + k_n \vec{u}_n = 0$$

در غیر این صورت بردارهای مزبور را مستقل خطی گویند.

نکته: ثابت می‌شود در یک فضای n بعدی، هر $n+1$ بردار قطعاً وابستگی خطی دارند.

نکته: با استفاده از تعریف فوق، می‌توان گفت دو بردار $\vec{u} = a\vec{i} + b\vec{j} + c\vec{k}$, $\vec{v} = m\vec{i} + n\vec{j} + p\vec{k}$ را دارای وابستگی خطی می‌گویند هرگاه بتوان عدد ثابتی مانند ℓ پیدا کرد به‌طوری‌که $\vec{v} = \ell \vec{u}$. در یک بیان متناظر دو بردار \vec{u} , \vec{v} دارای وابستگی خطی گویند، هرگاه با هم موازی باشند و به تعبیری هرگاه داشته باشیم:

$$\frac{a}{m} = \frac{b}{n} = \frac{c}{p}$$

و در غیر این صورت دارای استقلال خطی هستند.

نکته: سه بردار $\vec{u} = a\vec{i} + b\vec{j} + c\vec{k}$, $\vec{v} = m\vec{i} + n\vec{j} + p\vec{k}$ و $\vec{w} = \alpha\vec{i} + \beta\vec{j} + \gamma\vec{k}$ را دارای وابستگی خطی گویند، هرگاه بتوان اعداد ℓ_1, ℓ_2 را به‌گونه‌ای یافت که داشته باشیم:

$$\vec{w} = \ell_1 \vec{u} + \ell_2 \vec{v}$$

و می‌توان ثابت کرد شرط وابستگی خطی داشتن سه بردار، آن است که ضرب مختلط آنها برابر صفر شود:

$$\begin{vmatrix} a & b & c \\ m & n & p \\ \alpha & \beta & \gamma \end{vmatrix} = 0$$

وضعیت دو بردار نسبت به هم

دو بردار $\vec{u}(a,b,c)$, $\vec{v}(m,n,p)$ را در نظر بگیرید:

$$am + bn + cp = 0 : \text{شرط عمود بودن دو بردار}$$

$$\frac{a}{m} = \frac{b}{n} = \frac{c}{p} : \text{شرط موازی بودن دو بردار}$$

مثال: دو نقطه $A(1,2,3)$, $B(-1,3,3)$ مفروض می‌باشند. نقطه m را بر پاره خط AB به گونه‌ای بیابید که این پاره خط را به نسبت $\lambda = 3$ تقسیم کند.

حل : طبق روابط گفته شده داریم:

$$x_m = \frac{1+3(-1)}{1+3} = \frac{-1}{2}$$

$$y_m = \frac{2+3(3)}{1+3} = \frac{11}{4}$$

$$z_m = \frac{3+3(3)}{1+3} = 3$$

با کمی دقت ملاحظه می‌شود که مساله دارای جواب دیگری نیز می‌باشد که به صورت هندسی به راحتی قابل توجیه است.

مثال: نزدیکترین فاصله مبدا مختصات تا منحنی $\vec{r} = e^t \vec{i} + e^{-t} \vec{j}$ را به دست آورید.

حل : نقطه $A(e^t, e^{-t})$ روی منحنی مزبور قرار دارد، فاصله آن تا مبدا مختصات به صورت زیر می‌باشد:

$$d = \sqrt{(e^t)^2 + (e^{-t})^2} = \sqrt{e^{2t} + e^{-2t}} = \sqrt{(e^t - e^{-t})^2 + 2}$$

بنابراین، حداقل فاصله هنگامی اتفاق می‌افتد که عبارت $(e^t - e^{-t})^2$ معادل صفر باشد و این امر زمانی ممکن می‌شود که $t = 0$ باشد و لذا داریم:

$$d_{\min} = \sqrt{2}$$

مثال: مطلوب است برداری که در جهت بردار $\vec{A} = 2\vec{i} - \vec{j} + 2\vec{k}$ بوده و طولش برابر 9 باشد.

حل : بردار یکه بردار موردنظر به صورت زیر می‌باشد:

$$\vec{\lambda}_A = \frac{2\vec{i} - \vec{j} + 2\vec{k}}{\sqrt{4+1+4}} = \frac{1}{3} (2\vec{i} - \vec{j} + 2\vec{k})$$

لذا بردار مذکور به صورت زیر خواهد بود:

$$\vec{u} = |\vec{u}| \vec{\lambda} = 9 \left[\frac{1}{3} (2\vec{i} - \vec{j} + 2\vec{k}) \right] = 6\vec{i} - 3\vec{j} + 6\vec{k}$$

مثال: مقدار ثابت m چقدر باشد تا دو بردار زیر بر هم عمود باشند؟

$$\vec{u} = (2m+1)\vec{i} + (-3)\vec{j} + (1-m)\vec{k}$$

$$\vec{v} = -2\vec{i} + 1\vec{j} + 2\vec{k}$$

حل : شرط عمود بودن می طلبد که ضرب داخلی دو بردار برابر صفر باشد.

$$\vec{u} \cdot \vec{v} = 0 \Rightarrow -4m - 2 - 3 + 2 - 2m = 0 \Rightarrow -6m - 3 = 0 \Rightarrow m = -\frac{1}{2}$$

مثال: زاویه بردار $\vec{r} = \cos \theta \sin \varphi \vec{i} + \sin \theta \sin \varphi \vec{j} + \cos \varphi \vec{k}$ با محور x ها کدام است؟

حل : محور x ها با بردار $\vec{\lambda} = \vec{i}$ قابل توصیف است.

بنابراین، چنانچه زاویه موردنظر را α در نظر بگیریم می توان نوشت:

$$\cos \alpha = \frac{\vec{r} \cdot \vec{\lambda}}{|\vec{r}| |\vec{\lambda}|}$$

$$|\vec{r}| = \sqrt{\cos^2 \theta \sin^2 \varphi + \sin^2 \theta \sin^2 \varphi + \cos^2 \varphi} = \sqrt{(\cos^2 \theta + \sin^2 \theta) \sin^2 \varphi + \cos^2 \varphi}$$

$$= \sqrt{\sin^2 \varphi + \cos^2 \varphi} = 1, \quad |\vec{\lambda}| = 1$$

$$\vec{r} \cdot \vec{\lambda} = \cos \theta \sin \varphi$$

$$(\cos \alpha)(|\vec{r}| |\vec{\lambda}|) = \vec{r} \cdot \vec{\lambda} \Rightarrow \cos \alpha = \cos \theta \sin \varphi \Rightarrow \alpha = \cos^{-1}(\cos \theta \sin \varphi)$$

مثال: فرض کنید $B(2, -3, 5)$, $A(8, 3, 2)$, $P(4, 1, 6)$ نقاطی در فضای R^3 باشند. در این صورت، طول تصویر بردار \overline{AP} روی

بردار \overline{AB} را به دست آورید.

حل : داریم:

$$\overline{AP} = (-4, -2, 4), \quad \overline{AB} = (-6, -6, 3)$$

و بردار یکه \overline{AB} عبارت است از:

$$\vec{\lambda}_{AB} = \frac{-6\vec{i} - 6\vec{j} + 3\vec{k}}{\sqrt{36 + 36 + 9}}$$

لذا طول تصویر \overline{AP} بر \overline{AB} به صورت زیر به دست می آید:

$$\overline{AP} \cdot \vec{\lambda}_{AB} = (-4\vec{i} - 2\vec{j} + 4\vec{k}) \cdot \left(\frac{-6\vec{i} - 6\vec{j} + 3\vec{k}}{9} \right) = \frac{48}{9}$$

مثال: می دانیم بردارهای $\vec{a} + \vec{b}$, $2\vec{a}$ بر هم عموداند. چنانچه $|\vec{a}| = \frac{1}{2}|\vec{b}|$ باشد، مطلوب است زاویه بین دو بردار \vec{a} , \vec{b} .

مثال: شرط تعامد دو بردار آن است که ضرب داخلی آنها صفر باشد، لذا داریم:

$$2\vec{a} \cdot (\vec{a} + \vec{b}) = 0 \Rightarrow 2\vec{a} \cdot \vec{a} + 2\vec{a} \cdot \vec{b} = 0 \Rightarrow 2a^2 + 2ab \cos \theta = 0$$

چون می دانیم که:

$$\vec{a} \cdot \vec{b} = |\vec{a}| |\vec{b}| \cos \theta$$

از طرفی طبق فرض داریم $a = \frac{b}{2}$ بنابراین خواهیم داشت:

$$2a^2 + 2a(2a) \cos \theta = 0 \Rightarrow 2a^2(1 + 2 \cos \theta) = 0 \Rightarrow \cos \theta = \frac{-1}{2} \Rightarrow \theta = \frac{2\pi}{3}$$

مثال: دو بردار $\vec{u} = 3\vec{i} + 2\vec{j} - \vec{k}$, $\vec{v} = -\vec{i} + \vec{j} + 3\vec{k}$ مفروض است. مختصات یکه برداری را بیابید که بر هر دو بردار مذکور عمود باشد.
حل : مطابق بحث‌های گفته شده، برداری که از ضرب خارجی دو بردار حاصل می‌شود عمود بر آن دو می‌باشد:

$$\vec{N} = \vec{u} \times \vec{v} = \begin{vmatrix} \vec{i} & \vec{j} & \vec{k} \\ 3 & 2 & -1 \\ -1 & 1 & 3 \end{vmatrix} = \vec{i}(6+1) - \vec{j}(9-1) + \vec{k}(3+2) \Rightarrow \vec{N} = 7\vec{i} - 8\vec{j} + 5\vec{k}$$

بردار یکه این بردار به صورت زیر به دست می‌آید:

$$\vec{\lambda}_N = \frac{7\vec{i} - 8\vec{j} + 5\vec{k}}{\sqrt{49 + 64 + 25}}$$

مثال: حجم هرم مثلث القاعده‌ای به رئوس $A(0,0,1)$, $B(2,3,5)$, $C(6,2,3)$ و $D(3,7,2)$ را به دست آورید:

حل : داریم: $\vec{AB} = (2,3,4)$, $\vec{AC} = (6,2,2)$, $\vec{AD} = (3,7,1)$

لذا طبق بحث‌های قبل حجم متوازی‌السطوح ایجاد شده روی این سه بردار عبارت است از:

$$\vec{AB} \cdot (\vec{AC} \times \vec{AD}) = \begin{vmatrix} 2 & 3 & 4 \\ 6 & 2 & 2 \\ 3 & 7 & 1 \end{vmatrix} = 120$$

لذا حجم هرم موردنظر $\frac{1}{6}$ مقدار یعنی 20 واحد مکعب خواهد بود.

مثال: مقدار k چقدر باشد، تا دو بردار $\vec{A} = (2k+1, 3, -1)$, $\vec{B} = (3, -1, -k)$ وابستگی خطی داشته باشند؟

حل : همان‌طور که قبلاً ذکر شد دو بردار زمانی با هم وابستگی خطی دارند که موازی باشند. بنابراین داریم:

$$\frac{2k+1}{3} = \frac{3}{-1} = \frac{-1}{-k}$$

برای این که وابستگی خطی بین دو بردار باشد باید معادله بالا ارضاء شود.

$$\begin{cases} \frac{2k+1}{3} = \frac{3}{-1} \Rightarrow k = -5 \\ \frac{3}{-1} = \frac{1}{k} \Rightarrow k = -\frac{1}{3} \end{cases}$$

بنابراین نمی‌توان k را پیدا کرد که در هر دو معادله صدق کند به تعبیری دیگر، به ازای هر مقدار دلخواه k این دو بردار استقلال خطی دارند.

مثال: مقدار ثابت m چقدر باشد تا سه بردار $\vec{u} = (2m, 1, m)$, $\vec{v} = (-2, 0, 1)$, $\vec{w} = (1, 2, 3)$ وابستگی خطی داشته باشند.

حل : همان‌طور که قبلاً اشاره شد سه بردار زمانی وابستگی خطی دارند، که روی یک صفحه واقع شده باشند بنابراین داریم:

$$\begin{vmatrix} 2m & 1 & m \\ -2 & 0 & 1 \\ 1 & 2 & 3 \end{vmatrix} = 0 \Rightarrow 2m(0-2) - 1(-6-1) + m(-4-0) = 0 \Rightarrow m = \frac{7}{8}$$

معادلات صفحه و خط در فضا

معادله صفحه در فضا

معادله صفحه‌ای که از نقطه $A(x_0, y_0, z_0)$ گذشته و بردار $\vec{N}(a, b, c)$ بر آن عمود باشد به یکی از دو صورت زیر به دست می‌آید:

$$\begin{aligned} a(x - x_0) + b(y - y_0) + c(z - z_0) &= 0 \\ ax + by + cz + d &= 0 \end{aligned}$$

که در حالت دوم، مقدار d را می‌توان از این نکته که نقطه A متعلق به صفحه است و باید مختصاتش در آن صفحه صدق کند، به دست آورد.

در حالات خاص می‌توان معادله صفحه را به راحتی مشخص نمود و به عنوان مثال:

(۱) اگر $a = 0$ باشد، صفحه مورد نظر موازی محور x هاست.

(۲) اگر $a = b = 0$ باشد، صفحه مورد نظر موازی صفحه xOy است.

(۳) اگر $d = 0$ باشد، صفحه مورد نظر از مبدا مختصات خواهد گذشت.

تذکر: دو صفحه زمانی با هم موازی هستند که بردار نرمال هایشان با هم موازی باشند.

تذکر: دو صفحه زمانی بر هم عمود هستند که بردار نرمال هایشان بر هم عمود باشد.

تذکر: زاویه بین دو صفحه، زاویه بین بردار نرمال‌های آن دو صفحه می‌باشد.

نکته: فاصله نقطه $A(x_0, y_0, z_0)$ از صفحه $ax + by + cz + d = 0$ از رابطه زیر به دست می‌آید:

$$AH = \frac{|ax_0 + by_0 + cz_0 + d|}{\sqrt{a^2 + b^2 + c^2}}$$

نکته: فاصله دو صفحه موازی $\begin{cases} ax + by + cz + d = 0 \\ ax + by + cz + d' = 0 \end{cases}$ عبارت است از:

$$\text{فاصله} = \frac{|d - d'|}{\sqrt{a^2 + b^2 + c^2}}$$

نکته: معادله کلیه صفحاتی که از فصل مشترک دو صفحه $a_1x + b_1y + c_1z + d_1 = 0$ ، $a_2x + b_2y + c_2z + d_2 = 0$ می‌گذرد به صورت

زیر نوشته می‌شود:

$$a_1x + b_1y + c_1z + d_1 + \lambda(a_2x + b_2y + c_2z + d_2) = 0$$

نکته: معادله صفحه گذرنده از سه نقطه $A(x_0, y_0, z_0)$, $B(x_1, y_1, z_1)$, $C(x_2, y_2, z_2)$ عبارت است از:

$$\begin{vmatrix} x-x_0 & y-y_0 & z-z_0 \\ x_1-x_0 & y_1-y_0 & z_1-z_0 \\ x_2-x_0 & y_2-y_0 & z_2-z_0 \end{vmatrix} = 0$$

معادله خط در فضا

معادله خطی که از نقطه $A(x_0, y_0, z_0)$ بگذرد و با بردار $\vec{u}(p, q, r)$ موازی باشد به فرم زیر نوشته می‌شود:

$$\frac{x-x_0}{p} = \frac{y-y_0}{q} = \frac{z-z_0}{r}$$

(دقت کنید که در این رابطه ضریب $x, y, z, +1$ می‌باشد).

به مقادیر p, q, r پارامترهای هادی خط می‌گویند و به همین ترتیب به بردار \vec{u} بردار هادی خط گویند. معادله همین خط در فرم پارامتری (بر حسب پارامتر t) به صورت زیر می‌باشد:

$$\begin{cases} x = pt + x_0 \\ y = qt + y_0 \\ z = rt + z_0 \end{cases}$$

که در این حالت به ازای t های مختلف، مختصات نقاط مختلف خط مزبور مشخص می‌شود.

تذکر: توجه کنید که با نوشتن معادله خط به صورت پارامتری، می‌توان بسیاری از مسایل مربوط به خط را حل نمود، به عنوان مثال برای فهمیدن این که آیا دو خط D_1, D_2 متقاطع هستند می‌توان مساله را این گونه تعبیر کرد که آیا نقطه‌ای روی خط D_1 موجود است که مختصات آن در معادله خط D_2 نیز صدق کند و اگر چنین نقطه‌ای یافت بشود، آن نقطه، نقطه تقاطع دو خط است. البته به این نکته توجه داشته باشید که عدم توازی دو خط به منزله متقاطع بودن آن دو خط نمی‌باشد چرا که ممکن است آن دو خط متناظر باشند.

نکته: معادله خط گذرنده از دو نقطه $A(x_0, y_0, z_0)$, $B(x_1, y_1, z_1)$ به صورت زیر خواهد بود:

$$\frac{x-x_0}{x_1-x_0} = \frac{y-y_0}{y_1-y_0} = \frac{z-z_0}{z_1-z_0}$$

در حالات خاص نیز می‌توان معادله خط را به راحتی مشخص نمود به عنوان مثال:

الف) معادله خطی که به موازات محور x ها می‌باشد به صورت $y = y_0$, $z = z_0$ نوشته می‌شود که در آن z_0, y_0 مولفه‌های z, y در یک نقطه خاص از خط موردنظر است.

ب) معادله خطی که به موازات صفحه yOz می‌باشد به صورت $\frac{y-y_0}{b} = \frac{z-z_0}{c}$ می‌باشد که در آن x_0, y_0, z_0 مختصات یک نقطه خاص موردنظر است.

خاص موردنظر است.

وضعیت دو خط نسبت به همدیگر:

دو خط به معادلات $\frac{x-x_1}{p_1} = \frac{y-y_1}{q_1} = \frac{z-z_1}{r_1}$, $\frac{x-x_2}{p_2} = \frac{y-y_2}{q_2} = \frac{z-z_2}{r_2}$ را در نظر بگیرید. بدیهی است شرط توازی و تعامد دو خط، همان شرط توازی و تعامد بردارهای هادی دو خط می باشد.

$$\frac{p_1}{p_2} = \frac{q_1}{q_2} = \frac{r_1}{r_2}$$

برای شرط توازی دو خط داریم:

$$p_1 p_2 + q_1 q_2 + r_1 r_2 = 0$$

و برای شرط تعامد دو خط داریم:

و بدیهی است که زاویه بین دو خط همان زاویه بین بردارهای هادی دو خط است.

شرط هم صفحه بودن این دو خط به صورت زیر بیان می شود:

$$\begin{vmatrix} x_2 - x_1 & y_2 - y_1 & z_2 - z_1 \\ p_1 & q_1 & r_1 \\ p_2 & q_2 & r_2 \end{vmatrix} = 0$$

بنابراین، شرط متنافر بودن دو خط مزبور آن است که دترمینان فوق مخالف صفر باشد.

مثال: صفحه $\frac{x}{4} + \frac{y}{3} + z = 1$ را در نظر بگیرید. حجم ساخته شده توسط این صفحه و صفحات مختصات چقدر است؟

حل :

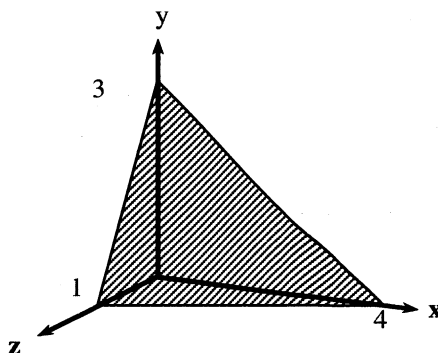
$$\text{محل تقاطع صفحه با محور } x \xrightarrow{y=z=0} \frac{x}{4} = 1 \Rightarrow x = 4$$

$$\text{محل تقاطع صفحه با محور } y \xrightarrow{x=z=0} \frac{y}{3} = 1 \Rightarrow y = 3$$

$$\text{محل تقاطع صفحه با محور } z \xrightarrow{x=y=0} z = 1$$

$$= (\text{ارتفاع}) \times (\text{مساحت قاعده}) \times \frac{1}{3} = \text{حجم هرم مورد نظر}$$

$$\frac{1}{3} \times \frac{4 \times 3}{2} \times 1 = 2$$



مثال: معادله $(x+2y+3z+4)^2 + (x-2y+2z-4)^2 = 0$ بیانگر چه شکلی در فضا می باشد؟

حل : با توجه به معادله، ملاحظه می شود که این معادله به صورت $A^2 + B^2 = 0$ بدیهی است برای داشتن جواب لازم است

$$A = B = 0 \text{ پس داریم:}$$

$$\begin{cases} x - 2y + 2z - 4 = 0 \\ x + 2y + 3z + 4 = 0 \end{cases}$$

این دو معادله، معادلات دو صفحه متقاطع می باشند (به دلیل آنکه ضرایب دو معادله متفاوت هستند دو صفحه موازی نمی باشند). پس شکل مورد نظر فصل مشترک دو صفحه، یعنی یک خط راست می باشد.

مثال: خطی به معادله $\frac{2x-1}{3} = \frac{y-1}{2} = \frac{3z+1}{2}$ نسبت به صفحه ای به معادله $4x + 4y - 21z = 1$ چه وضعیتی دارد؟

حل : بردار نرمال صفحه به صورت $\vec{N} = (4, 4, -21)$ می باشد.

از طرفی معادله خط به صورت $\frac{x-\frac{1}{2}}{\frac{3}{2}} = \frac{y-1}{2} = \frac{z+\frac{1}{3}}{\frac{2}{3}}$ می باشد در نتیجه بردارهای خط به صورت $\vec{u}\left(\frac{3}{2}, 2, \frac{2}{3}\right)$ می باشد. ملاحظه می شود دو بردار فوق بر هم عمودند، چرا که ضرب داخلی آنها صفر است:

$$4\left(\frac{3}{2}\right) + 4(2) - 21\left(\frac{2}{3}\right) = 0$$

پس بدیهی است که صفحه و خط مزبور با هم موازیند.

مثال: معادله خط و صفحه ای به صورت زیر داده شده است. مطلوب است:

(الف) محل تقاطع خط و صفحه را بیابید. (ب) زاویه بین خط و صفحه را به دست آورید.

$$\Delta: \frac{x-1}{2} = \frac{3-y}{1} = z+1$$

$$p: x+2y+z+4=0$$

حل: (الف) برای حل این تست اگر مساله به صورت تستی مطرح شده بود سریعترین راه حل، چک کردن نقاط در معادلات خط و صفحه بود. بدیهی است نقطه ای که در هر دو معادله صدق کند محل تقاطع خط و صفحه می باشد.

برای حل تشریحی معادله خط را به صورت پارامتری می نویسیم:

$$\Delta: \begin{cases} x = 2t+1 \\ y = 3-t \\ z = t-1 \end{cases}$$

مقادیر x, y, z را به صورت پارامتری در معادله صفحه قرار می دهیم تا پارامتر t به دست آید.

$$(2t+1) + 2(3-t) + (t-1) + 4 = 0 \rightarrow t = -10$$

مقدار t را در معادلات خط قرار می دهیم تا مقادیر نقطه تلاقی به دست آید:

$$x = 2(-10) + 1 = -19$$

$$y = 3 - (-10) = 13$$

$$z = (-10) - 1 = -11$$

(ب) بدیهی است بردار نرمال صفحه $\vec{N}(1, 2, 1)$ عمود بر صفحه و بردار هادی خط $\vec{L}(2, -1, 1)$ موازی خط Δ می باشند.

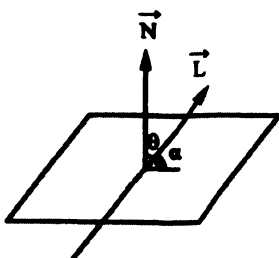
زاویه بین دو بردار به صورت روبرو به دست می آید:

$$\cos \theta = \frac{\vec{N} \cdot \vec{L}}{|\vec{N}| |\vec{L}|} = \frac{(2)(1) + (2)(-1) + (1)(1)}{\sqrt{6} \times \sqrt{6}}$$

$$\cos \theta = \frac{1}{6} \Rightarrow \theta = \cos^{-1} \frac{1}{6}$$

همان طور که در شکل نیز ملاحظه می شود زاویه بین خط و صفحه (α) متمم زاویه θ می باشد.

$$\alpha = \frac{\pi}{2} - \cos^{-1} \left(\frac{1}{6} \right)$$



مثال: معادله دو صفحه به صورت زیر موجود است.

$$P: x + 2y - z + 1 = 0$$

$$Q: 2x + z + 3 = 0$$

الف) معادله خطی را بنویسید که از نقطه $A(1, 2, 3)$ بگذرد و با هر دو صفحه فوق موازی باشد.

ب) معادله صفحه‌ای را بنویسید که از فصل مشترک این دو صفحه بگذرد و بر صفحه $R: 3x - y + 2z = 0$ عمود باشد.

حل: (الف) بدیهی است بردار نرمال‌های دو صفحه P, Q به ترتیب برابر $\vec{N}_1(1, 2, -1)$ و $\vec{N}_2(2, 0, 1)$ می‌باشند. چون خط مذکور با هر دو صفحه موازی است، در نتیجه باید بردار هادی خط بر بردارهای \vec{N}_2, \vec{N}_1 عمود باشد.

$$\vec{N} = \vec{N}_1 \times \vec{N}_2 = \begin{vmatrix} \vec{i} & \vec{j} & \vec{k} \\ 1 & 2 & -1 \\ 2 & 0 & 1 \end{vmatrix} = 2\vec{i} - 3\vec{j} - 4\vec{k}$$

بردار \vec{N} بر هر دو بردار \vec{N}_1, \vec{N}_2 عمود است، در نتیجه همان بردار هادی خط است.

$$\frac{x-1}{2} = \frac{y-2}{-3} = \frac{z-3}{-4} \quad \text{معادله خط:}$$

ب) می‌دانیم معادله کلیه دسته صفحاتی که از فصل مشترک دو صفحه P, Q می‌گذرد به صورت $P + kQ = 0$ می‌باشد. در نتیجه داریم:

$$(x + 2y - z + 1) + k(2x + z + 3) = 0 \Rightarrow x(1 + 2k) + 2y + z(k - 1) + 1 + 3k = 0 \quad (I)$$

شرط تعامد صفحه I با صفحه $R: 3x - y + 2z = 0$ عمود بودن بردارهای نرمال آنهاست.

$$(3, -1, 2) \cdot (1 + 2k, 2, k - 1) = 0$$

$$(3)(1 + 2k) - (1)(2) + 2(k - 1) = 0 \Rightarrow 8k = 1 \Rightarrow k = \frac{1}{8}$$

حال k را در معادله (I) قرار می‌دهیم:

$$x\left(1 + 2 \times \frac{1}{8}\right) + 2y + z\left(\frac{1}{8} - 1\right) + 1 + 3\left(\frac{1}{8}\right) = 0$$

$$\frac{5}{4}x + 2y - \frac{7}{8}z + \frac{11}{8} = 0$$

مثال: دو وجه یک مکعب بر روی دو صفحه زیر واقع شده‌اند. مطلوب است حجم این مکعب.

$$\begin{cases} P: 2x + y - 3z + 1 = 0 \\ Q: 4x + 2y - 6z + 4 = 0 \end{cases}$$

حل: همان‌طور که ملاحظه می‌شود دو صفحه مذکور موازی هستند:

$$P: 2x + y - 3z + 1 = 0$$

$$Q: 2x + y - 3z + 2 = 0$$

فاصله بین دو صفحه به صورت زیر به دست می‌آید:

$$L = \frac{|1 - 2|}{\sqrt{(2)^2 + (1)^2 + (-3)^2}} = \frac{1}{\sqrt{14}}$$

این فاصله همان طول ضلع مکعب است در نتیجه حجم مکعب برابر است با:

$$V = L^3 = \left(\frac{1}{\sqrt{14}}\right)^3$$

دستگاه معادلات خطی

دو مبحث زیر، برای حل دستگاه معادلات خطی برای دستگاه‌های سه معادله و سه مجهول مطرح شده، اما به سادگی برای دستگاه‌های n معادله و n مجهول نیز قابل تعمیم است.

الف) دستگاه معادلات همگن:

به معادلات به فرم زیر که طرف دوم آنها صفر است، همگن گویند.

دستگاه معادلات همگن زیر را در نظر بگیرید:

$$\begin{cases} ax + by + cz = 0 \\ a'x + b'y + c'z = 0 \\ a''x + b''y + c''z = 0 \end{cases}$$

به وضوح دیده می‌شود $x = y = z = 0$ جوابی برای دستگاه مزبور است که اصطلاحاً به آن جواب بدیهی گفته می‌شود.

ثابت می‌شود، شرط لازم و کافی برای آنکه دستگاه همگن فوق دارای جواب غیربدیهی نیز باشد و به تعبیری بی‌نهایت دسته جواب داشته باشد این است، که دترمینان ضرایب این دستگاه صفر باشد، یعنی:

$$\begin{vmatrix} a & b & c \\ a' & b' & c' \\ a'' & b'' & c'' \end{vmatrix} = 0$$

مثال: مقدار ثابت k چقدر باشد تا دستگاه معادلات زیر دارای بی‌نهایت دسته جواب گردد؟

$$\begin{cases} (2k+3)x + (3k+1)y = 0 \\ -2x + 3y = 0 \end{cases}$$

حل : برای وجود بی‌نهایت دسته جواب باید داشته باشیم:

$$\begin{vmatrix} 2k+3 & 3k+1 \\ -2 & 3 \end{vmatrix} = 0 \Rightarrow 3(2k+3) + 2(3k+1) = 0 \Rightarrow k = \frac{-11}{12}$$

مثال: مقدار ثابت حقیقی m را به گونه‌ای بیابید تا دستگاه معادلات زیر دارای جواب غیربدیهی نیز باشد؟

$$\begin{cases} 2x + my + z = 0 \\ x - 3y + (m+1)z = 0 \\ -x + y + 2z = 0 \end{cases}$$

حل :

$$\begin{vmatrix} 2 & m & 1 \\ 1 & -3 & m+1 \\ -1 & 1 & 2 \end{vmatrix} = 0 \Rightarrow 2(-6-m-1) - m(2+m+1) + 1(1-3) = 0$$

$$\Rightarrow -14 - 2m - 3m - m^2 - 2 = 0 \Rightarrow m^2 + 5m + 16 = 0$$

با تشکیل Δ معادله درجه دوم می‌بینیم:

$$\Delta = 25 - 4(16) < 0$$

یعنی معادله موردنظر دارای ریشه حقیقی نمی‌باشد. به این تعبیر، دستگاه معادلات مذکور نمی‌تواند دارای جواب غیربدیهی باشد.

ب) دستور کرامر در حل دستگاه معادلات خطی

دستگاه مقابل را در نظر می‌گیریم:

$$\begin{cases} ax + by + cz = d \\ a'x + b'y + c'z = d' \\ a''x + b''y + c''z = d'' \end{cases}$$

مطابق روش کرامر، مجهولات این دستگاه را می‌توان به صورت زیر محاسبه نمود:

$$\boxed{x = \frac{\Delta x}{\Delta}, y = \frac{\Delta y}{\Delta}, z = \frac{\Delta z}{\Delta}}$$

که در آن Δ ، دترمینان ضرایب دستگاه است یعنی:

$$\Delta = \begin{vmatrix} a & b & c \\ a' & b' & c' \\ a'' & b'' & c'' \end{vmatrix}$$

و Δx ، Δy ، Δz دترمینان‌های محذوف هستند به طوری که:

$$\Delta x = \begin{vmatrix} d & b & c \\ d' & b' & c' \\ d'' & b'' & c'' \end{vmatrix}$$

$$\Delta y = \begin{vmatrix} a & d & c \\ a' & d' & c' \\ a'' & d'' & c'' \end{vmatrix}$$

$$\Delta z = \begin{vmatrix} a & b & d \\ a' & b' & d' \\ a'' & b'' & d'' \end{vmatrix}$$

دقت کنید دو حالت خاص زیر قابل بررسی است:

(۱) اگر $\Delta = 0$ باشد ولی $(\Delta z, \Delta y, \Delta x) \neq 0$ باشند، در این حالت، دستگاه مذکور غیرممکن است و یا به تعبیری فاقد جواب می‌باشد.

(۲) اگر $(\Delta z, \Delta y, \Delta x, \Delta) = 0$ باشند، در این حالت دستگاه مذکور مبهم بوده و به تعبیری دستگاه دارای بی‌نهایت دسته جواب می‌باشد.

مثال: مطلوب است محاسبه z از دستگاه زیر:

$$\begin{cases} 2x + 3y - z = 4 \\ x - 3y + 2z = 0 \\ 3x + 4y + 2z = 5 \end{cases}$$

حل : مطابق دستور کرامر داریم:

$$z = \frac{\Delta z}{\Delta} = \frac{\begin{vmatrix} 2 & 3 & 4 \\ 1 & -3 & 0 \\ 3 & 4 & 5 \end{vmatrix}}{\begin{vmatrix} 2 & 3 & -1 \\ 1 & -3 & 2 \\ 3 & 4 & 2 \end{vmatrix}} = \frac{7}{-29}$$

مقادیر x ، y را به عنوان تمرین محاسبه کنید. $\left(x = \frac{41}{29}, y = \frac{9}{29}\right)$

مثال: دستگاه معادلات زیر را در نظر بگیرید. مقدار k ، m را طوری پیدا کنید تا این دستگاه دارای بی‌نهایت دسته جواب باشد.

$$\begin{cases} 2x - y + 3z = k \\ 3x + 2y + z = 3 \\ mx - y + 10z = 6 \end{cases}$$

حل : می‌دانیم برای آنکه دستگاه دارای بی‌نهایت دسته جواب باشد باید $\Delta = 0$ و $(\Delta z = \Delta y = \Delta x = 0)$ باشند.

پس می‌نویسیم:

$$\Delta = \begin{vmatrix} 2 & -1 & 3 \\ 3 & 2 & 1 \\ m & -1 & 10 \end{vmatrix} = 0$$

$$2(20+1) + 1(30-m) + 3(-3-2m) = 0 \Rightarrow 7m = 61 \Rightarrow m = \frac{61}{7}$$

$$\Delta x = \begin{vmatrix} k & -1 & 3 \\ 3 & 2 & 1 \\ 6 & -1 & 10 \end{vmatrix} = 0 \Rightarrow k(20+1) + 1(30-6) + 3(-3-12) = 0 \Rightarrow 21k = 21 \Rightarrow k = 1$$

فصل چهارم

حد و پیوستگی

تعریف حد

گوییم تابع $f(x)$ در نقطه $x = a$ دارای حدی معادل l است، هرگاه استلزام منطقی زیر برقرار باشد.

$$\forall \varepsilon > 0 \quad \exists \delta > 0 ; 0 < |x - a| < \delta \Rightarrow |f(x) - L| < \varepsilon \Leftrightarrow \lim_{x \rightarrow a} f(x) = L$$

به همین ترتیب، می‌توان استلزام‌های منطقی برای حدود چپ و راست بیان نمود:

برای حد راست داریم:

$$\forall \varepsilon > 0 \quad \exists \delta > 0 ; 0 < x - a < \delta \Rightarrow |f(x) - L| < \varepsilon \Leftrightarrow \lim_{x \rightarrow a^+} f(x) = L$$

$$\forall \varepsilon > 0 \quad \exists \delta > 0 ; 0 < a - x < \delta \Rightarrow |f(x) - L| < \varepsilon \Leftrightarrow \lim_{x \rightarrow a^-} f(x) = L$$

مثال: اگر به ازای هر x که $|x - 1| < \delta$ آنگاه $\left| \frac{2x^2 + x}{x} - 3 \right| < \frac{1}{5}$ در این صورت مقدار δ را به دست آورید؟

حل:

$$\left| \frac{2x^2 + x}{x} - 3 \right| < \frac{1}{5} \Rightarrow \left| \frac{2x^2 + x - 3x}{x} \right| < \frac{1}{5} \Rightarrow \left| \frac{2x^2 - 2x}{x} \right| < \frac{1}{5} \Rightarrow 2|x - 1| < \frac{1}{5} \Rightarrow |x - 1| < \frac{1}{10}$$

$$\delta = \frac{1}{10}$$

بنابراین داریم:

توجه: می‌گویند تابع $f(x)$ در نقطه x_0 دارای حد است هرگاه، در این نقطه دارای حد چپ و راست باشد و این دو حد با هم برابر

$$\lim_{x \rightarrow x_0^+} f(x) = \lim_{x \rightarrow x_0^-} f(x)$$

باشند یعنی:

$$\lim_{x \rightarrow x_0} f(x) = f(x_0)$$

می‌گویند تابع $f(x)$ در نقطه x_0 پیوسته است هرگاه:

مثال: پیوستگی تابع زیر را در نقطه $x=0$ بررسی کنید.

$$f(x) = \begin{cases} \frac{[x^2]}{x} & x < 0 \\ \cos \frac{\pi}{2}(x+1) & x > 0 \\ 0 & x = 0 \end{cases}$$

حل:

$$\lim_{x \rightarrow 0^-} f(x) = \lim_{x \rightarrow 0^-} \frac{[x^2]}{x} = \frac{[\text{عدد مثبت بی نهایت کوچک}]}{-\varepsilon} = \frac{\text{صفر واقعی}}{-\varepsilon} = 0$$

(با توجه به این نکته که می دانیم: اگر $\lim_{x \rightarrow a} f(x) = \text{صفر واقعی}$ باشد و $\lim_{x \rightarrow a} f(x) = \pm\infty$ باشد بدون هیچ ابهامی داریم:

$$\lim_{x \rightarrow a} f(x)g(x) = 0$$

$$\lim_{x \rightarrow 0^+} f(x) = \lim_{x \rightarrow 0^+} \left[\cos \frac{\pi}{2}(x+1) \right] = \left[\cos \frac{\pi^+}{2} \right] = [\text{عدد منفی بی نهایت کوچک}] = -1$$

$$f(0) = 0$$

لذا تابع $f(x)$ در نقطه $x=0$ پیوسته نمی باشد ولی از چپ پیوستگی دارد.

مثال: پیوستگی تابع زیر را در نقطه $x=0$ بررسی کنید.

$$f(x) = \begin{cases} \frac{x-|x|}{x} & x \neq 0 \\ 2 & x = 0 \end{cases}$$

حل:

$$\lim_{x \rightarrow 0^+} f(x) = \lim_{x \rightarrow 0^+} \frac{x-x}{x} = \frac{\text{صفر واقعی}}{+\varepsilon} = 0$$

$$\lim_{x \rightarrow 0^-} f(x) = \lim_{x \rightarrow 0^-} \frac{x+x}{x} = \lim_{x \rightarrow 0^-} \frac{2x}{x} = 2$$

$$f(0) = 2$$

بنابراین تابع موردنظر در نقطه $x=0$ پیوستگی چپ دارد.

مثال: تابع $f(x) = [x-1] + [-x]$ به ازای کدام مقادیر x ناپیوسته است؟

(ب) فقط در صفر

(الف) تمام مقادیر x به جز صفر

(د) تمام مقادیر صحیح

(ج) تمام مقادیر صحیح و مثبت

حل: با توجه به آن که:

$$[x] + [-x] = \begin{cases} -1 & x \notin \mathbb{Z} \\ 0 & x \in \mathbb{Z} \end{cases}$$

لذا چنانچه x_0 یک عدد صحیح باشد داریم:

$$\lim_{x \rightarrow x_0} = \lim_{x \rightarrow x_0} ([x] + [-x]) - 1 = -2$$

$$f(x_0) = [x_0] + [-x_0] - 1 = -1$$

یعنی تابع $f(x)$ در تمام مقادیر صحیح x ناپیوسته می باشد.

مثال: نقاط گسستگی تابع $f(x) = \frac{1}{1 - [x]}$ را بیابید.

حل: بدیهی است که صفرهای مخرج کسر، نقاط گسستگی تابع فوق می باشند. داریم:

$$1 - [x] = 0 \Rightarrow [x] = 1 \Rightarrow 1 \leq x < 2 \Rightarrow \begin{cases} 1 \leq x < 2 \\ -2 < x \leq -1 \end{cases}$$

مثال: حاصل حد چپ و حد راست تابع $f(x) = \frac{[x^2 - 4]}{[x]^2 - 4}$ را در مجاورت نقطه $x = 2$ به دست آورید.

حل: می دانیم:

$$\lim_{x \rightarrow 2^+} f(x) = \lim_{x \rightarrow 2^+} \frac{[x^2 - 4]}{[x]^2 - 4} = \frac{[\varepsilon^+]}{\text{صفر واقعی}} = \frac{\text{صفر واقعی}}{\text{صفر واقعی}}$$

دقت کنید صورت و مخرج هر دو صفر واقعی هستند، لذا به واسطه صفر شدن مخرج، حد راست اساساً موجود نمی باشد.

در بررسی حد چپ داریم:

$$\lim_{x \rightarrow 2^-} f(x) = \lim_{x \rightarrow 2^-} \frac{[x^2 - 4]}{[x]^2 - 4} = \frac{-1}{1 - 4} = +\frac{1}{3}$$

مثال: چه تعدادی از نقاط ناپیوستگی تابع $y = [\sin^2 x]$ در بازه $(-2, 2)$ قرار دارد؟

$$\forall x \in \mathbb{R}, 0 \leq \sin^2 x \leq 1$$

حل: می دانیم:

بنابراین تابع موردنظر تنها در نقاطی که $\sin^2 x$ معادل یک باشد ناپیوسته خواهد بود، زیرا در بقیه نقاط که $\sin^2 x$ مخالف یک است، مقدار تابع y برابر صفر می باشد.

لذا نقاط ناپیوستگی تابع عبارت اند از:

$$\sin^2 x = 1 \Rightarrow x = k\pi \pm \frac{\pi}{2} = \pm \frac{\pi}{2}, \pm \frac{3\pi}{2}, \dots$$

و ملاحظه می شود که تنها دو نقطه یعنی نقاط $\pm \frac{\pi}{2}$ در بازه مذکور قرار دارند.

مثال: تابع $f(x) = \begin{cases} \frac{2}{x-5} & x \in \mathbb{Q} \\ \frac{x}{2x^2+1} & x \notin \mathbb{Q} \end{cases}$ در چند نقطه گویا پیوسته است؟

حل: چنانچه تابع مزبور در عدد گویایی مثل x_0 پیوسته باشد باید داشته باشیم:

$$\frac{2}{x_0 - 5} = \frac{x_0}{2x_0^2 + 1} \Rightarrow 3x_0^2 + 5x_0 + 2 = 0 \Rightarrow x_0 = -1, -\frac{2}{3}$$

پس ملاحظه می‌شود تابع مزبور در 2 نقطه گویا پیوسته می‌باشد.

تذکر: اگر توابع f, g در نقطه $x = a$ پیوسته باشند، مجموع، تفاضل، ضرب و تقسیم آنها (در صورت تعریف شدن) پیوسته است.

تذکر: اگر یکی از توابع f و g در $x = a$ ناپیوسته باشد، مجموع و تفاضل آنها ناپیوسته ولی ضرب و تقسیم آنها ممکن است پیوسته باشد.

تذکر: اگر توابع f, g در نقطه $x = a$ ناپیوسته باشند، در مورد مجموع، تفاضل، ضرب و تقسیم آنها اظهار نظر قطعی نمی‌توان کرد.

تذکر: تابع f به معادله $f(x) = \frac{ax^n + bx^{n-1} + \dots}{a'x^m + b'x^{m-1} + \dots}$ ، اگر مخرج ریشه نداشته باشد در R پیوسته است.

تذکر: تابع $f(x) = [ax]$ اگر $a > 0$ باشد در نقاطی که ax عدد صحیح باشد، فقط پیوستگی راست و اگر $a < 0$ باشد در نقاطی که ax عدد صحیح است، فقط پیوستگی چپ دارد.

مثال: در تابع $f(x) = 2\operatorname{sgn}(x^2) - 3\operatorname{sgn}(x)$ مجموع حد چپ و راست تابع در نقطه $x = 0$ کدام است؟

الف) 0

ب) 2

ج) 4

د) 6

حل: می‌دانیم که در مورد تابع $\operatorname{sgn}(x)$ داریم:

$$\operatorname{sgn}(x) = \begin{cases} 1 & x > 0 \\ 0 & x = 0 \\ -1 & x < 0 \end{cases}$$

و لذا داریم:

$$\lim_{x \rightarrow 0^+} f(x) = 2(1) - 3(1) = -1$$

$$\lim_{x \rightarrow 0^-} f(x) = 2(1) - 3(-1) = 5$$

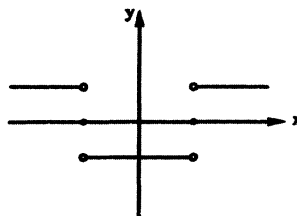
پس جواب مورد نظر $-1 + 5 = 4$ خواهد بود.

مثال: مجموعه نقاط ناپیوستگی تابع $f(x) = \operatorname{sgn}(x^2 - 1)$ را بیابید.

حل: با توجه به تعریف تابع $f(x) = \operatorname{sgn}(u(x))$ ، این تابع زمانی ناپیوسته می‌شود که $u(x) = 0$ شود. بنابراین داریم:

$$x^2 - 1 = 0 \rightarrow x = \pm 1$$

$$\begin{cases} \lim_{x \rightarrow 1^+} f(x) = +1 \\ \lim_{x \rightarrow 1^-} f(x) = -1 \\ f(1) = 0 \end{cases} \quad \begin{cases} \lim_{x \rightarrow -1^+} f(x) = -1 \\ \lim_{x \rightarrow -1^-} f(x) = +1 \\ f(-1) = 0 \end{cases}$$



شکل تابع به صورت زیر است:

قاعده هوپیتال:

هرگاه در محاسبه حد $I = \lim_{x \rightarrow x_0} \frac{f(x)}{g(x)}$ به یکی از صور مبهم $\frac{0}{0}$ یا $\frac{\infty}{\infty}$ برخورد کنیم، می‌توان حاصل حد را به صورت زیر به دست آورد:

$$I = \lim_{x \rightarrow x_0} \frac{f(x)}{g(x)} = \lim_{x \rightarrow x_0} \frac{f'(x)}{g'(x)}$$

چنانچه مجدداً به حالت مبهم برخورد کنیم، می‌توان مجدداً از قاعده هوپیتال استفاده کرد تا رفع ابهام نهایی حاصل گردد.

یادآوری: در این قسمت چند نمونه از فرمولهای مشتق که در استفاده از قاعده هوپیتال مفید می‌باشند مطرح می‌شود.

مشتق	تابع
$y' = nu' u^{n-1}$	$y = u^n$
$y' = u' a^u \ln a$	$y = a^u$
$y' = \frac{u'}{u} \frac{1}{\ln a}$	$y = \log_a u$
$y' = u' \cos u$	$y = \sin u$
$y' = -u' \sin u$	$y = \cos u$
$y' = u' (1 + \tan^2 u)$	$y = \tan u$
$y' = \frac{u'}{\sqrt{1-u^2}}$	$y = \text{Arc sin } u$
$y' = \frac{-u'}{\sqrt{1-u^2}}$	$y = \text{Arc cos } u$
$y' = \frac{u'}{1+u^2}$	$y = \text{Arc tan } u$
$y' = u' \cosh u$	$y = \sinh u$
$y' = u' \sinh u$	$y = \cosh u$
$y' = u' (1 - \tanh^2 u)$	$y = \tanh u$

مثال: حاصل حد زیر را به دست آورید.

$$I = \lim_{x \rightarrow 1} \frac{\ln(x^2 + x - 1)}{xe^x - e}$$

حل:

$$I = \frac{\ln(1+1-1)}{1e^1 - e} = \frac{0}{0} \quad \text{مبهم}$$

$$\xrightarrow{H} I = \lim_{x \rightarrow 1} \frac{\frac{2x+1}{x^2+x-1}}{e^x + xe^x} = \frac{\frac{3}{1}}{e+e} = \frac{3}{2e}$$

مثال: حاصل $\lim_{x \rightarrow 0} \frac{k^{e^x} - k}{k^x - 1}$ را با شرط ($k \neq 1, k > 0$) به دست آورید.

حل:

$$I = \lim_{x \rightarrow 0} \frac{k^{e^x} - k}{k^x - 1} = \frac{0}{0} \text{ مبهم} \xrightarrow{H} I = \lim_{x \rightarrow 0} \frac{e^x k^{e^x} \ln k}{k^x \ln k} = k$$

مثال: حاصل $\lim_{x \rightarrow 0} \frac{\cos x^2 - \cosh x^2}{x^4}$ را به دست آورید.

$$I = \lim_{x \rightarrow 0} \frac{\cos x^2 - \cosh x^2}{x^4} = \frac{0}{0} \text{ مبهم} \xrightarrow{H} I = \lim_{x \rightarrow 0} \frac{-2x \sin x^2 - 2x \sinh x^2}{4x^3} = \lim_{x \rightarrow 0} \frac{\sin x^2 + \sinh x^2}{-2x^2}$$

با توجه به هم‌ارزی های $\sin u \sim u$, $\sinh u \sim u$ داریم:

$$I = \lim_{x \rightarrow 0} \frac{x^2 + x^2}{-2x^2} = -1$$

مثال: حاصل حد $\lim_{x \rightarrow 1^-} \frac{\text{Arc cos } \sqrt{x}}{\sqrt{1-x^2}}$ را به دست آورید.

حل:

$$I = \lim_{x \rightarrow 1^-} \frac{\text{Arc cos } \sqrt{x}}{\sqrt{1-x^2}} = \frac{0}{0} \text{ مبهم} \xrightarrow{H}$$

$$I = \lim_{x \rightarrow 1^-} \frac{\frac{-1}{2\sqrt{x}}}{\frac{-2x}{2\sqrt{1-x^2}}} = \lim_{x \rightarrow 1^-} \frac{\sqrt{1-x^2}}{2x\sqrt{x}} = \lim_{x \rightarrow 1^-} \frac{\sqrt{1+x}}{2x\sqrt{x}} = \frac{\sqrt{2}}{2}$$

مثال: اگر $\lim_{x \rightarrow -3} \frac{ax+3a}{1-\sqrt{5x+16}} = 2$ باشد. مطلوب است محاسبه a .

حل: حد مذکور باید مبهم به صورت $\frac{0}{0}$ باشد با استفاده از قضیه هوییتال به دست می‌آید:

$$I = \lim_{x \rightarrow -3} \frac{ax+3a}{1-\sqrt{5x+16}} = \frac{0}{0} \text{ مبهم} \xrightarrow{H} I = \lim_{x \rightarrow -3} \frac{a}{-\frac{5}{2\sqrt{5x+16}}} = \frac{a}{-\frac{5}{2}} = \frac{-2a}{5}$$

اما از آنجا که طبق فرض داریم $I = 2$ لذا نتیجه می‌شود که $a = -5$.

مثال: حاصل حد $\lim_{x \rightarrow 3^+} \frac{x^3 - [x^3]}{x-3}$ را به دست آورید.

حل: وقتی $x \rightarrow 3^+$ داریم $[x^3] = 27$ لذا هدف محاسبه حد زیر خواهد بود:

$$I = \lim_{x \rightarrow 3^+} \frac{x^3 - 27}{x-3} = \frac{0}{0} \text{ مبهم} \xrightarrow{H} I = \lim_{x \rightarrow 3^+} \frac{3x^2}{1} = 27$$

قاعده مشتق گیری از انتگرال (قضیه لایبنیتز):

یادآوری: فرض کنید $\alpha(x)$, $\beta(x)$ دو تابع دلخواه از x باشند. چنانچه داشته باشیم:

$$f(x) = \int_{\alpha(x)}^{\beta(x)} h(x, t) dt$$

می توان ثابت کرد:

$$\frac{df}{dx} = \int_{\alpha(x)}^{\beta(x)} \left(\frac{\partial}{\partial x} h(x, t) \right) dt + \beta'(x) \cdot h(x, \beta(x)) - \alpha'(x) \cdot h(x, \alpha(x))$$

مثال: مطلوب است محاسبه حد زیر:

$$I = \lim_{x \rightarrow 1} \frac{\int_x^{x^2} \frac{e^t}{t} dt}{\int_2^{x+1} e^{t^2} dt}$$

$$I = \lim_{x \rightarrow 1} \frac{\int_1^1 \frac{e^t}{t} dt}{\int_2^2 e^{t^2} dt} = \frac{0}{0} \quad \text{مثال: مبهم}$$

$$H: I = \lim_{x \rightarrow 1} \frac{0 + 2x \cdot \frac{e^{x^2}}{x^2} - \frac{e^x}{x}}{0 + e^{(x+1)^2} - 0} = \frac{2e^1 - e}{e^4} = e^{-3}$$

مثال: مقادیر a, b را طوری پیدا کنید که داشته باشیم:

$$I = \lim_{x \rightarrow 0} \frac{1}{bx - \sin x} \int_0^x \frac{t^2}{\sqrt{a+t}} dt = 1$$

حل:

$$\lim_{x \rightarrow 0} I = \frac{0}{0} \quad \text{مبهم} \xrightarrow{H} \lim_{x \rightarrow 0} \frac{\frac{x^2}{\sqrt{a+x}}}{b - \cos x} = \frac{0}{b-1}$$

چون قرار است حاصل برابر 1 شود پس باید:

$$b-1=0 \rightarrow b=1$$

$$\lim_{x \rightarrow 0} \frac{\frac{x^2}{\sqrt{a+x}}}{1 - \cos x} = \lim_{x \rightarrow 0} \frac{1}{\sqrt{a+x}} \times \frac{x^2}{1 - \cos x} \xrightarrow{H} \lim_{x \rightarrow 0} \frac{1}{\sqrt{a}} \times \frac{2x}{\sin x} \xrightarrow{\text{هم‌ارزی}} \frac{1}{\sqrt{a}} \times \frac{2}{1} = 1 \rightarrow a = 4$$

مشتق گیری از تابع مرکب:

$$y = f(g(x)) \Rightarrow y' = g'(x) \cdot f'(g(x))$$

اگر $f(x), g(x)$ دو تابع دلخواه از x باشند می توان نشان داد:

مثال: مطلوب است محاسبه حد زیر:

$$I = \lim_{x \rightarrow 1} \frac{f(x^2 + x + 1) + f(2x + 1) - 2f(3)}{x^3 - 1}$$

حل:

$$I = \frac{f(3) + f(3) - 2f(3)}{1-1} = \frac{0}{0} \text{ مبهم} \xrightarrow{H}$$

$$I = \lim_{x \rightarrow 1} \frac{(2x+1) f'(x^2+x+1) + 2 f'(2x+1)}{3x^2} = \frac{3f'(3) + 2f'(3)}{3} = \frac{5}{3} f'(3)$$

مشتق‌گیری از $y = f(x)^{g(x)}$:

یادآوری: اگر $f(x), g(x)$ دو تابع از x باشند و داشته باشیم $y = f(x)^{g(x)}$ ، برای محاسبه y' می‌توان نوشت:

$$\ln y = g(x) \ln(f(x))$$

$$\frac{y'}{y} = g'(x) \cdot \ln(f(x)) + g(x) \cdot \frac{f'(x)}{f(x)}$$

$$y' = \left(g'(x) \cdot \ln f(x) + g(x) \frac{f'(x)}{f(x)} \right) \cdot f(x)^{g(x)}$$

مثال: مطلوب است محاسبه حد زیر:

$$I = \lim_{x \rightarrow 1} \frac{(x+1)^{x^2} - 2}{x^2 - 1}$$

حل:

$$I = \frac{(1+1)^1 - 2}{1^2 - 1} = \frac{0}{0} \text{ مبهم}$$

ابتدا مشتق تابع $y = (x+1)^{x^2}$ را حساب می‌کنیم و بعد با استفاده قاعده هوییتال به رفع ابهام حد مورد نظر می‌پردازیم.

با فرض $y = (x+1)^{x^2}$ داریم:

$$\ln y = x^2 \ln(x+1)$$

$$\frac{y'}{y} = 2x \ln(x+1) + x^2 \frac{1}{x+1}$$

$$I = \lim_{x \rightarrow 1} \frac{\left(2x \cdot \ln(x+1) + x^2 \frac{1}{x+1} \right) (x+1)^{x^2}}{2x} = \frac{\left(2 \ln 2 + \frac{1}{2} \right) (2)^1}{2(1)} = 2 \ln 2 + \frac{1}{2}$$

مثال: مطلوب است محاسبه حد زیر $I = \lim_{x \rightarrow +\infty} (\cosh x)^{\frac{1}{x}}$:

حل: با فرض $y = (\cosh x)^{\frac{1}{x}}$ داریم:

$$\ln y = \frac{1}{x} \ln(\cosh x) \Rightarrow \lim_{x \rightarrow \infty} (\ln y) = \lim_{x \rightarrow \infty} \left(\frac{1}{x} \ln(\cosh x) \right) = \frac{\infty}{\infty} \text{ مبهم}$$

با توجه به اینکه می‌دانیم $\cosh x = \frac{e^x + e^{-x}}{2}$ و $\sinh x = \frac{e^x - e^{-x}}{2}$ داریم:

$$\xrightarrow{H} \lim_{x \rightarrow \infty} \frac{\sinh x}{\cosh x} = \lim_{x \rightarrow \infty} \frac{e^x - e^{-x}}{e^x + e^{-x}} = \lim_{x \rightarrow \infty} \frac{e^x}{e^x} = 1 \Rightarrow y = e$$

$$I = \lim_{x \rightarrow 0^+} (\sin x)^{\frac{1}{\ln x}}$$

مثال: مطلوب است محاسبه حد زیر:

حل: با فرض $y = (\sin x)^{\frac{1}{\ln x}}$ داریم:

$$\ln y = \frac{1}{\ln x} \ln \sin x \Rightarrow \lim_{x \rightarrow 0} (\ln y) = \lim_{x \rightarrow 0} \left(\frac{\ln(\sin x)}{\ln(x)} \right) = \frac{\infty}{\infty} \xrightarrow{H} \text{مبهم}$$

با توجه به هم‌ارزی $\sin u \sim u$ $u \rightarrow 0$

$$= \lim_{x \rightarrow 0} \frac{\frac{\cos x}{\sin x}}{\frac{1}{x}} = \lim_{x \rightarrow 0} \frac{x \cos x}{\sin x} = \lim_{x \rightarrow 0} \frac{x \cos x}{x} = 1 \Rightarrow y = e$$

مثال: مطلوب است محاسبه حد زیر:

$$I = \lim_{x \rightarrow \frac{\pi}{4}} \frac{(\tan x)^{\cos x} - 1}{x - \frac{\pi}{4}}$$

حل:

$$I = \frac{\frac{\sqrt{2}}{2} - 1}{\frac{\pi}{4} - \frac{\pi}{4}} = \frac{0}{0} \text{ مبهم}$$

با فرض $y = \tan x^{\cos x}$ داریم:

$$\xrightarrow{H} I = \lim_{x \rightarrow \frac{\pi}{4}} \frac{y'}{1}$$

$$y = \tan x^{\cos x} \rightarrow \ln y = \cos x \ln(\tan x) \rightarrow \text{مشتق} \rightarrow \frac{y'}{y} = (-\sin x)(\ln(\tan x)) + (\cos x) \left(\frac{1 + \tan^2 x}{\tan x} \right)$$

در $x = \frac{\pi}{4}$ داریم:

$$\frac{y'(\frac{\pi}{4})}{y(\frac{\pi}{4})} = -\frac{\sqrt{2}}{2} \cdot \ln(1) + \frac{\sqrt{2}}{2} \cdot \frac{1+1}{1} \rightarrow y'(\frac{\pi}{4}) = \sqrt{2}$$

$$I = \lim_{x \rightarrow \frac{\pi}{4}} y' = \sqrt{2}$$

نکته: بسیاری از حدهای مبهم به فرم $\infty - \infty$ یا $0 \times \infty$ را می‌توان به سادگی به یکی از حالات $\frac{0}{0}$ یا $\frac{\infty}{\infty}$ تبدیل کرد و با اعمال قاعده

هوپیتال به رفع ابهام آنها پرداخت.

$$I = \lim_{x \rightarrow 0} \left(\frac{1}{x} - \cot x \right)$$

مثال: مطلوب است محاسبه حد زیر:

حل:

$$I = \lim_{x \rightarrow 0} \left(\frac{1}{x} - \cot x \right) = \lim_{x \rightarrow 0} \left(\frac{1}{x} - \frac{1}{\tan x} \right) = \infty - \infty \quad \text{مبهم}$$

با استفاده از قاعده هوپیتال و هم‌ارزی $\left(\tan u \sim u \right)_{u \rightarrow 0}$ داریم:

$$I = \lim_{x \rightarrow 0} \frac{\tan x - x}{x \tan x} = \lim_{x \rightarrow 0} \frac{\tan x - x}{x^2} \xrightarrow{H} I = \lim_{x \rightarrow 0} \frac{1 + \tan^2 x - 1}{2x} = \lim_{x \rightarrow 0} \frac{x^2}{2x} = 0$$

مثال: مطلوب است محاسبه حد زیر:

$$I = \lim_{x \rightarrow 1} \left(\frac{1}{\ln x} - \frac{1}{x-1} \right)$$

حل: می‌توان نوشت:

$$I = \lim_{x \rightarrow 1} \frac{x-1-\ln x}{(x-1)\ln x} = \frac{0}{0} \quad \text{مبهم} \xrightarrow{H} \lim_{x \rightarrow 1} \frac{1-\frac{1}{x}}{\ln x + (x-1) \times \frac{1}{x}} = \frac{0}{0} \quad \text{مبهم}$$

$$= \lim_{x \rightarrow 1} \frac{x-1}{x \ln x + x - 1} \xrightarrow{H} = \lim_{x \rightarrow 1} \frac{1}{\ln x + 1 + 1} = \frac{1}{2}$$

مثال: مطلوب است محاسبه حد زیر:

$$I = \lim_{x \rightarrow +\infty} \sqrt{2n+1} (\sqrt{n+2} - \sqrt{n+3})$$

حل: مبهم $I = \infty - \infty$

$$\sqrt[n]{n+a} \sim \sqrt[n]{n}$$

با توجه به این هم‌ارزی که داریم:

$$I = \lim_{x \rightarrow +\infty} \sqrt{2n+1} (\sqrt{n+2} - \sqrt{n+3}) \cdot \frac{\sqrt{n+2} + \sqrt{n+3}}{\sqrt{n+2} + \sqrt{n+3}} = \lim_{x \rightarrow +\infty} \sqrt{2n+1} \cdot \frac{(n+2) - (n+3)}{\sqrt{n+2} + \sqrt{n+3}}$$

$$= \lim_{x \rightarrow +\infty} \frac{(\sqrt{2n+1}) \times (-1)}{\sqrt{n+2} + \sqrt{n+3}} \quad \text{هم‌ارزی} \Rightarrow \lim_{x \rightarrow +\infty} \frac{(\sqrt{2n}) \times (-1)}{\sqrt{n} + \sqrt{n}} = \lim_{x \rightarrow +\infty} \frac{-\sqrt{2} \sqrt{n}}{2\sqrt{n}} = -\frac{\sqrt{2}}{2}$$

مثال: معادله دیفرانسیل زیر را در نظر بگیرید. می‌دانیم به ازای $x=0$ داریم $y=0$ مطلوب است حاصل حد:

$$y' = \frac{x}{x^2 y + y^3}$$

$$I = \lim_{x \rightarrow 0} \frac{x^2}{y^2}$$

حل:

$$I = \lim_{x \rightarrow 0, y \rightarrow 0} \frac{x^2}{y^2} = \frac{0}{0} \quad \text{مبهم} \xrightarrow{\text{هوپیتال}} I = \lim_{x \rightarrow 0, y \rightarrow 0} \frac{2x}{2y y'} = \lim_{x \rightarrow 0, y \rightarrow 0} \frac{x}{y \times \frac{x}{x^2 y + y^3}}$$

$$= \lim_{x \rightarrow 0, y \rightarrow 0} \frac{x}{\frac{x}{x^2 + y^2}} = \lim_{x \rightarrow 0, y \rightarrow 0} x^2 + y^2 = 0$$

هم‌ارزی‌ها

تعریف هم‌ارزی: هرگاه $\lim_{x \rightarrow x_0} f(x) = 0$, $\lim_{x \rightarrow 0} g(x) = 0$ و نیز داشته باشیم:

$$\lim_{x \rightarrow x_0} \frac{f(x)}{g(x)} = 1 \quad \text{آنگاه می‌گوییم دو تابع } f(x), g(x) \text{ در نقطه } x_0 \text{ هم‌ارزند و می‌نویسیم:}$$

$$\lim_{x \rightarrow x_0} f(x) \sim \lim_{x \rightarrow x_0} g(x)$$

به بیان ساده‌تر زمانی که x به سمت نقطه x_0 میل می‌کند ($x \rightarrow x_0$) می‌توان از تابع $g(x)$ بجای تابع $f(x)$ استفاده کرد و مساله را حل نمود (و یا می‌توان از $f(x)$ بجای $g(x)$ استفاده نمود). البته در استفاده از قاعده هم‌ارزی ذکر این نکته ضروری است، که هرگاه در مساله‌ای از یک قاعده هم‌ارزی استفاده کردیم و هم‌ارز عبارتی را نوشتیم، چنانچه در کنار این عبارت دقیقاً قرینه آن وجود داشته باشد، استفاده از قاعده هم‌ارزی حاصل در مساله مجاز نمی‌باشد.
در ادامه تعدادی از قضایای هم‌ارزی که در حل مسائل کمک زیادی می‌کنند معرفی می‌گردد.

هم‌ارزی‌های مثلثاتی:

هرگاه $A(x) \rightarrow 0$ آنگاه می‌توان نوشت:

$$\begin{aligned} \sin A(x) &\sim A(x) \\ \tan A(x) &\sim A(x) \\ \sin^{-1} A(x) &\sim A(x) \\ \tan^{-1} A(x) &\sim A(x) \end{aligned}$$

وقتی $A(x) \rightarrow 0$ میل می‌کند داریم:

$$\begin{aligned} \sin A(x) &\sim A(x) - \frac{A^3(x)}{6} \\ \tan A(x) &\sim A(x) + \frac{A^3(x)}{3} \\ \text{Arc sin } A(x) &\sim A(x) + \frac{A^3(x)}{6} \\ \text{Arc tan } A(x) &\sim A(x) + \frac{A^3(x)}{3} \\ \cos(A(x)) &\sim 1 - \frac{A^2(x)}{2} \end{aligned}$$

هم‌ارزی جزء صحیح‌ها:

در مورد جزء صحیح‌ها وقتی که $A \rightarrow \infty$ میل می‌کند داریم:

$$[A] \sim A$$

رابطه برنولی: روابط زیر، به روابط برنولی موسوم‌اند، وقتی $A(x) \rightarrow 0$ میل می‌کند داریم:

$$\begin{aligned} \sqrt[m]{1+A(x)} &\sim 1 + \frac{1}{m} A(x) \\ (1+A(x))^m &\sim 1 + mA(x) \end{aligned}$$

هم‌ارزی نیوتن:

رابطه زیر به هم‌ارزی نیوتن موسوم است. وقتی $x \rightarrow \infty$ میل می‌کند داریم:

$$\begin{aligned} \sqrt[p]{ax^p + bx^{p-1} + \dots} &\sim \sqrt[p]{a} \left| x + \frac{b}{pa} \right| \quad \text{اگر } p \text{ زوج باشد} \\ \sqrt[p]{ax^p + bx^{p-1} + \dots} &\sim \sqrt[p]{a} \left(x + \frac{b}{pa} \right) \quad \text{اگر } p \text{ فرد باشد} \end{aligned}$$

هم‌ارزی‌های جبری:

وقتی $x \rightarrow 0$ هر کثیرالجمله‌ای از x ، هم‌ارز با کوچکترین درجه x در آن جمله می‌باشد.
برای مثال:

$$x^5 - x^4 - x^2 \sim -x^2$$

$$x \rightarrow 0$$

وقتی $x \rightarrow +\infty$ هر کثیرالجمله‌ای از x ، هم‌ارز با بزرگترین درجه x در آن جمله است.
برای مثال:

$$x^5 - x^4 - x^2 \sim x^5$$

$$x \rightarrow +\infty$$

مثال: مقادیر حدهای زیر را بیابید.

$$1) \lim_{x \rightarrow 0} \frac{3x + \tan 2x}{2x - \tan^{-1} x} = \frac{0}{0} \rightarrow \lim_{x \rightarrow 0} \frac{3x + 2x}{2x - x} = 5$$

$$2) \lim_{x \rightarrow 0} \frac{x - \tan x}{x^3} = \frac{0}{0} \xrightarrow{\text{هم‌ارزی}} \lim_{x \rightarrow 0} \frac{x - x}{x^3}$$

دقت شود که نمی‌توان از قاعده هم‌ارزی $\tan x \sim x$ استفاده کرد. چون طبق نکته بالا بعد از نوشتن هم‌ارزی، قرینه آن دقیقاً در کنار آن وجود دارد.

راه‌حل اول: از قاعده هوییتال استفاده می‌کنیم:

$$I = \lim_{x \rightarrow 0} \frac{x - \tan x}{x^3} \stackrel{H}{=} \lim_{x \rightarrow 0} \frac{1 - (1 + \tan^2 x)}{3x^2} = \lim_{x \rightarrow 0} \frac{-\tan^2 x}{3x^2} = \lim_{x \rightarrow 0} \frac{-x^2}{3x^2} = -\frac{1}{3}$$

راه حل دوم: راه‌حل ساده‌تر استفاده از هم‌ارزی $\tan x - x \sim \frac{x^3}{3}$ (وقتی $x \rightarrow 0$ میل می‌کند) می‌باشد.

$$I = \lim_{x \rightarrow 0} \frac{x - \tan x}{x^3} = \lim_{x \rightarrow 0} \frac{\tan x - x}{-x^3} \xrightarrow{\text{هم‌ارزی}} I = \lim_{x \rightarrow 0} \frac{-\frac{x^3}{3}}{x^3} = -\frac{1}{3}$$

$$3) I = \lim_{x \rightarrow 0} (\sin 2x - x) \cdot \left[\frac{\sqrt{3}}{x} \right]$$

طبق قاعده هم‌ارزی $[f(x)] \sim f(x)$ داریم:

$$\text{هم‌ارزی} \rightarrow L = \lim_{x \rightarrow 0} (2x - x) \times \left(\frac{\sqrt{3}}{x} \right) = \sqrt{3}$$

$$4) \lim_{x \rightarrow 0} \left(\frac{1}{x^2} - \frac{1}{\sin^2 x} \right) = \lim_{x \rightarrow 0} \frac{\sin^2 x - x^2}{x^2 \cdot \sin^2 x} = \frac{0}{0} \text{ مبهم}$$

$$= \lim_{x \rightarrow 0} \frac{(\sin x - x)(\sin x + x)}{x^2 \sin^2 x} \xrightarrow{\text{هم‌ارزی}} \lim_{x \rightarrow 0} \frac{(x+x)(\sin x - x)}{x^2 \times x^2} = \frac{(2x) \left(\frac{-x^3}{6} \right)}{x^4} = -\frac{1}{3}$$

$$5) \lim_{x \rightarrow \infty} (x - \sqrt{x^2 + x}) = \infty - \infty \text{ مبهم}$$

طبق قاعده هم‌ارزی نیوتن داریم:

$$\longrightarrow \lim_{x \rightarrow \infty} \left(x - \left| x + \frac{1}{2} \right| \right) = \lim_{x \rightarrow +\infty} \left(x - \left(x + \frac{1}{2} \right) \right) = -\frac{1}{2}$$

$$6) \lim_{x \rightarrow 0} \frac{x}{\sqrt{1 - \cos x}} = \frac{0}{0} \text{ مبهم}$$

با استفاده از قاعده هم‌ارزی $\left(\left(\frac{1 - \cos x}{x \rightarrow 0} \right) \sim \frac{x^2}{2} \right)$ داریم:

$$\longrightarrow = \lim_{x \rightarrow 0} \frac{x}{\sqrt{\frac{x^2}{2}}} = \lim_{x \rightarrow 0} \frac{x}{\frac{|x|}{\sqrt{2}}}$$

بنابراین باید دو حالت را در نظر گرفت:

$$\left\{ \begin{array}{l} \text{حد راست} = \lim_{x \rightarrow 0^+} \frac{x}{\frac{1}{\sqrt{2}}(x)} = \sqrt{2} \\ \text{حد چپ} = \lim_{x \rightarrow 0^-} \frac{x}{\frac{1}{\sqrt{2}}(-x)} = -\sqrt{2} \end{array} \right.$$

لذا چون حد چپ و راست با هم برابر نیستند، حد مزبور موجود نیست.

$$7) \lim_{x \rightarrow 0} \frac{\sqrt[3]{1+x} - 1}{1 - (1+x)^5} = \frac{0}{0} \text{ مبهم}$$

طبق هم‌ارزی برنولی داریم:

$$\longrightarrow = \lim_{x \rightarrow 0} \frac{1 + \frac{1}{3}x - 1}{1 - (1+5x)} = \frac{\frac{1}{3}x}{-5x} = \frac{-1}{15}$$

$$8) \lim_{n \rightarrow \infty} \frac{1+2+3+\dots+n}{n^2}$$

می‌دانیم که مجموع مقابل یک تصاعد حسابی است. پس می‌توان نوشت:

$$= \lim_{n \rightarrow \infty} \frac{\frac{n(1+n)}{2}}{n^2} = \lim_{n \rightarrow \infty} \frac{n^2 + n}{2n^2} \longrightarrow = \lim_{n \rightarrow \infty} \frac{n^2}{2n^2} = \frac{1}{2}$$

$$9) \lim_{x \rightarrow 0} \frac{1 - \cos(1 - \cos x)}{\text{Arcsin } x^4} = \frac{0}{0} \text{ مبهم}$$

با توجه به قاعده‌های هم‌ارزی $\left(\text{Arcsin } x \sim x \right)_{x \rightarrow 0}$ ، $\left(1 - \cos x \sim \frac{x^2}{2} \right)_{x \rightarrow 0}$ می‌توان نوشت:

$$\lim_{x \rightarrow 0} \frac{1 - \cos\left(\frac{x^2}{2}\right)}{x^4} = \frac{\frac{1}{2}\left(\frac{x^2}{2}\right)^2}{x^4} = \frac{1}{8}$$

مثال: حاصل حد $I = \lim_{x \rightarrow +\infty} \left(\sqrt{x + \sqrt{x + \sqrt{x}}} - \sqrt{x} \right)$ را به دست آورید.

$$I = \lim_{x \rightarrow +\infty} \left(\sqrt{x + \sqrt{x + \sqrt{x}}} - \sqrt{x} \right) \cdot \left(\frac{\sqrt{x + \sqrt{x + \sqrt{x}}} + \sqrt{x}}{\sqrt{x + \sqrt{x + \sqrt{x}}} + \sqrt{x}} \right) = \lim_{x \rightarrow +\infty} \frac{x + \sqrt{x + \sqrt{x}} - x}{\sqrt{x + \sqrt{x + \sqrt{x}}} + \sqrt{x}}$$

با استفاده از قاعده هم‌ارزی می‌توان نوشت:

$$I = \lim_{x \rightarrow +\infty} \frac{\sqrt{x}}{\sqrt{x} + \sqrt{x}} = \frac{1}{2}$$

نکته: مرتبه بی‌نهایت:

در محاسبه بسیاری از حدها دانستن مرتبه بی‌نهایت‌های موجود در مساله، تحلیل آن را بسیار ساده می‌کند. لذا در رابطه با برخی بی‌نهایت‌ها و شدت و ضعف آنها نسبت به یکدیگر، بجاست موارد زیر بیان شود:

(۱) از نظر شدت و مرتبه بزرگی بی‌نهایت‌ها وقتی $x \rightarrow +\infty$ به ترتیب داریم:

$$x^x \gg x! \gg a^x \gg x^b \gg \ln x$$

(که در اینجا b عدد مثبت حقیقی و $a > 1$ است).

(۲) وقتی $x \rightarrow +\infty$ و داشته باشیم $a > b > 1$ ، آنگاه داریم:

$$a^x \gg b^x$$

(۳) وقتی $x \rightarrow 0^+$ و داشته باشیم $a > 1$ ، $b > c > 0$ ، آنگاه داریم:

$$x^c \gg x^b \gg a^{\frac{1}{x}}$$

مثال: مطلوب است حاصل حد زیر:

$$I = \lim_{n \rightarrow +\infty} \sqrt[n]{2^n + 3^n + 5^n} = \sqrt[n]{5^n} = 5$$

حل: بدیهی است $2^n < 3^n < 5^n$ پس داریم:

مثال: مطلوب است حاصل حد زیر:

$$I = \lim_{x \rightarrow \infty} \frac{x e^{\frac{x}{2}}}{x^2 + e^x}$$

حل: می‌دانیم $x^2 < e^x$ پس داریم:

$$I = \lim_{x \rightarrow +\infty} \frac{x e^{\frac{x}{2}}}{x^2 + e^x} = \lim_{x \rightarrow +\infty} \frac{x e^{\frac{x}{2}}}{e^x} = \lim_{x \rightarrow +\infty} \frac{x}{e^{\frac{x}{2}}} = 0$$

می‌دانیم $\lim_{x \rightarrow \infty} e^x = 0$ پس می‌توان نوشت:

$$I = \lim_{x \rightarrow \infty} \frac{x \cdot e^{\frac{x}{2}}}{x^2 + e^x} = \lim_{x \rightarrow \infty} \frac{x e^{\frac{x}{2}}}{x^2} = 0$$

مثال: حاصل حد زیر را به دست آورید.

$$I = \lim_{x \rightarrow 0} \frac{3^{\frac{1}{x}} + 4x}{2x + 5^{\frac{1}{x}}}$$

حل: بررسی حد راست:

$$\lim_{x \rightarrow 0^+} \frac{3^{\frac{1}{x}} + 4x}{2x + 5^{\frac{1}{x}}} = \lim_{x \rightarrow 0^+} \frac{3^{\frac{1}{x}}}{5^{\frac{1}{x}}} = \lim_{x \rightarrow 0^+} \left(\frac{3}{5} \right)^{\frac{1}{x}} = 0$$

بررسی حد چپ:

$$\lim_{x \rightarrow 0^-} 3^{\frac{1}{x}} = \lim_{x \rightarrow 0^-} 5^{\frac{1}{x}} = 0 \text{ می‌دانیم}$$

$$\lim_{x \rightarrow 0^-} \frac{3^{\frac{1}{x}} + 4x}{2x + 5^{\frac{1}{x}}} = \lim_{x \rightarrow 0^-} \frac{4x}{2x} = 2$$

بنابراین حد موجود نمی‌باشد.

مثال: حاصل حد زیر را بیابید.

$$I = \lim_{n \rightarrow \infty} \frac{3^{n+2} - 3^n - 5}{3^{n+1} + 3^n - 1}$$

$$I = \lim_{n \rightarrow \infty} \frac{3^2 \times 3^n - 3^n - 5}{3^1 \times 3^n + 3^n - 1} = \lim_{n \rightarrow \infty} \frac{8 \times 3^n - 5}{4 \times 3^n - 1} = \lim_{n \rightarrow \infty} \frac{8 \times 3^n}{4 \times 3^n} = 2$$

مثال: مطلوب است محاسبه حد زیر: ($n > 0$)

$$I = \lim_{x \rightarrow 0^+} x^n e^{\frac{1}{x}}$$

حل:

$$I = \lim_{x \rightarrow 0^+} x^n e^{\frac{1}{x}} = 0 \times e^{+\infty} = 0 \times \infty \text{ مبهم}$$

$$I = \lim_{T \rightarrow +\infty} \frac{e^T}{T^n} = \frac{+\infty}{+\infty}$$

با تغییر متغیر $x = \frac{1}{T}$ داریم:اما چون مرتبه بی‌نهایت e^T از T^n بالاتر است، لذا نتیجه می‌شود $I = \infty$ نکته: هرگاه $\lim_{x \rightarrow x_0} f(x) = 0$ باشد و تابع $g(x)$ در مجاورت نقطه x_0 کراندار باشد (محدودیت داشته باشد)، می‌توان ثابت کرد:

$$\lim_{x \rightarrow x_0} f(x) \cdot g(x) = 0$$

بیان بدیهی: اگر $\lim_{x \rightarrow a} f(x)$ برابر صفر واقعی باشد و $\lim_{x \rightarrow a} g(x) = \infty$ باشد داریم: $\lim_{x \rightarrow a} f(x)g(x) = 0$ (بدون هیچ ابهامی)

مثال: مطلوب است محاسبه حد زیر:

$$I = \lim_{x \rightarrow 0} x \cdot \sin \frac{1}{x}$$

حل:

$$\forall x \neq 0 \Rightarrow -1 \leq \sin \frac{1}{x} \leq 1$$

می‌دانیم تابع $\sin \frac{1}{x}$ تابعی کراندار است:

$$\lim_{x \rightarrow 0} x \sin \frac{1}{x} = 0 \times (\text{عبارت کراندار}) = 0$$

مثال: مطلوب است محاسبه حد زیر:

$$I = \lim_{x \rightarrow +\infty} x \left[\frac{1}{x} \right]$$

حل:

$$\lim_{x \rightarrow +\infty} \frac{1}{x} = 0^+ \Rightarrow \left[\frac{1}{x} \right] = [0^+] = 0 \text{ واقعی}$$

$$I = \lim_{x \rightarrow +\infty} x \left[\frac{1}{x} \right] = +\infty \times 0 = 0 \text{ واقعی}$$

مثال: حاصل حد $\lim_{x \rightarrow \infty} \frac{x - [x]}{x^2 + 2x + 1}$ کدام است؟الف) $\frac{1}{3}$

ب) صفر

ج) 1

د) موجود نیست.

حل: از آنجائی که $0 \leq x - [x] < 1$. بنابراین کراندار است:

$$\lim_{x \rightarrow \infty} \frac{x - [x]}{x^2 + 2x + 1} = \frac{\text{کراندار}}{\infty} = 0$$

صور مبهم نمایی و رفع ابهام:

همان‌طور که می‌دانیم وضعیت‌های $0^\infty, \infty^0, 0^0, 1^\infty$ به صور مبهم نمایی موسوم هستند و چنانچه در مسئله‌ای به یکی از این وضعیت‌ها برخورد کنیم، مسئله نیاز به رفع ابهام دارد.

چنانچه در محاسبه حد مقابل:

$$I = \lim_{x \rightarrow a} f(x)^{g(x)}$$

به یکی از صور مبهم فوق‌الذکر برخورد کردیم، قاعده کلی آن است که از دو طرف رابطه فوق (\ln) بگیریم. بدین ترتیب به‌دست می‌آید:

$$\ln I = \lim_{x \rightarrow a} g(x) \cdot \ln f(x)$$

حال کافی است حد ایجاد شده در سمت راست تساوی فوق را رفع ابهام کنیم، بدین ترتیب $\ln I$ به‌دست می‌آید و از آن I قابل محاسبه است.

نکته: اگر d, c, b, a اعداد ثابت حقیقی باشند، در این صورت حد زیر که البته مبهم از نوع 1^∞ می‌باشد:

$$I = \lim_{x \rightarrow \infty} \left(1 + \frac{a}{x+b} \right)^{cx+d}$$

پس از رفع ابهام به صورت زیر خواهد بود:

$$I = e^{ac}$$

مثال: حاصل حد زیر کدام است؟

$$\lim_{x \rightarrow +\infty} (\cosh x)^{\frac{1}{x}}$$

حل: با توجه به این نکته که می‌دانیم $\cosh x = \frac{e^x + e^{-x}}{2}$ داریم:

$$I = \lim_{x \rightarrow +\infty} \left(\frac{e^x + e^{-x}}{2} \right)^{\frac{1}{x}}$$

از آنجا که $\lim_{x \rightarrow +\infty} e^{-x} = 0$ لذا خواهیم داشت:

$$I = \lim_{x \rightarrow +\infty} \left(\frac{e^x}{2} \right)^{\frac{1}{x}} = \lim_{x \rightarrow +\infty} \frac{e}{2^{\frac{1}{x}}} = \frac{e}{2^0} = e$$

مثال: مطلوب است محاسبه حد زیر:

$$I = \lim_{x \rightarrow \infty} \left(\frac{2x-1}{2x+3} \right)^{3x-1}$$

حل:

$$\lim_{x \rightarrow \infty} I = 1^\infty \text{ مبهم}$$

$$I = \lim_{x \rightarrow \infty} \left(1 + \frac{-4}{2x+3} \right)^{3x-1} = \lim_{x \rightarrow \infty} \left(1 + \frac{-2}{x+\frac{3}{2}} \right)^{3x-1} = e^{-2 \times 3} = e^{-6}$$

مثال: مقدار c را طوری تعیین کنید که حاصل حد زیر برابر 4 شود.

$$\lim_{x \rightarrow \infty} \left(\frac{x+c}{x-c} \right)^x = 4$$

حل:

$$\lim_{x \rightarrow \infty} \left(\frac{x+c}{x-c} \right)^x = \lim_{x \rightarrow \infty} \left(1 + \frac{2c}{x-c} \right)^x = e^{2c}$$

$$e^{2c} = 4 \Rightarrow 2c = \ln 4 \Rightarrow c = \frac{\ln 4}{2} \Rightarrow c = \ln 2$$

مثال: مطلوب است محاسبه حد زیر:

$$\lim_{x \rightarrow 0} (1 + \sin 4x)^{\frac{3}{x}}$$

حل:

$$\lim_{x \rightarrow 0} (1 + \sin 4x)^{\frac{3}{x}} = 1^\infty \text{ مبهم}$$

از تغییر متغیر $x = \frac{1}{T}$ استفاده می کنیم: (استفاده از قاعده هم ارزی $\lim_{u \rightarrow 0} \sin u \sim \lim_{u \rightarrow 0} u$)

$$= \lim_{T \rightarrow \infty} \left(1 + \sin \frac{4}{T} \right)^{3T} = \lim_{T \rightarrow \infty} \left(1 + \frac{4}{T} \right)^{3T} = e^{4 \times 3} = e^{12}$$

مثال: مطلوب است محاسبه حد زیر:

$$I = \lim_{x \rightarrow 0} \left(\frac{\sin x}{x} \right)^{\frac{1}{x^2}}$$

حل:

$$I = \lim_{x \rightarrow 0} \left(\frac{\sin x}{x} \right)^{\frac{1}{x^2}} = 1^\infty \text{ مبهم}$$

با توجه به قاعده هم ارزی $\left(\sin x \sim x - \frac{x^3}{6} \right)$ که از بسط مکلاوران تابع $\sin x$ به دست می آید داریم:

$$I = \lim_{x \rightarrow 0} \left(\frac{x - \frac{x^3}{6}}{x} \right)^{\frac{1}{x^2}} = \lim_{x \rightarrow 0} \left(1 - \frac{x^2}{6} \right)^{\frac{1}{x^2}}$$

با تغییر متغیر $x^2 = \frac{1}{T}$ داریم:

$$I = \lim_{T \rightarrow \infty} \left(1 + \frac{-\frac{1}{6}}{T} \right)^T = e^{-\frac{1}{6}}$$

توجه: به چند مثال زیر که در آنها، رفع ابهام صورت مبهم نمایی با استفاده از قاعده کلی انجام شده است توجه کنید:

$$1) I = \lim_{x \rightarrow 0} (\cos x)^{\frac{1}{x^2}} = 1^\infty \text{ مبهم}$$

حل: ابهام را به صورت مبهم $\frac{0}{0}$ تبدیل می‌کنیم:

$$\ln I = \lim_{x \rightarrow 0} \frac{\ln \cos x}{x^2} = \frac{0}{0} \xrightarrow{H} \ln I = \lim_{x \rightarrow 0} \frac{-\sin x}{2x} = \lim_{x \rightarrow 0} \frac{-\sin x}{2x \cdot \cos x} \xrightarrow{\text{هم‌ارزی}} \lim_{x \rightarrow 0} \frac{-x}{2x \cdot \cos x} = \frac{-1}{2} \Rightarrow I = e^{\frac{-1}{2}}$$

$$2) I = \lim_{x \rightarrow 1} (x^2 + x - 2)^{(x-1)} = 0^0 \text{ مبهم}$$

حل:

$$\ln I = \lim_{x \rightarrow 1} (x-1) \ln (x^2 + x - 2) = 0 \times \infty$$

صورت مبهم را به صورت $\frac{\infty}{\infty}$ تبدیل کرده، سپس از هوییتال استفاده می‌کنیم:

$$\ln I = \lim_{x \rightarrow 1} \frac{\ln (x^2 + x - 2)}{\frac{1}{x-1}} \xrightarrow{H} = \lim_{x \rightarrow 1} \frac{2x+1}{\frac{-1}{(x-1)^2}} = \lim_{x \rightarrow 1} \frac{(2x+1)(x-1)^2}{-(x^2+x-2)} = \lim_{x \rightarrow 1} \frac{(2x+1)(x-1)^2}{-(x-1)(x+2)}$$

$$\ln I = \lim_{x \rightarrow 1} \frac{(2x+1)(x-1)}{-(x+2)} = 0 \Rightarrow \ln I = 0 \Rightarrow I = e^0 = 1$$

مثال: مطلوب است محاسبه حد زیر:

$$I = \lim_{x \rightarrow +\infty} (1+4x)^{\frac{1}{\ln x}}$$

حل:

$$I = (+\infty)^{\frac{1}{+\infty}} = +\infty^0 \text{ مبهم}$$

$$\ln I = \lim_{x \rightarrow +\infty} \frac{1}{\ln x} \cdot \ln(1+4x) = \lim_{x \rightarrow +\infty} \frac{\ln(1+4x)}{\ln x} = \frac{+\infty}{+\infty} \xrightarrow{H}$$

$$\ln I = \lim_{x \rightarrow +\infty} \frac{\frac{4}{1+4x}}{\frac{1}{x}} = \lim_{x \rightarrow +\infty} \frac{4x}{1+4x} = 1 \Rightarrow \ln I = 1 \rightarrow I = e^1$$

مثال: مطلوب است محاسبه حد زیر:

$$I = \lim_{x \rightarrow \frac{\pi}{4}} (\tan x)^{\tan 2x}$$

حل:

$$I = 1^\infty \text{ مبهم}$$

$$\Rightarrow \ln I = \lim_{x \rightarrow \frac{\pi}{4}} \tan 2x \times \ln(\tan x) = \lim_{x \rightarrow \frac{\pi}{4}} \frac{\ln(\tan x)}{\cot 2x} \xrightarrow{H} = \lim_{x \rightarrow \frac{\pi}{4}} \frac{\frac{1+\tan^2 x}{\tan x}}{-2(1+\cot^2 2x)} = \frac{2}{-2(1+0)} = -1 \Rightarrow I = \frac{1}{e}$$

فصل پنجم

مشتق

تعاریف اولیه

مشتق و برخی مسائل مربوط به آن

تعریف مشتق تابع در یک نقطه: می گویند تابع $f(x)$ در نقطه $x = x_0$ مشتق پذیر است، هرگاه دو شرط زیر برقرار باشد:

(۱) در این نقطه پیوسته باشد.

(۲) حد زیر موجود باشد.

$$\lim_{x \rightarrow x_0} \frac{f(x) - f(x_0)}{x - x_0}$$

که در صورت موجود بودن حد فوق، به آن مشتق تابع $f(x)$ در نقطه x_0 گفته و با علامت $f'(x_0)$ نشان داده می شود.

که معنای هندسی آن این است که، خط مماس بر نمودار تابع $f(x)$ در $x = a$ دارای شیبی معادل $f'(a)$ می باشد.

توجه کنید اگر تابعی در نقطه ای مشتق پذیر باشد، حتماً در آن نقطه پیوسته خواهد بود.

مشتق چپ و راست تابع را نیز می توان تعریف نمود. به عنوان مثال، تعریف مشتق راست یک تابع در نقطه $x = a$ به صورت زیر خواهد بود.

$$f'_+(a) = \lim_{x \rightarrow a^+} \frac{f(x) - f(a)}{x - a}$$

و به همین ترتیب می توان مشتق چپ تابع را نیز تعریف کرد.

مشتق تابع $f(x)$ در نقطه متعلق به دامنه تعریفش به صورت زیر محاسبه می گردد:

$$f'(x) = \lim_{\Delta x \rightarrow 0} \frac{f(x + \Delta x) - f(x)}{\Delta x}$$

مثال: مطلوب است بررسی پیوستگی و مشتق پذیری تابع $f(x) = (1+x)[x]$ در نقطه $x = -1$.

حل: ابتدا به بررسی پیوستگی در $x = -1$ می پردازیم:

الف) بررسی حد راست:

$$\begin{aligned}\lim_{x \rightarrow -1^+} f(x) &= \lim_{x \rightarrow -1^+} (1+x)[x] \\ \lim_{x \rightarrow -1^+} -1 < x < 0 &\Rightarrow [x] = -1 \\ \lim_{x \rightarrow -1^+} (x+1) \times -1 &= 0\end{aligned}$$

ب) بررسی حد چپ:

$$\begin{aligned}\lim_{x \rightarrow -1^-} f(x) &= \lim_{x \rightarrow -1^-} (1+x)[x] \\ \lim_{x \rightarrow -1^-} -2 < x < -1 &\Rightarrow [x] = -2 \\ \lim_{x \rightarrow -1^-} (x+1) \times -2 &= 0\end{aligned}$$

ج) بررسی مقدار تابع:

$$\begin{aligned}f(-1) &= 0 \times -1 = 0 \\ \lim_{x \rightarrow -1^+} f(x) &= \lim_{x \rightarrow -1^-} f(x) = f(-1)\end{aligned}$$

پس اولین شرط را برای مشتق پذیری دارا می باشد. یعنی تابع پیوسته می باشد.

بررسی مشتق چپ و راست:

الف) مشتق راست:

$$\begin{aligned}f'_+(-1) &= \lim_{x \rightarrow -1^+} \frac{(x+1)[x] - 0}{x+1} = \lim_{x \rightarrow -1^+} [x] = -1 \\ (-1 < x < 0 &\Rightarrow [x] = -1)\end{aligned}$$

ب) مشتق چپ:

$$\begin{aligned}f'_-(-1) &= \lim_{x \rightarrow -1^-} \frac{(x+1)[x] - 0}{x+1} = \lim_{x \rightarrow -1^-} [x] = -2 \\ (-2 < x < -1 &\Rightarrow [x] = -2)\end{aligned}$$

پس این تابع در نقطه $x = -1$ مشتق پذیر نیست.

$$f'_+(-1) \neq f'_-(-1)$$

مثال: تابع زیر مفروض است. راجع به $f'(0)$, $f''(0)$ اظهار نظر کنید.

$$f(x) = \begin{cases} x^2 \cdot \sin \frac{1}{x} & x \neq 0 \\ 0 & x = 0 \end{cases}$$

حل: ابتدا بررسی پیوستگی در نقطه $x = 0$ می پردازیم:

ملاحظه می شود طبق قضیه ساندویچ حد چپ و راست تابع در نقطه $x = 0$ برابر صفر می باشد.

$$\left. \begin{aligned}\lim_{x \rightarrow 0^+} f(x) &= 0 \\ \lim_{x \rightarrow 0^-} f(x) &= 0\end{aligned} \right\} \rightarrow \lim_{x \rightarrow 0} f(x) = f(0) = 0$$

پس تابع در نقطه $x = 0$ پیوسته است.

- بررسی $f'(0)$:

$$f'(0) = \lim_{x \rightarrow 0} \frac{f(x) - f(0)}{x - 0} = \lim_{x \rightarrow 0} \frac{x^2 \cdot \sin \frac{1}{x} - 0}{x - 0} = \lim_{x \rightarrow 0} x \sin \frac{1}{x} = 0$$

- بررسی $f'(0)$: از تابع $f(x)$ نسبت به متغیر x مشتق می‌گیریم و ضابطه $f'(x)$ به صورت زیر به دست می‌آید:

$$f'(x) = \begin{cases} 2x \cdot \sin \frac{1}{x} - \cos \frac{1}{x} & x \neq 0 \\ 0 & x = 0 \end{cases}$$

بررسی پیوستگی تابع $f'(x)$ در $x = 0$:

$$\lim_{x \rightarrow 0} f'(x) = \lim_{x \rightarrow 0} \left(2x \sin \frac{1}{x} - \cos \frac{1}{x} \right)$$

برای تابع $f'(x)$ چون $\lim_{x \rightarrow 0} \cos \frac{1}{x}$ موجود نیست، بنابراین تابع $f'(x)$ در $x = 0$ پیوسته نیست و تابع $f(x)$ در $x = 0$ مشتق دوم ندارد. پس $f''(0)$ موجود نمی‌باشد.

مثال: تابع $f(x) = \begin{cases} 2x^3 - 5x - 2 & x \geq 1 \\ x^2 + 2x & x < 1 \end{cases}$ مفروض است. چنانچه در منحنی این تابع در همسایگی نقطه $x = 1$ دو خط مماس

رسم کنیم، زاویه بین این دو خط چه مقدار است؟

حل:

$$f'(1^+) = (2x^3 - 5x - 2)' = (6x^2 - 5) \Big|_{x=1} = 1 = m_1$$

$$f'(1^-) = (x^2 + 2x)' = (2x + 2) \Big|_{x=1} = 4 = m_2$$

با استفاده از رابطه $\tan \alpha = \left| \frac{m_1 - m_2}{1 + m_1 m_2} \right|$ داریم:

$$\tan \alpha = \left| \frac{4 - 1}{1 + 4} \right| \Rightarrow \alpha = \tan^{-1} \frac{3}{5}$$

مثال: در تابع $f(x) = \begin{cases} x^3 + x & x \geq 1 \\ ax + b & x < 1 \end{cases}$ ، $f'(1)$ وجود دارد. مطلوب است محاسبه a, b .

حل: پیوستگی تابع در نقطه $x = 1$ نتیجه می‌دهد:

$$\lim_{x \rightarrow 1^+} f(x) = \lim_{x \rightarrow 1^-} f(x) \Rightarrow \lim_{x \rightarrow 1^+} (x^3 + x) = \lim_{x \rightarrow 1^-} (ax + b) \Rightarrow a + b = 2$$

وجود مشتق تابع در $x = 1$ نتیجه می‌دهد:

$$f'(x) \Big|_{x=1^+} = f'(x) \Big|_{x=1^-} \Rightarrow \frac{d(x^3 + x)}{dx} \Big|_{x=1^+} = \frac{d(ax + b)}{dx} \Big|_{x=1^-} \Rightarrow a = 4$$

$$b = -2$$

با جایگذاری در معادله قبل به دست می‌آید:

مثال: اگر $\lim_{h \rightarrow 0} \frac{f(x+2h) - f(x-h)}{h} = \sqrt{x}$ باشد. مقدار مشتق $f\left(\frac{1}{x}\right)$ به ازای $x=1$ کدام است؟

حل:

$$\lim_{h \rightarrow 0} \frac{f(x+2h) - f(x-h)}{h} = \frac{0}{0} \text{ مبهم} \xrightarrow{H} \\ = \lim_{h \rightarrow 0} \frac{2f'(x+2h) + f'(x-h)}{1} = 3f'(x) = \sqrt{x} \rightarrow f'(x) = \frac{\sqrt{x}}{3} \Rightarrow f'(1) = \frac{1}{3}$$

حال به محاسبه مشتق $f\left(\frac{1}{x}\right)$ می پردازیم:

$$y = f\left(\frac{1}{x}\right) \Rightarrow y' = \frac{-1}{x^2} f'\left(\frac{1}{x}\right) \\ y'(1) = -1 \times f'(1) = -\frac{1}{3}$$

مثال: اگر برای $|x| < 1$ ، داشته باشیم: $x \leq f(x) \leq x + x^2$ مقدار $f'(0)$ را به دست آورید.

حل: به ازای $x=0$ داریم:

$$0 \leq f(0) \leq 0 + 0^2 \Rightarrow f(0) = 0$$

بنابراین برای هر $|x| < 1$ داریم:

$$x \leq f(x) \leq x + x^2 \Rightarrow x \leq f(x) - f(0) \leq x + x^2$$

$$\Rightarrow \begin{cases} \frac{x}{x} \leq \frac{f(x) - f(0)}{x - 0} \leq \frac{x + x^2}{x} & , \quad x > 0 \\ \frac{x + x^2}{x} \leq \frac{f(x) - f(0)}{x - 0} \leq \frac{x}{x} & , \quad x < 0 \end{cases}$$

$$\Rightarrow \begin{cases} 1 \leq f'(x) \leq 1 + x & , \quad x > 0 \\ 1 + x \leq f'(x) \leq 1 & , \quad x < 0 \end{cases}$$

$$f'(0) = 1$$

بنابراین طبق قضیه ساندویچ داریم:

مثال: تابع f در رابطه $f(x+y) = f(x)f(y) + 4xy$ صدق می کند. چنانچه داشته باشیم: $\lim_{x \rightarrow 0} \frac{f(x) - 1}{x} = 2$ و اگر حاصل $f'(x)$ به

فرم $f'(x) = af(x) + bx$ باشد. مطلوب است مقادیر a, b .

حل: طبق تعریف مشتق و با استفاده از خواص تابع f داریم:

$$f'(x) = \lim_{\Delta x \rightarrow 0} \frac{f(x + \Delta x) - f(x)}{\Delta x} = \lim_{\Delta x \rightarrow 0} \frac{f(x)f(\Delta x) + 4x\Delta x - f(x)}{\Delta x} = \\ = \lim_{\Delta x \rightarrow 0} f(x) \frac{f(\Delta x) - 1}{\Delta x} + \lim_{\Delta x \rightarrow 0} \frac{4x\Delta x}{\Delta x} = 2f(x) + 4x$$

در نتیجه داریم:

$$b = 4, \quad a = 2$$

مشتق گیری از توابعی به فرم $y = u(x)^{v(x)}$

برای مشتق گیری از توابعی به فرم $y = u(x)^{v(x)}$ (u, v توابعی از x هستند) می توان به صورت زیر عمل کرد:

$$y = u^v \Rightarrow \ln y = v \ln u \Rightarrow \frac{y'}{y} = v' \ln u + v \times \frac{u'}{u}$$

و بدین ترتیب y' محاسبه می شود:

$$y' = \left(v' \ln u + v \frac{u'}{u} \right) u^v$$

مثال: مشتق تابع $y = (\tan x)^{\cos x}$ در نقطه $x = \frac{\pi}{4}$ چه مقدار است؟

$$\ln y = \cos x \times \ln(\tan x) \Rightarrow$$

$$\frac{y'}{y} = \left(-\sin x \ln(\tan x) + \cos x \frac{1 + \tan^2 x}{\tan x} \right) \Rightarrow$$

$$y' = \left(-\sin x \ln(\tan x) + \cos x \frac{1 + \tan^2 x}{\tan x} \right) (\tan x)^{\cos x}$$

$$y' \left(\frac{\pi}{4} \right) = \left(\frac{-\sqrt{2}}{2} \ln(1) + \frac{\sqrt{2}}{2} \times \frac{1+1}{1} \right) (1)^{\frac{\sqrt{2}}{2}} = \sqrt{2}$$

محاسبه مشتق مرتبه nام

اگر u, v توابعی مشتق پذیر از x باشند، مشتق مرتبه nام تابع uv از رابطه زیر قابل محاسبه است:

$$(uv)^{(n)} = \sum_{i=0}^n \binom{n}{i} u^{(n-i)} v^{(i)}$$

که در آن $v^{(i)}$ بیانگر مشتق nام تابع است و $\binom{n}{i}$ که ترکیب i از n است به صورت مقابل تعریف می شود:

$$\binom{n}{i} = \frac{n!}{i!(n-i)!}$$

در بسیاری از مسائل بدون نیاز به رابطه بالا با چند بار مشتق گیری از توابع، می توانیم به یک قاعده کلی برسیم. گاهی برای رسیدن به یک مشتق گیری آسان، نیاز داریم ابتدا مساله را ساده سازی نماییم.

مثال: تابع $f(x) = \frac{2x}{x^2-1}$ مفروض است. مطلوب است $f^{(n)}(0)$.

$$f(x) = \frac{1}{x-1} + \frac{1}{x+1}$$

حل: ابتدا تابع $f(x)$ را تجزیه می کنیم:

با چند بار مشتق گیری از تابع می توان به سادگی به رابطه زیر دست یافت:

$$f^{(n)}(x) = \frac{(-1)^n n!}{(x-1)^{n+1}} + \frac{(-1)^n n!}{(x+1)^{n+1}}$$

$$f^{(n)}(0) = -n! + (-1)^n n! = n!((-1)^n - 1)$$

مثال: مطلوب است مشتق دوازدهم تابع $y = x \sin x$ به ازای $x = \pi$:

حل: با توجه به رابطه بیان شده می‌توان نوشت:

$$y^{(12)} = \binom{12}{0} (\sin x)^{12} x^{(0)} + \binom{12}{1} (\sin x)^{(11)} x^{(1)} + \binom{12}{2} (\sin x)^{(10)} x^{(2)} + \dots$$

ملاحظه می‌شود از جمله سوم به بعد در سمت راست معادله، صفر می‌باشد. پس داریم:

$$= \frac{12!}{12!} \sin x + \frac{12!}{1!(12-1)!} (-\cos x)(1) = \sin x - 12 \cos x$$

$$y^{(12)}_{(\pi)} = 12$$

کاربرد مشتق در تعیین وضعیت صعودی و نزولی تابع و یافتن اکسترم‌های نسبی یک تابع:

همان‌طوری که می‌دانیم اگر تابع $f(x)$ در فاصله $[a, b]$ پیوسته باشد، وضعیت صعودی و نزولی بودن تابع در این فاصله را می‌توان با توجه به علامت مشتق اول تعیین کرد. بدین معنا که هر کجا $f'(x) > 0$ باشد، تابع در آن فاصله اکیداً صعودی و هر کجا $f'(x) < 0$ باشد، تابع در آن فاصله اکیداً نزولی است و با توجه به این معنا می‌توان نقاط اکسترم نسبی یک تابع را مشخص کرد. بدین صورت که می‌گوییم تابع $f(x)$ در نقطه x_0 دارای اکسترم نسبی است هرگاه:

(۱) تابع در این نقطه پیوسته باشد.

(۲) علامت $f'(x)$ در مجاورت این نقطه تغییر کند.

کاربرد مشتق در تعیین وضعیت تحدب و تقعر تابع و یافتن نقاط عطف یک تابع:

همان‌طوری که می‌دانیم هرگاه تابع $f(x)$ در فاصله $[a, b]$ پیوسته باشد، با توجه به علامت مشتق دوم تابع، می‌توان وضعیت تقعر و تحدب آنرا مشخص کرد. بدین معنا که:

۱- هر کجا $f''(x) > 0$ باشد، تقعر تابع به سمت بالا است.

۲- هر کجا $f''(x) < 0$ باشد تقعر تابع به سمت پایین است.

و البته با توجه به این معنا می‌توان نقاط عطف تابع را مشخص کرد. بدین ترتیب که می‌گوییم تابع $f(x)$ در نقطه x_0 دارای نقطه عطف است هرگاه:

(الف) تابع در این نقطه پیوسته باشد.

(ب) تابع در این نقطه دارای خط مماس منحصر به فرد باشد.

(ج) علامت $f''(x)$ در مجاورت این نقطه تغییر کند (یعنی جهت تقعر و تحدب تابع عوض شود).

مثال: در مورد تابع با ضابطه $f(x) = e^x + x - \cos x$ کدامیک از موارد زیر درست است؟

(الف) یک ماکزیمم و دو مینیمم دارد. (ب) نزولی است.

(ج) دو مینیمم و یک ماکزیمم دارد. (د) صعودی اکید است.

حل:

$$f'(x) = e^x + 1 + \sin x$$

از آنجا که $-1 \leq \sin x \leq +1$ می‌باشد. پس $f'(x)$ همواره مثبت است، لذا گزینه (د) صحیح است.

مثال: تابع $y = (x-1)\sqrt[3]{x^2}$ دارای چند ماکزیمم و مینیمم است؟

حل: بدیهی است دامنه تابع، مجموعه اعداد حقیقی می باشد و این تابع همواره پیوسته است.

$$y' = x^{\frac{2}{3}} + \frac{2}{3}(x-1)x^{-\frac{1}{3}}$$

$$y' = x^{\frac{2}{3}} + \frac{2}{3} \frac{x-1}{x^{\frac{1}{3}}} = \frac{3x+2(x-1)}{3x^{\frac{1}{3}}} = \frac{5x-2}{3\sqrt[3]{x}}$$

x	$-\infty$	0	$\frac{2}{5}$	$+\infty$
y'		+	-	+
y		↗	↘	↗

نقاط بحرانی به صورت زیر به دست می آید:

$$\sqrt[3]{x} = 0 \Rightarrow x = 0$$

$$5x - 2 = 0 \Rightarrow x = \frac{2}{5}$$

پس تابع دارای یک ماکزیمم در $x = 0$ و یک مینیمم در $x = \frac{2}{5}$ می باشد.

مثال: تابع $f(x) = \ln x - \frac{1}{x}$ چند اکسترمم نسبی و نقطه عطف دارد؟

حل: دامنه تابع مجموعه اعداد حقیقی مثبت می باشد.

$$f'(x) = \frac{1}{x} + \frac{1}{x^2} = \frac{x+1}{x^2}$$

$$f''(x) = \frac{x^2 - 2x^2 - 2x}{x^4} = -\frac{x+2}{x^3}$$

x	0	$+\infty$
f'(x)	+	
f''(x)	-	
f		

لذا تابع مذکور در دامنه خود اکیداً صعودی بوده و اکسترمم نسبی ندارد و تقعر آن همواره به سمت پایین بوده و نقطه عطف نیز ندارد.

مثال: تابع $f(x, y) = (x^2 + y^2)e^{-(x^2 + y^2)}$ مقادیر ماکزیمم و مینیمم مطلق این تابع را به دست آورید.

حل: با توجه به وضعیت خاص تعریف تابع $f(x, y)$ می توان با فرض $x^2 + y^2 = t$ رفتار این تابع را از طریق رفتار تابع یک متغیره زیر ارزیابی کرد:

$$f(t) = te^{-t}, \quad t \geq 0$$

$$f'(t) = e^{-t} - te^{-t} = (1-t)e^{-t}$$

$$f'(t) = 0 \Rightarrow t = 1$$

$$f(1) = 1e^{-1} = \frac{1}{e}$$

t	0	1	$+\infty$
f'	+	-	
f	\nearrow	\searrow	

ماکزیمم مطلق تابع $\frac{1}{e}$ می‌باشد.

$$f(0) = 0e^{-0} = 0$$

$$\lim_{t \rightarrow +\infty} f(t) = \lim_{t \rightarrow +\infty} t e^{-t} = \lim_{t \rightarrow +\infty} \frac{t}{e^t} = 0$$

مینیمم مطلق تابع 0 می‌باشد.

تذکره: هرگاه در معادله $f(x) = 0$ ، معادله دارای ریشه مکرر رتبه زوج باشد، این ریشه طول نقطه ماکزیمم یا مینیمم نسبی خواهد بود به‌طوری‌که، اگر عرض نقاط مجاور این ریشه مثبت باشد، نقطه مینیمم، و اگر منفی باشد، نقطه ماکزیمم است و اگر معادله $f(x) = 0$ دارای ریشه مکرر مرتبه فرد باشد، این ریشه طول نقطه عطف منحنی است.

مثال: در تابع $y = \frac{(x+a)^3}{x^2}$ نقطه $x=1$ متناظر با نقطه عطف است. مقدار a کدام است؟

حل: راه حل اول:

$$y' = \frac{3(x+a)^2 x^2 - 2x(x+a)^3}{x^4} = \frac{x^3 - 3a^2 x - 2a^3}{x^3}$$

$$y'' = \frac{(3x^2 - 3a^2)x^3 - 3x^2(x^3 - 3a^2 x - 2a^3)}{x^6} = \frac{6a^2(x+a)}{x^4}$$

از آنجا که در نقطه عطف $x=1$ ، مشتق دوم باید تغییر علامت دهد پس $x=1$ ریشه عبارت $x+a$ باشد یعنی خواهیم داشت: $a = -1$
راه حل دوم: طبق نکته گفته شده داریم $x = -a$ چون ریشه مکرر مرتبه فرد است، پس این نقطه‌ی عطف است. پس: $a = -1$.

مثال: نقاط اکسترمم و عطف تابع $f(x) = e^{-x^2}$ را، در صورت وجود، بیابید.

حل:

$$y = e^{-x^2}$$

$$y' = -2xe^{-x^2}$$

$$y'' = -2e^{-x^2} + 4x^2 e^{-x^2} = 2e^{-x^2} (2x^2 - 1)$$

با توجه به این نکته که می‌دانیم دامنه تابع مقادیر حقیقی است، می‌توان نوشت:

x	$-\infty$	$-\frac{1}{\sqrt{2}}$	0	$\frac{1}{\sqrt{2}}$	$+\infty$
y'		+	+	0	-
y''	+	0	-	0	+

لذا تابع در نقطه $x=0$ دارای ماکزیمم نسبی و در $x = \pm \frac{1}{\sqrt{2}}$ دارای عطف است.

مثال: اگر نقطه عطف منحنی $y = x^3 + mx^2$ بر روی خط $y = 2x$ واقع شده باشد. مقدار m را به دست آورید.

حل:

$$y' = 3x^2 + 2mx$$

$$y'' = 6x + 2m$$

در نقطه عطف لازم است داشته باشیم $y'' = 0$ بنابراین داریم:

$$6x + 2m = 0 \Rightarrow x = \frac{-m}{3} \quad (I)$$

و طبق فرض مساله $x = \frac{-m}{3}$ را در معادله $y = 2x$ قرار می دهیم:

$$y = \frac{-2m}{3} \quad (II)$$

مقادیر (I), (II) به دست آمده را در معادله تابع قرار می دهیم:

$$\frac{-2m}{3} = \frac{-m^3}{27} + \frac{m^3}{9} \Rightarrow -18m = 2m^3 \Rightarrow 2m(m^2 + 9) = 0 \Rightarrow m = 0$$

قضیه آزمون مشتق دوم:

اگر $f'(a) = 0$ باشد، می توان گفت:

(الف) اگر $f''(a) > 0$ باشد، آنگاه تابع $f(x)$ در نقطه $x = a$ دارای min نسبی است.

(ب) اگر $f''(a) < 0$ باشد، آنگاه تابع $f(x)$ در نقطه $x = a$ دارای max نسبی است.

(ج) اگر $f''(a) = 0$ باشد، آنگاه تابع $f(x)$ در نقطه $x = a$ ممکن است دارای max یا min نسبی و یا نقطه عطف باشد (آزمون بی نتیجه است).

مثال: معادله دیفرانسیل همراه با شرایط کمکی روبرو را در نظر بگیرید.

$$\begin{cases} y^2 y'' + x^2 \cos y' + (x+1)y = 0 \\ y(1) = 3, y'(1) = 0 \end{cases}$$

نقطه $x = 1$ برای جواب این معادله دیفرانسیل:

(الف) یک max نسبی است. (ب) یک min نسبی است. (ج) یک عطف است. (د) یک نقطه معمولی است.

حل: با توجه به این نکته که $y'(1) = 0$ است، متوجه می شویم که نقطه $x = 1$ برای این تابع یک نقطه معمولی نیست و با بررسی این معادله دیفرانسیل در نقطه $x = 1$ خواهیم داشت:

$$y^2(1) \cdot y''(1) + 1 \cdot \cos y'(1) + (1+1) \cdot y(1) = 0 \Rightarrow 9 \cdot y''(1) + 1 + 6 = 0 \Rightarrow y''(1) = \frac{-7}{9}$$

پس $y(x)$ در نقطه $x = 1$ دارای max نسبی است و گزینه (الف) صحیح است.

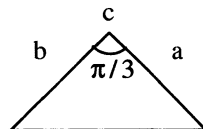
نسبت های وابسته:

ممکن است یک کمیت به چندین متغیر وابسته باشد و لذا با تغییر کردن آن متغیرها، کمیت موردنظر نیز تغییر می کند. برای اینکه مشخص شود نحوه تغییرات کمیت موردنظر چگونه است، کافی است ارتباط این کمیت را با متغیرهای مذکور نوشته و با استفاده از مفهوم مشتق (که بیانگر تغییرات لحظه ای است) معلوم کنیم که تغییرات متغیرهای مربوط، کمیت مذکور را چگونه تغییر می دهد.

مثال: دو ضلع مثلثی به ترتیب $a = 5\text{m}$, $b = 4\text{m}$ بوده و زاویه بین این دو ضلع $\hat{c} = \frac{\pi}{3}$ می باشد. چنانچه ضلع a دارای طول ثابتی بوده و ضلع b با سرعت $1 \frac{\text{m}}{\text{s}}$ در حال بزرگ شدن و زاویه c با سرعت $1 \frac{\text{rad}}{\text{s}}$ در حال کم شدن باشد، سرعت تغییرات مساحت این مثلث را به دست آورید.

حل:

$$\left. \begin{array}{l} a = 5\text{m} \quad \frac{da}{dt} = 0 \\ b = 4\text{m} \quad \frac{db}{dt} = 1 \frac{\text{m}}{\text{s}} \\ \hat{c} = \frac{\pi}{3} \quad \frac{dc}{dt} = -1 \frac{\text{rad}}{\text{s}} \end{array} \right\} \frac{ds}{dt} = ?$$

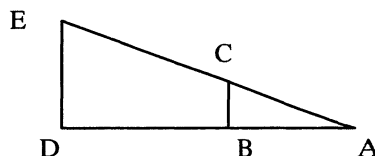


$$s = \frac{1}{2} a \cdot b \cdot \sin c = \frac{5}{2} b \cdot \sin c$$

$$\frac{ds}{dt} = \frac{5}{2} \left(\frac{db}{dt} \cdot \sin c + \frac{dc}{dt} \cdot b \cdot \cos c \right) = \frac{5}{2} \left(1 \times \sin \frac{\pi}{3} + (-1) \cdot (4) \cdot \cos \frac{\pi}{3} \right) = 5 \left(\frac{\sqrt{3}}{4} - 1 \right) = -2.83 \frac{\text{m}^2}{\text{s}}$$

مثال: اندازه قد مردی 180cm می باشد، این مرد با سرعت $3 \frac{\text{m}}{\text{s}}$ در حال دور شدن از تیر چراغ برق با ارتفاع 540cm است. سرعت حرکت سایه این مرد را به دست آورید:

$$\left. \begin{array}{l} BC = 180\text{cm} \\ DE = 540\text{cm} \\ \frac{d(BD)}{dt} = 3 \frac{\text{m}}{\text{s}} \\ \frac{d(AD)}{dt} = ? \frac{\text{m}}{\text{s}} \end{array} \right\} \text{فرضیات:}$$



با توجه به دو مثلث ABC, ADE می توان نوشت:

$$\frac{BC}{DE} = \frac{AB}{AD} \rightarrow \frac{180}{540} = \frac{AD - BD}{AD} \rightarrow 3(AD - BD) = AD \rightarrow$$

$$AD = \frac{3}{2} BD \rightarrow \frac{d(AD)}{dt} = \frac{3}{2} \frac{d(BD)}{dt} = \frac{3}{2} (3) = \frac{9}{2} \frac{\text{m}}{\text{s}}$$

مثال: آب با $\frac{\pi}{4}$ واحد مکعب در هر ثانیه وارد مخزن مخروطی وارونه شکلی به بلندی 12 واحد و شعاع قاعده 4 واحد می شود، سرعت افزایش ارتفاع آب در مخزن وقتی ارتفاع آب 6 واحد باشد را محاسبه کنید؟

$$\left\{ \begin{array}{l} \frac{dv}{dt} = \frac{\pi}{4} \\ H = 12 \\ R = 4 \\ h = 6 \end{array} \right. \quad \frac{dh}{dt} = ?$$

حل: اگر ارتفاع آب داخل مخزن h فرض شود، طبق شکل می توان نوشت:

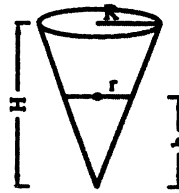
$$\frac{h}{H} = \frac{r}{R} \Rightarrow \frac{h}{12} = \frac{r}{4} \Rightarrow h = 3r$$

لذا حجم آب عبارت است از:

$$v = \frac{1}{3} \pi r^2 h = \frac{1}{3} \pi \left(\frac{h}{3}\right)^2 h \Rightarrow V = \frac{\pi h^3}{27}$$

$$\frac{dv}{dt} = \frac{\pi}{9} h^2 \frac{dh}{dt}$$

$$\frac{\pi}{4} = \frac{\pi}{9} (6)^2 \times \frac{dh}{dt} \Rightarrow \frac{dh}{dt} = \frac{1}{16}$$



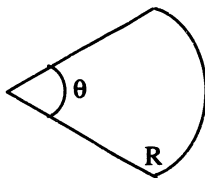
اکسترم کردن کمیت‌های دلخواه با استفاده از مشتق:

برخی مواقع یک کمیت موردنظر که می‌خواهیم آن را اکسترم کنیم، تابعی از دو متغیر می‌باشد. به گونه‌ای که بین این دو متغیر ارتباط خاصی نیز موجود است، در چنین مواقعی کافی است، رابطه کمیت مذکور را با متغیرهای گفته شده نوشته و سپس با توجه به رابطه خاصی که بین این دو متغیر وجود دارد، کمیت مذکور را تنها برحسب یک متغیر بازنویسی کنیم و در نهایت با استفاده از مشتق به اکسترم کردن آن بپردازیم.

مثال: قطاعی از یک دایره با شعاع R و زاویه مرکزی θ (برحسب رادیان) مفروض است. چنانچه محیط این قطاع ثابت باشد، مساحت این قطاع به ازای چه θ ای اکسترم می‌شود؟ و این اکسترم از چه نوعی است؟

حل:

$$\text{محیط قطاع} = 2R + R\theta = k \longrightarrow R = \frac{k}{2 + \theta}$$



زاویه مرکزی

$$2\pi$$

$$\theta$$

مساحت

$$s = \pi R^2$$

$$s = \frac{\pi R^2 \theta}{2\pi} = \frac{R^2 \theta}{2}$$

با توجه به اینکه در قسمت اول $R = \frac{k}{2 + \theta}$ به دست آمد، داریم:

بجای R مقدار $R = \frac{k}{2 + \theta}$ را قرار می‌دهیم:

$$s = \frac{R^2 \theta}{2} = \left(\frac{k}{2 + \theta}\right)^2 \frac{\theta}{2}$$

$$\frac{ds}{d\theta} = 0 \Rightarrow \frac{k^2}{2} \frac{(2 + \theta)^2 - 2(2 + \theta)\theta}{(2 + \theta)^4} = 0 \Rightarrow 2 + \theta - 2\theta = 0 \Rightarrow \theta = 2 \text{ rad}$$

لذا در $\theta = 2 \text{ rad}$ مساحت قطاع مذکور اکسترم شده و این اکسترم از جنس ماکزیمم است.

مثال: می‌خواهیم در داخل کره‌ای با شعاع واحد، استوانه‌ای با حجم ماکزیمم را محاط کنیم، ارتفاع این استوانه چقدر است؟

حل: داریم:

R : شعاع کره

x : شعاع قاعده استوانه

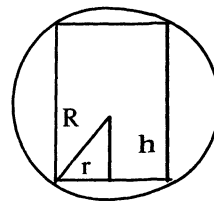
h: نصف ارتفاع استوانه

$$v = 2\pi r^2 \cdot h$$

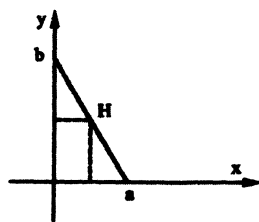
$$r^2 + h^2 = R^2 = 1$$

$$v = 2\pi (1 - h^2) \cdot h$$

$$\frac{dv}{dh} = 0 \Rightarrow 2\pi (1 - 3h^2) = 0 \Rightarrow h = \frac{1}{\sqrt{3}} \Rightarrow \text{ارتفاع استوانه} = 2h = \frac{2}{\sqrt{3}}$$



مثال: مثلث قائم الزاویه‌ای با رئوس $(0,0)$ $(a,0)$ $(0,b)$ مفروض است. $(a,b>0)$ یک مستطیل در داخل این مثلث به گونه‌ای محاط شده که یک راس آن روی مبدأ، دو ضلع آن منطبق بر محورهای مختصات و راس چهارم آن بر روی وتر مثلث می‌باشد. مساحت بزرگترین مستطیل ممکن چقدر است؟



حل: معادله وتر مثلث به صورت زیر خواهد بود:

$$y = \frac{-b}{a}x + b$$

مختصات نقطه H به صورت زیر خواهد بود:

$$H\left(x, \frac{-b}{a}x + b\right)$$

مساحت مستطیل رسم شده عبارت است از:

$$s = x_H \cdot y_H = x \left(\frac{-b}{a}x + b \right)$$

$$\frac{ds}{dx} = 0 \Rightarrow \frac{-2b}{a}x + b = 0 \Rightarrow x = \frac{a}{2}$$

با جایگذاری در معادله مساحت داریم:

$$s_{\max} = \frac{a}{2} \left(\frac{-b}{a} \times \frac{a}{2} + b \right) = \frac{ab}{4}$$

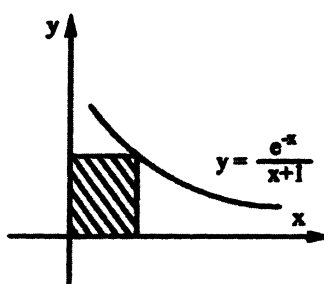
مثال: در شکل مقابل مساحت مستطیل وقتی ماکزیمم می‌شود که x برابر چه مقداری باشد؟

$$s = x \cdot y$$

$$s = x \times \frac{e^{-x}}{x+1} \Rightarrow s'(x) = \frac{1}{(1+x)^2} e^{-x} - \frac{x}{1+x} e^{-x}$$

$$s'(x) = 0 \Rightarrow \frac{e^{-x}}{(1+x)^2} (1 - x(1+x)) = 0 \Rightarrow$$

$$x^2 + x - 1 = 0 \Rightarrow x = \frac{-1 \pm \sqrt{5}}{2}$$



حل: مساحت مستطیل برابر است با:

بدیهی است $x = \frac{-1 + \sqrt{5}}{2}$ قابل قبول نبوده، لذا پاسخ $x = \frac{-1 + \sqrt{5}}{2}$ می‌باشد.

پیدا کردن کوتاهترین و بلندترین فاصله نقاط یک منحنی تا مبدا مختصات

اگر چه راه‌های متفاوتی وجود دارد، اما چنانچه منحنی موردنظر را در مختصات قطبی و برحسب متغیرهای r, θ بازنویسی کنیم، در حقیقت بیشترین و کمترین مقادیر ممکن برای r که به ازای θ های ممکن اتفاق می‌افتد، می‌تواند پاسخ به سؤالات موردنظر باشد. از آنجا که در این گونه مسایل r مبین فاصله هر نقطه از منحنی تا مبدا مختصات می‌باشد، لذا هدف، یافتن حداقل مقدار r به ازای θ می‌باشد.

مثال: بیشترین و کمترین فاصله منحنی $x^2 + xy + y^2 = 16$ تا مبدا مختصات کدام است؟

حل: با استفاده از دستگاه قطبی می‌توان نشان داد:

$$(r \cos \theta)^2 + (r^2 \cos \theta \sin \theta) + (r \sin \theta)^2 = 16$$

$$r^2 + r^2 \cos \theta \sin \theta = 16 \rightarrow r^2 = \frac{16}{1 + \sin \theta \cdot \cos \theta} = \frac{32}{2 + \sin 2\theta}$$

برای اینکه r^2 ماکزیمم مقدار خود را داشته باشد، باید مخرج کمترین مقدار را داشته باشد.

پس لذا باید: $\sin 2\theta = -1$

$$\sin 2\theta = -1 \rightarrow r_{\max}^2 = \frac{32}{-2-1} = 32 \rightarrow r_{\max} = \sqrt{32}$$

و برای اینکه r^2 مینیمم مقدار خود را داشته باشد باید مخرج ماکزیمم مقدار را داشته باشد.

پس باید: $\sin 2\theta = 1$

$$\sin 2\theta = 1 \rightarrow r_{\min}^2 = \frac{32}{2+1} = \frac{32}{3} \rightarrow r_{\min} = \sqrt{\frac{32}{3}}$$

مثال: کمترین و بیشترین فاصله مبدا مختصات از منحنی $x^2 + y^2 - 2x - 8 = 0$ است؟

حل: با استفاده از دستگاه قطبی می‌توان نشان داد:

$$(r \cos \theta)^2 + (r \sin \theta)^2 - 2r \cos \theta - 8 = 0 \Rightarrow r^2 - 2r \cos \theta - 8 = 0 \Rightarrow r = \cos \theta \pm \sqrt{\cos^2 \theta + 8}$$

با حل معادله درجه دوم به ازای مجهول r داریم:

از آنجا که $\cos \theta < \sqrt{\cos^2 \theta + 8}$ است و اساساً r نمی‌تواند منفی باشد داریم:

$$r = \cos \theta + \sqrt{\cos^2 \theta + 8}$$

$$\frac{dr}{d\theta} = -\sin \theta + \frac{-2 \cos \theta \sin \theta}{2\sqrt{\cos^2 \theta + 8}} = \frac{-\sin \theta (\sqrt{\cos^2 \theta + 8} + \cos \theta)}{\sqrt{\cos^2 \theta + 8}}$$

$$\frac{dr}{d\theta} = 0 \Rightarrow \begin{cases} \sin \theta = 0 \\ \sqrt{\cos^2 \theta + 8} + \cos \theta = 0 \end{cases}$$

بنابراین اکسترم‌های r به ازای $\sin \theta = 0$ اتفاق می‌افتد.

$$\theta = 0 \Rightarrow r = 1 + \sqrt{1+8} = 4$$

$$\theta = \pi \Rightarrow -1 + \sqrt{1+8} = 2$$

لذا حداقل و حداکثر فاصله مبدا از منحنی موردبحث به ترتیب $r_{\min} = 2$ و $r_{\max} = 4$ می‌باشد.

تقریب زدن توابع در نقاط خاص با استفاده از تعریف مشتق:

چنانچه Δx بسیار کوچک باشد، با استفاده از تقریب مشتق می توان نوشت:

$$\begin{cases} f(x_0 + \Delta x) = f(x_0) + f'(x_0) \cdot \Delta x \\ \Delta x \rightarrow 0 \quad \text{با شرط} \end{cases}$$

از این رابطه، زمانی استفاده می شود که مقدار این تابع و مقدار مشتق آن را در نقطه ای بدانیم و مقدار تابع مذکور را در نزدیکی های این نقطه بخواهیم.

مثال: تقریب مناسبی برای $\tan 29^\circ$ به دست آورید.

حل:

$$f(x) = \tan x \rightarrow f'(x) = 1 + \tan^2 x$$

$$x_0 = 30^\circ \quad \Delta x = -1^\circ = -\frac{\pi}{180} \text{ rad}$$

$$\tan 29^\circ = \tan(30^\circ - 1^\circ) \sim \tan 30^\circ + (1 + \tan^2 30^\circ) \cdot \frac{-\pi}{180} = 0.554$$

مثال: اگر Δx کوچک باشد، کدام عبارت زیر تقریب بهتری برای $\frac{1-\Delta x}{1+\Delta x}$ است؟

الف) 1

ب) $1 - \Delta x$

ج) $1 - 2\Delta x$

د) $1 + \Delta x$

حل:

$$I = \frac{1-\Delta x}{1+\Delta x} = \frac{1-\Delta x}{1+\Delta x} \cdot \frac{1-\Delta x}{1-\Delta x} = \frac{1-(\Delta x)^2 - 2\Delta x}{1-(\Delta x)^2}$$

چون Δx کوچک است، لذا $(\Delta x)^2$ بسیار کوچک است و قابل صرف نظر است. بنابراین داریم:

$$I \sim 1 - 2\Delta x$$

مثال: مقدار تقریبی $\text{Arc tan } \sqrt{1.01}$ را بیابید:

حل:

$$f(x) = \text{Arc tan } \sqrt{x} \rightarrow f'(x) = \frac{1}{2\sqrt{x}(1+x)}$$

$$x_0 = 1, \quad \Delta x = \frac{1}{100}$$

$$\text{Arc tan } \sqrt{1 + \frac{1}{100}} = \text{Arc tan } \sqrt{1} + \frac{1}{2\sqrt{1}(1+1)} \times \frac{1}{100}$$

$$\text{Arc tan } \sqrt{1.01} = \frac{\pi}{4} + \frac{1}{400}$$

چند قضیه:

الف) قضیه بولتزانو (قضیه مقدار میانی):

هرگاه تابع $y = f(x)$ در فاصله $[a, b]$ پیوسته باشد و داشته باشیم: $f(a) \cdot f(b) < 0$ آنگاه می توان نتیجه گرفت: $\exists c \in (a, b) \mid f(c) = 0$ از این قضیه در برخی مواقع برای مشخص کردن این که یک معادله در یک فاصله دارای ریشه است یا خیر استفاده می شود.

ب) قضیه رول:

تابع $y = f(x)$ را در نظر بگیرید. چنانچه سه شرط زیر برقرار باشد:

۱- تابع $f(x)$ در فاصله $[a, b]$ پیوسته باشد.

۲- تابع $f(x)$ در فاصله (a, b) مشتق پذیر باشد.

۳- $f(a) = f(b)$

$$\exists c \in (a, b) \mid f'(c) = 0$$

آنگاه می توان نشان داد:

توجه: از این قضیه نتیجه ای به دست آمده، که با استفاده از آن می توان در برخی مواقع راجع به تعداد ریشه های یک معادله در یک فاصله اظهار نظر کرد، نتیجه مذکور چنین است:

فرض کنید تابع $y = f(x)$ در فاصله $[a, b]$ پیوسته و در فاصله (a, b) مشتق پذیر باشد، در این صورت می توان نشان داد، اگر معادله $f'(x) = 0$ در فاصله $[a, b]$ دارای m ریشه باشد، معادله $f(x) = 0$ در فاصله مذکور حداکثر $m + 1$ ریشه دارد.

مثال: معادله $x^5 + x^3 - 1 = 0$ در کدام فاصله زیر دارای یک ریشه حقیقی است؟

(د) $[3, 5]$

(ج) $[1, 3]$

(ب) $[-1, 1]$

(الف) $[-2, -1]$

حل: تابع $f(x) = x^5 + x^3 - 1$ همواره پیوسته است. با جایگذاری گزینه ها در معادله داریم:

$$f(-1) = -3, \quad f(1) = 1 \Rightarrow f(-1) \cdot f(1) < 0$$

پس طبق قضیه بولتزانو، $f(x)$ در فاصله $[-1, 1]$ حتماً دارای صفر حقیقی خواهد بود.

مثال: فرض کنید داشته باشیم $g(x) = e^{-kx} \cdot f(x)$ که در آن k یک عدد ثابت می باشد. چنانچه تابع $f(x)$ در فاصله $[a, b]$ پیوسته و مشتق پذیر باشد و بدانیم $f(a) = f(b) = 0$ و $\exists c \in (a, b)$ آنگاه کدام یک از گزینه های زیر صحیح است؟

(د) $f'(c) = +kf(c)$

(ج) $f'(c) = -kf(c)$

(ب) $g''(c) = 0$

(الف) $f(c) = 0$

حل: با توجه به فرضیات مسئله بدیهی است برای تابع $f(x)$ شرایط قضیه رول در فاصله داده شده برقرار است. بنابراین داریم:

$$\exists n \in (a, b) \mid f'(n) = 0$$

از طرفی تابع e^{-kx} همواره پیوسته و مشتق پذیر است. لذا تابع $g(x)$ در فاصله $[a, b]$ پیوسته و مشتق پذیر است و $g(a) = g(b) = 0$.

$$\exists n \in (a, b) \mid g'(n) = 0$$

لذا طبق قضیه رول برای تابع $g(x)$ داریم:

$$\rightarrow g'(x) = -ke^{-kx} \cdot f(x) + e^{-kx} \cdot f'(x)$$

$$g'(n) = 0 \rightarrow -ke^{-kn} \cdot f(n) + e^{-kn} \cdot f'(n) = 0 \rightarrow f'(n) = kf(n)$$

پس گزینه (د) صحیح است.

مثال: در رابطه با تعداد ریشه های معادله $xe^x - 1 = 0$ در بازه $[0, 1]$ کدام عبارت صحیح است؟

(ب) حداکثر یک ریشه حقیقی دارد.

(الف) دارای ریشه حقیقی نمی باشد.

(د) فقط یک ریشه حقیقی دارد.

(ج) دو ریشه حقیقی دارد.

حل: از هر دو قضیه رول و مقدار میانی استفاده می کنیم:

ملاحظه می شود تابع $f(x) = xe^x - 1$ در فاصله $[0, 1]$ پیوسته و مشتق پذیر است. لذا داریم:

$$\left. \begin{array}{l} f(0) = -1 < 0 \\ f(1) = e - 1 > 0 \end{array} \right\} \xrightarrow{\text{طبق قضیه مقدار میانی}} \exists c \in (0, 1) \mid f(c) = 0$$

$$f'(x) = e^x + xe^x$$

اما داریم:

ملاحظه می شود تابع $f'(x)$ در فاصله مذکور دارای ریشه نمی باشد و لذا طبق قضیه رول معادله $f(x) = 0$ در این فاصله تنها یک ریشه دارد و گزینه (د) صحیح است.

مثال: در مورد معادله $x^2 - x \sin x - \cos x = 0$ می توان گفت؟

الف) فقط یک جواب دارد. ب) فقط دو جواب دارد. ج) بیش از دو جواب دارد. د) اصلاً جواب ندارد.

حل: با تعریف تابع $f(x) = x^2 - x \sin x - \cos x$ ملاحظه می شود که تابع مذکور زوج است.

$$f(-x) = (-x)^2 - (-x) \sin(-x) - \cos(-x) = x^2 - x \sin x - \cos x = f(x)$$

و نیز ملاحظه می شود $f(0) = -1 \neq 0$ و لذا معادله در $x = 0$ جوابی ندارد.

پس بحث خود را در $x \in (0, +\infty)$ ادامه می دهیم:

$$f'(x) = 2x - x \cos x - \sin x + \sin x = x(2 - \cos x) > 0$$

$$f(2\pi) = 4\pi^2 - 1 > 0, \quad f(0) = -1 < 0$$

پس طبق قضیه بولتزانو، معادله مزبور در فاصله $(0, +\infty)$ فقط و فقط یک ریشه دارد. لذا به واسطه زوج بودن تابع $f(x)$ در کل مجموعه اعداد حقیقی دارای تنها دو جواب است.

مثال: معادله $x^6 + x^4 + x^2 - 1 = 0$ دارای چند ریشه حقیقی است؟

الف) 6 ریشه ب) 4 ریشه ج) 2 ریشه د) ریشه حقیقی ندارد.

حل: تابع $f(x) = x^6 + x^4 + x^2 - 1$ همواره پیوسته و مشتق پذیر است. داریم:

$$f'(x) = 6x^5 + 4x^3 + 2x = 2x(3x^4 + 2x^2 + 1)$$

بدیهی است $f'(0) = 0$ پس تابع مذکور حداکثر دارای دو ریشه است. ملاحظه می شود:

$$f(10) > 0 \quad f(0) < 0 \quad f(-10) > 0$$

نمودار فقط دوبار محور x ها را قطع کرده است، تابع فقط دو ریشه دارد.

مثال: معادله $\cos^2 x + 3x + 2 = 0$ مفروض است، راجع به تعداد ریشه های حقیقی این معادله چه می توان گفت؟

الف) فاقد ریشه حقیقی ب) حداکثر یک ریشه حقیقی

ج) دو ریشه حقیقی د) فقط یک ریشه حقیقی

$$f'(x) = -\sin 2x + 3 > 0$$

حل: با تعریف $f(x) = \cos^2 x + 3x + 2$ داریم:

بنابراین، معادله $f'(x) = 0$ در R جواب ندارد. لذا معادله $f(x) = 0$ در R حداکثر یک جواب دارد. با کمی دقت متوجه می شویم شرایط قضیه مقدار میانی برقرار است و داریم:

$$\left. \begin{array}{l} f(0) > 0 \\ f(-10) < 0 \end{array} \right\} \rightarrow \exists c \in (-10, 0) \mid f(c) = 0$$

لذا معادله موردنظر یک و فقط یک ریشه حقیقی دارد و گزینه (د) صحیح است.

ج) قضیه لاگرانژ (قضیه مقدار میانگین در مشتق):

تابع $y = f(x)$ را در نظر بگیرید چنانچه:الف) تابع $f(x)$ در فاصله $[a, b]$ پیوسته باشد.ب) تابع $f(x)$ در فاصله (a, b) مشتق پذیر باشد.

آنگاه می توان نشان داد:

$$\exists c \in (a, b) \mid \frac{f(b) - f(a)}{b - a} = f'(c)$$

از این قضیه نتیجه زیر به دست می آید:

هرگاه تابع $y = f(x)$ در فاصله $[a, b]$ دارای شرایط قضیه لاگرانژ باشد، می توان گفت:

$$\min f'(x) \leq \frac{f(b) - f(a)}{b - a} \leq \max f'(x)$$

که در نامساوی فوق مقادیر ماکزیمم و مینیمم $f'(x)$ با توجه به x های متعلق به فاصله $[a, b]$ انتخاب می شود.مثال: اگر $f(1) = 10$ به ازای $1 \leq x \leq 4$ داشته باشیم؛ $f'(x) \geq 2$ ، در این صورت کمترین مقدار $f(4)$ چقدر است؟

د) 16

ج) 15

ب) 14

الف) 13

حل: طبق نتیجه قضیه لاگرانژ داریم:

$$\frac{f(4) - f(1)}{4 - 1} \geq 2 \Rightarrow \frac{f(4) - 10}{3} \geq 2 \Rightarrow f(4) \geq 16$$

گزینه (د) صحیح است.

مثال: فرض کنید $f(x)$ همواره مشتق پذیر باشد و $f(2) = -3$ ، اگر به ازای $2 < x < 5$ داشته باشیم $1 < f'(x) < 2$ ، آنگاه، مطلوب است حدود $f(5)$.حل: شرایط قضیه لاگرانژ در بازه $[2, 5]$ برقرار است.

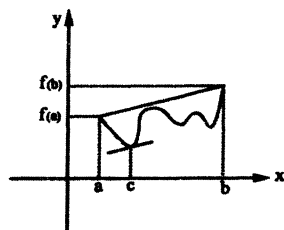
$$\min f'(x) < \frac{f(5) - f(2)}{5 - 2} < \max f'(x)$$

$$1 < \frac{f(5) + 3}{3} < 2 \Rightarrow 3 < f(5) + 3 < 6 \Rightarrow 0 < f(5) < 3$$

مثال: برای تابع $f(x) = x^2 - 3x + 1$ که در فاصله $[1, 3]$ تعریف شده است، c متناظر با قضیه لاگرانژ را پیدا کنید، این c از نظر هندسی چه مفهومی دارد؟حل: همان طور که ملاحظه می شود تابع مذکور در فاصله $[1, 3]$ شرایط قضیه لاگرانژ را دارد.

$$f(3) = 1$$

$$f(1) = -1$$



مطابق قضیه لاگرانژ باید داشته باشیم:

$$\frac{f(3)-f(1)}{3-1} = \frac{1-(-1)}{3-1} = \frac{2}{2} = 1$$

$$f'(x) = 2x - 3 = 1 \Rightarrow x = 2, c = x = 2$$

از نظر هندسی: مماس در c بر روی نمودار تابع $f(x)$ موازی خطی است که از دو نقطه $(a, f(a))$, $(b, f(b))$ می گذرد.

$$f'(x) = \frac{1}{x^4 + x^2 + 1}$$

مثال: تابع $f(x)$ در فاصله $[-2, 1]$ پیوسته و مشتق پذیر است و داریم:

چنانچه بدانیم $f(1) = 2$ می باشد، راجع به حدود $f(-2)$ چه اظهار نظر می کنیم:

حل: بدیهی است که تابع مذکور شرایط قضیه لاگرانژ را دارد و نیز داریم:

$$\min f'(x) = f'(-2) = \frac{1}{21}, \max f'(x) = f'(0) = 1$$

لذا طبق قضیه لاگرانژ داریم:

$$\frac{1}{21} \leq \frac{f(1)-f(-2)}{1-(-2)} \leq 1 \Rightarrow \frac{1}{21} \leq \frac{2-f(-2)}{3} \leq 1$$

$$-1 < f(-2) \leq 2 - \frac{3}{21} \Rightarrow -1 \leq f(-2) \leq \frac{13}{7}$$

مثال: در تابع با ضابطه $f(x) = \tan^{-1} x$, $0 \leq x \leq 1$, مقدار $\frac{\tan^{-1} x}{x}$ در کدام فاصله واقع است؟

حل: تابع $f(x) = \tan^{-1} x$ در فاصله $[0, x]$ که در آن $0 \leq x \leq 1$ است، شرایط قضیه لاگرانژ را داراست.

$$\min f'(x) \Big|_{(0,x)} < \frac{f(x)-f(0)}{x-0} < \max f'(x) \Big|_{(0,x)}$$

اما داریم $f'(x) = \frac{1}{1+x^2}$ و بدیهی است در فاصله مورد بحث، حداقل و حداکثر f' به ترتیب در نقاط $x=0$, $x=1$ رخ می دهد و

$\frac{1}{2}$, 1 خواهند بود.

$$\frac{1}{2} < \frac{\tan^{-1} x}{x} < 1$$

مثال: تابع $f(x) = \begin{cases} \cos x & -1 \leq x \leq 0 \\ x^2 + x + 1 & 0 < x \leq 1 \end{cases}$ مفروض است. آیا تابع مذکور حائز شرایط قضیه لاگرانژ در فاصله $[-1, 1]$ می باشد؟

حل: بدیهی است، هدف بررسی پیوستگی و مشتق پذیری تابع در فاصله داده شده است و کافی است این موضوع را در جایی که ضابطه

تابع تغییر کرده یعنی $x=0$ بررسی کنیم:

$$\lim_{x \rightarrow 0^+} f(x) = 1 \quad \lim_{x \rightarrow 0^-} f(x) = 1 \quad f(0) = 1$$

پیوستگی برقرار است.

حال مشتق پذیری را در نقطه $x=0$ بررسی می کنیم:

$$f'_+(0) = (x^2 + x + 1)' \Big|_{x=0} = (2x + 1) \Big|_{x=0} = 1$$

$$f'_-(0) = (\cos x)' \Big|_{x=0} = (-\sin x) \Big|_{x=0} = 0$$

این تابع در $x=0$ مشتق پذیر نیست.

بنابراین تابع $f(x)$ در فاصله داده شده دارای شرایط قضیه لاگرانژ نمی باشد.

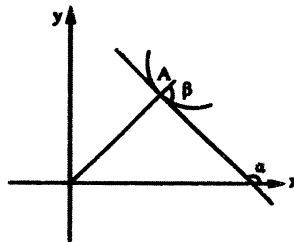
زاویه بین خط مماس بر یک منحنی قطبی در یک نقطه و شعاع حامل آن نقطه:

فرض کنید بر منحنی $r = f(\theta)$ در نقطه A خط مماسی رسم کرده باشیم، زاویه بین این خط مماس و شعاع حامل نقطه A از رابطه زیر به دست می آید:

$$\tan \beta = \frac{r}{\frac{dr}{d\theta}} \bigg|_{\theta}$$

و همچنین زاویه خط مماس با جهت مثبت محور x ها از رابطه زیر به دست می آید:

$$\tan \alpha = \frac{r + \left(\frac{dr}{d\theta}\right) \tan \theta}{-r \tan \theta + \left(\frac{dr}{d\theta}\right)} \bigg|_{\theta}$$



مثال: بر منحنی قطبی $r = \frac{1}{\theta + \cos \theta}$ در نقطه ای متناظر با $\theta = 0$ خط مماس رسم کرده ایم. زاویه بین خط مماس مذکور و شعاع حامل نقطه مربوط را پیدا کنید.

حل:

$$\tan \alpha = \frac{r}{\frac{dr}{d\theta}} = \frac{\frac{1}{\theta + \cos \theta}}{\frac{-\theta + \sin \theta}{(\theta + \cos \theta)^2}} = \frac{\theta + \cos \theta}{-1 + \sin \theta} = \frac{0 + \cos 0}{-1 + \sin 0} = -1 \Rightarrow \alpha = \frac{3\pi}{4}$$

قاعده مشتق گیری ضمنی

قاعده مشتق گیری ضمنی: چنانچه داشته باشیم: $F(x, y) = 0$ برای به دست آوردن مشتق y نسبت به x می توان از رابطه زیر استفاده کرد.

$$y' = \frac{-F'_x}{F'_y}$$

توجه: باید دقت کرد که اگر نخواهیم از رابطه مذکور استفاده کنیم یا اصولاً هدف محاسبه مشتقات بالاتر y باشد، می توان از رابطه $F(x, y) = 0$ مشتق گیری معمولی کرد تا تکلیف y' مشخص شود. البته توجه داریم در حین انجام این کار، y تابع و x متغیر مستقل خواهد بود.

مثال: اگر $x^y = y^x$ باشد. آنگاه مطلوب است $\frac{dy}{dx}$:

حل: از طرفین لگاریتم در مبنای n پر می گیریم:

$$y \ln x = x \ln y$$

$$y' \ln x + y \frac{1}{x} = \ln y + x \frac{y'}{y}$$

$$y' \left(\ln x - \frac{x}{y} \right) = \ln y - \frac{y}{x} \Rightarrow y' = \frac{\ln y - \frac{y}{x}}{\ln x - \frac{x}{y}} = \frac{y}{x} \times \frac{x \ln y - y}{y \ln x - x}$$

مثال: فرض کنید داشته باشیم $x^3 + \ln x + x^2 y + \cos y - 2 = 0$ مطلوب است محاسبه y' در نقطه $(1, 0)$:

حل: طبق رابطه بالا داریم:

$$y' = - \frac{3x^2 + \frac{1}{x} + 2xy}{x^2 - \sin y} \bigg|_{(1,0)} = -4$$

راه حل دوم: استفاده از مشتق گیری معمولی با در نظر گرفتن y به عنوان تابعی از x ، داریم:

$$3x^2 + \frac{1}{x} + 2xy + x^2 y' - y' \sin y = 0 \bigg|_{(1,0)} \Rightarrow y' = -4$$

مثال: معادله‌ی منحنی‌ای پیدا کنید که از نقطه $(2, 1)$ بگذرد و عمود بر منحنی در هر نقطه (x, y) دارای شیب $\frac{2xy}{y^2 - x^2}$ باشد.

حل: می‌دانیم خط قائم عمود بر خط مماس است.

$$m = \frac{x^2 - y^2}{2xy} \text{ مماس}$$

اگر معادله $F(x, y) = 0$ فرض شود. طبق قاعده مشتق گیری ضمنی باید داشته باشیم:

$$y' = - \frac{F_x}{F_y} = \frac{x^2 - y^2}{2xy} \Rightarrow \begin{cases} F_x = y^2 - x^2 \rightarrow F = y^2 x - \frac{x^3}{3} + h(y) \\ F_y = 2xy \rightarrow F = y^2 x + g(x) \end{cases} \begin{matrix} \text{با احتمال جواب ها} \\ \Rightarrow \end{matrix} F(x, y) = y^2 x - \frac{x^3}{3} + k$$

یعنی داریم: $y^2 x - \frac{x^3}{3} + k = 0$ با قرار دادن نقطه $(2, 1)$ در این رابطه داریم:

$$2 - \frac{8}{3} + k = 0 \Rightarrow k = \frac{2}{3}$$

پس معادله به صورت $x^3 - 3xy^2 = 2$ خواهد بود.

قاعده مشتق گیری از توابع پارامتری

چنانچه داشته باشیم $\begin{cases} x = P(t) \\ y = Q(t) \end{cases}$ می‌توان نشان داد:

$$y' = \frac{dy}{dx} = \frac{\frac{dQ}{dt}}{\frac{dP}{dt}}$$

قاعده مشتق گیری زنجیره‌ای

فرض کنید داشته باشیم:

$$y = h(u), \quad u = m(t), \quad t = f(x)$$

در چنین شرایطی طبیعی است، y قابل بیان بر حسب فقط یک متغیر x خواهد بود که:

$$y' = \frac{dy}{dx} = \frac{dy}{du} \cdot \frac{du}{dt} \cdot \frac{dt}{dx}$$

مثال: اگر $\lim_{x \rightarrow 2} \frac{f(x) - f(2)}{x - 2} = \sqrt{3}$ باشد. مشتق عبارت $f(1 + 2 \sin x)$ به ازای $x = \frac{\pi}{6}$ را به دست آورید؟

حل: عبارت $\lim_{x \rightarrow 2} \frac{f(x) - f(2)}{x - 2} = \sqrt{3}$ در حقیقت تعریف مشتق تابع در $x = 2$ می باشد:

$$f'(2) = \sqrt{3}$$

$$y = f(1 + 2 \sin x) \Rightarrow y' = (2 \cos x) f'(1 + 2 \sin x) \Big|_{x=\frac{\pi}{6}} = \left(2 \cos \frac{\pi}{6} \right) f' \left(1 + 2 \sin \frac{\pi}{6} \right) = \sqrt{3} f'(2) = \sqrt{3} \cdot \sqrt{3} = 3$$

مثال: فرض کنید داشته باشیم:

$$\begin{cases} x = t^2 + t + 1 \\ y = t^3 + 2t^2 - t + 2 \end{cases}$$

مطلوب است محاسبه $\frac{d^2y}{dx^2}$ در $t = 1$:

حل:

$$\frac{dy}{dx} = \frac{\frac{dy}{dt}}{\frac{dx}{dt}} = \frac{3t^2 + 4t - 1}{2t + 1} \Rightarrow \frac{d^2y}{dx^2} = \frac{d}{dx} \left\{ \frac{3t^2 + 4t - 1}{2t + 1} \right\} = \frac{d}{dt} \left\{ \frac{3t^2 + 4t - 1}{2t + 1} \right\} \cdot \frac{dt}{dx}$$

$$\frac{dt}{dx} = \frac{1}{\frac{dx}{dt}}$$

پس:

$$\frac{d^2y}{dx^2} = \frac{(6t + 4)(2t + 1) - 2(3t^2 + 4t - 1)}{(2t + 1)^2} \times \frac{1}{2t + 1} \Big|_{t=1} = \frac{2}{3}$$

توابع معکوس و بحثهای مربوطه:

همان طوری که می دانیم، اگر تابعی مانند $f(x)$ در فاصله $[a, b]$ پیوسته و چنانچه اکیداً یک نوا باشد ($f'(x) > 0$ یا $f'(x) < 0$)، آنگاه در این فاصله معکوس پذیر است. یعنی می توان تابعی مانند $g(x)$ را به گونه ای یافت که داشته باشیم:

$$f(g(x)) = g(f(x)) = x$$

در این صورت $g(x)$ همان $f^{-1}(x)$ خواهد بود.

برای پیدا کردن ضابطه معکوس تابع $y = f(x)$ کافی است از این ضابطه x را بر حسب y به دست آوریم، یعنی به رابطه ای مانند $x = g(y)$ برسیم. حال می توان ادعا کرد:

$$f^{-1}(x) = g(x)$$

توجه داشته باشید که:

الف) نمودار توابع $f(x)$, $f^{-1}(x)$ نسبت به خط $y=x$ قرینه هم‌دیگرند، یعنی اگر نقطه (a, b) به نمودار $f(x)$ تعلق داشته باشد، نقطه (b, a) به نمودار $f^{-1}(x)$ تعلق دارد.

ب) اگر (a, b) متعلق به تابع $f(x)$ باشند، می‌دانیم $(b, a) \in f^{-1}(x)$ و داریم:

$$\left(f^{-1}(x)\right)'(b) = \frac{1}{f'(a)}$$

مثال: تابع $f(x) = x - \frac{1}{x}$ با شرط $x > 0$ مفروض است. معکوس این تابع محور y ها را در چه عرضی قطع می‌کند؟

حل: نخست ضابطه معکوس این تابع را مشخص می‌کنیم:

$$y = x - \frac{1}{x} \rightarrow y = \frac{x^2 - 1}{x} \rightarrow x^2 - xy - 1 = 0 \rightarrow x = \frac{y \pm \sqrt{y^2 + 4}}{2}$$

اما با توجه به شرط $x > 0$ داریم:

$$x = \frac{y + \sqrt{y^2 + 4}}{2}$$

و معکوس تابع عبارت است از:

$$f^{-1}(x) = \frac{x + \sqrt{x^2 + 4}}{2}$$

حال نقطه موردنظر را با قرار دادن $x = 0$ به‌دست می‌آوریم:

$$f^{-1}(0) = \frac{0 + \sqrt{0 + 4}}{2} = 1$$

مثال: تابع $f(x) = \int_1^x \sqrt{t^4 + 1} dt$ مفروض است. چنانچه در نقطه‌ای به طول 0 از نمودار معکوس این تابع، خط مماسی بر نمودار $f^{-1}(x)$ ترسیم شود، معادله خط مماس را بنویسید.

حل: می‌دانیم:

$$(0, a) \in f^{-1} \Rightarrow (a, 0) \in f$$

بنابراین داریم:

$$f(a) = 0 \rightarrow \frac{x}{2} = 1 \Rightarrow x = 2 = a$$

از طرفی داریم:

$$\left(f^{-1}\right)'(0) = \frac{1}{f'(a)} = \frac{1}{f'(2)}$$

لذا با استفاده از قضیه مشتق‌گیری از انتگرال داریم:

$$f'(x) = 0 + \frac{1}{2} \times \sqrt{\frac{x^4}{16} + 1} \Rightarrow f'(2) = \frac{1}{2} \sqrt{2}$$

می‌دانیم مشتق در نقطه تماس، شیب خط مماس است. لذا داریم:

$$m = \left(f^{-1}\right)'(0) = \frac{1}{f'(2)} = \sqrt{2}$$

$$y - 2 = \sqrt{2}(x - 0) \rightarrow y = \sqrt{2}x + 2$$

نکته: با توجه به تعریف توابع هیپربولیک که به صورت زیر بیان می‌گردد:

$$\sinh x = \frac{e^x - e^{-x}}{2}, \quad \cosh x = \frac{e^x + e^{-x}}{2}$$

می‌توان انتظار داشت، معکوس توابع هیپربولیک به صورت توابع لگاریتمی بیان می‌شود.

مثال: معکوس تابع $\sinh x$ را به دست آورید.

حل:

$$y = \frac{(e^x - e^{-x})}{2}$$

$$2y = e^x - e^{-x} \xrightarrow{\text{ضرب طرفین در } e^x} 2e^x y = e^{2x} - 1 \Rightarrow e^{2x} - 2ye^x - 1 = 0 \xrightarrow{e^x = z} z^2 - (2y)z - 1 = 0$$

با توجه به اینکه می‌دانیم $y > \sqrt{y^2 + 1}$ است. لذا قسمت منفی عبارت مورد قبول نمی‌باشد.

$$z = \frac{y \pm \sqrt{y^2 + 1}}{1} \Rightarrow x = \ln \left(y \pm \sqrt{y^2 + 1} \right)$$

$$\rightarrow x = \ln \left(y + \sqrt{y^2 + 1} \right) \Rightarrow f^{-1}(x) = \ln \left(x + \sqrt{x^2 + 1} \right)$$

مثال: فرض کنید داشته باشیم $f(x) = \log_3(4^x + 1)$ ، مطلوب است محاسبه معکوس این تابع.

حل:

$$f(x) = \log_3(4^x + 1) \rightarrow 3^y = 4^x + 1 \rightarrow 4^x = 3^y - 1 \rightarrow x \log 4 = \log(3^y - 1) \rightarrow x = \frac{\log(3^y - 1)}{\log 4}$$

$$x = \log_4(3^y - 1) \rightarrow f^{-1}(x) = \log_4(3^x - 1)$$

مثال: فرض کنید داشته باشیم $f(x) = \int_1^x \frac{dt}{\sqrt{1+t^3}}$ ، چنانچه معکوس تابع را $g(x)$ بنامیم. حاصل $\frac{g''(x)}{g^2(x)}$ را بیابید.

حل:

با مشتق‌گیری از تابع $f(x)$ داریم:

$$f(g(x)) = f(x) \rightarrow \text{مشتق‌گیری} \quad g'(x) \cdot f'(g(x)) = 1$$

$$\rightarrow g'(x) \cdot \frac{1}{\sqrt{1+(g(x))^3}} = 1 \rightarrow g'(x)^2 = 1 + (g(x))^3 \rightarrow \text{مشتق‌گیری}$$

$$2g'(x)g''(x) = 3g^2(x)g'(x) \rightarrow \frac{g''(x)}{g^2(x)} = \frac{3}{2}$$

فصل ششم

انتگرال گیری و بحث‌های وابسته

الف) تعریف انتگرال نامعین: فرض کنید $F(x)$ یک تابع اولیه برای $f(x)$ باشد. یعنی $F'(x) = f(x)$ ، آنگاه داریم:

$$\int f(x) dx = F(x) + c$$

ب) تعریف انتگرال معین (قضیه اساسی حساب): هرگاه تابع $f(x)$ در فاصله $[a, b]$ پیوسته باشد و $F(x)$ یک تابع اولیه برای $f(x)$ باشد، آنگاه داریم:

$$\int_a^b f(x) dx = F(b) - F(a)$$

چنانچه مشخص است، یکی از بحث‌های اصلی در مسائل انتگرال، پیدا کردن تابع اولیه است. در ادامه چند روش برای یافتن تابع اولیه آورده شده است.

در قسمت پایین چند رابطه انتگرالی مهم به عنوان یادآوری مطرح شده است:

$$\int u^m du = \begin{cases} \ln |u| & m = -1 \\ \frac{u^{m+1}}{m+1} & m \neq -1 \end{cases}$$

$$\int \frac{du}{u^2 + a^2} = \frac{1}{a} \tan^{-1} \frac{u}{a} + c$$

$$\int \frac{du}{\sqrt{a^2 - u^2}} = \sin^{-1} \frac{u}{a} + c$$

$$\int \frac{du}{\sqrt{u^2 + 1}} = \sinh^{-1} u + c = \ln(u + \sqrt{u^2 + 1})$$

$$\int \frac{du}{\sqrt{u^2 - 1}} = \cosh^{-1} u = \ln(u + \sqrt{u^2 - 1})$$

$$\int \frac{du}{u^2 - a^2} = \frac{1}{2a} \ln \left| \frac{u-a}{u+a} \right| + c$$

$$\int \frac{du}{(u-a)(u-b)} = \frac{1}{a-b} \ln \left| \frac{u-a}{u-b} \right| + c$$

مثال: مطلوب است محاسبه انتگرال‌های زیر:

$$1) I = \int \frac{x^3 + x + 1}{x^2 + 4} dx$$

با تقسیم چند جمله‌ای صورت بر مخرج داریم:

$$\begin{aligned} & \frac{x^3 + x + 1}{x^2 + 4} = \frac{x}{1} + \frac{x^3 + x + 1 - x(x^2 + 4)}{x^2 + 4} \\ & \frac{x^3 + x + 1}{x^2 + 4} = \frac{x^3 + x + 1 - x^3 - 4x}{x^2 + 4} = \frac{-3x + 1}{x^2 + 4} \\ I &= \int \left(x - \frac{3x}{x^2 + 4} + \frac{1}{x^2 + 4} \right) dx = \frac{x^2}{2} - \frac{3}{2} \ln(x^2 + 4) + \frac{1}{2} \tan^{-1} \frac{x}{2} \end{aligned}$$

$$2) I = \int \frac{x + 2}{x^2 + 2x + 5} dx$$

با ایجاد مربع کامل در مخرج داریم:

$$I = \int \frac{(x+1)+1}{(x+1)^2 + 4} dx = \int \frac{x+1}{(x+1)^2 + 4} dx + \int \frac{dx}{(x+1)^2 + 4} = \frac{1}{2} \ln((x+1)^2 + 4) + \frac{1}{2} \tan^{-1} \frac{x+1}{2} + c$$

نکته ۱: انتگرال‌گیری از توابع زوج و فرد در یک فاصله متقارن.

اگر تابع $f(x)$ در فاصله $[-a, +a]$ پیوسته باشد می‌توان نشان داد:

$$\int_{-a}^{+a} f(x) dx = 2 \int_0^a f(x) dx$$

الف) اگر $f(x)$ تابعی زوج باشد.

$$\int_{-a}^{+a} f(x) dx = 0$$

ب) اگر $f(x)$ تابعی فرد باشد.

نکته ۲: توجه شود که توابع $f(x) = \log_* \left(\frac{a-x}{a+x} \right)$ و $f(x) = \log_* \left(ax + \sqrt{a^2 x^2 + 1} \right)$ توابعی فرد می‌باشند.

مثال: مطلوب است محاسبه انتگرال زیر:

$$I = \int_{-\frac{1}{2}}^{+\frac{1}{2}} \ln \left(\frac{2-x}{2+x} \right) \cdot \tan^6 x \, dx$$

مقدار انتگرال موردنظر صفر می‌باشد. چون بدیهی است تابع $\ln \frac{2-x}{2+x}$ فرد و تابع $\tan^6 x$ زوج می‌باشد. پس تابع حاصل ضرب آن دو، تابعی فرد است که طبق نکته بالا در یک فاصله متقارن مقدار انتگرال فوق، صفر خواهد بود.

مثال: مطلوب است محاسبه انتگرال مقابل:

$$I = \int_{-1}^{+1} \cos x \cdot \log_{10} \left(3x + \sqrt{9x^2 + 1} \right) dx$$

حل: مشابه مساله قبل، مقدار این انتگرال نیز صفر می‌باشد. چون تابع $\cos x$ زوج و تابع $\log_{10} \left(3x + \sqrt{9x^2 + 1} \right)$ تابعی فرد می‌باشد. بنابراین حاصل ضرب این دو تابع نیز فرد می‌باشد و طبق نکته قبل، مقدار انتگرال مساوی صفر می‌باشد.

مثال: مقدار a چقدر باشد، تا حاصل انتگرال زیر برابر صفر شود؟

$$\int_{-4}^4 \ln(ax + \sqrt{4x^2 + 1}) \cos x \, dx$$

حل: بدیهی است تابع زیر انتگرال، باید به تابعی فرد تبدیل شود و می دانیم تابع $\cos x$ تابعی زوج است، لذا چنانچه کاری کنیم که تابع $\ln(ax + \sqrt{4x^2 + 1})$ فرد شود تابع زیر انتگرال، تابعی فرد خواهد شد:

شرط این که تابعی فرد باشد این است که:

$$f(x) + f(-x) = 0 \Rightarrow f(x) = -f(-x)$$

در نتیجه داریم:

$$\ln(-ax + \sqrt{4x^2 + 1}) + \ln(ax + \sqrt{4x^2 + 1}) = 0$$

$$\ln(-a^2x^2 + 4x^2 + 1) = 0 \rightarrow -a^2x^2 + 4x^2 + 1 = 1 \Rightarrow a^2x^2 = 4x^2 \Rightarrow a^2 = 4 \rightarrow a = \pm 2$$

البته بدیهی است با استفاده از نکته گفته شده مقدار a برابر ± 2 می باشد.

تکنیک های انتگرال گیری

الف) روش تغییر متغیر:

چنانچه در محاسبه انتگرال $I = \int f(x) dx$ ، بتوان با معرفی یک متغیر جدید مانند u ، مسئله را به انتگرالی بر حسب تابع u تبدیل کرد، و سپس انتگرال مذکور را محاسبه نمود اصطلاحاً می گویند، انتگرال گیری به روش تغییر متغیر صورت گرفته است و با نوشتن جواب نهایی بر حسب x حاصل I به دست خواهد آمد. لذا به وضوح دیده می شود اعمال مناسب تغییر متغیر، در انتخاب مناسب متغیر جدید نهفته است.

مثال: مطلوب است محاسبه انتگرال زیر:

$$I = \int_0^{\infty} \frac{3x^2}{1+x^6} dx$$

حل: با تغییر متغیر $x^3 = u$ داریم: $3x^2 dx = du$ پس می توان نوشت:

$$\int_0^{\infty} \frac{du}{1+u^2} = \tan^{-1} u \Big|_0^{\infty} = \frac{\pi}{2} - 0 = \frac{\pi}{2}$$

مثال: مطلوب است محاسبه انتگرال زیر:

$$I = \int_e^{e^2} \frac{dx}{x(\ln x + 1)}$$

حل: با تغییر متغیر $\ln x + 1 = u$ داریم:

$$\frac{dx}{x} = du \rightarrow dx = x du$$

$$I = \int \frac{x du}{xu} = \int \frac{du}{u} = \ln(u) = \ln(\ln(x) + 1) \Big|_e^{e^2} = \ln \frac{3}{2}$$

مثال: مطلوب است حاصل انتگرال زیر:

$$I = \int \frac{dx}{x - \sqrt{x}}$$

$$x = u^2 \Rightarrow dx = 2u du$$

$$I = \int \frac{2u du}{u^2 - u} = \int \frac{2 du}{u - 1} = 2 \ln |u - 1| = 2 \ln |\sqrt{x} - 1|$$

حل: با تغییر متغیر $\sqrt{x} = u$ داریم:

مثال: مطلوب است محاسبه انتگرال زیر:

$$I = \int \frac{\sin 2x}{\sqrt{4 - \cos^2 x}} dx$$

$$-\sin 2x \, dx = du$$

$$I = \int \frac{-du}{\sqrt{4 - u}} = 2\sqrt{4 - u} + c = 2\sqrt{4 - \cos^2 x} + c$$

حل: با تغییر متغیر $\cos^2 x = u$ داریم:

مثال: مطلوب است محاسبه انتگرال زیر:

$$I = \int \frac{dx}{e^x + e^{-x}}$$

$$I = \int \frac{e^x dx}{e^{2x} + 1} \quad \text{حل: صورت و مخرج را در } e^x \text{ ضرب می کنیم:}$$

با تغییر متغیر $e^x = u$ داریم $e^x dx = du$

$$I = \int \frac{e^x \cdot dx}{e^x (e^{2x} + 1)} = \int \frac{du}{u^2 + 1} = \tan^{-1} u + c = \tan^{-1} e^x + c$$

مثال: مطلوب است محاسبه انتگرال زیر:

$$I = \int x^x (1 + \ln x) dx$$

حل: با تغییر متغیر $u = x^x$ داریم $x \ln x = \ln u$

$$\left(\ln x + \frac{x}{x} \right) dx = \frac{du}{u}$$

$$I = \int u (1 + \ln x) \cdot \frac{du}{u (1 + \ln x)} = \int du = u + c = x^x + c$$

مثال: چنانچه بدانیم $I = \int_1^2 f(x) dx = 5$ مطلوب است محاسبه انتگرال زیر:

$$J = \int_{\frac{1}{\sqrt{2}}}^1 \frac{1}{x^3} f\left(\frac{1}{x^2}\right) dx$$

$$dT = \frac{-2x}{x^4} dx = \frac{-2}{x^3} dx \quad \text{حل: با تغییر متغیر } T = \frac{1}{x^2} \text{ داریم:}$$

برای تغییر حدود انتگرال نیز داریم:

$$\begin{cases} x = 1 \rightarrow T = 1 \\ x = \frac{1}{\sqrt{2}} \rightarrow T = 2 \end{cases}$$

$$J = \int_{\frac{1}{\sqrt{2}}}^1 \frac{1}{x^3} f\left(\frac{1}{x^2}\right) dx = \int_2^1 \frac{dT}{-2} \times f(T) = \int_1^2 \frac{f(T)}{2} dT = \frac{5}{2}$$

مثال: مطلوب است حاصل انتگرال زیر:

$$I = \int_0^{\frac{\pi}{4}} \frac{1 + \tan^2 \theta}{2 + \tan^2 \theta} \cdot d\theta$$

حل: با تغییر متغیر $\tan \theta = u$ داریم:

$$(1 + \tan^2 \theta) d\theta = du \Rightarrow (1 + u^2) d\theta = du$$

$$\begin{cases} \theta = 0 \Rightarrow u = 0 \\ \theta = \frac{\pi}{4} \Rightarrow u = 1 \end{cases}$$

$$I = \int_0^{\frac{\pi}{4}} \frac{1 + \tan^2 \theta}{2 + \tan^2 \theta} \cdot d\theta = \int_0^1 \frac{1 + u^2}{2 + u^2} \times \frac{du}{1 + u^2} = \int_0^1 \frac{du}{2 + u^2} = \frac{1}{\sqrt{2}} \operatorname{Arc tan} \frac{u}{\sqrt{2}} \Big|_0^1 = \frac{1}{\sqrt{2}} \operatorname{Arc tan} \frac{\sqrt{2}}{2}$$

تذکر: برخی از انتگرال ها با روش تغییر متغیر مثلثاتی قابل حل اند. عموماً برای حل انتگرال هایی به فرم زیر از تغییر متغیرهای مناسب مثلثاتی استفاده می کنیم:

تغییر متغیر مناسب	عبارت
$u = a \sin \theta$	$\sqrt{a^2 - u^2}$
$u = a \tan \theta$	$\sqrt{a^2 + u^2}$
$u = a \sec \theta$	$\sqrt{u^2 - a^2}$

مثال: مطلوب است محاسبه انتگرال زیر:

$$I = \int \frac{du}{\sqrt{4 + u^2}}$$

حل: با تغییر متغیر $u = 2 \tan \theta$ داریم:

$$du = 2 \sec^2 \theta \cdot d\theta$$

$$I = \int \frac{2 \sec^2 \theta \cdot d\theta}{\sqrt{4 + 4 \tan^2 \theta}} = \int \frac{2 \sec^2 \theta}{\sqrt{4(1 + \tan^2 \theta)}} = \int \frac{\sec^2 \theta}{|\sec \theta|} d\theta = \int \sec \theta d\theta = \ln |\sec \theta + \tan \theta|$$

$$= \ln \left| \frac{\sqrt{4 + u^2}}{2} + \frac{u}{2} \right| + c = \ln \left| \sqrt{4 + u^2} + u \right| + c'$$

مثال: مطلوب است محاسبه انتگرال زیر:

$$I = \int \frac{x^2 dx}{\sqrt{9 - x^2}}$$

حل: با تغییر متغیر $x = 3 \sin \theta$ داریم:

$$dx = 3 \cos \theta \cdot d\theta$$

$$I = \int \frac{x^2 dx}{\sqrt{9 - x^2}} = \int \frac{9 \sin^2 \theta \cdot 3 \cos \theta \cdot d\theta}{|3 \cos \theta|} = 9 \int \sin^2 \theta \cdot d\theta = 9 \int \frac{1 - \cos 2\theta}{2} \cdot d\theta = \frac{9}{2} \left(\theta - \frac{\sin 2\theta}{2} \right) + c$$

$$= \frac{9}{2} (\theta - \sin \theta \cos \theta) + c = \frac{9}{2} \left(\sin^{-1} \frac{x}{3} - \frac{x}{3} \cdot \frac{\sqrt{9 - x^2}}{3} \right) + c = \frac{9}{2} \sin^{-1} \frac{x}{3} - \frac{x}{2} \sqrt{9 - x^2} + c$$

تذکره: اگر تابع زیر علامت انتگرال، به صورت $f(\sin x, \cos x)$ باشد از تغییر متغیر $u = \tan \frac{x}{2}$ استفاده می‌کنیم. در این حالت داریم:

$$u = \tan \frac{x}{2} \Rightarrow du = \frac{1}{2}(1+u^2)dx$$

و نیز داریم:

$$\cos x = \frac{1 - \tan^2 \frac{x}{2}}{1 + \tan^2 \frac{x}{2}} \quad \sin x = \frac{2 \tan \frac{x}{2}}{1 + \tan^2 \frac{x}{2}}$$

مثال: مقدار انتگرال $\int_0^{\infty} \frac{dx}{x^2+1+x\sqrt{x^2+1}}$ را بیابید.

حل: با تغییر متغیر $x = \tan \theta$ داریم:

$$dx = (1 + \tan^2 \theta) d\theta, \quad \begin{cases} x=0 \Rightarrow \theta=0 \\ x=\infty \Rightarrow \theta=\frac{\pi}{2} \end{cases}$$

$$\begin{aligned} I &= \int_0^{\infty} \frac{dx}{x^2+1+x\sqrt{x^2+1}} = \int_0^{\frac{\pi}{2}} \frac{(1+\tan^2 \theta) d\theta}{(\tan^2 \theta + 1) + \tan \theta \sqrt{1+\tan^2 \theta}} \\ &= \int_0^{\frac{\pi}{2}} \frac{\frac{d\theta}{\cos^2 \theta}}{\frac{1}{\cos^2 \theta} + \tan \theta \times \frac{1}{\cos \theta}} = \int_0^{\frac{\pi}{2}} \frac{d\theta}{1 + \sin \theta} \end{aligned}$$

طبق تذکره گفته شده با تغییر متغیر $\tan \frac{\theta}{2} = u$ داریم:

$$\sin \theta = \frac{2 \tan \frac{\theta}{2}}{1 + \tan^2 \frac{\theta}{2}} = \frac{2u}{1+u^2}, \quad \frac{1}{2} \left(1 + \tan^2 \frac{\theta}{2} \right) d\theta = du \Rightarrow \frac{1}{2} (1+u^2) d\theta = du \quad \begin{cases} \theta=0 \Rightarrow u=0 \\ \theta=\frac{\pi}{2} \Rightarrow u=1 \end{cases}$$

$$I = \int_0^1 \frac{\frac{2du}{1+u^2}}{1 + \frac{2u}{1+u^2}} = \int_0^1 \frac{2du}{1+u^2+2u} = \int_0^1 \frac{2du}{(u+1)^2} = \left. \frac{-2}{u+1} \right|_0^1 = 1$$

ب) روش جزء به جزء:

فرض کنید u, v دو تابع از x می باشند، اساس روش جزء به جزء بر مبنای رابطه زیر استوار است:

$$\int u dv = uv - \int v du$$

و در حالت معین داریم:

$$\int_a^b u dv = uv \Big|_a^b - \int_a^b v du$$

مثال: مطلوب است محاسبه انتگرال‌های زیر:

$$1) I = \int x \cdot \text{Arc tan } x \, dx$$

حل: با استفاده از روش جزء به جزء داریم:

$$\begin{aligned} \text{Arc tan } x = u \\ x \, dx = dv \end{aligned} \Rightarrow \begin{cases} \frac{dx}{1+x^2} = du \\ \frac{1}{2} x^2 = v \end{cases}$$

$$\begin{aligned} I &= \frac{x^2}{2} \cdot \text{Arc tan } x - \frac{1}{2} \int \frac{x^2}{1+x^2} dx = \frac{x^2}{2} \cdot \text{Arc tan } x - \frac{1}{2} \int \frac{x^2+1-1}{x^2+1} dx = \frac{x^2}{2} \text{Arc tan } x - \frac{1}{2} \left(\int 1 \, dx + \int \frac{-1}{x^2+1} dx \right) \\ &= \frac{x^2}{2} \text{Arc tan } x - \frac{1}{2} (x - \text{Arc tan } x) + c \end{aligned}$$

$$2) I = \int \sin^{-1} x \, dx$$

حل: با استفاده از روش جزء به جزء داریم:

$$\begin{aligned} \sin^{-1} x = u \\ dx = dv \end{aligned} \Rightarrow \begin{cases} \frac{1}{\sqrt{1-x^2}} dx = du \\ x = v \end{cases}$$

$$I = x \sin^{-1} x - \int \frac{x}{\sqrt{1-x^2}} dx = x \sin^{-1} x + \sqrt{1-x^2} + c$$

$$3) I = \int x^2 \cdot \ln x \, dx$$

حل: با استفاده از روش جزء به جزء داریم:

$$\begin{aligned} \ln x = u \\ x^2 dx = dv \end{aligned} \Rightarrow \begin{cases} \frac{dx}{x} = du \\ \frac{1}{3} x^3 = v \end{cases}$$

$$I = \frac{x^3 \ln x}{3} - \int \frac{x^3}{3x} dx = \frac{x^3 \ln x}{3} - \frac{x^3}{9} + c$$

$$4) \int \sec^{-1} \sqrt{x} \, dx$$

حل: با استفاده از روش جزء به جزء داریم:

$$\begin{aligned} \sec^{-1} \sqrt{x} = u \\ dx = dv \end{aligned} \Rightarrow \begin{cases} \frac{1}{2\sqrt{x}} dx = du \\ \frac{1}{\sqrt{x}} \sqrt{x-1} = dv \\ x = v \end{cases}$$

$$I = x \sec^{-1} \sqrt{x} - \int \frac{dx}{2\sqrt{x-1}} = x \sec^{-1} \sqrt{x} - \sqrt{x-1} + c$$

$$5) \int x \sec^2 x \, dx$$

حل: با استفاده از روش جزء به جزء داریم:

$$\begin{cases} x = u \\ \sec^2 x \, dx = dv \end{cases} \Rightarrow \begin{cases} dx = du \\ \tan x = v \end{cases}$$

$$I = x \tan x - \int \tan x \, dx = x \tan x + \ln |\cos x|$$

نکته: همان‌طوری که می‌دانیم، در برخی مسائل باید چندبار متوالی روش جزء به جزء را بکار برد تا به جواب رسید. در بعضی موارد، می‌توان این عمل را در جدولی خلاصه کرد:

ایده اصلی این روش در قالب دو نوع مسئله زیر قابل بیان است:

$$I = \int (x) \cdot \begin{cases} e^{ax} \\ \cos ax \\ \sin ax \end{cases} \cdot dx$$

$$J = \int e^{ax} \cdot \begin{cases} \cos bx \\ \sin bx \end{cases} \cdot dx$$

مثال: حاصل انتگرال معین $I = \int_0^{\frac{\pi^2}{4}} \sin \sqrt{x} \, dx$ را بیابید.

حل: با تغییر متغیر $\sqrt{x} = u$ داریم:

$$x = u^2 \Rightarrow dx = 2u \, du \quad \begin{cases} x = 0 \Rightarrow u = 0 \\ x = \frac{\pi^2}{4} \Rightarrow u = \frac{\pi}{2} \end{cases}$$

$$I = \int_0^{\frac{\pi^2}{4}} \sin \sqrt{x} \, dx = \int_0^{\frac{\pi}{2}} \sin u \cdot 2u \, du$$

و با روش جزء به جزء به دست می‌آید.

انتگرال مشتق

$$\begin{array}{rcl} 2u & \xrightarrow{+} & \sin u \\ & \searrow & \\ 2 & \xrightarrow{-} & -\cos u \\ & \searrow & \\ 0 & \xrightarrow{-} & -\sin u \end{array}$$

$$I = (-2u \cos u + 2 \sin u) \Big|_0^{\frac{\pi}{2}} = 2$$

مثال:

$$1) I = \int (x^2 + x - 1) \cdot \cos x \, dx$$

حل:

توجه شود که در این روش رسم جدول، فلش‌ها را از بالا ابتدا + و سپس منفی (یکی در میان) علامت‌گذاری می‌کنیم.

مشتق	انتگرال
$x^2 + x - 1$	$\cos x$
$2x + 1$	$\sin x$
2	$-\cos x$
0	$-\sin x$

$$I = (x^2 + x - 1) \sin x + (2x + 1) \cos x - 2 \sin x + c$$

$$2) I = \int e^{-x} \cdot \cos 3x \, dx$$

حل: در این حالت ملاحظه می شود پس از چند بار مشتق و انتگرال گیری، عبارت اولیه دوباره ظاهر می شود که به صورت زیر حل می شود:

مشتق	انتگرال
e^{-x}	$\cos 3x$
$-e^{-x}$	$\frac{1}{3} \sin 3x$
e^{-x}	$-\frac{1}{9} \cos 3x$

$$I = e^{-x} \cdot \frac{1}{3} \sin 3x - e^{-x} \cdot \frac{1}{9} \cos 3x - \frac{1}{9} \underbrace{\int e^{-x} \cos 3x \, dx}_I \Rightarrow \left(1 + \frac{1}{9}\right) I = e^{-x} \cdot \frac{1}{3} \sin 3x - e^{-x} \cdot \frac{1}{9} \cos 3x$$

$$I = \frac{9}{10} e^{-x} \left(\frac{\sin 3x}{3} - \frac{\cos 3x}{9} \right) + c$$

مثال: فرض کنید بدانیم $f(a) = f(b) = 0$ حاصل انتگرال زیر را به دست آورید.

$$I = \int_a^b x \cdot f''(x) \, dx$$

مشتق	انتگرال
x	$f''(x)$
1	$f'(x)$
0	$f(x)$

$$I = \int_a^b x \cdot f''(x) \, dx = (x \cdot f'(x) - f(x)) \Big|_a^b = (b \cdot f'(b) - f(b) - (a \cdot f'(a) - f(a))) = b f'(b) - a f'(a)$$

حل:

ج) روش تجزیه کسرها

اگر تابع زیر علامت انتگرال به صورت $\frac{p(x)}{Q(x)}$ و درجه صورت از مخرج کمتر باشد (در غیر این صورت، اول صورت را بر مخرج تقسیم می‌کنیم و آنگاه ادامه می‌دهیم). ابتدا $Q(x)$ را به عوامل درجه اول و درجه دوم غیر قابل تجزیه، تجزیه کرده و با توجه به حالات زیر، کسر موردنظر را به صورت مجموع چند کسر می‌نویسیم:

الف) اگر در تجزیه $Q(x)$ فقط عوامل درجه اول و بدون تکرار وجود داشته باشند، یعنی داشته باشیم:

$$Q(x) = (x - a_1)(x - a_2) \dots (x - a_i)$$

(هیچ کدام از ها با هم برابر نمی‌باشند)

در این حالت داریم:

$$\frac{P(x)}{Q(x)} = \frac{A_1}{x - a_1} + \frac{A_2}{x - a_2} + \dots + \frac{A_i}{x - a_i}$$

توجه کنید که با متحد قرار دادن دو طرف تساوی فوق ضرایب A_1, A_2, \dots را می‌توان تعیین نمود.

ب) اگر در تجزیه $Q(x)$ فقط عوامل درجه اول بوجود بیاید ولی بعضی از آنها تکراری باشند، یعنی داشته باشیم:

$$Q(x) = (x - a_1)(x - a_2) \dots (x - a_i)(x - b)^k$$

در این حالت داریم:

$$\frac{P(x)}{Q(x)} = \frac{A_1}{x - a_1} + \frac{A_2}{x - a_2} + \dots + \frac{A_i}{x - a_i} + \frac{B_1}{(x - b)^k} + \frac{B_2}{(x - b)^{k-1}} + \dots + \frac{B_k}{(x - b)}$$

ج) اگر در تجزیه $Q(x)$ فقط عوامل درجه دوم غیر قابل تجزیه و بدون تکرار وجود داشته باشند، یعنی داشته باشیم:

$$Q(x) = (x^2 + a_1x + b_1)(x^2 + a_2x + b_2) \dots$$

در این حالت داریم:

$$\frac{P(x)}{Q(x)} = \frac{A_1x + B_1}{x^2 + a_1x + b_1} + \frac{A_2x + B_2}{x^2 + a_2x + b_2} + \dots$$

د) اگر در تجزیه $Q(x)$ عوامل درجه دوم غیر قابل تجزیه تکراری نیز موجود باشد، یعنی داشته باشیم:

$$Q(x) = (x^2 + a_1x + b_1)(x^2 + a_2x + b_2) \dots (x^2 + mx + n)^k$$

در این حالت داریم:

$$\frac{P(x)}{Q(x)} = \frac{A_1x + B_1}{x^2 + a_1x + b_1} + \frac{A_2x + B_2}{x^2 + a_2x + b_2} + \dots + \frac{M_1x + N_1}{(x^2 + mx + n)^k} + \frac{M_2x + N_2}{(x^2 + mx + n)^{k-1}} + \dots + \frac{M_kx + N_k}{(x^2 + mx + n)}$$

به مثال های زیر توجه کنید:

مثال: کسرهای زیر را به صورت مجموع کسرهای جزئی نمایش دهید (محاسبه ضرایب نامعین موردنظر نمی باشد).
(الف)

$$f(x) = \frac{1}{x^2 + 4x + 3} = \frac{A}{x+1} + \frac{B}{x+3}$$

$$x^2 + 4x + 3 = (x+1)(x+3)$$

(ب)

$$f(x) = \frac{1}{x^3 + 1} = \frac{A}{x+1} + \frac{Bx+C}{x^2 - x + 1}$$

$$x^3 + 1 = (x+1)(x^2 - x + 1)$$

(ج)

$$f(x) = \frac{2x^2 - 13}{x^2(x^2 + x)} = \frac{A}{x+1} + \frac{B}{x} + \frac{C}{x^2} + \frac{D}{x^3}$$

$$x^2(x^2 + x) = x^3(x+1)$$

(د)

$$f(x) = \frac{x-3}{(x^2+1)^3(x-1)^2} = \frac{Ax+B}{x^2+1} + \frac{Cx+D}{(x^2+1)^2} + \frac{Ex+F}{(x^2+1)^3} + \frac{G}{x-1} + \frac{H}{(x-1)^2}$$

مثال: حاصل انتگرال های زیر را به دست آورید:

$$I = \int \frac{x+3}{x^3+x} dx$$

حل: ابتدا کسر زیر انتگرال را تجزیه می کنیم:

$$\frac{x+3}{x^3+x} = \frac{A}{x} + \frac{Bx+C}{x^2+1} = \frac{A(x^2+1) + (Bx+C)x}{x(x^2+1)} = \frac{Ax^2 + A + Bx^2 + Cx}{x(x^2+1)} = \frac{(A+B)x^2 + Cx + A}{x^3+x}$$

$$\begin{cases} A+B=0 \\ C=1 \\ A=3 \end{cases} \Rightarrow \begin{cases} B=-3 \\ A=3 \\ C=1 \end{cases}$$

$$I = \int \frac{3}{x} + \frac{-3x+1}{x^2+1} dx = \int \frac{3}{x} dx + \int \frac{dx}{1+x^2} - 3 \int \frac{x}{x^2+1} dx$$

$$I = 3 \ln x + \tan^{-1} x - \frac{3}{2} \ln(x^2+1) = 3 \ln \left(\frac{x}{\sqrt{x^2+1}} \right) + \tan^{-1} x + c$$

مثال:

$$I = \int \frac{dx}{x(1+x)^2}$$

حل: ابتدا کسر زیر انتگرال را تجزیه می کنیم:

$$\frac{1}{x(1+x)^2} = \frac{A}{x} + \frac{B}{1+x} + \frac{C}{(1+x)^2} = \frac{A(1+x)^2 + Bx(1+x) + Cx}{x(1+x)^2} = \frac{(A+B)x^2 + (2A+C+B)x + A}{x(1+x)^2}$$

$$\begin{cases} A+B=0 \\ 2A+B+C=0 \\ A=1 \end{cases} \Rightarrow \begin{cases} A=1 \\ B=-1 \\ C=-1 \end{cases}$$

$$I = \int \left(\frac{1}{x} + \frac{-1}{1+x} + \frac{-1}{(1+x)^2} \right) dx = \ln|x| - \ln|1+x| + \frac{1}{1+x} + c$$

نکته: با روش تجزیه کسرها به مسادگی می توان نشان داد که:

$$\int \frac{dx}{x^2 - a^2} = \frac{1}{2a} \ln \left| \frac{x-a}{x+a} \right| + C$$

مثال: مقدار انتگرال $\int_0^{+\infty} \frac{2x^2-1}{x^4+5x^2+4} dx$ برابر است با:

حل:

$$\frac{2x^2-1}{x^4+5x^2+4} = \frac{2x^2-1}{(x^2+1)(x^2+4)} = \frac{Ax+B}{x^2+4} + \frac{Cx+D}{x^2+1} = \frac{Ax^3+Ax+Bx^2+B+Cx^3+4Cx+Dx^2+4D}{(x^2+4)(x^2+1)}$$

$$\begin{cases} A+C=0 \\ B+D=2 \\ A+4C=0 \\ B+4D=-1 \end{cases} \Rightarrow \begin{cases} A=C=0 \\ B=+3 \\ D=-1 \end{cases}$$

$$I = \int_0^{+\infty} \left(\frac{3}{x^2+4} - \frac{1}{x^2+1} \right) dx = \left(\frac{3}{2} \tan^{-1} \frac{x}{2} - \tan^{-1} x \right) \Big|_0^{\infty} = \frac{3}{2} \left(\frac{\pi}{2} \right) - \frac{\pi}{2} = \frac{\pi}{4}$$

انتگرال گیری به صورت معین از تابعی که در فاصله انتگرال گیری، طبیعت منحصر به فردی ندارند:

در این گونه مسائل، باید انتگرال معین را به مجموع چند انتگرال معین با فاصله کوتاه تر به گونه ای بشکنیم که در هر کدام از این فواصل، بتوان وضعیت تابع زیر علامت انتگرال را مشخص نمود. سپس ادامه حل مسئله ساده خواهد بود:

مثال: تابع $f(x)$ به صورت روبرو تعریف شده است. مطلوب است محاسبه انتگرال زیر:

$$f(x) = \begin{cases} -1 & x \leq 1 \\ x+1 & x > 1 \end{cases}$$

$$I = \int_{-1}^3 f(x) dx$$

حل:

$$\int_{-1}^3 f(x) dx = \int_{-1}^1 f(x) dx + \int_1^3 f(x) dx = \int_{-1}^1 -1 dx + \int_1^3 (x+1) dx$$

$$= -x \Big|_{-1}^1 + \left(\frac{x^2}{2} + x \right) \Big|_1^3 = (-1 + (-1)) + \left(\frac{3^2}{2} + 3 - \left(\frac{1^2}{2} + 1 \right) \right) = -2 + (7.5 - 1.5) = 4$$

مثال: اگر n یک عدد طبیعی باشد، حاصل انتگرال زیر را به دست آورید:

$$I = \int_1^{n+1} \ln[x] dx$$

حل:

$$\begin{aligned}
 I &= \int_1^2 \ln [x] \, dx + \int_2^3 \ln [x] \, dx + \dots + \int_n^{n+1} \ln [x] \, dx \\
 &= \int_1^2 \ln 1 \, dx + \int_2^3 \ln 2 \, dx + \dots + \int_n^{n+1} \ln n \, dx \\
 &= \ln 1 + \ln 2 + \ln 3 + \dots + \ln n = \ln (1 \times 2 \times 3 \times \dots \times n) = \ln (n!)
 \end{aligned}$$

مثال: مطلوب است محاسبه انتگرال زیر:

$$I = \int_0^{\frac{\pi}{2}} [2 \cos x] dx$$

حل:

$$\begin{aligned}
 \frac{\pi}{3} < x < \frac{\pi}{2} &\Rightarrow 0 < \cos x < \frac{1}{2} \Rightarrow 0 < 2 \cos x < 1 \\
 0 < x < \frac{\pi}{3} &\Rightarrow \frac{1}{2} < \cos x < 1 \Rightarrow 1 < 2 \cos x < 2
 \end{aligned}$$

لذا داریم:

$$I = \int_0^{\frac{\pi}{2}} [2 \cos x] dx = \int_0^{\frac{\pi}{3}} (1) dx + \int_{\frac{\pi}{3}}^{\frac{\pi}{2}} (0) dx = \frac{\pi}{3}$$

مثال: مطلوب است محاسبه انتگرال زیر با توجه به اینکه می دانیم $f(x) = \max\{1, x^2\}$:

$$I = \int_{-\frac{1}{2}}^2 f(x) \, dx$$

حل:

همان طور که ملاحظه می شود در فاصله $\left(-\frac{1}{2}, 1\right)$ ضابطه تابع برابر 1 و در فاصله $(1, 2)$ ضابطه تابع برابر x^2 می باشد. بنابراین داریم:

$$\begin{aligned}
 I &= \int_{-\frac{1}{2}}^1 1 \, dx + \int_1^2 x^2 \, dx \\
 I &= (x) \Big|_{-\frac{1}{2}}^1 + \left(\frac{x^3}{3}\right) \Big|_1^2 = \left(1 + \frac{1}{2}\right) + \left(\frac{8}{3} - \frac{1}{3}\right) = \frac{3}{2} + \frac{7}{3} = \frac{23}{6}
 \end{aligned}$$

مثال: در صورتی که $x \in [2, 3]$ باشد، مطلوب است حل معادله زیر:

$$\int_0^x [t]^2 \, dt = 2(x-1)$$

حل: می توان نوشت:

$$\begin{aligned}
 \int_0^1 [t]^2 \, dt + \int_1^2 [t]^2 \, dt + \int_2^x [t]^2 \, dt &= 2(x-1) \\
 0 + \int_1^2 1^2 \, dt + \int_2^x 2^2 \, dt &= 2(x-1) \\
 0 + (2-1) + 2^2(x-2) &= 2(x-1) \Rightarrow x = \frac{5}{2}
 \end{aligned}$$

مثال: مطلوب است محاسبه انتگرال زیر:

$$I = \int_0^{\pi} |\cos x - \sin x| dx$$

حل: دقت شود که در انتگرال‌های معینی که قدر مطلق وجود دارد، نخست باید با تجزیه انتگرال قدر مطلق را حذف کنیم بنابراین:

$$0 \leq x < \frac{\pi}{4} \Rightarrow 0 \leq \sin x \leq \cos x \Rightarrow \cos x - \sin x \geq 0$$

$$\frac{\pi}{4} \leq x < \frac{\pi}{2} \Rightarrow 0 \leq \cos x \leq \sin x \Rightarrow \cos x - \sin x \leq 0$$

$$\frac{\pi}{2} \leq x < \pi \Rightarrow \cos x \leq 0 \leq \sin x \Rightarrow \cos x - \sin x \leq 0$$

پس لذا می‌توان نوشت:

$$I = \int_0^{\frac{\pi}{4}} (\cos x - \sin x) dx + \int_{\frac{\pi}{4}}^{\pi} -(\cos x - \sin x) dx$$

$$(\sin x + \cos x) \Big|_0^{\frac{\pi}{4}} + (-\sin x - \cos x) \Big|_{\frac{\pi}{4}}^{\pi} = 2\sqrt{2} - 2$$

یادآوری: تابع پله واحد به صورت زیر تعریف می‌شود:

$$U_c(t) = U(t-c) = \begin{cases} 0 & t < c \\ 1 & t > c \end{cases}$$

مثال: هرگاه u توصیف کننده تابع پله واحد باشد، حاصل انتگرال زیر را به دست آورید:

$$I = \int_0^t u(x-3) dx$$

حل: بدیهی است اگر $t < 3$ باشد، آنگاه $u = 0$ و اگر $t > 3$ باشد، آنگاه $u = 1$ است.

بنابراین داریم:

راه اول:

$$\int_0^t u(x-3) dx = \int_0^3 0 dx + \int_3^t 1 dx = t - 3$$

$$I = \begin{cases} 0 & t < 3 \\ t-3 & t > 3 \end{cases} = (t-3)u(t-3)$$

یافتن کران‌هایی برای یک انتگرال:

فرض کنید، تابع $f(x)$ در فاصله $[a, b]$ پیوسته باشد، و مقادیر می‌نیم و ماکزیمم مطلق تابع $f(x)$ در فاصله $x \in [a, b]$ را به ترتیب

m و M بنامیم، آنگاه می‌توان گفت:

$$m \leq \frac{\int_a^b f(x) dx}{b-a} \leq M$$

مثال: اگر 2, 5 به ترتیب، کمترین و بیشترین مقادیر تابع پیوسته $f(x)$ در فاصله $[1, 5]$ باشند. حاصل $\int_1^5 f(x) dx$ در کدام فاصله قرار دارد؟

حل: طبق بحث‌های صورت گرفته داریم:

$$2(5-1) \leq \int_1^5 f(x) dx \leq 5(5-1)$$

$$8 \leq \int_1^5 f(x) dx \leq 20$$

در فاصله $[8, 20]$ قرار دارد.

مثال: یک کران بالا و یک کران پایین برای انتگرال زیر بیاید.

$$I = \int_0^1 \frac{dx}{\sqrt{2+x-x^2}}$$

حل: با فرض $f(x) = \frac{1}{\sqrt{2+x-x^2}}$ ، طبیعی است که منظور یافتن مقادیر ماکزیمم و مینیمم مطلق این تابع در فاصله $[0, 1]$ است.

لذا اگر اول تابعی مانند $h = 2 + x - x^2$ فرض کنیم، برای یافتن اکسترمم‌های h در فاصله $[0, 1]$ می‌نویسیم:

$$h = 2 + x - x^2 \rightarrow h' = 1 - 2x = 0 \rightarrow x = \frac{1}{2}$$

بنابراین در فاصله $x \in [0, 1]$ داریم:

x	0	$\frac{1}{2}$	1
h'		+	-
h	2	$\frac{9}{4}$	2

$$f_{\min} = \frac{1}{\sqrt{\max h}}$$

$$f_{\max} = \frac{1}{\sqrt{\min h}}$$

$$f_{\min} = \frac{1}{\sqrt{\frac{9}{4}}} = \frac{2}{3}$$

$$f_{\max} = \frac{1}{\sqrt{2}} = \frac{\sqrt{2}}{2}$$

بنابراین طبق بحث گفته شده داریم:

$$\frac{2}{3} \leq \frac{\int_0^1 \frac{dx}{\sqrt{2+x-x^2}}}{1-0} \leq \frac{\sqrt{2}}{2}$$

$$\frac{2}{3} \leq \int_0^1 \frac{dx}{\sqrt{2+x-x^2}} \leq \frac{\sqrt{2}}{2}$$

مثال: هرگاه $f(x) = \int_1^x \frac{dt}{1+t^2}$, $f(4) - f(2) < A$, آنگاه مطلوب است محاسبه مقدار A .

حل: $f(x)$ تابعی پیوسته و مشتق پذیر است:

$$\frac{f(4) - f(2)}{4 - 2} < \max f'(x)$$

که در آن $\max f'(x)$ را باید در فاصله $x \in [2, 4]$ در نظر گرفته شود:

$$f(x) = \int_1^x \frac{dt}{1+t^2} \Rightarrow f'(x) = \frac{1}{1+x^2}$$

بدیهی است، $\max \left(\frac{1}{1+x^2} \right)$ در فاصله $[2, 4]$ برابر $\frac{1}{1+2^2} = \frac{1}{5}$ می باشد. لذا داریم:

$$\frac{f(4) - f(2)}{4 - 2} < \frac{1}{5} \Rightarrow f(4) - f(2) < \frac{2}{5} \Rightarrow A = \frac{2}{5}$$

برخی از کاربردهای انتگرال معین:

(الف) محاسبه مقدار متوسط تابع در یک فاصله:

فرض کنید تابع $f(x)$ در فاصله $[a, b]$ پیوسته باشد، در این صورت مقدار متوسط این تابع در فاصله مذکور به صورت زیر محاسبه می شود:

$$\bar{f} = \frac{\int_a^b f(x) dx}{b - a}$$

مثال: مقدار متوسط تابع با ضابطه $f(x) = 3^x$ روی بازه $[-1, +1]$ چقدر است؟

حل:

$$\bar{f} = \frac{\int_{-1}^{+1} 3^x dx}{1 - (-1)} = \frac{\left. \frac{1}{\ln 3} 3^x \right|_{-1}^{+1}}{2} = \frac{1}{2 \ln 3} \left(3 - \frac{1}{3} \right) = \frac{4}{3 \ln 3}$$

مثال: مقدار متوسط تابع زیر را در فاصله $\left[0, \frac{\pi}{2} \right]$ به دست آورید.

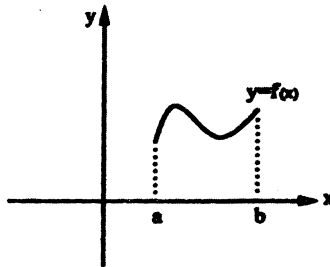
$$f(x) = \sin 2x \cdot e^{\sin^2 x}$$

حل:

$$\bar{f} = \frac{\int_0^{\frac{\pi}{2}} \sin 2x \cdot e^{\sin^2 x} dx}{\frac{\pi}{2} - 0} = \frac{\left. e^{\sin^2 x} \right|_0^{\frac{\pi}{2}}}{\frac{\pi}{2}} = \frac{e - 1}{\frac{\pi}{2}} = \frac{2(e - 1)}{\pi}$$

(ب) مجموع های ریمانی و محاسبه برخی از حد مجموع ها:

به شکل زیر توجه کنید:

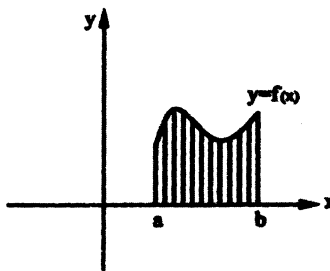


با توجه به کاربرد انتگرال معین که می تواند توصیف کننده سطح محصور به چند منحنی باشد، بدیهی است که داریم:

$$s = \int_a^b f(x) dx$$

اما چنانچه فاصله $[a, b]$ را به n قسمت مساوی تقسیم کنیم و تعداد این تقسیمات را به بی نهایت میل دهیم، می توان گفت:

$$\begin{cases} \frac{b-a}{n} = \Delta x \\ n \rightarrow \infty \\ \Delta x \rightarrow 0 \end{cases}$$



بنابراین داریم:

$$s = \left\{ \begin{array}{l} \Delta x \cdot \{f(a) + f(a + \Delta x) + \dots + f(b - \Delta x)\} \\ \Delta x \cdot \{f(a + \Delta x) + f(a + 2\Delta x) + \dots + f(b)\} \end{array} \right\} = \int_a^b f(x) dx$$

مثال: حد مجموع های زیر را حساب کنید.

$$1) I = \lim_{n \rightarrow \infty} \frac{1}{n} \left\{ \sin^2 \frac{1}{n} + \sin^2 \frac{2}{n} + \dots + \sin^2 \frac{n}{n} \right\}$$

حل: با انتخاب $a=0, b=1$, $f(x) = \sin^2 x$, $\Delta x = \frac{1}{n}$ داریم:

$$I = \int_0^1 \sin^2 x dx = \int_0^1 \frac{1 - \cos 2x}{2} dx = \frac{1}{2} \left\{ x - \frac{1}{2} \sin 2x \right\} \Big|_0^1 = \frac{1}{2} \left(1 - \frac{1}{2} \sin 2 \right)$$

$$2) I = \lim_{n \rightarrow \infty} \left\{ \frac{1}{\sqrt{n^2 + 1}} + \frac{1}{\sqrt{n^2 + 2^2}} + \dots + \frac{1}{\sqrt{n^2 + n^2}} \right\}$$

حل:

$$I = \lim_{n \rightarrow \infty} \frac{1}{n} \left\{ \frac{1}{\sqrt{1 + \frac{1}{n^2}}} + \frac{1}{\sqrt{1 + \frac{2^2}{n^2}}} + \dots + \frac{1}{\sqrt{1 + \frac{n^2}{n^2}}} \right\}$$

$$I = \lim_{n \rightarrow \infty} \frac{1}{n} \left\{ \frac{1}{\sqrt{1 + \left(\frac{1}{n}\right)^2}} + \frac{1}{\sqrt{1 + \left(\frac{2}{n}\right)^2}} + \dots + \frac{1}{\sqrt{1 + \left(\frac{n}{n}\right)^2}} \right\}$$

با انتخاب $b = 1$, $a = 0$, $\Delta x = \frac{1}{n}$, $f(x) = \frac{1}{\sqrt{1+x^2}}$ داریم:

$$I = \int_0^1 \frac{1}{\sqrt{1+x^2}} dx = \sinh^{-1} x \Big|_0^1 = \ln \left(x + \sqrt{x^2 + 1} \right) \Big|_0^1 = \ln(1 + \sqrt{2})$$

توجه: رابطه زیر همواره برقرار است:

$\text{Arcsinh } x = \ln \left(x + \sqrt{x^2 + 1} \right)$

مثال: حاصل $\lim_{n \rightarrow \infty} \sum_{i=1}^n \frac{i^4}{n^5}$ را به دست آورید.

حل:

$$I = \lim_{n \rightarrow \infty} \left(\frac{1^4}{n^5} + \frac{2^4}{n^5} + \frac{3^4}{n^5} + \frac{4^4}{n^5} + \dots + \frac{n^4}{n^5} \right) = \lim_{n \rightarrow \infty} \frac{1}{n} \left(\left(\frac{1}{n}\right)^4 + \left(\frac{2}{n}\right)^4 + \dots + \left(\frac{n}{n}\right)^4 \right)$$

لذا با فرض $\Delta x = \frac{1}{n}$, $f(x) = x^4$, $a = 0$, $b = 1$ عبارت فوق، تعریف انتگرال معین $\int_0^1 x^4 dx$ بوده و داریم:

$$I = \int_0^1 x^4 dx = \frac{x^5}{5} \Big|_0^1 = \frac{1}{5}$$

محاسبه مساحت یک ناحیه در صفحه

برای محاسبه سطح محصور به دو منحنی $y = g(x)$, $y = f(x)$ در فاصله $a < x < b$ با این فرض که $f(x) \geq g(x)$ می‌توان نوشت:

$s = \int_a^b (f(x) - g(x)) dx$

اگر چه یکی از موارد کاربرد انتگرال یگانه معین در محاسبه سطح است، لیکن محاسبه مساحت از طریق انتگرال‌های دوگانه بسیار ساده‌تر به نظر می‌رسد، که این مبحث در ریاضی ۲ به تفصیل توضیح داده شده است.

حجم یک جسم دوار

برای محاسبه حجم حادث از دوران یک ناحیه R که حول خط L که موازی یکی از محورهای مختصات است در حالت زیر را بررسی می‌کنیم. لازم به ذکر است که در این مبحث فقط حالاتی را که خط L یکی از محورهای مختصات است بررسی می‌کنیم. حالت‌های دیگر از حوصله بحث ما خارج است.

الف) روش حلقه مستدیر:

اگر ناحیه R محصور به منحنی های $y=f_1(x)$ و $y=f_2(x)$ و خطوط $x=a$, $x=b$ باشد و توابع f_1 , f_2 در فاصله $[a, b]$ پیوسته باشند و برای هر x متعلق به این فاصله $f_1(x) \geq f_2(x)$ باشد، آنگاه حجم حادث از دوران ناحیه R حول محور x ها برابر است با:

$$V_x = \pi \int_a^b (f_1^2(x) - f_2^2(x)) dx$$

ب) روش پوسته استوانه ای

اگر ناحیه R محصور به منحنی های $y=f_1(x)$ و $y=f_2(x)$ و خطوط $x=a$, $x=b$ باشد و توابع f_1 , f_2 در فاصله $[a, b]$ پیوسته باشد و برای هر x متعلق به این فاصله $f_1(x) \geq f_2(x)$ باشد، آنگاه حجم حادث از دوران ناحیه R حول محور y ها برابر است با:

$$V_y = 2\pi \int_a^b x(f_1(x) - f_2(x)) dx$$

علاوه بر دو روش فوق در محاسبه حجم حادث از دوران یک سطح، می توان از قضیه گلدن - پاپیوس که در ریاضی ۲ مطرح می گردد استفاده نمود.

مثال: سطح محصور بین منحنی های $y=\sqrt{x}$, $y=x$ چقدر است؟

$$\sqrt{x} = x \Rightarrow x = 0, 1$$

حل: بدیهی است محل تقاطع دو منحنی داده شده به صورت مقابل به دست می آید:

در نتیجه طبق رابطه ذکر شده، سطح مورد نظر عبارت است از:

$$s = \int_0^1 (\sqrt{x} - x) dx = \left[\frac{2}{3} x^{\frac{3}{2}} - \frac{x^2}{2} \right]_0^1 = \frac{2}{3} - \frac{1}{2} = \frac{1}{6}$$

مثال: مساحت ناحیه محدود به نمودار تابع $y = \ln \sqrt{x}$ و محور x و خط $x=e$ چقدر است؟

حل: بدیهی است در نمودار $y = \ln \sqrt{x}$ بدون نیاز به رسم نمودار می توان به راحتی دریافت که این نمودار محور طول ها را در نقطه

$$s = \int_1^e \ln \sqrt{x} dx \quad x=1 \text{ قطع می کند. پس داریم:}$$

با اعمال روش جزء به جزء به دست می آید:

$$\begin{cases} \ln \sqrt{x} = u \\ dx = dv \\ x = v \end{cases} \Rightarrow \begin{cases} \frac{1}{2\sqrt{x}} dx = du \\ \frac{1}{\sqrt{x}} dx = dv \end{cases}$$

$$\Rightarrow s = x \ln \sqrt{x} \Big|_1^e - \int_1^e \frac{x}{2x} dx = x \ln \sqrt{x} \Big|_1^e - \frac{1}{2} x \Big|_1^e = e \ln \sqrt{e} - \frac{1}{2} (e-1)$$

$$s = \frac{1}{2}$$

با توجه به آنکه می دانیم: $\ln \sqrt{e} = \frac{1}{2}$

مثال: حجم حادث از دوران سطح محصور بین منحنی‌های $y = x^2$, $y^2 = 8x$ حول محور x را به دست آورید.

حل: برای یافتن محل تلاقی دو منحنی می‌نویسیم:

$$\begin{cases} y = x^2 \\ y^2 = 8x \end{cases} \Rightarrow x^2 = \sqrt{8x} \Rightarrow x^4 - 8x = 0 \Rightarrow x = 0, 2$$

در نتیجه داریم:

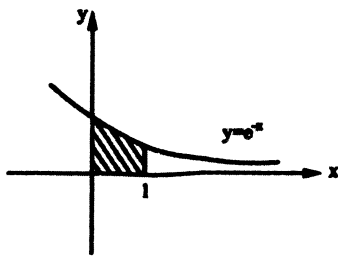
$$v = \pi \int_0^2 (8x - x^4) dx = \pi \left(4x^2 - \frac{x^5}{5} \right) \bigg|_0^2 = \frac{48\pi}{5}$$

مثال: سطح محصور شده به منحنی $y = e^{-x}$ و محور x ها و محور y ها و خط $x = 1$ را در نظر بگیرید، مطلوب است محاسبه‌ی:

الف) حجم حاصل از دوران این سطح حول محور x ها.

ب) حجم حاصل از دوران این سطح حول محور y ها.

حل:



الف)

$$V = \pi \int_0^1 \left((e^{-x})^2 - (0)^2 \right) dx = \pi \int_0^1 e^{-2x} dx = -\frac{\pi}{2} e^{-2x} \bigg|_0^1 = -\frac{\pi}{2} (e^{-2} - 1)$$

ب)

$$V = 2\pi \int_0^1 x (f(x) - g(x)) dx = 2\pi \int_0^1 x (e^{-x} - 0) dx = 2\pi \left(-xe^{-x} - e^{-x} \right) \bigg|_0^1 = 2\pi (-2e^{-1} + 1)$$

در حل انتگرال قسمت (ب) از روش جزء به جزء استفاده شده است.

انتگرال‌های غیرعادی (ناسره)

انتگرال‌های معین در چند وضعیت طبیعت ناسره پیدا می‌کنند که در این حالت باید وضعیت آن انتگرال را مورد رسیدگی قرار دهیم، چرا که ممکن است حاصل آن انتگرال موجود باشد، (انتگرال ناسره مذکور هم‌گرا باشد) و ممکن است حاصل انتگرال موجود نباشد (انتگرال مذکور واگرا باشد).

در زیر دو وضعیت ناسره بودن یک انتگرال معین را بررسی می‌کنیم:

الف) انتگرال‌های معینی که تابع زیر علامت انتگرال در تمام فاصله انتگرال‌گیری، پیوسته است. ولی یک یا هر دو

حد انتگرال‌گیری از جنس بی‌نهایت هستند.

به عنوان مثال فرض کنید تابع $f(x)$ در فاصله $[a, +\infty)$ ، تابعی پیوسته باشد و $F(x)$ یک تابع اولیه برای $f(x)$ باشد، در این صورت

$$I = \int_a^{+\infty} f(x) dx$$

انتگرال مقابل:

طبیعت ناسره دارد و می‌توان نوشت:

$$I = F(x) \bigg|_a^{+\infty} = \lim_{x \rightarrow +\infty} F(x) - F(a)$$

در صورتی که حاصل فوق عددی مشخص و محدود باشد، می‌گویند I هم‌گراست و در غیر این صورت آن را واگرا می‌نامیم.

مثال: وضعیت انتگرال های زیر را مشخص کنید.

$$1) I = \int_4^{+\infty} \frac{dx}{x^2 - 9}$$

حل:

$$I = \frac{1}{2 \times 3} \ln \left| \frac{x-3}{x+3} \right| \Big|_4^{+\infty} = \lim_{x \rightarrow \infty} \frac{1}{6} \ln \left| \frac{x-3}{x+3} \right| - \frac{1}{6} \ln \left| \frac{4-3}{4+3} \right| =$$

$$\frac{1}{6} \left\{ \ln(1) - \ln \frac{1}{7} \right\} = -\frac{1}{6} \ln \frac{1}{7} = \frac{1}{6} \ln 7$$

$$2) I = \int_{-\infty}^{+\infty} \frac{dx}{x^2 + x + 1}$$

حل: با ایجاد مربع کامل در مخرج کسر داریم:

$$I = \int_{-\infty}^{+\infty} \frac{dx}{\left(x + \frac{1}{2}\right)^2 + \frac{3}{4}} = \frac{1}{\sqrt{\frac{3}{4}}} \tan^{-1} \left(\sqrt{\frac{4}{3}} \left(x + \frac{1}{2}\right) \right) \Big|_{-\infty}^{+\infty} = \sqrt{\frac{4}{3}} \left\{ \tan^{-1}(+\infty) - \tan^{-1}(-\infty) \right\}$$

$$I = \frac{2}{\sqrt{3}} \left\{ \frac{\pi}{2} - \left(-\frac{\pi}{2}\right) \right\} = \frac{2\pi}{\sqrt{3}}$$

مثال: مقدار c چند باشد تا انتگرال زیر هم گرا شود؟

$$I = \int_2^{+\infty} \left(\frac{c}{x+1} - \frac{x}{x^2+4} \right) dx$$

حل:

$$I = \left(c \ln(x+1) - \frac{1}{2} \ln(x^2+4) \right) \Big|_2^{+\infty} = \ln \frac{(x+1)^c}{(x^2+4)^{\frac{1}{2}}} \Big|_2^{+\infty}$$

بدیهی است انتگرال مذکور زمانی هم گراست که حاصل حد زیر موجود باشد، علاوه بر آن این حد نباید مقدار صفر را نیز اختیار کند، لذا توان x باید در صورت و مخرج یکسان شود که نتیجه می شود:

$$\lim_{x \rightarrow +\infty} \frac{(x+1)^c}{\sqrt{x^2+4}} \xrightarrow{\text{هم ارزی}} \sim \lim_{x \rightarrow \infty} \frac{x^c}{\sqrt{x^2}} \Rightarrow C=1$$

- در رابطه با انتگرال های ناسره نوع الف، مسائلی که تا به حال حل شدند به گونه ای بودند که محاسبه تابع اولیه تابع زیر علامت انتگرال امکان پذیر بود. در صورتی که چنین امری ممکن نباشد، ممکن است بحث های زیر به ما کمک کند:

چند قضیه و چند تعریف

آزمون مقایسه: فرض کنید توابع $f(x)$, $g(x)$ در فاصله $[a, b]$ پیوسته باشند a, b می توانند بی نهایت باشند. چنانچه داشته باشیم:

$$\forall x \in [a, b] \quad f(x) \geq g(x) \geq 0$$

و تعریف کنیم:

$$I = \int_a^b f(x) dx, \quad J = \int_a^b g(x) dx$$

می توان ثابت کرد:

الف) در صورتی که I هم گرا باشد، J نیز هم گرا می باشد.

ب) در صورتی که J واگرا باشد، I نیز واگرا می باشد.

تعریف: فرض کنید تابع $f(x)$ در فاصله $[a, b]$ پیوسته باشد و داشته باشیم:

$$I = \int_a^b f(x) dx, \quad J = \int_a^b |f(x)| dx$$

می توان نشان داد:

الف) اگر J هم گرا باشد، آنگاه I نیز الزاماً هم گراست و اصطلاحاً می گویند I هم گرایی مطلق دارد.

ب) اگر J واگرا باشد ولی I هم گرا باشد، اصطلاحاً می گویند، I هم گرایی مشروط دارد.

توجه: فرض کنید $a > 0$ و p یک عدد ثابت باشد و انتگرال ناسره زیر را در نظر بگیرید:

$$I = \int_a^{+\infty} \frac{dx}{x^p}$$

>

در این صورت I به ازاء $p \leq 1$ واگرا است و I به ازاء $p < 1$ هم گرا است.

$$I = \int_1^{+\infty} \frac{\cos x}{x^4 + e^x + 1} dx$$

مثال: کدام گزینه در ارتباط با انتگرال مقابل صحیح است؟

د) نمی توان اظهار نظر کرد.

ج) واگراست.

ب) هم گرایی مطلق است.

الف) هم گرایی مشروط است.

حل:

$$\forall x \geq 1 \rightarrow \left| \frac{\cos x}{x^4 + e^x + 1} \right| \leq \frac{1}{x^4 + e^x + 1} \leq \frac{1}{x^4}$$

اما می دانیم انتگرال ناسره زیر هم گراست:

$$\int_1^{+\infty} \frac{1}{x^4} dx$$

بنابراین انتگرال:

$$\int_1^{+\infty} \left| \frac{\cos x}{x^4 + e^x + 1} \right| dx$$

نیز هم گرا بوده و در نهایت نتیجه می گیریم، I هم گراست و هم گرایی مطلق دارد و گزینه (ب) صحیح است.

مثال: کدام گزینه در ارتباط با انتگرال زیر صحیح است؟

$$\int_1^{+\infty} \frac{e^{2x}(x+1)}{\frac{6}{x^4}} dx$$

د) هیچکدام

ج) نمی توان تشخیص داد.

ب) واگرا است

الف) هم گرا است.

حل:

$$\forall x > 1 \Rightarrow \frac{e^{2x}(x+1)}{\frac{6}{x^4}} > \frac{x+1}{\frac{6}{x^4}} > \frac{x}{\frac{6}{x^4}} = \frac{1}{2}$$

و با توجه به اینکه می دانیم $\int_1^{+\infty} \frac{1}{x^2} dx$ واگرا است. بنابراین طبق آزمون مقایسه انتگرال مورد بحث نیز واگرا می باشد.

مثال: انتگرال $I = \int_0^{+\infty} \frac{\cos x}{\cosh x} dx$

الف) هم گرای مشروط ب) هم گرای مطلق ج) واگرا است. د) قابل تشخیص نمی باشد.

حل: با توجه به اینکه می دانیم $\cosh x = \frac{e^x + e^{-x}}{2}$ داریم:

$$\forall x > 0, \left| \frac{\cos x}{\cosh x} \right| \leq \frac{1}{\cosh x}$$

$$J = \int_1^{+\infty} \frac{1}{\cosh x} dx = \int_0^{+\infty} \frac{2}{e^x + e^{-x}} dx = \int_0^{+\infty} \frac{2e^x}{e^{2x} + 1} dx$$

$$J = \int_1^{+\infty} \frac{2du}{u^2 + 1} = 2 \tan^{-1} u \Big|_1^{+\infty} = 2 \left(\frac{\pi}{2} - \frac{\pi}{4} \right) = \frac{\pi}{2}$$

لذا تابع J هم گرا بوده و طبق آزمون مقایسه $\int_0^{\infty} \left| \frac{\cos x}{\cosh x} \right| dx$ هم گرا است. یعنی I هم گرایی مطلق دارد.

ب) انتگرال های معینی که تابع زیر انتگرال در تمام فاصله انتگرال گیری به جز در حد بالایی یا پایینی انتگرال، معین نمی باشد.

به عنوان مثال فرض کنید تابع $f(x)$ در فاصله $[a, b]$ تابعی پیوسته باشد، اما در خود نقطه $x = b$ نامعین باشد، در این صورت انتگرال زیر طبیعت ناسره دارد:

$$I = \int_a^b f(x) dx$$

و برای مشخص شدن وضعیت آن باید به صورت زیر عمل کنیم:

$$I = F(x) \Big|_a^b = \lim_{x \rightarrow b^-} F(x) - F(a)$$

مثال: مطلوب است محاسبه انتگرال زیر:

$$I = \int_0^1 \ln x dx$$

حل: بدیهی است که انتگرال مذکور طبیعت ناسره دارد، چرا که تابع $\ln x$ در نقطه $x = 0$ تعریف شده نمی باشد، ابتدا با روش جزء به جزء، انتگرال نامعین $\int \ln x dx$ را محاسبه می کنیم که برابر است با:

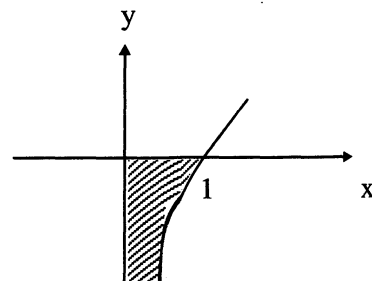
$$\int \ln x dx = x \ln x - x$$

$$\lim_{x \rightarrow 0^+} x \ln x - x = \lim_{x \rightarrow 0^+} x \ln x = \lim_{x \rightarrow 0^+} \frac{\ln x}{\frac{1}{x}} \xrightarrow{H} = \lim_{x \rightarrow 0^+} \frac{\frac{1}{x}}{\frac{-1}{x^2}} = 0$$

$$I = (x \ln x - x) \Big|_{0^+}^1 = (\ln 1 - 1) - 0 = -1$$

$$I = \int_0^{\infty} \frac{\sin x}{x} dx = \frac{\pi}{2}$$

مثال: چنانچه بدانیم:



مطلوب است محاسبه انتگرال های زیر:

$$\text{الف) } A = \int_0^{\infty} \frac{\sin x^3}{x} dx$$

$$\text{ب) } B = \int_0^{\infty} \left(\frac{\sin x}{x} \right)^2 dx$$

حل:

الف) از تغییر متغیر استفاده می کنیم:

$$x^3 = u \rightarrow 3x^2 dx = du$$

$$A = \int_{u=0}^{u=\infty} \frac{\sin u}{3u} du = \frac{\pi}{6}$$

ب) از روش جزء به جزء استفاده می کنیم:

$$\sin^2 x = u \rightarrow \begin{cases} \sin 2x dx = du \\ \frac{dx}{x^2} = dv \rightarrow -\frac{1}{x} = v \end{cases}$$

$$B = \frac{-1}{x} \sin^2 x \Big|_0^{\infty} + \int_0^{\infty} \frac{1}{x} \sin 2x dx = 0 + \int_0^{\infty} \frac{1}{x} \sin 2x dx = \int_0^{\infty} \frac{1}{u} \sin u du = \frac{\pi}{2}$$

نکته: اگر a و p یک عدد ثابت باشند، در این صورت می توان نشان داد انتگرال ناسره زیر:

$$I = \int_0^a \frac{dx}{x^p}$$

$$\left. \begin{array}{l} \text{به ازاء } p \geq 1 \text{ واگرا است.} \\ \text{به ازاء } p < 1 \text{ همگراست.} \end{array} \right\}$$

مثال: در مورد انتگرال زیر کدام یک از گزینه ها صحیح است؟

$$I = \int_0^1 \frac{\sin \frac{1}{x}}{\sqrt{x}} dx$$

(د) نمی توان تشخیص داد.

(ج) مطلقاً همگراست.

(ب) همگرا است.

الف) واگرا است.

حل: داریم:

$$\forall x \in (0,1) \quad \left| \frac{\sin \frac{1}{x}}{\sqrt{x}} \right| < \frac{1}{\sqrt{x}}$$

از طرفی چون $\int_0^1 \frac{dx}{\sqrt{x}}$ همگراست، لذا طبق آزمون مقایسه I مطلقاً همگرا خواهد بود.

مثال: p را طوری تعیین کنید که انتگرال زیر همگرا گردد.

$$I = \int_1^2 \frac{dx}{x (\ln x)^p}$$

حل: با تغییر متغیر $\ln x = u$ داریم:

$$\frac{1}{x} dx = du \Rightarrow \int_0^{\ln 2} \frac{dU}{U^p}$$

این انتگرال به ازاء $p < 1$ همگراست.

(ج) انتگرال‌های معینی که تابع زیر علامت انتگرال در یک یا چند نقطه داخل فاصله انتگرال گیری نامعین است.

فرض کنید تابع $y=f(x)$ در تمام فاصله $[a,b]$ به جز نقطه $x=c$ تابعی پیوسته باشد، در این صورت انتگرال زیر طبیعت ناسره دارد:

$$I = \int_a^b f(x) dx$$

و برای مشخص شدن جواب این انتگرال باید بنویسیم:

$$I = \int_a^{c^-} f(x) dx + \int_{c^+}^b f(x) dx$$

می‌گویند I هم‌گراست اگر تنها اگر، هر دو انتگرال سمت راست هم‌گرا باشند.

مثال: حاصل انتگرال $I = \int_{-1}^7 \frac{1}{x-1} dx$ کدام گزینه است؟

- الف) $\ln \frac{6}{7}$ ب) $\ln \frac{7}{6}$ ج) واگراست. د) هیچ‌کدام
- حل:

$$I = \int_{-1}^{1^-} \frac{1}{x-1} dx + \int_{1^+}^7 \frac{1}{x-1} dx$$

اما در محاسبه $\int_{-1}^{1^-} \frac{dx}{x-1}$ داریم:

$$\int_{-1}^{1^-} \frac{dx}{x-1} = \ln|x-1| \Big|_{-1}^{1^-} = \ln|\varepsilon-1| - \ln|-2| = \ln \varepsilon - \ln 2 = -\infty$$

پس چون یکی از انتگرال‌های حاصل I واگراست پس در کل، I واگراست. بنابراین گزینه (ج) صحیح است.

چند مسئله دیگر از قاعده مشتق گیری از انتگرال:

$$f(x) = \int_{\alpha(x)}^{\beta(x)} h(x,t) dt$$

هرگاه داشته باشیم:

می‌توان ثابت کرد:

$$\frac{df}{dx} = \int_{\alpha(x)}^{\beta(x)} \frac{\partial h(x,t)}{\partial x} dt + \beta'(x)h(x,\beta(x)) - \alpha'(x)h(x,\alpha(x))$$

مثال: هرگاه داشته باشیم $f(t) = \int_0^t \frac{\sin tx}{x} dx$ مطلوب است محاسبه $\frac{df}{dt}$

حل:

$$\frac{df}{dt} = \int_0^t \frac{\partial}{\partial t} \left(\frac{\sin tx}{x} \right) dx + 1 \cdot \frac{\sin t^2}{t} - 0$$

$$= \int_0^t \frac{1}{x} \cdot x \cdot \cos tx \cdot dx + \frac{\sin t^2}{t} = \frac{1}{t} \sin tx \Big|_0^t + \frac{\sin t^2}{t} = \frac{2 \sin t^2}{t}$$

مثال: با توجه به معادله انتگرالی $f(x) = \exp \left\{ - \int_0^x f(t) dt \right\}$ مطلوب است محاسبه $f(4)$.

$$\ln f(x) = - \int_0^x f(t) \cdot dt$$

حل: از طرفین معادله لگاریتم نپرین می‌گیریم.

$$\frac{f'}{f} = -0 - f(x) + 0 \rightarrow f'(x) = f(x) \cdot (-f(x)) \rightarrow \frac{df(x)}{dx} = -(f(x))^2$$

$$\frac{1}{f(x)} = x + c$$

از معادله انتگرالی داده شده داریم: $f(0) = \exp\left\{-\int_0^0 f(x) dt\right\} = 1$

$$\text{با اعمال شرایط } c=1 \Rightarrow \frac{1}{f(x)} = x+1 \rightarrow f(4) = \frac{1}{5}$$

مثال: فرض کنید داشته باشیم: $I(\beta) = \int_0^\infty e^{-x^2} \cos \beta x dx$ مطلوب است محاسبه $I'(2)$:

الف) $I(2)$ ب) $-I(2)$ ج) $2I(2)$ د) هیچ کدام

حل:

$$\frac{dI}{d\beta} = I'(\beta) = \int_0^\infty \frac{\partial}{\partial \beta} (e^{-x^2} \cos \beta x) dx + 0 - 0$$

با اعمال روش جزء به جزء داریم:

$$I'(\beta) = \int_0^\infty -e^{-x^2} \cdot x \cdot \sin \beta x dx$$

$$\begin{cases} \sin \beta x = u \\ -xe^{-x^2} dx = dv \end{cases} \rightarrow \begin{cases} \beta \cos \beta x = du \\ \frac{1}{2} e^{-x^2} = v \end{cases}$$

$$I'(\beta) = \frac{1}{2} e^{-x^2} \cdot \sin \beta x \Big|_0^\infty - \int_0^\infty \frac{1}{2} e^{-x^2} \cdot \beta \cos \beta x dx$$

$$\begin{cases} I'(\beta) = \int_0^\infty -\frac{1}{2} e^{-x^2} \cdot \beta \cos \beta x dx \\ I(\beta) = \int_0^\infty e^{-x^2} \cdot \cos \beta x dx \end{cases} \rightarrow I'(\beta) = -\frac{1}{2} \times \beta I(\beta)$$

$$I'(2) = -\frac{1}{2} \times 2 \times I(2) = -I(2)$$

مثال: نقطه به طول $x=1$ برای تابع $f(x) = x - \int_x^1 \frac{2 \cos \pi t dt}{1+t^2}$

الف) ماکزیمم نسبی ب) مینیمم نسبی ج) عطف است. د) غیر بحرانی

حل:

$$f'(x) = 1 + \frac{2 \cos \pi x}{1+x^2}$$

بدیهی است داریم: $f'(1) = 0$ پس لذا $x=1$ برای تابع موردنظر یک نقطه بحرانی است.

$$f''(x) = \frac{-2\pi \sin \pi x \cdot (1+x^2) - 2x(2 \cos \pi x)}{(1+x^2)^2}$$

$$f''(1) = 1 > 0$$

لذا، طبق آزمون مشتق دوم تابع $f(x)$ در نقطه $x=1$ دارای مینیمم نسبی است.

مثال: مطلوب است محاسبه حد مقابل:

$$I = \lim_{x \rightarrow -1} \frac{1}{x^3 + 1} \int_x^{-1} e^{-t} \cos \pi t dt$$

$$I = \lim_{x \rightarrow -1} \frac{\int_x^{-1} e^{-t} \cos \pi t \cdot dt}{x^3 + 1} = \frac{0}{0} \text{ مبهم}$$

با اعمال هسپیتال و قاعده مشتق گیری از انتگرال داریم:

$$\xrightarrow{H} I = \lim_{x \rightarrow -1} \frac{-e^{-x} \cos \pi x}{3x^2} = \frac{e}{3}$$

فصل هفتم

دنباله و سری

دنباله:

یک دنباله مانند $\{a_n\}$ که در آن a_n را جمله عمومی دنباله گویند، رشته‌ای از اعداد است که با قرار دادن مقایر طبیعی به جای n در جمله عمومی دنباله حاصل می‌شود.

چند تعریف:

الف) دنباله $\{a_n\}$ را همگرا گویند، هرگاه $\lim_{n \rightarrow \infty} a_n$ موجود باشد و در غیر این صورت دنباله را واگرا می‌گویند.

ب) دنباله $\{a_n\}$ را کراندار گویند، هرگاه بتوان عدد ثابتی مانند M پیدا کرد که:

$$\forall n \in \mathbb{N} \quad |a_n| \leq M$$

ج) دنباله $\{a_n\}$ را اکیداً صعودی می‌گویند هرگاه:

$$\forall n \in \mathbb{N}, a_{n+1} > a_n \quad \text{یا} \quad a'_n > 0$$

د) دنباله $\{a_n\}$ را اکیداً نزولی می‌گویند هرگاه:

$$\forall n \in \mathbb{N}, a_{n+1} < a_n \quad \text{یا} \quad a'_n < 0$$

مثال: وضعیت همگرایی یا واگرایی دنباله‌های زیر را تعیین کنید:

$$1) \left\{ (-1)^n \frac{n+1}{n^2+2n} \right\} \quad \lim_{n \rightarrow \infty} (-1)^n \frac{n+1}{n^2+2n} = 0 \rightarrow \text{دنباله همگرا به عدد صفر است}$$

$$2) \left\{ \sqrt[n]{2^{2n} + 3^n} \right\} \quad \lim_{n \rightarrow \infty} \sqrt[n]{2^{2n} + 3^n} = \lim_{n \rightarrow \infty} \sqrt[n]{4^n + 3^n} = \lim_{n \rightarrow \infty} \sqrt[n]{4^n} = 4$$

از آنجا که وقتی $n \rightarrow \infty$ شود، $4^n \gg 3^n$ پس دنباله مذکور همگرا به عدد ۴ است.

$$3) \left\{ \frac{n^3+1}{n^2+3} \right\} \quad \lim_{n \rightarrow \infty} \frac{n^3+1}{n^2+3} = \infty \text{ واگراست}$$

$$4) a_n = \begin{cases} a_n = \frac{e^{-n}}{n} & n \text{ زوج} \\ a_n = n \sin \frac{1}{n} & n \text{ فرد} \end{cases}$$

$$\begin{cases} \lim_{n \rightarrow \infty} a_n = 0 & \text{اگر } n \text{ زوج باشد} \\ \lim_{n \rightarrow \infty} a_n = \lim_{n \rightarrow \infty} n \cdot \frac{1}{n} = 1 & \text{اگر } n \text{ فرد باشد} \end{cases}$$

بنابراین دنباله مذکور واگراست، زیرا در $n \rightarrow \infty$ حد یکتا ندارد.

$$5) a_n = \left\{ \left[\frac{n^2 + (-1)^n}{n^2 + \frac{1}{2}} \right] \right\}$$

$$\lim_{n \rightarrow \infty} \frac{n^2 + (-1)^n}{n^2 + \frac{1}{2}} = \begin{cases} \lim_{n \rightarrow \infty} \frac{n^2 + 1}{n^2 + \frac{1}{2}} = 1^+ \Rightarrow a_n = [1^+] = 1 & n \text{ زوج باشد} \\ \lim_{n \rightarrow \infty} \frac{n^2 - 1}{n^2 + \frac{1}{2}} = 1^- \Rightarrow a_n = [1^-] = 0 & n \text{ فرد باشد} \end{cases}$$

لذا دنباله مذکور واگراست.

نکته: زمانی که $n \rightarrow \infty$ میل می کند $\boxed{\sqrt[n]{n!} \sim \frac{n}{e}}$ می باشد.

مثال: در دنباله $\left\{ \frac{n!}{n^n} \right\}$ وضعیت همگرایی و یکنوایی را تعیین کنید.

می دانیم زمانی که $n \rightarrow \infty$ می رود $n^n > n!$ پس داریم:

$$\lim_{n \rightarrow \infty} \frac{n!}{n^n} = 0 \rightarrow \text{پس دنباله مذکور همگرا به صفر است}$$

$$\frac{a_{n+1}}{a_n} = \frac{(n+1)!}{(n+1)^{n+1}} \cdot \frac{n^n}{n!} = \frac{(n+1) n! \cdot n^n}{(n+1) (n+1)^n \cdot n!} = \left(\frac{n}{n+1} \right)^n < 1$$

به ازای هر $\forall n \in \mathbb{N}$ عبارت فوق کوچکتر از واحد است. پس دنباله اکیداً نزولی است.

مثال: وضعیت یکنوایی دنباله زیر را تعیین کنید.

$$a_n = \left\{ \frac{n}{n^2 + 25} \right\}$$

$$a'_n = \frac{25 - n^2}{(n^2 + 25)^2}$$

پس به ازای $n < 5$ اکیداً صعودی به ازای $n > 5$ اکیداً نزولی است. پس دنباله فوق طبیعت یکنوا ندارد.

مثال: وضعیت یکنوایی و همگرایی سری‌های زیر را تعیین کنید.

$$\text{الف) } \{\sqrt{n} - \sqrt{n+1}\}$$

$$\lim_{n \rightarrow \infty} a_n = \lim_{n \rightarrow \infty} (\sqrt{n} - \sqrt{n+1}) = \infty - \infty$$

ابهام دارد.

$$\lim_{n \rightarrow \infty} a_n = \lim_{n \rightarrow \infty} \left(\sqrt{n} - \sqrt{n+1} \times \frac{\sqrt{n} + \sqrt{n+1}}{\sqrt{n} + \sqrt{n+1}} \right) = \lim_{n \rightarrow \infty} \left(\frac{n - (n+1)}{\sqrt{n} + \sqrt{n+1}} \right)$$

$$\lim_{n \rightarrow \infty} a_n = \lim_{n \rightarrow \infty} \frac{-1}{\sqrt{n} + \sqrt{n+1}} = 0$$

دنباله همگرا به عدد صفر است.

$$a'_n = \frac{1}{2\sqrt{n}} - \frac{1}{2\sqrt{n+1}} = \frac{\sqrt{n+1} - \sqrt{n}}{2\sqrt{n}\sqrt{n+1}} > 0$$

دنباله مذکور همواره صعودی است.

$$\text{ب) } a_n = \frac{1}{n} + \frac{1}{n+1} + \dots + \frac{1}{2n}$$

می‌دانیم:

$$\lim_{n \rightarrow \infty} \frac{1}{n} \left(f(0) + f\left(\frac{1}{n}\right) + f\left(\frac{2}{n}\right) + \dots + f\left(\frac{n}{n}\right) \right) = \int_0^1 f(x) dx$$

لذا می‌توان نوشت:

$$\lim_{n \rightarrow \infty} a_n = \lim_{n \rightarrow \infty} \frac{1}{n} \left(1 + \frac{1}{1+\frac{1}{n}} + \frac{1}{1+\frac{2}{n}} + \dots + \frac{1}{1+\frac{n}{n}} \right) = \int_0^1 \frac{1}{1+x} dx = \ln(1+x) \Big|_0^1 = \ln 2$$

دنباله همگرا به عدد $\ln 2$ است.

$$a_{n+1} - a_n = \left(\frac{1}{n+1} + \frac{1}{n+2} + \dots + \frac{1}{2n+2} \right) - \left(\frac{1}{n} + \frac{1}{n+1} + \dots + \frac{1}{2n} \right)$$

$$a_{n+1} - a_n = \frac{1}{2n+2} - \frac{1}{n}$$

$$2n+2 > n \Rightarrow \frac{1}{2n+2} < \frac{1}{n} \Rightarrow \frac{1}{2n+2} - \frac{1}{n} < 0 \Rightarrow a_{n+1} - a_n = \frac{1}{2n+2} - \frac{1}{n} < 0 \Rightarrow a_{n+1} < a_n$$

پس دنباله مذکور نزولی می‌باشد.

مثال: دنباله $\left\{ \frac{n}{n^2 + 30} \right\}$ مفروض است.

اولاً مشخص کنید این دنباله از جمله چندم به بعد نزولی می‌شود.

ثانیاً یک کران بالا و یک کران پایین برای این دنباله پیدا کند.

$$\text{الف) } a_n = \frac{n}{n^2 + 30} \Rightarrow a'_n = \frac{(n^2 + 30) - (2n)(n)}{(n^2 + 30)^2} = \frac{30 - n^2}{(n^2 + 30)^2}$$

$$a'_n = 0 \Rightarrow 30 - n^2 = 0 \Rightarrow n = \sqrt{30}$$

n	1	$\sqrt{30}$	$+\infty$
a'_n	+	0	-
a_n	\nearrow		\searrow

$$\text{کران پایین: } \begin{cases} a_1 = \frac{1}{31} \\ \lim_{n \rightarrow \infty} a_n = 0 \end{cases} \Rightarrow \text{کران پایین} = 0$$

$$\text{کران بالا: } 5 < \sqrt{30} < 6 \Rightarrow \begin{cases} a_5 = \frac{5}{55} = \frac{1}{11} \\ a_6 = \frac{6}{66} = \frac{1}{11} \end{cases} \Rightarrow \text{کران بالا} = \frac{1}{11}$$

می‌توان ملاحظه کرد دنباله مذکور از جمله پنجم به بعد نزولی می‌شود.

مثال: اولاً دنباله $\{n^2 - 10n + 16\}$ چند جمله منفی دارد؟

ثانیاً کوچکترین جمله دنباله $\{n^2 - 20n + 200\}$ را بیابید؟

$$\text{الف) } a_n = n^2 - 10n + 16 = (n-8)(n-2)$$

برای اینکه دنباله مذکور جمله منفی داشته باشد باید:

$$(n-8)(n-2) < 0 \Rightarrow 2 < n < 8 \Rightarrow n = 3, 4, 5, 6, 7$$

پس دنباله مورد نظر دارای پنج جمله منفی است.

$$\text{ب) } a_n = n^2 - 20n + 200 = (n-10)^2 + 100 \Rightarrow \min(a_n) = 100$$

$$\text{مثال: در دنباله } \left\{ \frac{4n+1}{2n-5} \right\} \text{ برای چه مقادیر } n \text{ داریم: } 1.99 < \frac{4n+1}{2n-5} < 2.01$$

$$1.99 < \frac{4n+1}{2n-5} < 2.01 \Rightarrow 1.99 - 2 < \frac{4n+1}{2n-5} - 2 < 2.01 - 2 \Rightarrow -0.01 < \frac{4n+1-4n+10}{2n-5} < 0.01$$

$$\Rightarrow \left| \frac{11}{2n-5} \right| < 0.01 \Rightarrow \frac{11}{2n-5} < \frac{1}{100} \Rightarrow 2n-5 > 1100 \Rightarrow n > 552.5 \Rightarrow n \geq 553$$

سری‌های نامتناهی

سری نامتناهی $\sum_{n=1}^{\infty} a_n = a_1 + a_2 + a_3 + \dots$ را در نظر بگیرید:

می‌گویند این سری همگراست، اگر مجموع بینهایت جمله فوق در حد به سمت عدد مشخص و محدود نزدیک شود، و در غیر این

صورت آنرا واگرا می‌نامیم.

(اگر چه آزمونهایی وجود دارد که از طریق آنها می توان تشخیص داد یک سری نامتناهی همگرا یا واگرا است، اما به ندرت اتفاق می افتد بتوانیم مقدار همگرایی یک سری همگرا را بدست آوریم).

در زیر به برخی از انواع سری اشاره شده است:

الف) سریهای هندسی: سری هندسی سری است که از مجموع جملات یک تصاعد هندسی بدست می آید، سری هندسی زیر را در نظر بگیرید:

$$I = \sum_{n=1}^{\infty} aq^{n-1} = a + aq + aq^2 + \dots +$$

می توان نشان داد چنانچه $|q| \geq 1$ باشد، سری مذکور واگراست و چنانچه $|q| < 1$ باشد، سری مذکور همگراست و مقدار همگرایی آن برابر مقدار زیر است:

$$I = \frac{a}{1-q}$$

مثال: مقدار همگرایی سری زیر را بدست آورید.

$$1) I = \sum_{n=0}^{\infty} \left(\frac{1}{2^n} + \frac{(-1)^n}{3^{n+1}} \right)$$

ملاحظه می شود که سری مذکور از دو سری هندسی تشکیل یافته است:

$$I = \left(1 + \frac{1}{2} + \frac{1}{4} + \dots \right) + \left(\frac{1}{3} + \frac{-1}{9} + \frac{1}{27} + \dots \right)$$

$$I = \frac{1}{1 - \frac{1}{2}} + \frac{\frac{1}{3}}{1 - \left(-\frac{1}{3}\right)} = \frac{9}{4}$$

$$2) I = \sum_{n=1}^{\infty} \frac{2^n + 3^n}{6^n}$$

$$I = \sum_{n=1}^{\infty} \left(\frac{2}{6} \right)^n + \sum_{n=1}^{\infty} \left(\frac{3}{6} \right)^n = \sum_{n=1}^{\infty} \left(\frac{1}{3} \right)^n + \sum_{n=1}^{\infty} \left(\frac{1}{2} \right)^n = \frac{\frac{1}{3}}{1 - \frac{1}{3}} + \frac{\frac{1}{2}}{1 - \frac{1}{2}} = \frac{1}{2} + 1 = \frac{3}{2}$$

قاعده ادغام:

به راحتی می توان نشان داد:

$$\sum_{i=m}^n (a_{i+1} - a_i) = a_{n+1} - a_m$$

مثال: مطلوبست محاسبه مقدار همگرایی سری $\sum_{k=1}^{\infty} \frac{1}{k(k+1)}$:

طبق قاعده ادغام داریم:

$$\sum_{k=1}^{\infty} \frac{1}{k(k+1)} = \sum_{k=1}^{\infty} \left(\frac{1}{k} - \frac{1}{k+1} \right) = - \sum_{k=1}^{\infty} \left(\frac{1}{k+1} - \frac{1}{k} \right) = \lim_{k \rightarrow \infty} \frac{-1}{k+1} + \left(\frac{1}{1} \right) = 1$$

مثال: مطلوبست محاسبه مقدار همگرایی سری زیر:

$$\sum_{n=1}^{\infty} (n+1\sqrt[n]{e} - n\sqrt[n]{e})$$

$$I = n+1\sqrt[n]{e} \Big|_{n=\infty} - n\sqrt[n]{e} \Big|_{n=1} = e^{\frac{1}{n+1}} \Big|_{n=\infty} - e^{\frac{1}{n}} \Big|_{n=1}$$

$$e^{\frac{1}{\infty}} - e^1 = e^0 - e = 1 - e$$

مثال: حاصل سری‌های زیر را بدست آورید.

$$1) I = \sum_{n=1}^{\infty} \frac{1}{(n-1)!(n+1)}$$

$$I = \sum_{n=1}^{\infty} \frac{n}{(n-1)!n(n+1)} = \sum_{n=1}^{\infty} \frac{n}{(n+1)!} = \sum_{n=1}^{\infty} \frac{n+1-1}{(n+1)!} = \sum_{n=1}^{\infty} \frac{1}{n!} - \frac{1}{(n+1)!} = \frac{1}{1} - \lim_{n \rightarrow \infty} \frac{1}{(n+1)!} = 1$$

$$2) I = \sum_{n=1}^{\infty} \log \frac{n^2 + 2n}{(n+1)^2}$$

$$I = \sum_{n=1}^{\infty} \log \frac{n(n+2)}{(n+1)^2} = \sum_{n=1}^{\infty} \log \left(\frac{n}{n+1} \cdot \frac{n+2}{n+1} \right) = \sum_{n=1}^{\infty} [(\log n - \log(n+1)) + (\log(n+2) - \log(n+1))]$$

$$I = \sum_{n=1}^{\infty} [(\log n - \log(n+1) + \log(n+2) - \log(n+1))] = \log 1 - \lim_{n \rightarrow \infty} \log(n+1) + \lim_{n \rightarrow \infty} \log(n+2) - \log 2$$

$$I = -\log 2 - \lim_{n \rightarrow \infty} \log \frac{n+1}{n+2} = -\log 2 - \log 1 = -\log 2 = \log \frac{1}{2}$$

برخی مواقع با استفاده از ایده روش تجزیه کسرها ممکن است بتوان مقدار همگرایی یک سری همگرا را تعیین کرد:

مثال: مطلوب است محاسبه مقدار همگرایی سری زیر:

$$I = \sum_{n=1}^{\infty} \frac{1}{(n+3)(n+1)}$$

با استفاده از روش تجزیه کسرها داریم:

$$\frac{1}{(n+3)(n+1)} = \frac{1}{2} \left(\frac{1}{n+1} - \frac{1}{n+3} \right)$$

$$\frac{1}{2} \sum_{n=1}^{\infty} \frac{1}{n+1} - \frac{1}{n+3} = \frac{1}{2} \left(\frac{1}{2} + \frac{1}{3} + \frac{1}{4} + \dots \right) - \frac{1}{2} \left(\frac{1}{4} + \frac{1}{5} + \frac{1}{6} + \dots \right) = \frac{1}{2} \left(\frac{1}{2} + \frac{1}{3} \right) = \frac{5}{12}$$

چند قضیه و آزمون در بحث تعیین همگرایی یا واگرایی سریهای عددی:

قضیه: سری $\sum_{n=1}^{\infty} a_n$ را در نظر بگیرید، شرط لازم و نه کافی برای همگرایی این است که:

$$\lim_{n \rightarrow \infty} a_n = 0$$

مثال: سریهای زیر را از حیث داشتن شرط لازم برای همگرایی چک کنید.

$$۱) \sum_{n=1}^{\infty} \frac{\ln n}{n} \rightarrow \lim_{n \rightarrow \infty} \frac{\ln n}{n} = 0$$

سری مذکور شرط لازم برای همگرایی را دارد. اما به طور قطع نمی توانیم بگوییم همگراست یا واگرا.

$$۲) \sum_{n=1}^{\infty} \frac{1}{n \cdot \ln \left(1 - \frac{1}{n}\right)} \rightarrow \lim_{n \rightarrow \infty} \frac{1}{n \cdot \ln \left(1 - \frac{1}{n}\right)} = -1$$

در عبارت بالا $\frac{1}{n} = x$ فرض کرده، پس زمانی که $n \rightarrow \infty$ می توان نتیجه گرفت $x \rightarrow 0$.

$$\lim_{n \rightarrow \infty} n \cdot \ln \left(1 - \frac{1}{n}\right) = \lim_{n \rightarrow \infty} \frac{\ln \left(1 - \frac{1}{n}\right)}{\frac{1}{n}} = \lim_{x \rightarrow 0} \frac{\ln (1-x)}{x} = \frac{0}{0} \text{ مبهم} \xrightarrow{H} \lim_{x \rightarrow 0} \frac{-1}{1-x} = -1$$

بنابراین این سری واگراست.

$$۳) \sum_{n=1}^{\infty} \left(\frac{n+3}{n+4}\right)^{n^2}$$

$$\lim_{n \rightarrow \infty} \left(\frac{n+3}{n+4}\right)^{n^2} = \lim_{n \rightarrow \infty} \left(\left(\frac{n+4-1}{n+4}\right)^n\right)^n = \lim_{n \rightarrow \infty} \left\{\left(1 + \frac{-1}{n+4}\right)^n\right\}^n = \lim_{n \rightarrow \infty} (e^{-1})^n = \lim_{n \rightarrow \infty} e^{-n} = \lim_{n \rightarrow \infty} \left(\frac{1}{e}\right)^n = 0$$

سری شرط لازم برای همگرایی را دارد.

مثال: می دانیم حاصل سری $\sum_{n=1}^{\infty} (a_n^2 + 4a_n - 5)$ برابر e شده است. با توجه به آنکه همه a_n ها مثبت می باشند، حاصل حد زیر کدام

است؟

$$I = \lim_{n \rightarrow \infty} \frac{a_n^2 + 1}{3a_n + 2}$$

وقتی حاصل سری فوق برابر با عدد e می شود، سری مذکور همگراست و شرط لازم برای همگرایی را دارد پس داریم:

$$\lim_{n \rightarrow \infty} (a_n^2 + 4a_n - 5) = 0 \Rightarrow \lim_{n \rightarrow \infty} (a_n - 1)(a_n + 5) = 0$$

چون همه a_n ها مثبت هستند لذا باید $\lim_{n \rightarrow \infty} (a_n - 1) = 0$ و یا عبارتی:

$$\lim_{n \rightarrow \infty} a_n = 1$$

$$I = \lim_{n \rightarrow \infty} \frac{a_n^2 + 1}{3a_n + 2} = \frac{2}{5}$$

آزمونهای برای تعیین وضعیت همگرایی یا واگرایی سری‌هایی با جملات مثبت (یا منفی):

الف) آزمون p

سری $\sum_{n=1}^{\infty} a_n$ با فرض $a_n \geq 0$ را در نظر بگیرید: چنانچه بتوان عدد p را پیدا کرد که $\lim_{n \rightarrow \infty} a_n \cdot n^p$ موجود و مخالف صفر باشد، آنگاه می‌توان گفت:

$$\lim_{n \rightarrow \infty} a_n \cdot n^p \begin{cases} \text{اگر } p > 1 \text{ باشد، سری مورد نظر همگراست.} \\ \text{اگر } p \leq 1 \text{ باشد، سری مورد نظر واگراست.} \end{cases}$$

مثال: موقعیت سریهای زیر را تعیین کنید.

$$1) \sum_{n=1}^{\infty} \frac{1}{4n^2 + 3} : \lim_{n \rightarrow \infty} \left(\frac{1}{4n^2 + 3} \cdot n^2 \right) = \frac{1}{4} \quad p = 2 \quad P > 1 \text{ پس سری همگراست}$$

$$2) \sum_{n=1}^{\infty} \frac{2n+1}{n^2 + 3n + 4} : \lim_{n \rightarrow \infty} \left(\frac{2n+1}{n^2 + 3n + 4} \cdot n^1 \right) = 2 \quad p = 1 \quad P = 1 \text{ پس سری واگراست}$$

$$3) \sum_{n=1}^{\infty} \frac{n\sqrt{n}}{1+n^2} : \lim_{n \rightarrow \infty} \left(\frac{n\sqrt{n}}{1+n^2} \cdot n^{\frac{1}{2}} \right) = 1 \quad p = \frac{1}{2} \quad P < 1 \text{ پس سری واگراست}$$

$$4) \sum_{n=1}^{\infty} \frac{n\sqrt{n}}{1+n^3} : \lim_{n \rightarrow \infty} \left(\frac{n\sqrt{n}}{1+n^3} \cdot n^{\frac{3}{2}} \right) = 1 \quad p = \frac{3}{2} \quad P > 1 \text{ پس سری همگراست}$$

$$5) \sum_{n=1}^{\infty} \frac{\tan^{-1} n}{n^2} : \lim_{n \rightarrow \infty} \left(\frac{\tan^{-1} n}{n^2} \cdot n^2 \right) = \frac{\pi}{2} \quad p = 2 \quad P > 1 \text{ پس سری همگراست}$$

$$6) \sum_{n=1}^{\infty} (n^3 + 1) \sin^6 \frac{1}{n} : \lim_{n \rightarrow \infty} (n^3 + 1) \sin^6 \frac{1}{n} \cdot n^3 = \lim_{n \rightarrow \infty} (n^3 + 1) \left(\frac{1}{n} \right)^6 \times n^3 = 1 \neq 0$$

$P = 3$ پس سری همگراست.

ب) آزمون دالامبر:

سری $\sum_{n=1}^{\infty} a_n$ با فرض $a_n \geq 0$ را در نظر بگیرید، برای تعیین وضعیت این سری، حد زیر را محاسبه می‌کنیم:

$$\lim_{n \rightarrow \infty} \frac{a_{n+1}}{a_n} = L \begin{cases} L > 1 & \text{سری واگراست} \\ L < 1 & \text{سری همگراست} \\ L = 1 & \text{این آزمون بی نتیجه می ماند} \end{cases}$$

مثال: وضعیت سری زیر را تعیین کنید.

$$\sum_{n=1}^{\infty} \frac{n!}{n^n} : \lim_{n \rightarrow \infty} \frac{a_{n+1}}{a_n} = \lim_{n \rightarrow \infty} \frac{\frac{(n+1)!}{(n+1)^{n+1}}}{\frac{n!}{n^n}} = \lim_{n \rightarrow \infty} \frac{n^n (n+1)!}{n! (n+1)^{n+1}} = \lim_{n \rightarrow \infty} \frac{n^n}{(n+1)^n} = \lim_{n \rightarrow \infty} \left(\frac{n}{n+1} \right)^n = 1^n = 1^\infty \text{ مبهم}$$

بنابراین سری مذکور همگراست. $\lim_{n \rightarrow \infty} \frac{n^n}{(n+1)^n} = \lim_{n \rightarrow \infty} \left(\frac{n+1-1}{n+1} \right)^n = \lim_{n \rightarrow \infty} \left(1 - \frac{1}{n+1} \right)^n = e^{-1} < 1$ رفع ابهام

توجه: می‌دانیم $\lim_{n \rightarrow \infty} \left(1 + \frac{1}{n} \right)^n = e \Rightarrow \lim_{n \rightarrow \infty} \left(1 + \frac{-1}{n+1} \right)^n = \lim_{n \rightarrow \infty} \left(1 + \frac{1}{x} \right)^{-x+1} = \lim_{n \rightarrow \infty} \frac{1}{\left(1 + \frac{1}{x} \right)^x} = e^{-1}$

مثال: وضعیت سری زیر را تعیین کنید.

$$\frac{1}{3} + \frac{2}{3^2} + \frac{3}{3^3} + \dots$$

$$\frac{1}{3} + \frac{2}{3^2} + \frac{3}{3^3} + \dots = \sum_{n=1}^{\infty} \frac{n}{3^n}$$

با استفاده از آزمون دالامبر داریم:

$$\lim_{n \rightarrow \infty} \frac{\frac{n+1}{3^{(n+1)}}}{\frac{n}{3^n}} = \lim_{n \rightarrow \infty} \frac{n+1}{n} \cdot \frac{3^n}{3^{n+1}} = \lim_{n \rightarrow \infty} \frac{n+1}{n} \cdot \frac{1}{3} = \frac{1}{3} < 1$$

پس سری مزبور همگراست.

نکته: دقت کنید در مورد چند جمله‌ای‌ها از دالامبر استفاده نکنید. زیرا همیشه مقدار حد $\lim_{n \rightarrow \infty} \frac{a_{n+1}}{a_n} = 1$ می‌شود.

(ج) آزمون کوشی: سری $\sum_{n=1}^{\infty} a_n$ با فرض $a_n > 0$ را در نظر بگیرید، برای تعیین وضعیت این سری، حد زیر را بدست می‌آوریم:

$\lim_{n \rightarrow \infty} \sqrt[n]{a_n} = L$	$L > 1$	سری واگرا
	$L < 1$	سری همگرا
	$L = 1$	آزمون بی نتیجه است

L هایی که از قضیه دالامبر بدست می‌آید، همان L هایی است که از قضیه کوشی بدست می‌آید، در نتیجه در صورتی که هر یک جواب ندهد از دیگری نمی‌توان استفاده کرد.

به عبارت دیگر همواره داریم:

$$\lim_{n \rightarrow \infty} \frac{a_{n+1}}{a_n} = \lim_{n \rightarrow \infty} \sqrt[n]{a_n}$$

مثال: وضعیت سری زیر را مشخص کنید.

$$\sum_{n=1}^{\infty} \frac{n!}{n^n}$$

می‌دانیم $\lim_{n \rightarrow \infty} \sqrt[n]{n!} = \frac{n}{e}$ پس داریم:

$$\lim_{n \rightarrow \infty} \sqrt[n]{a_n} = \lim_{n \rightarrow \infty} \sqrt[n]{\frac{n!}{n^n}} = \lim_{n \rightarrow \infty} \frac{\sqrt[n]{n!}}{n} = \lim_{n \rightarrow \infty} \frac{\frac{n}{e}}{n} = \frac{1}{e} < 1$$

پس طبق آزمون کوشی سری همگراست.

$$\sum_{n=1}^{\infty} \frac{1}{n^n}$$

مثال: وضعیت سری زیر را تعیین کنید.

با استفاده از آزمون کوشی مشخص می‌شود که سری مذکور همگراست.

$$\lim_{n \rightarrow \infty} \sqrt[n]{\frac{1}{n^n}} = \lim_{n \rightarrow \infty} \frac{1}{n} = 0$$

مثال: وضعیت سری زیر را مشخص کنید.

$$\sum_{n=1}^{\infty} \left(\frac{n+1}{n} \right)^{n^2}$$

$$\lim_{n \rightarrow \infty} \sqrt[n]{a_n} = \lim_{n \rightarrow \infty} \sqrt[n]{\left(\frac{n+1}{n} \right)^{n^2}} = \lim_{n \rightarrow \infty} \left(\frac{n+1}{n} \right)^n = \lim_{n \rightarrow \infty} \left(1 + \frac{1}{n} \right)^n = e > 1$$

طبق آزمون کوشی سری مزبور واگراست.

مثال: وضعیت سری‌های زیر را مشخص کنید.

1) $\sum_{n=1}^{\infty} \frac{n^2}{2^n}$

$$\lim_{n \rightarrow \infty} \sqrt[n]{a_n} = \lim_{n \rightarrow \infty} \sqrt[n]{\frac{n^2}{2^n}} = \lim_{n \rightarrow \infty} \frac{n^{\frac{2}{n}}}{2} = \frac{1}{2}$$

سری مزبور طبق آزمون کوشی همگراست.

مقدار حد $A = \lim_{n \rightarrow \infty} n^{\frac{2}{n}}$ به طریق زیر مشخص می‌شود:

$$A = \lim_{n \rightarrow \infty} n^{\frac{2}{n}} \rightarrow \ln A = \lim_{n \rightarrow \infty} \frac{2}{n} \ln n = \frac{\infty}{\infty} \text{ مبهم} \rightarrow \ln A = \lim_{n \rightarrow \infty} \frac{2 \times \frac{1}{n}}{1} = 0 \Rightarrow A = 1$$

2) $\sum_{n=0}^{\infty} \frac{(3-4i)^n}{n!}$

$$\lim_{n \rightarrow \infty} \sqrt[n]{a_n} = \lim_{n \rightarrow \infty} \sqrt[n]{\left| \frac{(3-4i)^n}{n!} \right|} = \lim_{n \rightarrow \infty} \frac{|3-4i|}{\frac{n}{e}} = \lim_{n \rightarrow \infty} \frac{5}{\frac{n}{e}} = \lim_{n \rightarrow \infty} \frac{5e}{n} = 0$$

سری مزبور طبق آزمون کوشی همگراست.

مثال: وضعیت سری زیر را مشخص کنید.

$$\sum_{n=0}^{\infty} \frac{(6+8i)^n}{4^n}$$

$$\lim_{n \rightarrow \infty} \sqrt[n]{a_n} = \lim_{n \rightarrow \infty} \sqrt[n]{\left| \frac{(6+8i)^n}{4^n} \right|} = \lim_{n \rightarrow \infty} \frac{|6+8i|}{4} = \frac{10}{4} > 1$$

پس سری مزبور طبق آزمون کوشی واگراست.

مثال: وضعیت سری زیر را مشخص کنید.

$$\sum_{n=1}^{\infty} \frac{(n!)^2}{(2n)!}$$

$$\lim_{n \rightarrow \infty} \sqrt[n]{a_n} = \lim_{n \rightarrow \infty} \sqrt[n]{\frac{(n!)^2}{(2n)!}} = \lim_{n \rightarrow \infty} \frac{\left(\frac{n}{e}\right)^2}{\left(\frac{2n}{e}\right)^2} = \frac{1}{4} < 1$$

پس سری مزبور طبق آزمون کوشی همگراست.

(د) آزمون انتگرال: سری $\sum_{n=1}^{\infty} a_n$ با فرض $a_n \geq 0$ را در نظر بگیرید، چنانچه a_n ها طبیعت نزولی داشته باشند:

$$\forall n \in \mathbb{N} \begin{cases} a_{n+1} < a_n \\ \text{یا} \\ a'_n \leq 0 \end{cases}$$

آنگاه وضعیت همگرایی یا واگرایی سری موردنظر، مانند وضعیت همگرایی یا واگرایی انتگرال ناسره زیر است:

$$\int_1^{+\infty} a(x) dx$$

نکته: هر سه سری زیر به ازاء $p > 1$ همگرا و به ازاء $p \leq 1$ واگرا هستند:

$$\sum_{n=2}^{\infty} \frac{1}{n (\ln n)^p} \quad \sum_{n=2}^{\infty} \frac{\ln n}{n^p} \quad \sum_{n=1}^{\infty} \frac{1}{n^p}$$

مثال: وضعیت همگرایی سری $\sum_{n=1}^{\infty} \frac{e^{-\sqrt{n}}}{\sqrt{n}}$ را تعیین کنید.

تابع $f(x) = \frac{e^{-\sqrt{x}}}{\sqrt{x}}$ به ازاء هر $x \geq 1$ مثبت و پیوسته است و به وضوح ملاحظه می‌شود که با افزایش x ، $f(x)$ رفتار نزولی دارد. در نتیجه می‌توان از آزمون انتگرال استفاده کرد.

$$I = \int_1^{+\infty} \frac{e^{-\sqrt{x}}}{\sqrt{x}} dx$$

با تغییر متغیر $e^{-\sqrt{x}} = u$ داریم:

$$\frac{-1}{2\sqrt{x}} e^{-\sqrt{x}} dx = du$$

$$I = -2e^{-\sqrt{x}} \Big|_1^{+\infty} = -2(e^{-\infty} - e^{-1}) = \frac{2}{e}$$

لذا چون انتگرال ناسره I همگرا شده، پس سری t نیز همگراست.

سری‌های متناوب

سری $\sum_{n=0}^{\infty} (-1)^n a_n = +a_0 - a_1 + a_2 - \dots$ را در نظر بگیرید، (با فرض $a_n \geq 0$) به این سری اصطلاحاً یک سری متناوب گفته می‌شود و طبق قضیه لایبنیتز ثابت می‌شود، این سری متناوب همگراست اگر دو شرط زیر برقرار باشد:

$$\left\{ \begin{array}{l} 1) \lim_{n \rightarrow \infty} a_n = 0 \\ 2) a_{n+1} < a_n \text{ یا } a'_n < 0 \quad (a_n \text{ ها طبیعت نزولی داشته باشند (لااقل از یک } n \text{ خاص به بعد)}) \end{array} \right.$$

یک تعریف و یک قضیه: دو سری زیر را در نظر بگیرید:

$$\left. \begin{array}{l} I = \sum_{n=0}^{\infty} a_n \\ J = \sum_{n=0}^{\infty} (-1)^n a_n \end{array} \right\} \quad (a_n \geq 0 \text{ شرط})$$

الف) اگر I همگرا باشد، J نیز الزاماً همگراست و اصطلاحاً می‌گویند سری متناوب J همگرایی مطلق دارد.

ب) اگر I واگرا باشد اما J همگرا باشد، اصطلاحاً می‌گویند سری متناوب J همگرایی مشروط دارد.

مثال: سری مقابل چه وضعیتی دارد؟

$$I = \sum_{n=1}^{\infty} \frac{(-1)^n \ln n}{n^3}$$

د) نمی‌توان اظهار نظر کرد.

ج) واگرا

ب) همگرای مشروط

الف) همگرایی مطلق

از آنجایی که سری $\sum_{n=1}^{\infty} \frac{\ln n}{n^3}$ همگراست، سری مذکور نیز همگراست و همگرایی مطلق دارد. بنابراین گزینه (الف) صحیح است.

$$I = \sum_{n=1}^{\infty} \frac{(-1)^n n}{n^2 + 1}$$

مثال: سری مقابل چه وضعیتی دارد؟

(د) هیچکدام

(ج) همگرایی مطلق

(ب) همگرای مشروط

(الف) واگرا

سری $\sum_{n=1}^{\infty} \frac{n}{n^2 + 1}$ واگراست، پس I نمی تواند همگرایی مطلق داشته باشد، حال سراغ قضیه لایپنیتز می رویم:

$$\begin{cases} \lim_{n \rightarrow \infty} \frac{n}{n^2 + 1} = 0 \\ a'_n = \frac{n^2 + 1 - 2n^2}{(n^2 + 1)^2} = \frac{1 - n^2}{(n^2 + 1)^2} \leq 0 \end{cases}$$

لذا طبق قضیه لایپنیتز سری متناوب I همگراست و البته همگرایی مشروط دارد.

سری های تابع و بحث فاصله همگرایی و شعاع همگرایی:

سری $\sum_{n=0}^{\infty} a_{(n,x)}$ را در نظر بگیرید، چنانچه ملاحظه می شود، با بسط این سیگما، مجموعی حاصل می شود که هر کدام از جملات آن تابعی از x است، در رابطه با اینگونه سریها بحث فاصله همگرایی مطرح است، یعنی می خواهیم ببینیم این سری به ازاء چه مقادیری از x همگراست، برای این منظور شرط همگرا بودن را مطابق یکی از آزمونهای دالامبر یا کوشی تعمیم یافته به صورت زیر می نویسیم:

(الف) شرط همگرایی طبق آزمون دالامبر:

$$\lim_{n \rightarrow \infty} \left| \frac{a_{(n+1, x)}}{a_{(n, x)}} \right| < 1$$

(ب) شرط همگرایی طبق آزمون کوشی:

$$\lim_{n \rightarrow \infty} \left| \sqrt[n]{a_{(n,x)}} \right| < 1$$

و سپس x هایی را تعریف می کنیم که به ارضا این شرط می انجامند.

نکته: نصف طول فاصله همگرایی را شعاع همگرایی می نامیم.

مثال: فاصله همگرایی و شعاع همگرایی سریهای زیر را تعیین کنید:

$$\sum_{n=0}^{\infty} \left(\frac{2n+4}{2n-4} \right)^{n^2} \cdot x^n$$

شرط همگرایی:

$$\lim_{n \rightarrow \infty} \left| \sqrt[n]{\left(\frac{2n+4}{2n-4} \right)^{n^2} \cdot x^n} \right| < 1$$

$$\lim_{n \rightarrow \infty} \left| \left(\frac{2n+4}{2n-4} \right)^n \cdot x \right| < 1$$

$$\lim_{n \rightarrow \infty} \left(\frac{2n+4}{2n-4} \right)^n = \lim_{n \rightarrow \infty} \left(\frac{2n-4+8}{2n-4} \right)^n = \lim_{n \rightarrow \infty} \left(1 + \frac{8}{2n-4} \right)^n = \lim_{n \rightarrow \infty} \left(1 + \frac{4}{n-2} \right)^n = e^4$$

$$e^4 |x| < 1 \Rightarrow -\frac{1}{e^4} < x < \frac{1}{e^4} \quad \text{فاصله همگرایی}$$

$$R = \frac{1}{e^4} \quad \text{شعاع همگرایی}$$

مثال: فاصله همگرایی و شعاع همگرایی سری زیر را تعیین کنید.

$$\sum_{n=1}^{\infty} \frac{(3-4i)^n (2n-1)^n}{n^2+1}$$

$$\lim_{n \rightarrow \infty} \sqrt[n]{\left| \frac{(3-4i)^n (2n-1)^n}{n^2+1} \right|} < 1 \Rightarrow \lim_{n \rightarrow \infty} \frac{|3-4i| |2n-1|}{\sqrt[n]{n^2+1}} < 1$$

$$\frac{\sqrt{9+16} \times |2n-1|}{1} < 1 \Rightarrow |2n-1| < \frac{1}{5} \rightarrow -\frac{1}{5} < 2n-1 < \frac{1}{5} \Rightarrow \frac{4}{5} < 2n < \frac{6}{5} \Rightarrow \frac{2}{5} < n < \frac{3}{5}$$

توجه: با فرض $A = \lim_{n \rightarrow \infty} \sqrt[n]{n^2+1}$ داریم:

$$A = \lim_{n \rightarrow \infty} \sqrt[n]{n^2+1} = \sqrt[n]{n^2} = \lim_{n \rightarrow \infty} n^{\frac{2}{n}} = \infty \quad \text{مبهم}$$

$$\ln A = \ln n^{\frac{2}{n}} = \frac{2}{n} \ln n = \frac{\ln n}{\frac{n}{2}} \xrightarrow{H} \frac{\frac{1}{n}}{\frac{1}{2}} = \frac{2}{n} \xrightarrow{n \rightarrow \infty} 0 \Rightarrow A = 1$$

$$\text{فاصله همگرایی } \frac{2}{5} < x < \frac{3}{5}$$

$$\text{شعاع همگرایی } R = \frac{1}{10}$$

مثال: فرض کنید Z برابر است با: $Z = x + iy$

ناحیه همگرایی این سری $\sum_{n=1}^{\infty} e^{-nz^2}$ را بدست آورید:

(د) هیچکدام

(ج) $|x| > |y|$

(ب) $|x| < |y|$

(الف) $|z| < 1$

شرط همگرایی طبق آزمون کوشی

$$\lim_{n \rightarrow \infty} \left| \sqrt[n]{e^{-nz^2}} \right| < 1 \rightarrow \left| e^{-z^2} \right| < 1$$

با توجه به اینکه می‌دانیم $|e^{-2ixy}| = 1$

$$\left| e^{-(x+iy)^2} \right| < 1 \rightarrow \left| e^{-x^2+y^2-2ixy} \right| < 1 \rightarrow \left| e^{y^2-x^2} \right| \left| e^{-2ixy} \right| < 1$$

$$\rightarrow e^{y^2-x^2} < 1 = e^0 \rightarrow y^2 - x^2 < 0 \rightarrow |y| < |x|$$

بنابراین گزینه (ج) صحیح است.

بسط تیلور و بسط مک لورن

بسط تیلور: بسط تیلور تابع $f(x)$ حول نقطه x_0 ، به صورت زیر نوشته می شود:

$$f(x) = a_0 + a_1(x - x_0) + a_2(x - x_0)^2 + \dots$$

$$f(x) = \sum_{n=0}^{\infty} a_n (x - x_0)^n$$

که در آن ضرایب این سری عبارتند از:

$$a_0 = f(x_0) \quad a_1 = \frac{f'(x_0)}{1!} \quad a_2 = \frac{f''(x_0)}{2!} \quad \dots \quad a_n = \frac{f^{(n)}(x_0)}{n!}$$

نکته: بسط تیلور حول نقطه $x_0 = 0$ را بسط مک لورن تابع می گویند.

مثال: تابع $f(x) = e^{x^2+x}$ مفروض است، ضریب عبارت $(x-1)^2$ در بسط تیلور این تابع را حول نقطه $x=1$ بدست آورید.

$$f(x) = e^{x^2+x}$$

$$f'(x) = (2x+1)e^{x^2+x}$$

$$f''(x) = 2e^{x^2+x} + (2x+1)^2 e^{x^2+x}$$

پس داریم:

$$f(x) = a_0 + a_1(x - x_0) + a_2(x - x_0)^2$$

$$a_2 = \frac{f''(1)}{2!} = \frac{2e^2 + 3^2 e^2}{2} = \frac{11}{2} e^2$$

نکته: بسط مک لورن چند تابع مهم را در زیر مشاهده می کنید:

$$\forall x \in \mathbb{R} : \quad e^x = 1 + x + \frac{x^2}{2!} + \frac{x^3}{3!} + \dots = \sum_{n=0}^{\infty} \frac{x^n}{n!}$$

$$\cos x = 1 - \frac{x^2}{2!} + \frac{x^4}{4!} - \dots = \sum_{n=0}^{\infty} (-1)^n \frac{x^{2n}}{(2n)!}$$

$$\sin x = x - \frac{x^3}{3!} + \frac{x^5}{5!} - \dots = \sum_{n=0}^{\infty} (-1)^n \frac{x^{2n+1}}{(2n+1)!}$$

$$|x| < 1 : \quad \frac{1}{1-x} = 1 + x + x^2 + \dots = \sum_{n=0}^{\infty} x^n$$

$$\frac{1}{1+x} = 1 - x + x^2 - \dots = \sum_{n=0}^{\infty} (-1)^n x^n$$

دو نکته مهم:

۱- با استفاده از سریهای فوق این امکان وجود دارد که بسط توابع دیگر را به سادگی بنویسیم، بدون آنکه لازم باشد ضرایب بسط را از طریق مشتق گیری از تابع پیدا کنیم.

۲- با استفاده از این بسط ها می توان مقدار همگرایی برخی سریها را نیز تعیین کرد.

مثال: ضریب x^3 در بسط مک لوران این تابع $f(x) = (x^2 + 3x - 1)e^{-x}$ را بیابید.

با توجه به بسط تابع نمایی داریم:

$$f(x) = (x^2 + 3x - 1) \left(1 - x + \frac{(-x)^2}{2!} + \frac{(-x)^3}{3!} + \dots \right)$$

$$\text{پس } a_3 = -1 + \frac{3}{2!} - 1 \times \frac{(-1)^3}{3!} = \frac{2}{3}$$

مثال: ضریب x^5, x^6, x^7 را در بسط مک لوران تابع $f(x) = (x^3 + 1)\ln(x^2 + 1)$ را پیدا کنید (با شرط $|x| < 1$)

از طرفین تساوی انتگرال می گیریم؛ اگر مقدار x به x^2 تبدیل شود داریم:

$$\frac{1}{1+x} = \sum_{n=0}^{\infty} (-1)^n x^n \quad |x| < 1$$

$$\ln(1+x) = \sum_{n=0}^{\infty} (-1)^n \frac{x^{n+1}}{n+1}$$

$$x \rightarrow x^2 \quad \ln(1+x^2) = \sum_{n=0}^{\infty} (-1)^n \frac{(x^2)^{n+1}}{n+1} \Rightarrow \begin{matrix} |x^2| < 1 \\ |x| < 1 \end{matrix} \quad \text{با شرط}$$

بنابراین داریم:

$$f(x) = (x^3 + 1) \left(\sum_{n=0}^{\infty} (-1)^n \frac{(x^2)^{n+1}}{n+1} \right)$$

$$x^5 \text{ ضریب} = 1 \times (-1)^0 = 1$$

$$x^6 \text{ ضریب} = 1 \times \frac{(-1)^2}{3} = \frac{1}{3}$$

$$x^7 \text{ ضریب} = 1 \times (-1)^1 \frac{1}{1+1} = -\frac{1}{2}$$

$$I = \sum_{n=1}^{\infty} \frac{n+3}{n!}$$

مثال: همگرایی سری زیر را بدست آورید.

$$I = \sum_{n=1}^{\infty} \left(\frac{1}{(n-1)!} + \frac{3}{n!} \right) = \left(1 + 1 + \frac{1}{2!} + \frac{1}{3!} + \dots \right) + 3 \left(1 + \frac{1}{2!} + \frac{1}{3!} + \dots \right)$$

$$e^x = 1 + x + \frac{x^2}{2!} + \dots$$

$$e^1 = 1 + 1 + \frac{1}{2!} + \frac{1}{3!} + \dots$$

از آنجایی که

$$\text{در نتیجه } I = e + 3(e - 1) = 4e - 3$$