




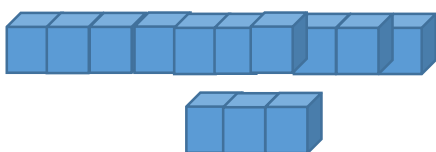
۱- جاهای خالی را کامل کنید.

چهار تا ده هزار تا برابر است با هزار یعنی عدد.....

۸۹۴۰۵ یعنی ده هزار تا و هزار تا و صد تا و ده تا و یکی

دویست و بیست و سه هزار تا برابر است با هزار یعنی عدد.....

۲- اگر  نمایش دهنده ی عدد ۱۰۰۰ باشد عددی را که شکل نمایش می دهد بنویسید؟



با عدد:

با حرف:

۳- عددی که در جدول مشخص شده است به حروف و رقم بنویسید؟

| یکی | ده تایی | صد تایی | هزار تایی | ده | صد |
|-----|---------|---------|-----------|----|----|
| ۰ | ۴ | ۲ | ۵ | ۱ | ۹ |

به عدد:

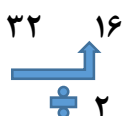
به حروف:

۴- الگوهای عددی را ادامه دهید و رابطه ی بین اعداد را توضیح دهید؟



۹

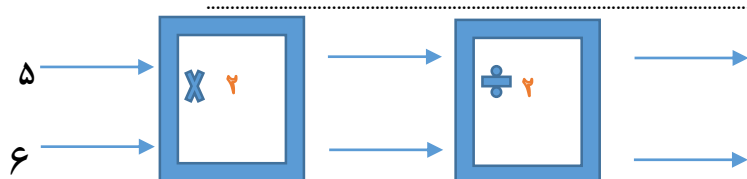
.....



۸

.....

۵- توضیح دهید که ماشین زیر چه کاری انجام می دهد. عددهای خروجی را بنویسید؟

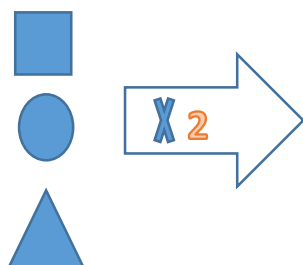


۶- عددی داده شده را با حذف رقم های طبقه ی یکی ها (یکان، دهگان، صدگان) و قرار دادن صفر به جای آن ها به عدد و حروف بنویسید؟

| | |
|---|--|
| <p>۹۸۷۴۵۳</p> <div style="display: flex; align-items: center;"> <div style="margin-right: 10px;"> </div> <div> <p>به عدد:</p> <p>به حروف:</p> </div> </div> | <p>۴۳۶۱۲۵۹</p> <div style="display: flex; align-items: center;"> <div style="margin-right: 10px;"> </div> <div> <p>به عدد:</p> <p>به حروف:</p> </div> </div> |
|---|--|

۷- با توجه به کار ماشین، عبارت زیر را کامل کنید و شکل مناسب رسم کنید.

این ماشین، هر شکل کل که وارد آن می شود را..... برابر می کند؟



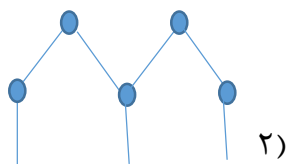
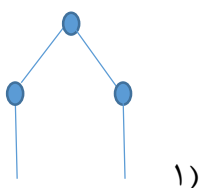
۸- عددی را که هر عبارت نشان می دهد، در جدول ارزش مکانی قرار دهید.

الف) ۹ تا ۱۰۰ هزار تایی + ۷ تا ۱۰۰۰ تایی + ۳ تا صد تایی + ۲ تا یکی

ب) ۵ + ۶۰ + ۳۰۰ + ۸۰۰۰ + ۲۰۰۰۰

ج) ۳ تا اسکناس ده هزار تومانی + ۷ تا اسکناس هزار تومانی + ۴ تا سکه صد تومانی

| هزار ها | | | | | | |
|---------|-------|------|-------|-------|------|-----|
| صدگان | دهگان | یکان | صدگان | دهگان | یکان | |
| | | | | | | الف |
| | | | | | | ب |
| | | | | | | ج |



۹- شکل چهارم با چند چوب کبریت ساخته می شود؟