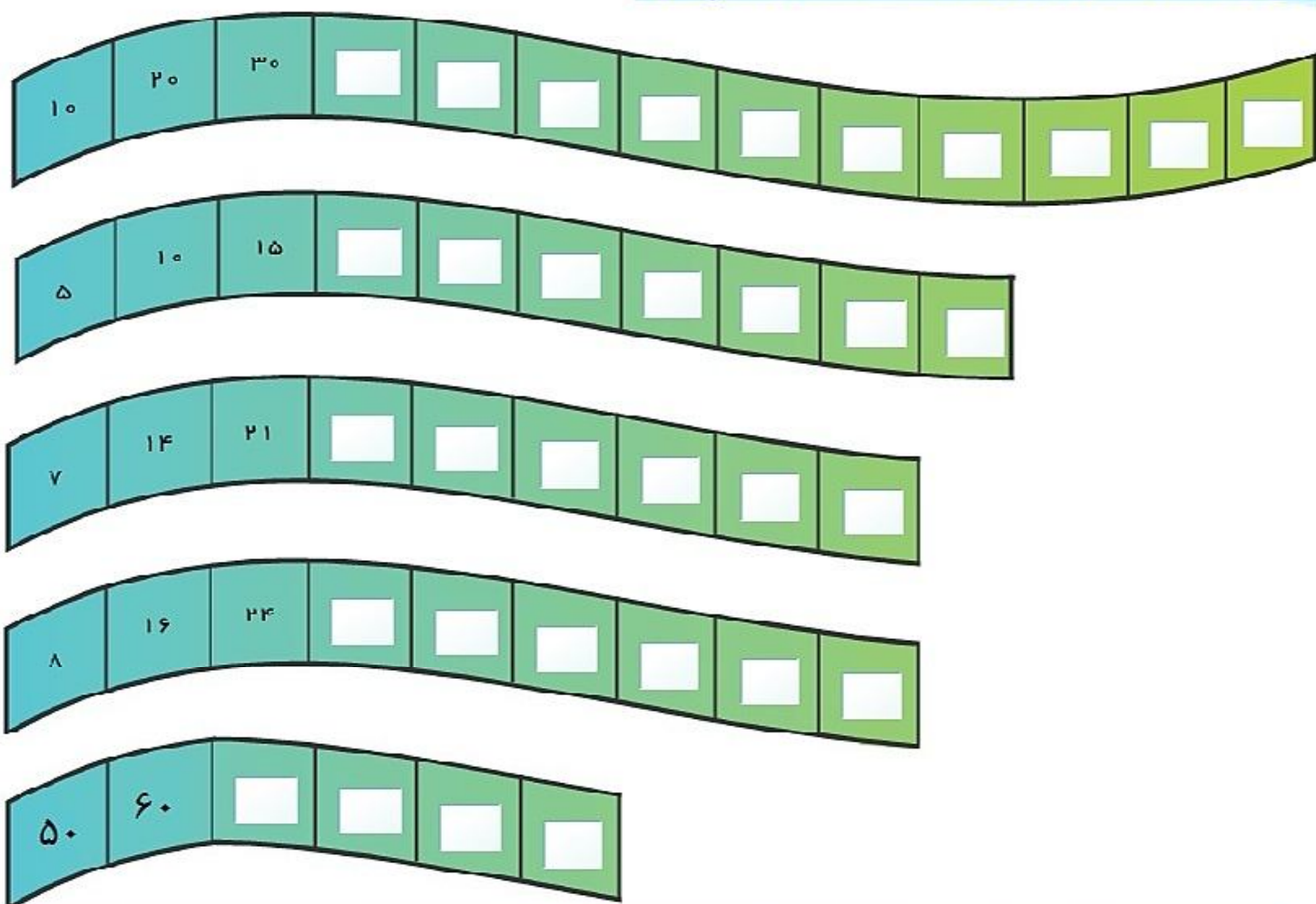
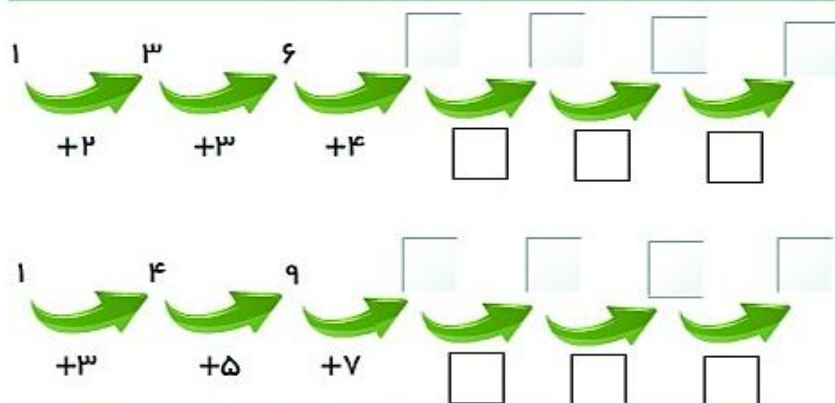


الگو را ادامه بده و در جای مناسب، عددها را تایپ کن؟



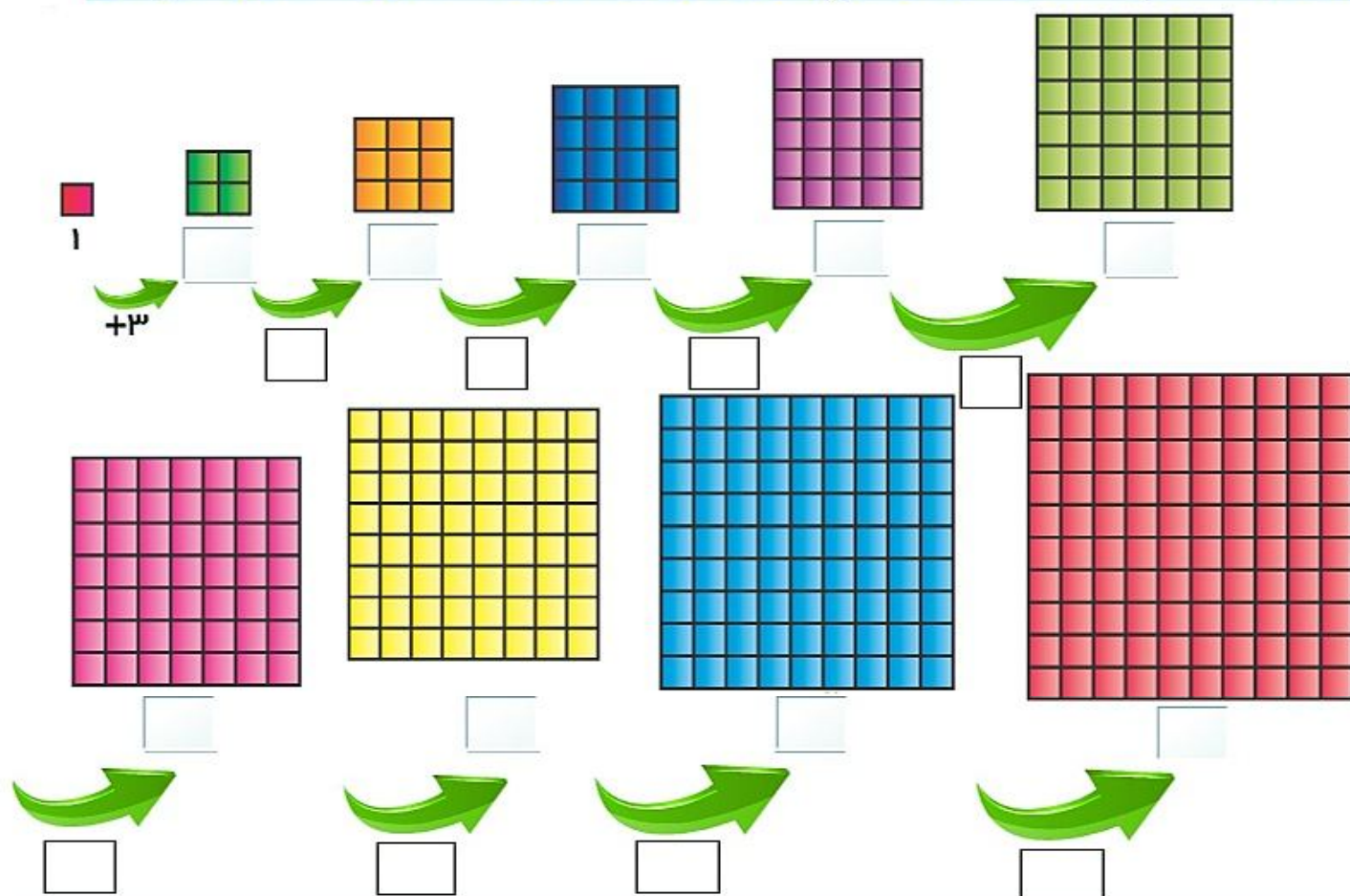
الگو را ادامه بده.



ارزش سکه‌های هر قسمت را بنویسید.



با توجه به تعداد چین‌ها در شکل‌های مربع، قانون مربوط به الگو را کشف کن و عدد آن را تایپ کن.



ریحانه ساعت ۹:۵' شروع به مطالعه کرد اگر مطالعه‌ی او ۱۵ دقیقه بکشد. ریحانه چه ساعتی دست از مطالعه خواهد کشید؟



ساعت تمام شدن
مطالعه را نشان بده



ساعت ۹:۵'
را نشان بده

از روی ساعت، به سوالات زیر پاسخ بده و جواب را تایپ کن.

۱۵ دقیقه بعد از ساعت ۶:۰۰ چه ساعتی است؟

:

۳۰ دقیقه بعد از ساعت ۱۲:۰۰ چه ساعتی است؟

:

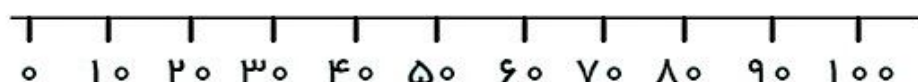
۲۰ دقیقه بعد از ساعت ۹:۴۰ چه ساعتی است؟

:

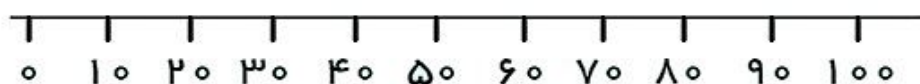
۱۰ دقیقه بعد از ساعت ۲:۲۰ چه ساعتی است؟

:

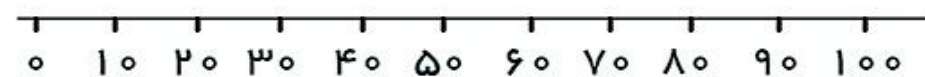
با کمک گرفتن از محور اعداد حاصل جمع و تفریق‌های زیر را بدست بیاور.



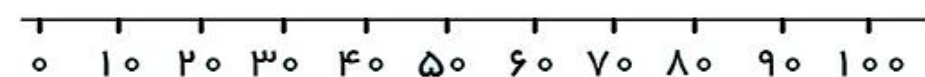
$90 + 10 =$



$10 + 50 = \square$



$100 - 20 = \square$



$70 - 40 = \square$

ارزش سکه‌های زیر را بنویس.



ریال



ریال



ریال

مقدار هر سکه را تایپ کن.



ریال



ریال



ریال



ریال

به سؤال‌های زیر پاسخ دهید.


۱۰ دقیقه بعد از ساعت ۵:۲۰ چه ساعتی است؟

۳۰ دقیقه بعد از ساعت ۳:۰۰ چه ساعتی است؟

۲۰ دقیقه بعد از ساعت ۸:۴۰ چه ساعتی است؟

۱۵ دقیقه بعد از ساعت ۷:۰۰ چه ساعتی است؟

سعید با سه روش پولی را که در قلم خود جمع کرده است را به مادرش نشان داد. بنویسید سعید چند ریال دارد؟



ص	د	ی

ریال

ص	د	ی

ریال



ص	د	ی

ریال

این عددها را بسازید و در جدول ارزش مکانی قرار دهید. سپس عدد را از جدول خارج کرده و با رقم و با حروف بنویسید.

ص	د	ی

۳ دسته صدتایی ۴ دسته ده تایی و ۷ تا یکی.

به عدد: به حروف:

ص	د	ی

۵ دسته صدتایی ۳ دسته ده تایی و ۴ تا یکی.

به عدد: به حروف:

سیصد و چهل و هفت یعنی:

جاهای خالی را کامل کن.

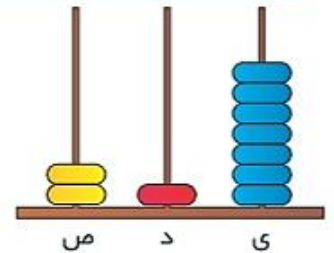
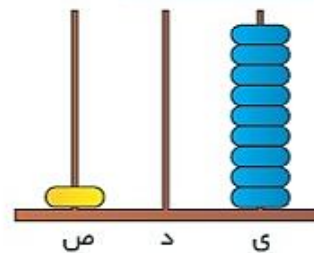
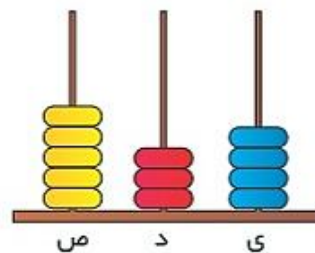
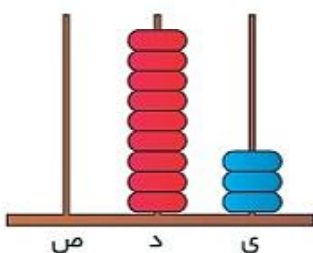
دسته صدتایی و دسته ده تایی و تا یکی

۵ صدتایی و ۳ ده تایی و ۴ تا یکی یعنی

ص	د	ی

ص	د	ی

هر چرتکه چه عددی را نشان می دهد؟



۱۰۰ - - - ۴۰۰ - - - ۷۰۰ - - -

صد تا صد تا ادامه بده.



سکه‌ی زیر را با چند تا سکه‌ی ۱۰۰ ریالی و چند تا سکه‌ی ۱۰ ریالی می‌توان عوض کرد؟
 سکه‌ی ۱۰۰ ریالی و سکه‌ی ۱۰ ریالی

ارزش سکه‌های زیر را بنویس.

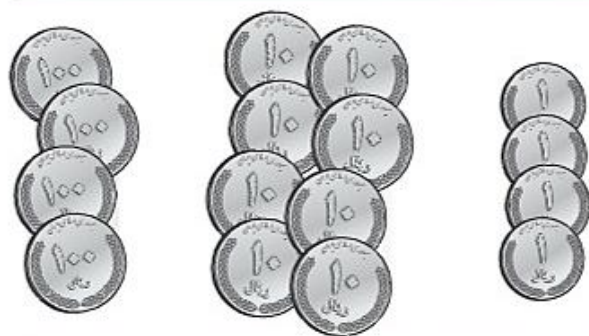


ریال




ریال

محمد چه قدر یول دارد؟



ریال



یک دیوار با کاشی‌هایی به شکل مقابل کاشی کاری شده است. شما ۴ رنگ انتخاب کنید. فقط با استفاده از این ۴ رنگ تمام کاشی‌ها را رنگ کنید. طوری که هیچ دو کاشی کنار یک‌دیگر هم رنگ نباشند.

با سه کارت محمدرضا که روی آنها ۳، ۱، ۵ نوشته شده است، تمام عددهای سه رقمی غیر تکراری را که می توان

--	--	--	--	--	--

با سه کارت که روی آنها ۹ و ۰ و ۵ نوشته شده است، تمام عددهای سه رقمی را که می توان ساخت، بساز

شما می‌توانید اعداد تکراری هم استفاده کنید!

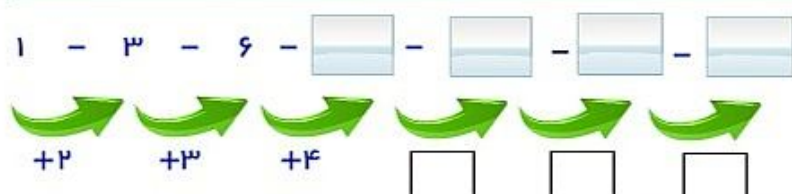
با سه کارت محمدرضا که روی آنها ۳، ۴، ۶ نوشته شده است، تمام عددهای سه رقمی غیر تکراری را که می توان

ساخت، بساز

با سه کارت که روی آنها ۹ و ۴ و ۳ نوشته شده است، تمام عددهای سه رقمی را که می توان ساخت، بساز

می توانی اعداد تکراری هم استفاده کنی!

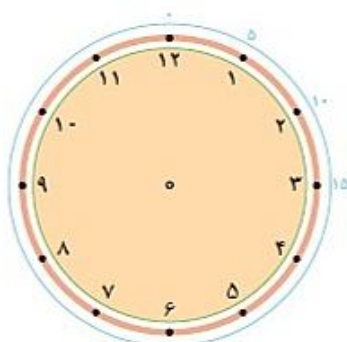
با کشف قانون الگو، الگوی زیر را ادامه بده.



به سوال های هر کدام پاسخ بده و ساعت مورد نظر را بساز.

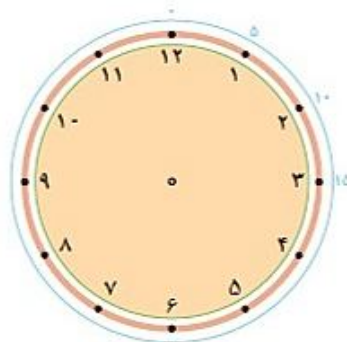
۳۰ دقیقه بعد از ساعت

: ۱۲:۰۰ چه ساعتی است؟



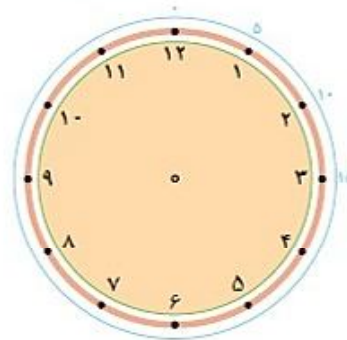
۱۰ دقیقه بعد از ساعت ۲:۲۰

: دقیقه چه ساعتی است؟



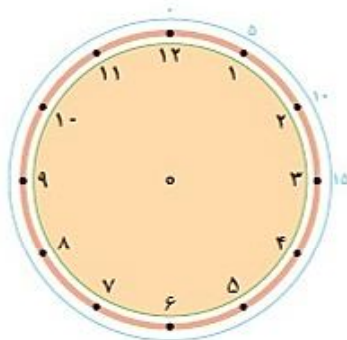
۱۵ دقیقه بعد از ساعت ۶:۰۰

: چه ساعتی است؟



۲۰ دقیقه بعد از ساعت ۹:۴۰

: دقیقه چه ساعتی است؟



با سه رقم ۷، ۴، ۰ عدد سه رقمی یکنانش ۷ باشد چه عددی است؟

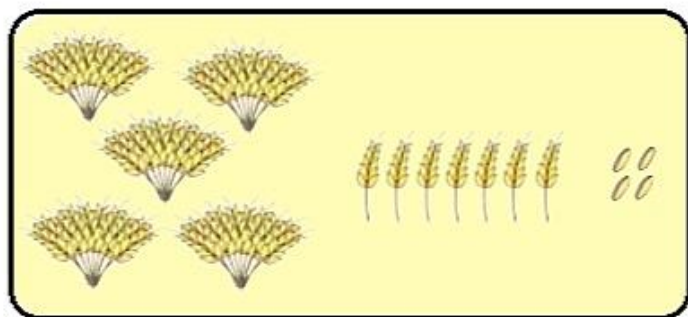
با سه کارت که رقم های آنها ۷، ۰، ۵ نوشته شده است عددی بنویسید که:

الف) بزرگترین عدد باشد. ب) یکنانش صفر باشد.

ج) رقم یکنانش بیشتر از رقم دهگان باشد.

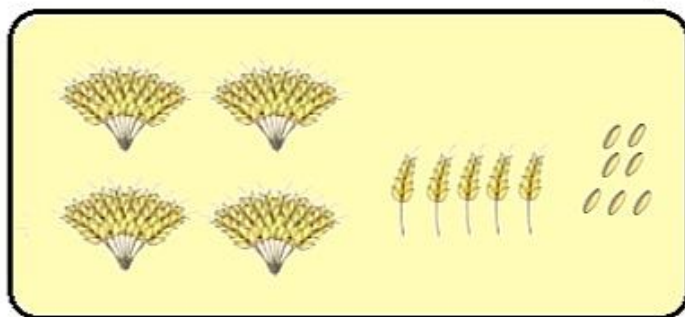
با سه رقم (۲، ۷، ۴) عدد سه رقمی بنویس که رقم یکان آن از همه کمتر باشد؟

کامل کنید.



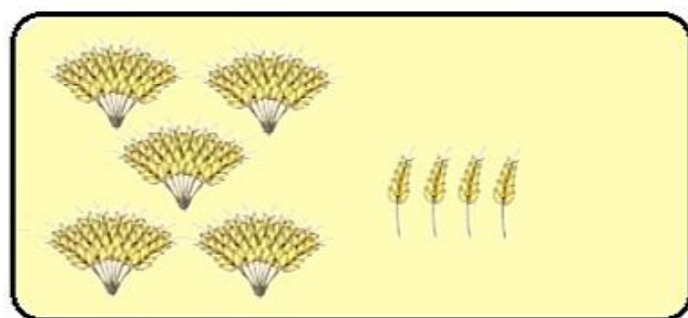
صدتایی	دهتایی	یکی

عدد :




صدتایی	دهتایی	یکی

عدد :



صدتایی	دهتایی	یکی

عدد :



صدتایی	دهتایی	یکی

عدد :

کامل کنید.

صدتا
۹۳۰ یعنی ده تا
یکی

صدتا
۳۵۷ یعنی ده تا
یکی

صدتا
۴۰۸ یعنی ده تا
یکی

صدتا
۱۰۹ یعنی ده تا
یکی

صدتا
۶۲۸ یعنی ده تا
یکی

صدتا
۵۰۰ یعنی ده تا
یکی

تمام عددهای سه رقمی را که با رقم های ۲ و ۴ و ۶ می توان نوشت، بنویسید به گونه ای که جمع رقم های یکان و صدگان آن برابر رقم دهگان باشد.

رقم صدگان آن بیش تر از رقم یکان باشد.

۳۱۲ - ۴۱۲ - ۵۱۲ - - - -

--	--

ص	د	ی
۶	۵	۳

586

۴۱۹

٢٠٠ - ٣٠٠ - - - - - - ٩٠٠

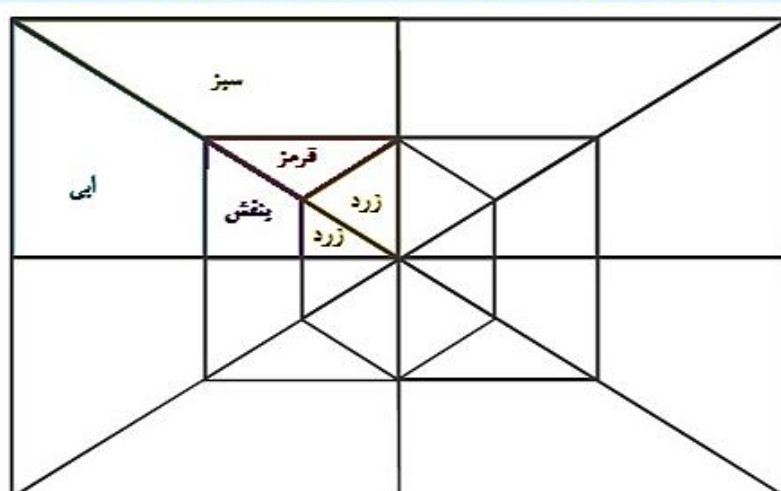
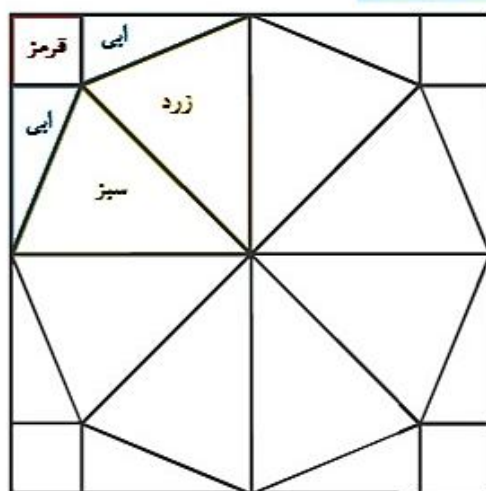


203

جدول زیر را با توجه به الگوی عددی آن کامل کن .

۱۰	۲۰	۳۰							۱۰۰
۱۱۰									۲۰۰
	۲۲۰								
			۳۴۰						
									۵۰۰
				۵۵۰					
									۷۰۰

شکل ها را طوری رنگ بزنید که به صورت افقی و عمودی تقارن داشته باشد.



جدول را پیدا کن

۸۱	۸۲	۸۳						۹۰
۹۱							۹۹	
۱۰۱								۱۱۰

۱۰	۲۰	۳۰						۱۰۰
۱۱۰				۱۵۰				۲۰۰
		۲۳۰						۳۰۰

در جاهای خالی عددهای مناسب را تایپ کن.

$$۴۰ + ۴۰ = \square$$

$$۲۰ + ۸۰ = \square$$

$$۳۰ + \square = ۱۰۰$$

$$۱۰۰ - \square = ۵۰$$

$$\square - ۶۰ = ۴۰$$

$$۱۰۰ - \square = ۹۰$$

جمع و تفریق کنید.

$$۳ + ۳ = \square$$

$$۵ + ۳ = \square$$

$$۹ - ۳ = \square$$

$$۷ - ۲ = \square$$

$$۳۰ + ۳۰ = \square$$

$$۵۰ + ۳۰ = \square$$

$$۹۰ - ۳۰ = \square$$

$$۷۰ - ۲۰ = \square$$

$$۳۰۰ + ۳۰۰ = \square$$

$$۵۰۰ + ۳۰۰ = \square$$

$$۹۰۰ - ۳۰۰ = \square$$

$$۷۰۰ - ۲۰۰ = \square$$

به کمک محور جمع و تفریق ها را انجام دهید.



$$۲۰۰ + ۳۰۰ = \square$$

$$۴۰۰ + ۳۰۰ = \square$$

$$۵۰۰ + ۲۰۰ = \square$$

$$۹۰۰ - ۳۰۰ = \square$$

$$۸۰۰ - ۵۰۰ = \square$$

$$۷۰۰ - ۶۰۰ = \square$$

ابتدا محور را کامل کنید، سپس به کمک آن جواب جمع و تفریق ها را پیدا کنید.



$$\begin{array}{r} ۱۰۷ \\ - ۹ \\ \hline \end{array}$$

$$\begin{array}{r} ۱۰۸ \\ - ۹ \\ \hline \end{array}$$

$$\begin{array}{r} ۱۰۳ \\ - ۹ \\ \hline \end{array}$$

$$\begin{array}{r} ۹۵ \\ + ۹ \\ \hline \end{array}$$

$$\begin{array}{r} ۹۶ \\ - ۸ \\ \hline \end{array}$$

$$\begin{array}{r} ۹۳ \\ + ۷ \\ \hline \end{array}$$

$$\begin{array}{r} ۹۶ \\ + ۹ \\ \hline \end{array}$$

$$\begin{array}{r} ۹۴ \\ + ۸ \\ \hline \end{array}$$

$$\begin{array}{r} ۹۷ \\ + ۷ \\ \hline \end{array}$$

$$\begin{array}{r} ۱۰۵ \\ - ۷ \\ \hline \end{array}$$

$$\begin{array}{r} ۱۰۴ \\ - ۸ \\ \hline \end{array}$$

$$\begin{array}{r} ۱۰۹ \\ - ۳ \\ \hline \end{array}$$

رضا ۷۴ ریال داشت، ۸ ریال را خرج کرد، حالا چند ریال دارد؟

علی ۱۰۸ امتیاز داشت، او در مرحله ی اول با یک سوال ۷ امتیاز از دست داد و در مرحله ی دوم با یک پاسخ درست ۹ امتیاز کسب کرد، علی حالا چند امتیاز دارد؟

رضا ۹۵ امتیاز داشت. ابتدا به یک سوال ۸ امتیازی پاسخ درست داد. سپس با یک سوال ۹ امتیاز را از دست داد. حالا او چند امتیاز دارد؟

حامد ۱۰۴ امتیاز داشت. به یک سوال پاسخ نادرست داد و ۷ امتیاز از دست داد. حالا چند امتیاز دارد؟

مقدار پول را در هر قسمت به دست آورید.















هر چرتکه چه عددی را نشان می دهد؟



















با ۳ کارت رقم ۲ و ۵ و ۷ تمام عددهای ۳ رقمی را بنویسید. (بدون تکرار ارقام)

--	--	--	--	--	--

با سه رقم ۴، ۷ و ۲ عدد سه رقمی بنویسید که رقم یکان آن از همه کم تر باشد.

--	--

با سه رقم ۳، ۰ و ۶ عدد سه رقمی بنویسید که رقم یکانش ۶ باشد.

--

هر عدد را مانند نمونه ی باز شده بنویسید.

$$۲۳۱ = ۲۰۰ + ۳۰ + ۱$$

$$۴۷۱ = \dots\dots\dots$$

$$۵۹۳ = \dots\dots\dots$$

$$۷۸۰ = \dots\dots\dots$$

$$۲۰۵ = \dots\dots\dots$$

$$۷۰۹ = \dots\dots\dots$$

عدد داخل مربع به کدام عدد نزدیک تر است؟ دایره ی مربوط به آن را رنگ کنید.

