

بنام خدا

مجموعه حاضر حل مسائلی در انتگرال دوگانه میباشد. در این مجموعه سعی شده است

درخصوص موارد زیر به ترتیب اهمیت آنها، مطالب مهم و مورد توجه گنجانده شود. دانشجویان

در ابتدا سعی نمایند نکات مهم در مسائل حل شده را با دقت مورد توجه قرار داده و در هر بخش

به طور جداگانه نسبت به حل تمرینات خواسته شده اقدام نمایند.

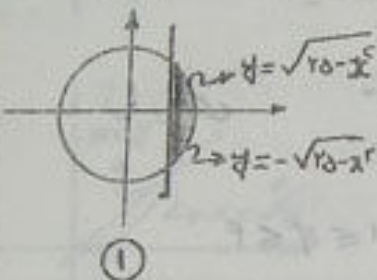
موارد مورد بررسی به شرح زیر میباشد

- ۱- رسم ناحیه انتگرالگیری
- ۲- محاسبه انتگرال دوگانه در مختصات دکارتی
- ۳- محاسبه انتگرال دوگانه در مختصات قطبی
- ۴- محاسبه انتگرال دوگانه با استفاده از تغییر متغیر
- ۵- محاسبه انتگرال دوگانه غیر عادی
- ۶- محاسبه سطح ناحیه به کمک انتگرال دوگانه
- ۷- محاسبه حجم با استفاده از انتگرال دوگانه
- ۸- محاسبه سطح رویه و انتگرال رویه ای

ناحیه R را در هر یک از مسائل زیر رسم و محدودکننده‌ها را با توجه به اختیاراتی که دارید، قائم یا افقی و یا در حالت قطبی مشخص نمایید.

$$R: \begin{cases} x \geq 3 \\ x^2 + y^2 \leq 25 \end{cases}$$

① سمت راست خط $x=3$ و داخل دایره $x^2 + y^2 = 25$ باشد.



ج: در صورت استفاده از نوار قائم طبق شکل ① داریم

$$y = \sqrt{25 - x^2} \quad \text{متنی بالا}$$

$$y = -\sqrt{25 - x^2} \quad \text{پایین}$$

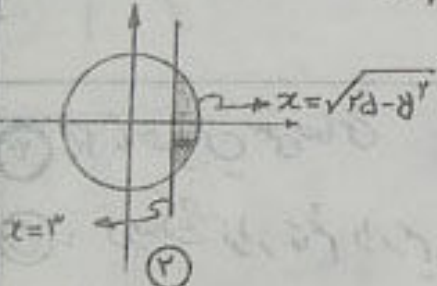
$$-\sqrt{25 - x^2} \leq y \leq \sqrt{25 - x^2} \quad \text{و} \quad 3 \leq x \leq 5$$

در صورت استفاده از نوار افقی طبق شکل ② داریم

$$x = \sqrt{25 - y^2} \quad \text{متنی راست}$$

$$x = 3 \quad \text{چپ}$$

$$3 \leq x \leq \sqrt{25 - y^2} \quad , \quad -4 \leq y \leq 4$$



$$\begin{cases} x^2 + y^2 = 25 \\ x = 3 \end{cases} \rightarrow 9 + y^2 = 25 \rightarrow y = \pm 4$$

② ناحیه R بین منحنی‌های $y = e^x$ ، $y = 1$ ، و $x = 2$ باشد.

ج: در صورت استفاده از نوار قائم (شکل ①) داریم

$$y = e^x \quad \text{متنی بالا}$$

$$y = 1 \quad \text{پایین}$$

$$1 \leq y \leq e^x \quad \rightarrow \quad 0 \leq x \leq 1$$

در صورت استفاده از نوار افقی (شکل ②) داریم

$$x = \ln y \quad \text{متنی چپ}$$


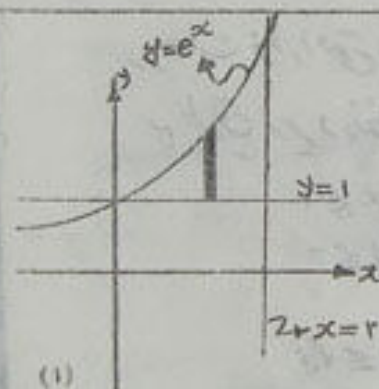
$$x = 2 \quad \text{متنی راست}$$

$$y = e^x \rightarrow y = e^2$$

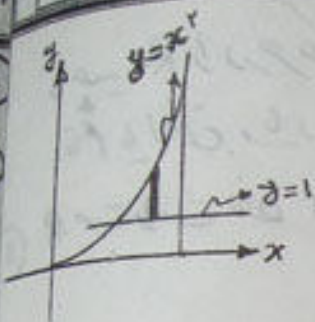
$$x = 2$$

$$\ln y \leq x \leq 2$$

$$1 \leq y \leq e^2$$

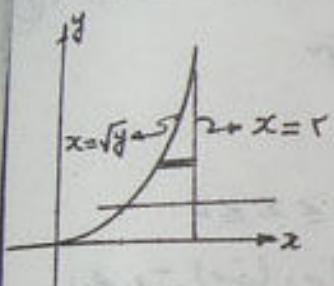


۳) ناحیه بین منحنی های $y=x^2$ ، $x=2$ و $y=1$ می باشد.



نوار قائم : (ج) منحنی بالا $y=x^2$ ، منحنی پایین $y=1$

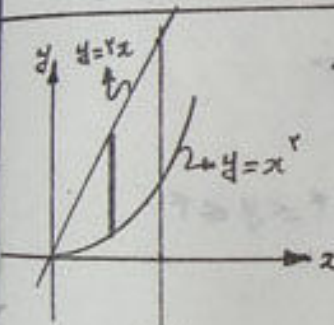
$$1 \leq y \leq x^2 \quad 1 \leq x \leq 2$$



نوار افقی : منحنی راست $x=2$ ، منحنی چپ $x=\sqrt{y}$

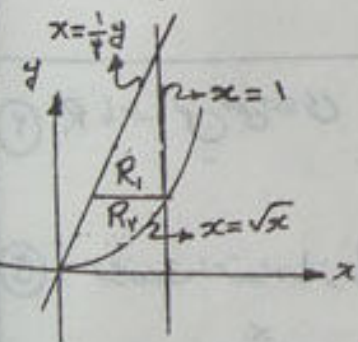
$$\sqrt{y} \leq x \leq 2 \quad 1 \leq y \leq 4$$

۴) ناحیه بین منحنی های $y=2x$ ، $y=x^2$ و $x \leq 1$ می باشد.



در حالت نوار قائم داریم : (ج) منحنی بالا $y=2x$ ، منحنی پایین $y=x^2$

$$x^2 \leq y \leq 2x \quad 0 \leq x \leq 1$$



در حالت نوار افقی با منحنی R_1 و ناحیه R_2 ،
به طریق زیر در نظر بگیریم

$$R_1 : \begin{cases} x=1 & \text{منحنی راست} \\ x=\frac{1}{2}y & \text{منحنی چپ} \end{cases} \quad \begin{cases} \frac{1}{2} \leq x \leq 1 \\ 1 \leq y \leq 2 \end{cases}$$

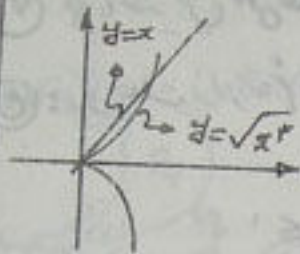
$$x=1, y=2x \Rightarrow y=2$$

$$R_2 : \begin{cases} x=\sqrt{y} & \text{منحنی راست} \\ x=\frac{1}{2}y & \text{منحنی چپ} \end{cases} \quad \begin{cases} \frac{1}{4} \leq x \leq \sqrt{y} \\ 0 \leq y \leq 1 \end{cases}$$


در نتیجه R می تواند بصورت اجتماع این دو ناحیه باشد، یعنی

$$R = R_1 \cup R_2$$

۵) ناحیه ای بین منحنی های $y=x$ و $y=x^2$ باشد.

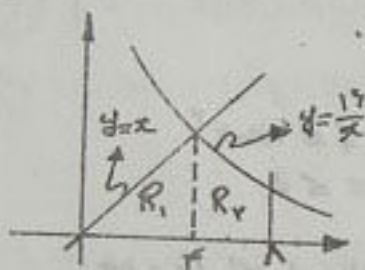


۵) در حالت نوار قائم داریم
 منحنی بالا $y=x$
 منحنی پایین $y=\sqrt{x^2}$
 $0 \leq x \leq 1$
 $x=\sqrt{x^2} \rightarrow x=0$ و $x=1$



در حالت نوار افقی داریم
 منحنی راست $x=\sqrt{y^2}$
 منحنی چپ $x=y$
 $0 \leq y \leq 1$

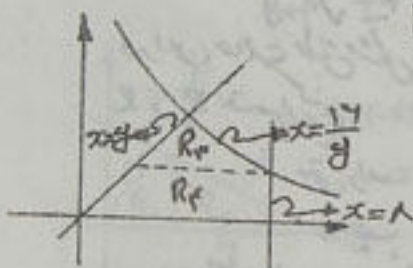
۶) ناحیه بین منحنی های $y=x$, $x=1$, $y=1/x$ و $y=0$ باشد.



۵) در حالت نوار قائم ناحیه را به دو ناحیه R_1 و R_2 تقسیم کنیم

$R_1: \begin{cases} y=x & \text{منحنی بالا} \\ y=0 & \text{منحنی پایین} \end{cases}$
 $0 \leq y \leq x$
 $0 \leq x \leq 1$

$R_2: \begin{cases} y=1/x & \text{منحنی بالا} \\ y=0 & \text{منحنی پایین} \end{cases}$
 $1/x \leq y \leq 1$
 $1 \leq x \leq 1$



$$R = R_1 \cup R_2$$

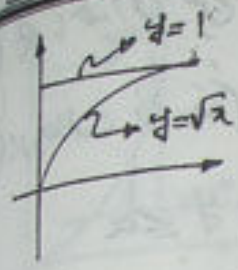
در حالت نوار افقی ناحیه را به دو ناحیه R_1 و R_2 تقسیم کنیم

$R_1: \begin{cases} x=1/y & \text{منحنی راست} \\ x=y & \text{منحنی چپ} \end{cases}$
 $1/y \leq x \leq 1$
 $1 \leq y \leq 1$

$R_2: \begin{cases} x=1 & \text{منحنی راست} \\ x=y & \text{منحنی چپ} \end{cases}$
 $1 \leq x \leq 1$
 $0 \leq y \leq 1$

$$R = R_1 \cup R_2$$

۷) ناحیه بین منحنی های $y=1$ و $y=\sqrt{x}$ می باشد.



ج: در حالت نوار قائم داریم

منفی بالا $y=1$

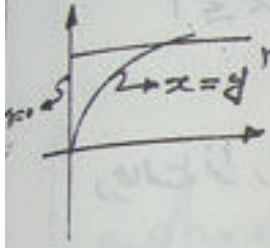
مثبت پایین $y=\sqrt{x}$

$$0 \leq x \leq 1 \quad \sqrt{x} \leq y \leq 1$$

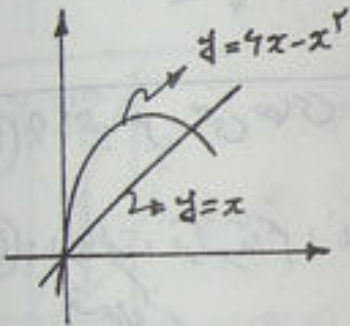
در حالت نوار افقی می توان نوشت

$$0 \leq x \leq y^2 \quad \text{منفی راست} \quad x=y^2$$

$$0 \leq y \leq 1 \quad \text{مثبت چپ} \quad x=0$$



۸) ناحیه بین در منحنی $y=6x-x^2$ و $y=x$ می باشد.



ج: در حالت نوار قائم می توان نوشت

منفی بالا $y=6x-x^2$

مثبت پایین $y=x$

$$x \leq y \leq 6x-x^2$$

$$0 \leq x \leq 5$$

$$x^2-6x=0$$

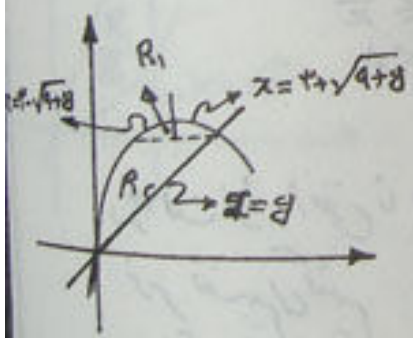
$$x=0, 6$$

$$y=0, 5$$

در حالت نوار افقی می توان نوشت

$$x^2-6x-y=0 \quad x=3 \pm \sqrt{9+y}$$

در این حالت طبق شکل ناحیه R را به دو ناحیه R_1 و R_2 تقسیم می کنیم



$$R_1: \begin{cases} x=3+\sqrt{9+y} & \text{منفی راست} \\ x=3-\sqrt{9+y} & \text{مثبت چپ} \end{cases}$$

$$4 \leq y \leq 8$$

$$3-\sqrt{9+y} \leq x \leq 3+\sqrt{9+y}$$

می توان با مشتق گرفتن نشان داد که نقطه ماکزیمم دارای مختصات $A(1, 4)$ می باشد.

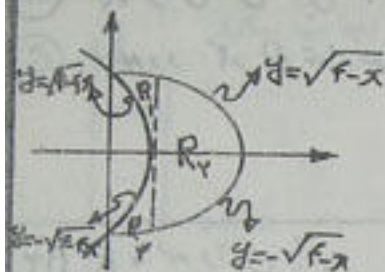
$$R_2: \begin{cases} x=3-\sqrt{9+y} & \text{منفی چپ} \\ x=y & \text{مثبت راست} \end{cases}$$

$$0 \leq y \leq 4$$

$$3-\sqrt{9+y} \leq x \leq y$$

$$R = R_1 \cup R_2$$

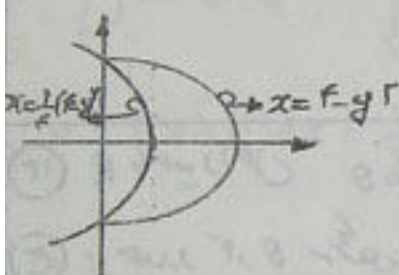
۹) ناحیه ای بین منحنی های $y^2 = 4-x$ و $y^2 = 4-4x$ باشد.



۵) در صورت استفاده از فوار قائم R به سه زیر ناحیه R_1 , R_2 و R_3 شکل زیر افراز میگردد

نقاط برخورد
 $y^2 = 4-4x \rightarrow y = \pm \sqrt{4-4x}$
 $y^2 = 4-x \rightarrow y = \pm \sqrt{4-x}$ (۰, ۴)

(۰, ۲)
 $R_1: \begin{cases} y = \sqrt{4-x} \text{ بالا} \\ y = \sqrt{4-4x} \text{ پایین} \end{cases} \sqrt{4-4x} \leq y \leq \sqrt{4-x}$
 $0 \leq x \leq 1$



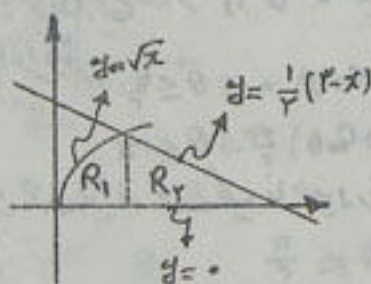
$R_2: \begin{cases} y = \sqrt{4-x} \text{ بالا} \\ y = -\sqrt{4-x} \text{ پایین} \end{cases} -\sqrt{4-x} \leq y \leq \sqrt{4-x}$
 $1 \leq x \leq 4$

$R_3: \begin{cases} y = -\sqrt{4-4x} \text{ بالا} \\ y = -\sqrt{4-x} \text{ پایین} \end{cases} -\sqrt{4-x} \leq y \leq -\sqrt{4-4x}$
 $0 \leq x \leq 1$

در صورت استفاده از منحنی های چپ و راست، حدود
 به شکل زیر می باشد

راست $x = 4-y^2$
 $\frac{1}{4}(4-y^2) \leq x \leq 4-y^2$
 چپ $x = \frac{1}{4}(4-y^2)$
 $-2 \leq y \leq 2$

۱۰) ناحیه بین $x=y^2$ و $x+2y=3$ و $y \neq 0$ باشد.



۵) از نظر منحنی های بالا و پائین R با منحنی R به دو زیر ناحیه R_1 و R_2 در صورت زیر تقسیم گردد

من برخورد $x=y^2 \rightarrow (1, 1)$ و $x+2y=3$
 $R_1: \sqrt{x} \leq y \leq \frac{1}{2}(3-x)$ $0 \leq x \leq 1$

$R_2: 0 \leq y \leq \frac{1}{2}(3-x)$ $1 \leq x \leq 9$
 $R = R_1 \cup R_2$

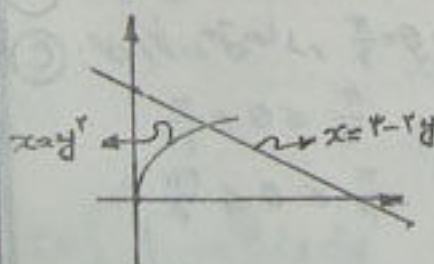
منحنی های چپ و راست:

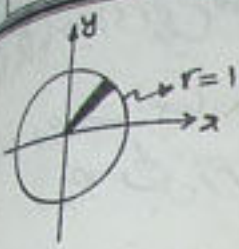
راست $x = 3-2y$

چپ $x = y^2$

$y^2 \leq x \leq 3-2y$

$0 \leq y \leq 1$



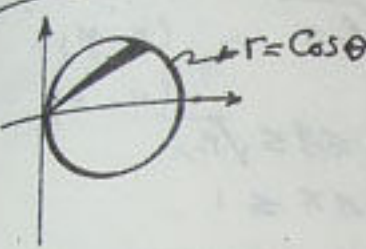


۱۱) R ناحیه منحنی قطبی $r=1$ می باشد.

ج: حدود r و θ عبارتند از

$$0 \leq r \leq 1$$

$$0 \leq \theta \leq 2\pi$$

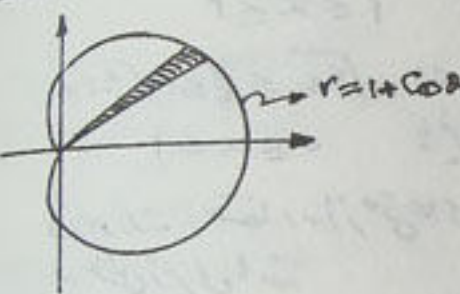


۱۲) R ناحیه داخل دایره $r=\cos \theta$ می باشد

ج: حدود r و θ عبارتند از

$$0 \leq r \leq \cos \theta$$

$$-\frac{\pi}{2} \leq \theta \leq \frac{\pi}{2}$$

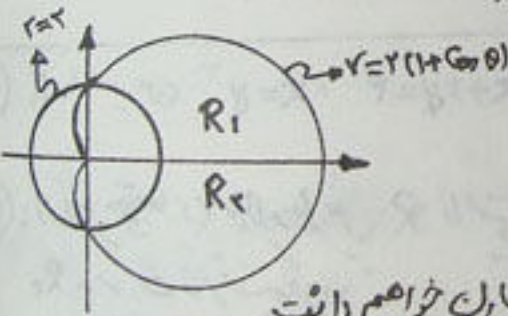


۱۳) R ناحیه داخل $r=1+\cos \theta$ می باشد

ج: حدود r و θ عبارتند از

$$0 \leq r \leq 1+\cos \theta$$

$$0 \leq \theta \leq 2\pi$$



۱۴) R ناحیه داخل $r=2$ و خارج $r=2(1+\cos \theta)$ می باشد

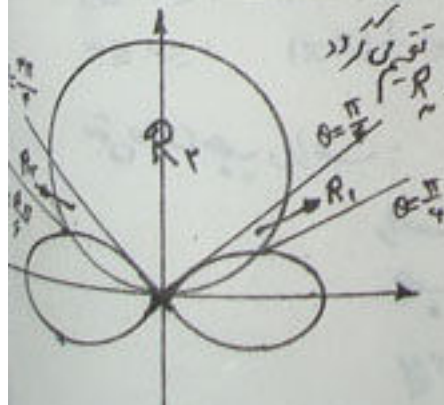
ج: برای تعیین حدود r و θ ناحیه R می توانیم به در ناحیه R_1 و R_2 افزایش ندهیم

$$R_1: 2 \leq r \leq 2(1+\cos \theta) \quad 0 \leq \theta \leq \frac{\pi}{2}$$

$$R_2: 2 \leq r \leq 2(1+\cos \theta) \quad \frac{3\pi}{2} \leq \theta \leq 2\pi$$

یا R می تواند فقط یک ناحیه در نظر گرفته شود و با استفاده از تقابل خواهیم داشت

$$2 \leq r \leq 2(1+\cos \theta) \quad -\frac{\pi}{2} \leq \theta \leq \frac{\pi}{2}$$



۱۵) R ناحیه خارج $r=4\cos \theta$ و داخل $r=4\sin \theta$ می باشد

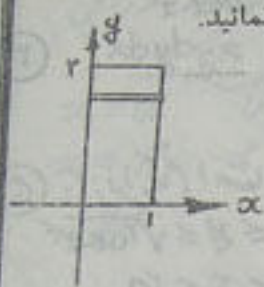
ج: بمن بر خود منتهی صادر $\theta=\frac{\pi}{4}$ و $\theta=\frac{5\pi}{4}$ می باشد. ناحیه به ناحیه R_1 و R_2 تقویم گردد

$$R_1: 2\sqrt{2}\cos \theta \leq r \leq 4\sin \theta \quad \frac{\pi}{4} \leq \theta \leq \frac{\pi}{2}$$

$$R_2: 0 \leq r \leq 4\sin \theta \quad \frac{\pi}{2} \leq \theta \leq \frac{3\pi}{4}$$

$$R_3: 2\sqrt{2}\cos \theta \leq r \leq 4\sin \theta \quad \frac{3\pi}{4} \leq \theta \leq \frac{5\pi}{4}$$

در هر یک از مسائل زیر ناحیه انتگرالگیری R را رسم و مقدار انتگرال را محاسبه نمایید.



$$I = \int_0^1 \int_0^2 (x^2 + y^2) dy dx \quad (1)$$

@material_world

(ع) : ناحیه R یک مستطیل به شکل $R: \begin{cases} 0 \leq x \leq 1 \\ 0 \leq y \leq 2 \end{cases}$ می باشد.

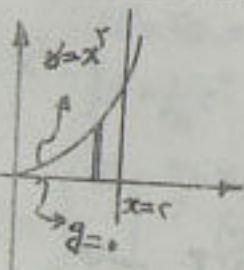
لذا از نواری قائم استفاده نمی توانیم بزنیم

$$I = \int_0^1 \int_0^2 (x^2 + y^2) dy dx = \int_0^1 \left[x^2 y + \frac{1}{3} y^3 \right]_0^2 dx$$

$$= \int_0^1 \left(2x^2 + \frac{8}{3} \right) dx = \frac{10}{3}$$

در صورت استفاده از متغیرهای چپ درست داریم

$$I = \int_0^2 \int_0^1 (x^2 + y^2) dx dy = \int_0^2 \left(x^2 \Big|_0^1 + x y^2 \Big|_0^1 \right) dy = \int_0^2 \left(\frac{1}{3} + y^2 \right) dy = \frac{10}{3}$$



$$I = \int_0^2 \int_0^{\sqrt{y}} x^2 e^{\frac{y}{x}} dy dx \quad (2)$$

(ع) : متغیرها بالا را با این می باشد و R عبارت است از $\begin{cases} 0 \leq y \leq x^2 \\ 0 \leq x \leq 2 \end{cases}$

لذا از نواری قائم استفاده نموده امتداد داریم

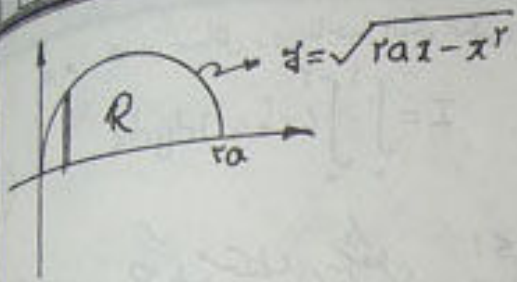
$$I = \int_0^2 \int_0^{\sqrt{y}} x^2 e^{\frac{y}{x}} dy dx = \int_0^2 \left(x e^{\frac{y}{x}} \right) \Big|_0^{\sqrt{y}} dx = \int_0^2 (x e^x - x) dx = (x-1)e^x - \frac{1}{2} x^2 \Big|_0^2 = e^2 - 1$$

در حالت استفاده از متغیرهای چپ درست داریم

متغیر چپ $x = \sqrt{y}$
 " راست $x = 2$
 $y \leq x \leq 4$

$$I = \int_0^4 \int_{\sqrt{y}}^2 x^2 e^{\frac{y}{x}} dx dy$$

انتگرال $\int_{\sqrt{y}}^2 x^2 e^{\frac{y}{x}} dx$ نسبت به x قابل حل نمی باشد لذا نمی توان میانه کرد.



$$I = \int_0^a \int_0^{\sqrt{a^2-x^2}} xy \, dy \, dx \quad (۳)$$

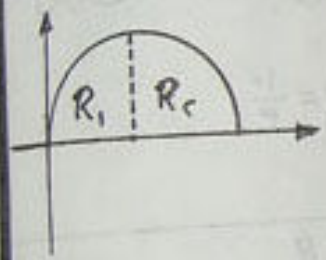
ج: از نوار قائم استفاده شده است و عبارت از

$$R: \begin{cases} 0 \leq y \leq \sqrt{a^2-x^2} \\ 0 \leq x \leq a \end{cases}$$

$y = \sqrt{a^2-x^2} \rightarrow y^2 = a^2-x^2$ ، محور x ها ، $y = \sqrt{a^2-x^2}$ داریم باشد ،
 $\rightarrow x^2 - a^2 + y^2 = 0 \rightarrow (x-a)^2 + y^2 = a^2$

$$I = \int_0^a \int_0^{\sqrt{a^2-x^2}} xy \, dy \, dx = \int_0^a \left(\frac{x}{2} y^2 \right) \Big|_0^{\sqrt{a^2-x^2}} dx = \int_0^a \frac{x}{2} (a^2-x^2) dx = \frac{1}{6} a^3$$

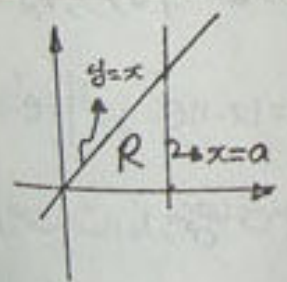
در صورت استفاده از نوار افقی ، R به دو ناحیه R_1 و R_2 تبدیل می‌گردد



$$\begin{aligned} y = \sqrt{a^2-x^2} &\rightarrow x^2 - a^2 + y^2 = 0 \\ x &= a \pm \sqrt{a^2-y^2} \\ \begin{cases} x = a + \sqrt{a^2-y^2} \\ x = a - \sqrt{a^2-y^2} \end{cases} & \quad 0 \leq y \leq a \end{aligned}$$

$$\iint_R = \iint_{R_1} + \iint_{R_2} \rightarrow I = \int_0^a \int_{a-\sqrt{a^2-y^2}}^{a+\sqrt{a^2-y^2}} xy \, dx \, dy + \int_0^a \int_{a-\sqrt{a^2-y^2}}^{a+\sqrt{a^2-y^2}} xy \, dx \, dy$$

محاسبه I در حالت نوار قائم به مراتب بهتر از حالت استفاده از نوار افقی می باشد



$$I = \int_0^a \int_0^x \frac{\cos y \cdot dy \, dx}{\sqrt{(a-x)(a-y)}} \quad (۴)$$

ج: از نوار قائم استفاده شده است و عبارت از :
 $\begin{cases} 0 \leq y \leq x \\ 0 \leq x \leq a \end{cases}$

$$I = \int_0^a \int_0^x \frac{\cos y \cdot dy \, dx}{\sqrt{(a-x)(a-y)}} = \int_0^a \frac{1}{(a-x)^{1/2}} \left[\int_0^x \frac{\cos y}{\sqrt{a-y}} dy \right] dx$$

در این حالت چون $\int \frac{\cos y}{\sqrt{a-y}} dy$ قابل انتگرال گیری نمی باشد ، باستی ترتیب (انتگرال گیری را

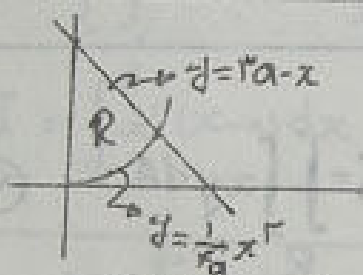
تغییر داد، ممکن است در حالت استفاده از نواراضی بتوان انگزال را مناسب نمود. در این صورت معنی های چپ و راست محدود به شکل زیر است

$x=a$ چپ راست
 $x=y$ چپ
 $0 \leq y \leq a$

$$\rightarrow I = \int_0^a \int_y^a \frac{\cos y \cdot dx dy}{\sqrt{(x-a)(y-a)}} = \int_0^a \frac{\cos y}{\sqrt{y-a}} \left[\int_y^a (x-a)^{-\frac{1}{2}} dx \right] dy$$

$$\int_y^a (x-a)^{-\frac{1}{2}} dx = 2(x-a)^{\frac{1}{2}} \Big|_y^a = 2(0 - \sqrt{y-a})$$

$$\rightarrow I = \int_0^a \frac{\cos y}{\sqrt{y-a}} (-2\sqrt{y-a}) dy = -2 \int_0^a \cos y dy = -2 \sin y \Big|_0^a = -2 \sin a$$




$$I = \int_0^{ra} \int_{\frac{x^2}{r^2}}^{ra-x} (x^2 + y^2) dy dx \quad (c)$$

(c): از معنی های بالا و با این استفاده شده است و لذا: $0 \leq x \leq ra$ باشد

$$I = \int_0^{ra} \int_{\frac{x^2}{r^2}}^{ra-x} (x^2 + y^2) dx dy = \int_0^{ra} \left(x^2 y + \frac{1}{3} y^3 \right) \Big|_{\frac{x^2}{r^2}}^{ra-x} dx$$

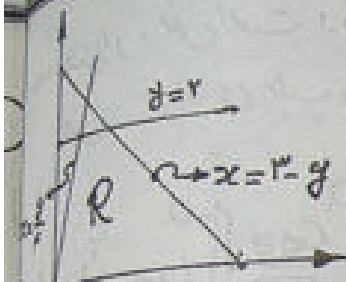
$$= \int_0^{ra} \left[x^2(ra-x) + \frac{1}{3}(ra-x)^3 - \frac{x^4}{r^2} - \frac{x^6}{192r^4} \right] dx = \frac{314}{35} a^4$$



در صورت استفاده از نواراضی با این ناحیه R (دو تا) R_1, R_2 از آن جدا در این صورت

$$I = \int_0^{a\sqrt{ay}} \int_0^{2\sqrt{ay}} (x^2 + y^2) dx dy + \int_a^{ra} \int_0^{ra-y} (x^2 + y^2) dx dy$$

صحنه می توان نوشت

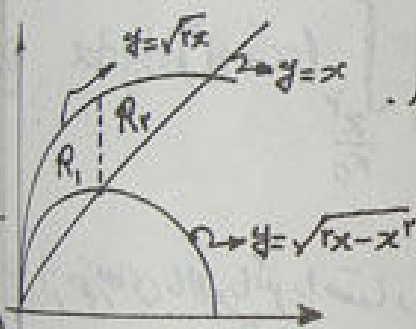


⑥ $I = \iint_R (x^2 + y^2) dA$ (محاسبه مقدار میانگین تابع $f(x,y)$ در ناحیه R)
 $(dA = dx dy)$
 ناحیه R را به صورت $y=2$ و $y=0$ و $x+y=3$ و $y=fx$ می‌نویسند.

⑤ : در اینجا به سبب آنکه انتگرال را می‌توانیم زیر انتگرال قرار دهیم استفاده می‌کنیم. ناحیه را به صورت $y=2$ و $y=0$ و $x+y=3$ و $y=fx$ می‌نویسند.

$0 \leq y \leq 2$, $x = \frac{1}{f}y$, $x = 3-y$, $y=2$, $y=0$

$$I = \int_0^2 \int_{\frac{1}{f}y}^{3-y} (x^2 + y^2) dx dy = \int_0^2 \left(\frac{1}{f}x^3 + x y^2 \right) \Big|_{\frac{1}{f}y}^{3-y} dy = \int_0^2 \left(\frac{(3-y)^3}{f} + (3-y)y^2 - \frac{y^3}{f} - \frac{y^3}{f} \right) dy = \frac{9}{f}$$



⑦ $I = \iint_R xy dA$ (محاسبه مقدار میانگین تابع $f(x,y)$ در ناحیه R)
 $(dA = dx dy)$
 ناحیه R را به صورت $y=sqrt(2x)$ و $y=x$ و $y=sqrt(2x-x^2)$ می‌نویسند.

⑥ : اگر ناحیه R را به دو ناحیه R_1 و R_2 تقسیم کنیم (مثلاً) می‌توانیم آن را به دو ناحیه R_1 و R_2 تقسیم کنیم.

آنجا که با استفاده از فرمول می‌توانیم محاسبه کنیم.

R_1 : $y = \sqrt{2x}$ (بالا)
 $y = \sqrt{2x-x^2}$ (پایین)
 $0 \leq x \leq 1$

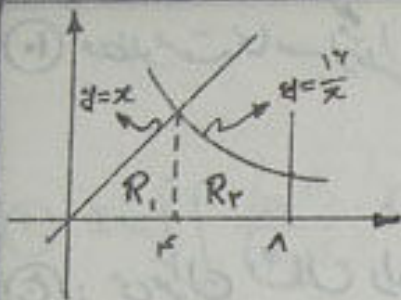
$\begin{cases} x^2 + y^2 - 2x = 0 \\ y = x \end{cases} \rightarrow \begin{cases} x=0 \\ x=1 \end{cases}$
 $\begin{cases} y = \sqrt{2x} \\ y = x \end{cases} \rightarrow \begin{cases} x=0 \\ x=2 \end{cases}$

R_2 : $y = \sqrt{2x}$ (بالا)
 $y = x$ (پایین)
 $1 \leq x \leq 2$

$I = \iint_R xy dA = \iint_{R_1} xy dA + \iint_{R_2} xy dA$

$$I = \int_0^1 \int_{\sqrt{2x-x^2}}^{\sqrt{2x}} xy dy dx + \int_1^2 \int_x^{\sqrt{2x}} xy dy dx = \int_0^1 \left(\frac{xy^2}{2} \right) \Big|_{\sqrt{2x-x^2}}^{\sqrt{2x}} dx + \int_1^2 \left(\frac{xy^2}{2} \right) \Big|_x^{\sqrt{2x}} dx$$

$$I = \int_0^1 \frac{x}{2} (2x - 2x + x^2) dx + \int_1^2 \frac{x}{2} (2x - x^2) dx = \frac{1}{12}$$



① $I = \iint_R x^2 dA$ ناحیه R بین منحنی های $\begin{cases} xy=17 \\ y=x \\ y=0 \\ x=8 \end{cases}$ می باشد.

⑤ : اگر R را به دو ناحیه R_1, R_2 طبق شکل افزایش دهیم می توانیم از نوارهای قائم استفاده می کنیم. البته می توان R را یکپارچه ای افزایش داد که از نوار افقی نیز استفاده می کنیم.

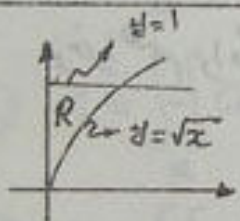
$R_1: \begin{cases} 0 \leq y \leq x \\ 0 \leq x \leq 4 \end{cases}$

$R_2: \begin{cases} 0 \leq y \leq \frac{17}{x} \\ 4 \leq x \leq 8 \end{cases}$

$I = \iint_{R_1} + \iint_{R_2}$

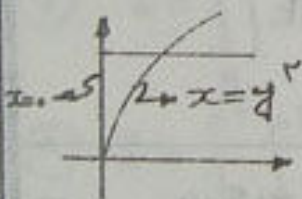
$I = \int_0^4 \int_0^x x^2 dy dx + \int_4^8 \int_0^{\frac{17}{x}} x^2 dy dx = \int_0^4 x^2 y \Big|_0^x dx + \int_4^8 x^2 y \Big|_0^{\frac{17}{x}} dx$

$I = \int_0^4 x^2 (x-0) dx + \int_4^8 x^2 (\frac{17}{x}-0) dx = 448$



⑨ $I = \int_0^1 \int_{\sqrt{x}}^1 e^y dy dx$ مطلوبست محاسبه انتگرال

⑥ : انتگرال $\int e^y dy$ قابل محاسبه نمی باشد زیرا مشتق y^3 در انتگرال موجود نمی باشد. اکنون ترتیب انتگرال را تغییر می کنیم. ممکن است سهولتی در محاسبه انتگرال ایجاد شود.



منتهی بالا $y=1$
پایین $y=\sqrt{x}$

در حالت اولی ناحیه R به شکل $\begin{cases} \sqrt{x} \leq y \leq 1 \\ 0 \leq x \leq 1 \end{cases}$ می باشد

اکنون با استفاده از نوار افقی می توان نوشت $\begin{cases} x=y^2 \\ x=0 \end{cases}, 0 \leq y \leq 1$

به این ترتیب خواهیم داشت

$I = \int_0^1 \int_0^{y^2} e^y dx dy = \int_0^1 x e^y \Big|_0^{y^2} dy = \int_0^1 (y^2 e^y - 0) dy$

$I = \frac{1}{3} e^{y^3} \Big|_0^1 = \frac{1}{3} (e-1)$

⑩ مطلوبیت محاسبه انتگرال زیر

$$I = \iint_{x^2+y^2 \leq 1} (\sin x + y^3 + 3) dA$$

⑤: می توان نشان داد که در یک انتگرال دوگانه اگر ناحیه R نسبت به محورهای مختصات متقارن باشد و توابع $f(x)$ یا $g(y)$ فرد باشند آنگاه

$$\iint_R f(x) dA = 0, \quad \iint_R g(y) dA = 0$$

همانطور که مشاهده می شود میدان $R: x^2+y^2 \leq 1$ نسبت به محورهای مختصات متقارن می باشد و توابع y^3 و $\sin x$ فردی باشند به این ترتیب:

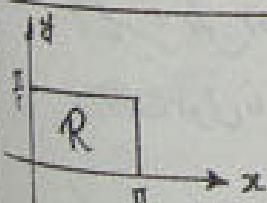
$$\iint_R y^3 dA = \iint_R \sin x dA = 0$$

@material_world

و خواهیم داشت

$$I = \iint_R \sin x dA + \iint_R y^3 dA + 3 \iint_R dA$$

$$I = 0 + 0 + 3 \iint_R dA = 3 (\text{مساحت } R) = 3(\pi) = 3\pi$$



$$R: \begin{cases} 0 \leq x \leq \pi \\ 0 \leq y \leq \frac{\pi}{2} \end{cases} \quad I = \iint_R e^{x+\sin y} \cos y dA \quad \text{⑪}$$

⑥: طبق ناحیه R ، شکل زیر محاسبه می شود

$$I = \int_0^{\pi} \int_0^{\frac{\pi}{2}} e^{x+\sin y} \cos y dy dx = \int_0^{\pi} e^x \left[\int_0^{\frac{\pi}{2}} \cos y e^{\sin y} dy \right] dx = \int_0^{\pi} e^x \cdot e^{\sin y} \Big|_0^{\frac{\pi}{2}} dx$$

$$I = (e-1) \int_0^{\pi} e^x dx = (e^{\pi}-1)(e-1)$$

تمرینات برای حل

۱- مطلوبست محاسبه انتگرالی زیر

$$\textcircled{1} \quad I = \iint_R \frac{x^2}{1+y^2} dA$$

$$R: \begin{cases} 0 \leq x \leq 1 \\ 0 \leq y \leq 1 \end{cases}$$

$$\textcircled{2} \quad I = \iint_R \frac{dA}{(x+y+1)^2}$$

$$R: \begin{cases} 0 \leq x \leq 1 \\ 0 \leq y \leq 1 \end{cases}$$

$$\textcircled{3} \quad I = \iint_R x^2 y \cos(xy) dA$$

$$R: \begin{cases} 0 \leq x \leq \frac{\pi}{2} \\ 0 \leq y \leq 2 \end{cases}$$

$$\textcircled{4} \quad I = \iint_R (x^2 + y^2) dA$$

$$R: \begin{cases} y = x^2 \\ y^2 = x \end{cases}$$

$$\textcircled{5} \quad I = \iint_R (x+y) dA$$

$$R: \begin{matrix} A(2,2) \\ B(1,-1) \\ C(-2,-2) \\ D(-1,1) \end{matrix} \quad \text{ناحیه داخلی متناهی ازضلع به رئوس}$$

$$\textcircled{6} \quad I = \iint_R \cos(x+y) dA$$

$$R: \begin{cases} x=0 \\ y=\pi \\ y=x \end{cases}$$

$$\textcircled{7} \quad I = \iint_R x^2 y^2 \sqrt{1-x^3-y^3} dA$$

$$R: \begin{cases} x^3 + y^3 = 1 \\ x \geq 0 \\ y \geq 0 \end{cases}$$

$$\textcircled{8} \quad I = \int_{-2}^2 \int_{-1}^1 |x^2 y^3| dy dx$$

$$\textcircled{9} \quad I = \int_{-2}^2 \int_{-1}^1 [x^2] y^3 dy dx$$

$$\textcircled{10} \quad I = \int_{-2}^2 \int_{-1}^1 [x^2] |y^3| dy dx$$

$$\textcircled{11} \quad I = \int_{1/2}^1 \int_0^{2x} \cos(nx^2) dy dx$$

$$\textcircled{12} \quad I = \int_0^1 \int_{y^2}^y \sqrt{\frac{y}{x}} dx dy$$

$$\textcircled{13} \quad I = \int_0^1 \int_0^1 |x-y| dy dx$$

$$\textcircled{14} \quad I = \int_0^1 \int_0^1 \frac{x-y}{(x+y)^3} dy dx$$

$$\textcircled{15} \quad I = \int_0^1 \int_y^1 e^{\frac{y}{x}} dx dy$$

۲- در انتگرالهای زیر ترتیب انتگرالگیری را تغییر دهید

$$(۱۷) I = \int_0^1 dy \int_y^{\sqrt{y}} f(x, y) dx$$

$$(۱۸) I = \int_0^a dx \int_x^{\sqrt{ax-x^2}} f(x, y) dy$$

$$(۱۹) I = \int_1^r \int_x^{rx} f(x, y) dy dx$$

$$(۲۰) I = \int_0^1 \int_0^x f(x, y) dy dx + \int_1^r \int_0^{r-x} f(x, y) dy dx$$

$$(۲۱) I = \int_0^1 \int_0^{x^r} f(x, y) dy dx + \int_1^r \int_0^{\frac{1}{r}(r-x)} f(x, y) dy dx$$

$$(۲۲) I = \int_0^1 \int_{\frac{1}{r}x^r}^{\frac{1}{r}x^r} f(x, y) dy dx + \int_1^r \int_0^{1-\sqrt{rx-x^2-r}} f(x, y) dy dx$$

$$(۱۷) I = \int_{-1}^1 dx \int_{\sqrt{1-x^2}}^0 f(x, y) dy$$

$$(۱۸) I = \int_{-r}^r \int_{-\sqrt{r-x^2}}^{\frac{\sqrt{r-x^2}}{\sqrt{r}}} f(x, y) dy dx$$

$$(۱۹) I = \int_0^r \int_{rx}^{y-x\sqrt{r}} f(x, y) dy dx$$

جواب تمرینات

① $\frac{\pi}{2}$

② $\ln \frac{2}{e}$

③ $\frac{-\pi}{16}$

④ $\frac{23}{12}$

⑤ \cdot

⑥ -2

⑦ $\frac{4}{135}$

⑧ $\frac{8}{3}$

⑨ \cdot

⑩ $5 - \sqrt{2} - \sqrt{2}$

⑪ $\frac{-\sqrt{2}}{2\pi}$

⑫ $\frac{1}{5}$

⑬ $\frac{1}{3}$

⑭ $\frac{1}{2} - \frac{1}{2}$

دارای شکل دایره‌ای باشد زیرا $f(x,y)$ در $(0,0)$ ناپیوسته است

⑮ $\frac{e-1}{2}$

⑯ $I = \int_0^1 \int_{x^2}^x f(x,y) dy dx$

⑰ $I = \int_0^1 \int_{-\sqrt{1-y^2}}^{\sqrt{1-y^2}} f(x,y) dx dy$

⑱ $I = \int_0^a \int_{a-\sqrt{a^2-y^2}}^a f(x,y) dx dy$

⑲ $I = \int_{-\sqrt{2}}^{\sqrt{2}} \int_{-\sqrt{2-y^2}}^{\sqrt{2-y^2}} f(x,y) dx dy$

⑳ $I = \int_1^2 \int_1^y f(x,y) dx dy + \int_2^4 \int_2^y f(x,y) dx dy$

㉑ $I = \int_0^4 \int_0^{\frac{y}{2}} f(x,y) dx dy + \int_4^9 \int_0^{\frac{y}{2}} f(x,y) dx dy$

㉒ $I = \int_0^1 \int_y^{1-y} f(x,y) dx dy$

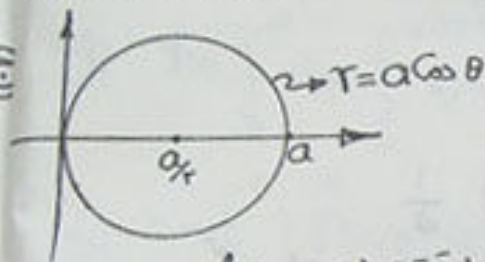
㉓ $I = \int_0^1 \int_{\sqrt{y}}^{1-y} f(x,y) dx dy$

㉔ $I = \int_0^1 \int_{\frac{y}{2}}^{1-\sqrt{1-y^2}} f(x,y) dx dy$

در هر یک از مسائل زیر ناحیه R را رسم و با استفاده از مختصات قطبی مقدار انتگرال را محاسبه نمایید.

① مطلوبت محاسبه انتگرال $I = \iint_R \sqrt{a^2 - x^2 - y^2} dA$

$R: x^2 + y^2 \leq ax$



② R را بر روی محور مختصات

$x^2 + y^2 - ax = 0$

$r^2 - ar \cos \theta = 0 \quad r=0 \text{ و } r=a \cos \theta$

$-\frac{\pi}{2} \leq \theta \leq \frac{\pi}{2}$

به این ترتیب خواهیم داشت

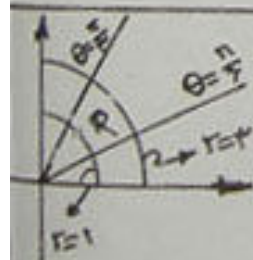
$$I = \int_{-\frac{\pi}{2}}^{\frac{\pi}{2}} \int_0^{a \cos \theta} \sqrt{a^2 - r^2} \cdot r dr d\theta = \int_{-\frac{\pi}{2}}^{\frac{\pi}{2}} \left[\int_0^{a \cos \theta} r(a^2 - r^2)^{\frac{1}{2}} dr \right] d\theta$$

$$= \int_{-\frac{\pi}{2}}^{\frac{\pi}{2}} \left[-\frac{1}{3} \left(\frac{r}{a} \right) (a^2 - r^2)^{\frac{3}{2}} \right]_0^{a \cos \theta} d\theta = \int_{-\frac{\pi}{2}}^{\frac{\pi}{2}} -\frac{1}{3} [a^2 - a^2 \cos^2 \theta] d\theta$$

$$I = \int_{-\frac{\pi}{2}}^{\frac{\pi}{2}} \frac{1}{3} (a^2 \sin^2 \theta - a^2) d\theta = \frac{a^2}{3} \int_{-\frac{\pi}{2}}^{\frac{\pi}{2}} (1 - \sin^2 \theta) d\theta$$

$$I = \frac{a^2}{3} \left[\theta \Big|_{-\frac{\pi}{2}}^{\frac{\pi}{2}} - \int_{-\frac{\pi}{2}}^{\frac{\pi}{2}} \sin^2 \theta \cdot \sin \theta \cdot d\theta \right] = \frac{a^2}{3} \left(\pi - \frac{\pi}{3} \right)$$

$u = \cos \theta$
 $du = -\sin \theta \cdot d\theta$



② مطلوبت محاسبه $I = \iint_R \text{Arctg}\left(\frac{y}{x}\right) dA$

$R: \begin{cases} x^2 + y^2 \geq 1 \\ x^2 + y^2 \leq 9 \\ y \geq \frac{x}{\sqrt{2}} \\ y \leq x\sqrt{2} \end{cases}$

③ می توان نوشت

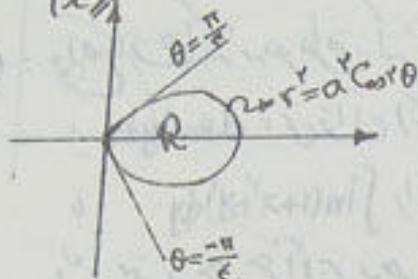
$$\int_{\frac{\pi}{4}}^{\frac{\pi}{2}} \int_1^3 \text{Arctg}\left(\frac{r \sin \theta}{r \cos \theta}\right) r dr d\theta = \int_{\frac{\pi}{4}}^{\frac{\pi}{2}} \left[\int_1^3 r dr \right] \theta d\theta = \int_{\frac{\pi}{4}}^{\frac{\pi}{2}} \frac{r^2}{2} \Big|_1^3 \cdot \theta d\theta = \int_{\frac{\pi}{4}}^{\frac{\pi}{2}} \frac{1}{2} (9 - 1) \theta d\theta$$

$$I = \frac{1}{2} \left(\frac{1}{2} \theta^2 \right) \Big|_{\frac{\pi}{4}}^{\frac{\pi}{2}} = \frac{1}{2} \left(\frac{\pi^2}{4} - \frac{\pi^2}{16} \right) = \frac{3\pi^2}{32}$$

$\text{Arctg}(\tan \theta) = \theta$

۳) مطلوبیت محاسبه انتگرال

$$R: \begin{cases} r = a^r \cos \theta \\ x \geq 0 \end{cases} \quad I = \iint_R \frac{r dr d\theta}{\sqrt{r^2 + a^r}}$$



ج: طبق شکل حدود r و θ به شکل زیر می باشد

$$-\frac{\pi}{4} \leq \theta \leq \frac{\pi}{4}$$

$$0 \leq r \leq a\sqrt{\cos \theta}$$

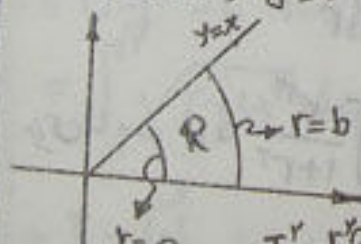
این ترتیب خواهم داشت

$$I = \int_{-\pi/4}^{\pi/4} \int_0^{a\sqrt{\cos \theta}} \frac{r dr}{\sqrt{r^2 + a^r}} d\theta = \int_{-\pi/4}^{\pi/4} \left[\sqrt{r^2 + a^r} \right]_0^{a\sqrt{\cos \theta}} d\theta$$

$$I = \int_{-\pi/4}^{\pi/4} [\sqrt{a^r \cos \theta + a^r} - \sqrt{a^r}] d\theta = \int_{-\pi/4}^{\pi/4} [a\sqrt{\cos \theta} - a] d\theta = 2a - \frac{\pi}{4}a$$

$$a^r \cos \theta + a^r = a^r (\cos \theta + 1) = r a^r \cos \theta$$

$$R: \begin{cases} a^r \leq x^2 + y^2 \leq b^r \\ y \leq x \\ x \geq 0, y \geq 0 \end{cases}$$



۴) مطلوبیت محاسبه انتگرال

$$I = \iint_R \frac{y^r}{x^r} dA$$

ج: طبق شکل R یک قسمت از حلقه ای بین خطوط $y=0$

و $y=x$ می باشد. به این ترتیب بهترین حالت برای

محاسبه انتگرال فوق استفاده از مختصات قطبی

می باشد.

$$I = \int_0^{\pi/4} \int_a^b \frac{r^r \sin^r \theta}{r^r \cos^r \theta} \cdot r dr d\theta = \int_0^{\pi/4} \left[\frac{1}{2} r^2 \right]_a^b \tan^r \theta d\theta = \frac{1}{2} (b^2 - a^2) \int_0^{\pi/4} \tan^r \theta d\theta$$

$$I = \frac{1}{2} (b^2 - a^2) \int_0^{\pi/4} [(1 + \tan^2 \theta) - 1] d\theta = \frac{1}{2} (b^2 - a^2) (\tan \theta - \theta) \Big|_0^{\pi/4}$$

$$I = \frac{b^2 - a^2}{2} (\tan \theta - \theta)$$

انتگرال

مسئله

⑤ مطلوبیت محاسبه انتگرال $I = \iint_R \ln(1+x^2+y^2) dA$

① $x^2+y^2 \leq a^2$
 $x \geq 0, y \geq 0$



③ : واضح است که به هر طریقی که dA باشد معنی $dA = dx dy$

یا $dA = dy dx$ ، می توان انتگرال $\int \ln(1+x^2+y^2) dx$

یا $\int \ln(1+x^2+y^2) dy$ را محاسبه نمود زیرا مشتق داخل

لگاریتم در خارج آن موجود نمی باشد ولی ظاهراً

به نظرم رسد که اگر از مختصات قطبی استفاده می نمایم، این مشکل مرتفع گردد.
صورتی مثل حدود r و θ به صورت زیر می باشد

$0 \leq r \leq a$
 $0 \leq \theta \leq \frac{\pi}{2}$

به این ترتیب خواهیم داشت

$I = \int_0^{\frac{\pi}{2}} \int_0^a \ln(1+r^2) \cdot r dr d\theta$

ابتدا انتگرال $\int \ln(1+r^2) \cdot r dr$ را محاسبه می نمایم. با استفاده از روش جزئی جز در توان نوشت

$u = \ln(1+r^2) \rightarrow du = \frac{2r}{1+r^2} dr$
 $dv = r dr \rightarrow v = \frac{1}{2} r^2$

$\rightarrow \int \ln(1+r^2) r dr = \frac{1}{2} r^2 \ln(1+r^2) - \int \frac{1}{2} \frac{r^2}{1+r^2} dr$

برای محاسبه $\int \frac{r^2}{1+r^2} dr$ ، صورت کسر داخل (انتگرال) را بر مخرج تقسیم کنیم، لذا خواهیم داشت

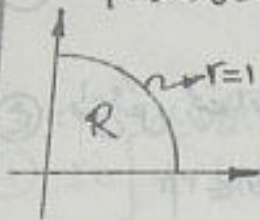
$\int (r - \frac{r}{1+r^2}) dr = \frac{1}{2} r^2 - \frac{1}{2} \ln(1+r^2)$

به این ترتیب داریم

$I = \int_0^{\frac{\pi}{2}} \left[\frac{1}{2} r^2 \ln(1+r^2) - \frac{1}{2} r^2 + \frac{1}{2} \ln(1+r^2) \right] d\theta$

$I = \left[\frac{1}{2} a^2 \ln(1+a^2) - \frac{1}{2} a^2 + \frac{1}{2} \ln(1+a^2) \right] \int_0^{\frac{\pi}{2}} d\theta = \frac{\pi}{4} [(1+a^2) \ln(1+a^2) - a^2]$

$$R: \begin{cases} x^2 + y^2 \leq 1 \\ x \geq 0, y \geq 0 \end{cases}$$



$$0 \leq r \leq 1$$

$$0 \leq \theta \leq \frac{\pi}{2}$$

$$I = \iint_R \sqrt{\frac{1-x^2-y^2}{1+x^2+y^2}} dA$$

ج: تابع زیر علامت انتگرال به گونه ای است که در مختصات دکارتی نمی توان بر حسب x انتگرال گرفت و نه بر حسب y . اما اگر از دستگاه قطبی کمک بگیریم امکان دارد بتوان انتگرال را محاسبه نمود. با توجه به ناحیه R طبق شکل حدود θ به شکل زیر می باشند

به این ترتیب انتگرال به شکل زیر تبدیل میگردد

$$I = \int_0^{\frac{\pi}{2}} \int_0^1 \sqrt{\frac{1-r^2}{1+r^2}} r dr d\theta = \int_0^{\frac{\pi}{2}} \left[\int_0^1 \sqrt{\frac{1-r^2}{1+r^2}} r dr \right] d\theta$$

ابتدا انتگرال $\int_0^1 \sqrt{\frac{1-r^2}{1+r^2}} r dr$ را محاسبه می نمایم. در این انتگرال تعویض متغیر $u=1+r^2$

$$u=1+r^2 \rightarrow u du = r dr$$

$$r=0 \rightarrow u=1$$

$$r=1 \rightarrow u=2$$

$$r^2 = u-1 \rightarrow 1-r^2 = 2-u$$

$$\int_0^1 \sqrt{\frac{1-r^2}{1+r^2}} r dr = \int_1^2 \sqrt{\frac{2-u}{u}} \cdot u du$$


$$= \int_1^2 \sqrt{2-u} du = \left[\frac{u}{2} \sqrt{2-u} + \text{Arcsin} \frac{u}{\sqrt{2}} \right] \Big|_1^2 = \frac{\pi}{4} - \frac{1}{2}$$

$$\rightarrow I = \int_0^{\frac{\pi}{2}} \left(\frac{\pi}{4} - \frac{1}{2} \right) d\theta$$

$$I = \left(\frac{\pi}{4} - \frac{1}{2} \right) \theta \Big|_0^{\frac{\pi}{2}}$$

$$I = \frac{\pi}{8} (\pi - 2)$$

در این انتگرال $u = \sqrt{r} \sin t$ در نظر گرفته شده است، که برای محاسبه جواب را نوشته ایم.



⑦ مطلوب محاسبه انتگرال

$$I = \iint_{x^2+y^2 \leq 1} (a - rx - ry) dA$$

⑧ : طبق شکل در مختصات قطبی حدود r و θ شکل زیر است

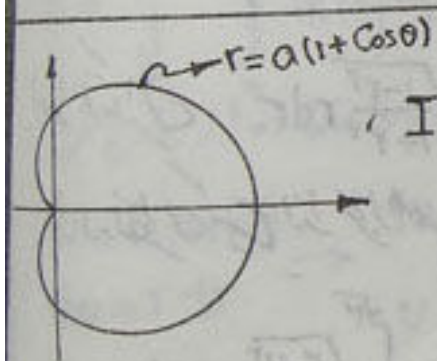
$$0 \leq r \leq 1, \quad 0 \leq \theta \leq 2\pi$$

به این ترتیب خواهیم داشت

$$I = \int_0^{2\pi} \int_0^1 (a - r \cos \theta - r \sin \theta) r dr d\theta$$

$$I = \int_0^{2\pi} \int_0^1 [ar - (r \cos \theta + r \sin \theta) r^2] d\theta = \int_0^{2\pi} \left[\frac{a}{2} r^2 - \frac{1}{4} (r \cos \theta + r \sin \theta) r^4 \right] \Big|_0^1 d\theta$$

$$I = \int_0^{2\pi} \left(\frac{a}{2} - \frac{r}{4} \cos \theta - \sin \theta \right) d\theta = \left(\frac{a}{2} \theta - \frac{r}{4} \sin \theta + \cos \theta \right) \Big|_0^{2\pi} = \pi a$$



① مطلوب محاسبه انتگرال

$$I = \iint_R y^2 dA$$

R ناحیه محدود به منحنی $T = a(1 + \cos \theta)$ می باشد

② : با توجه به ناحیه انتگرال داری حدود θ به صورت زیر می باشد

$$0 \leq r \leq a(1 + \cos \theta)$$

$$0 \leq \theta \leq 2\pi$$

در نتیجه داریم

$$I = \int_0^{2\pi} \int_0^{a(1+\cos \theta)} (r \sin \theta)^2 r dr d\theta = \int_0^{2\pi} (\sin^2 \theta) \left(\frac{1}{4} r^4 \right) \Big|_0^{a(1+\cos \theta)} d\theta$$

$$I = \frac{a^4}{4} \int_0^{2\pi} \sin^2 \theta (1 + \cos \theta)^4 d\theta = \frac{a^4}{4} \int_0^{2\pi} \sin^2 \theta (1 + 4 \cos \theta + 6 \cos^2 \theta + 4 \cos^3 \theta + \cos^4 \theta) d\theta$$

برای انتگرال داری خواهیم داشت

$$I = \frac{21}{32} \pi a^4$$

تمرینات برای حل

۱- با استفاده از مختصات قطبی انتگرالهای زیر را محاسبه نمایید.

$$① \quad I = \int_0^a \int_0^{\sqrt{a^2-x^2}} \ln(1+x^2+y^2) dy dx$$

$$② \quad I = \iint_R \sqrt{\frac{1-x^2-y^2}{1+x^2+y^2}} dA$$

$$③ \quad I = \iint_R \sqrt{a^2-x^2-y^2} dA \quad R: x^2+y^2 \leq ax$$

$$R: \begin{cases} x^2+y^2 \leq 1 \\ x \geq 0 \\ y \geq 0 \end{cases}$$

$$④ \quad I = \iint_R \operatorname{Arctg} \frac{y}{x} dA \quad R: \begin{cases} x^2+y^2 \geq 1 \\ x^2+y^2 \leq 9 \\ y \geq \frac{1}{\sqrt{3}}x \\ y \leq \sqrt{3}x \end{cases}$$

$$⑤ \quad I = \iint_R \sqrt{a^2-x^2-y^2} dA \quad R: (x^2+y^2)^2 = a^2(x^2-y^2) \quad x \geq 0$$

ناحیه داخل حلقه

۲- در انتگرالهای زیر حدود را در مختصات قطبی بنویسید

$$⑥ \quad I = \int_0^1 \int_0^1 f(x,y) dy dx$$

$$⑦ \quad I = \int_0^r \int_0^x f(\sqrt{x^2+y^2}) dy$$

$$⑧ \quad I = \iint_R f(x,y) dA \quad R: \begin{cases} y = -x \\ y = x \\ y = 1 \end{cases}$$

$$⑨ \quad I = \int_{-1}^1 \int_{x^2}^1 f\left(\frac{y}{x}\right) dy dx$$

$$⑩ \quad I = \iint_R f(x,y) dA$$

ناحیه محدود به دایره $x^2+y^2 = ax$

جواب تمرینات

$$① \frac{\pi}{4} [(1+a^2) \ln(1+a^2) - a^2]$$

$$② \frac{\pi(\pi-2)}{8}$$

$$③ \frac{a^3}{3} (\pi - \frac{4}{3})$$

$$④ \frac{\pi^2}{9}$$

$$⑤ (\frac{\pi}{4} - \frac{\sqrt{4-r^2}}{a}) \frac{a^3}{r}$$

$$⑥ I = \int_{-\frac{\pi}{2}}^{\frac{\pi}{2}} \int_0^{\frac{1}{\sin \theta}} r f(r \cos \theta, r \sin \theta) dr d\theta + \int_{\frac{\pi}{2}}^{\pi} \int_0^{\frac{1}{\sin \theta}} r f(r \cos \theta, r \sin \theta) dr d\theta$$

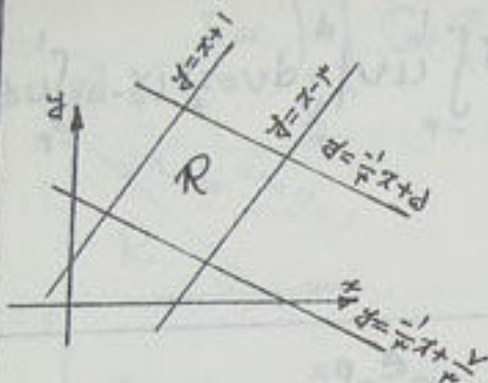
$$⑦ I = \int_0^{\frac{\pi}{2}} \int_0^{\frac{r}{\cos \theta}} f(r) r dr d\theta$$

$$⑧ I = \int_{-\frac{\pi}{2}}^{\frac{\pi}{2}} \int_0^{\frac{1}{\sin \theta}} r f(r \cos \theta, r \sin \theta) dr d\theta$$

$$⑨ I = \int_0^{\frac{\pi}{2}} f(r \cos \theta) d\theta \int_0^{\frac{\sin \theta}{\cos^2 \theta}} r dr + \int_{\frac{\pi}{2}}^{\pi} \int_0^{\frac{1}{\sin \theta}} f(r \cos \theta) r dr d\theta + \int_{\frac{\pi}{2}}^{\pi} \int_0^{\frac{\sin \theta}{\cos^2 \theta}} f(r \cos \theta) r dr d\theta$$

$$⑩ I = \int_0^{\pi} \int_0^{a \sin \theta} f(r \cos \theta, r \sin \theta) r dr d\theta$$

با استفاده از تغییر متغیر مناسب انتگرالهای زیر را محاسبه نمایید.



$$R: \begin{cases} y-x = -3 \\ y-x = 1 \\ y+\frac{x}{4} = \frac{5}{4} \\ y+\frac{x}{4} = \frac{1}{4} \end{cases}$$

$$I = \iint_R (y-x) dA \quad (1)$$

©: اگر بخواهیم این انتگرال را در مختصات دکارتی محاسبه کنیم با توجه به لحاظ استفاده از متغیرهای بالا باید با چپ درآیم، ناحیه R را به سه زیر ناحیه تقسیم می‌کنیم که در این صورت محاسبه انتگرال طوای و حجم می‌شود. لذا ممکن است با استفاده از تغییر متغیر مناسب انتگرال را به روش ساده‌تری محاسبه نمود. در این ساله به نظری آید بهترین تعویض متغیر به شکل زیر باشد:

$$u = y - x, \quad v = y + \frac{1}{4}x$$

به این ترتیب زاویه تبدیل به صورت زیر محاسبه می‌گردد

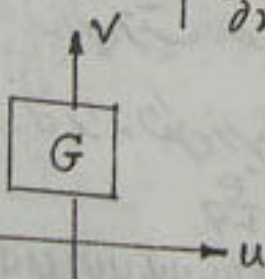
$$J(u, v) = \frac{d(x, y)}{d(u, v)} = \begin{vmatrix} \frac{\partial x}{\partial u} & \frac{\partial x}{\partial v} \\ \frac{\partial y}{\partial u} & \frac{\partial y}{\partial v} \end{vmatrix}$$

در اینجا چون x در y جابجایی و v نمی‌باشند،

می‌توان از دستور زیر استفاده نمود. البته می‌توان x را به y و u را به v محاسبه نمود.

$$J(u, v) = \frac{1}{J(x, y)}$$

$$J(x, y) = \begin{vmatrix} \frac{\partial u}{\partial x} & \frac{\partial u}{\partial y} \\ \frac{\partial v}{\partial x} & \frac{\partial v}{\partial y} \end{vmatrix} = \begin{vmatrix} -1 & 1 \\ \frac{1}{4} & 1 \end{vmatrix} = -1 - \frac{1}{4} = -\frac{5}{4} \rightarrow J(u, v) = \frac{4}{5}$$



باتوجه به ناحیه R ناحیه G در دستگاه u و v به شکل زیر رسم میگردد

$$\begin{aligned} y-x = 1 &\rightarrow u = 1 \\ y-x = -3 &\rightarrow u = -3 \\ y+\frac{x}{4} = \frac{5}{4} &\rightarrow v = \frac{5}{4} \quad \text{و} \quad y+\frac{x}{4} = \frac{1}{4} \rightarrow v = \frac{1}{4} \end{aligned}$$

به این ترتیب باتوجه به اینکه $y-x = u$ معادله

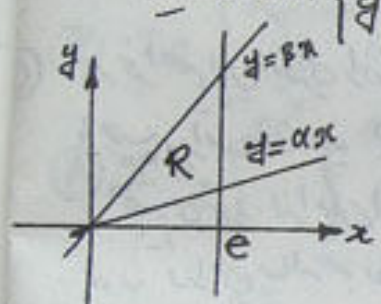
$$\iint_R (y-x) dA \quad \text{در دستگاه } u \text{ و } v$$

$$\textcircled{۳} \quad I = \iint_G u \, dA, = \int_{-\frac{3}{4}}^1 \int_{\frac{v}{3}}^{\frac{4}{3}} u \, dv \, du = \frac{1}{4} \int_{-\frac{3}{4}}^1 u v \Big|_{\frac{v}{3}}^{\frac{4}{3}} dv = \frac{1}{4} \left(\frac{4}{3} - \frac{1}{3} \right) \int_{-\frac{3}{4}}^1 u \, du$$

$$I = -8$$

$$dA = J(u,v) \, du \, dv$$

استفاده نمائید. $\begin{cases} x = u - uv \\ y = uv \end{cases}$ از تغییر متغیر $I = \int_0^e \int_{\alpha x}^{\beta x} f(x,y) \, dy \, dx$ $0 < \alpha < \beta$ (۲)



با این تغییر متغیر، راکوی به شکل زیر بدست می آید (۳)

$$J(u,v) = \begin{vmatrix} x_u & x_v \\ y_u & y_v \end{vmatrix} = \begin{vmatrix} 1-v & -u \\ v & u \end{vmatrix} = u$$

باتوجه به ناحیه R ، محدود ناحیه G در دستگاه u, v شکل زیر خواهد بود

$$\begin{aligned} x = u - uv & \rightarrow x = u - y \rightarrow \begin{cases} y = \alpha x \rightarrow x = u - \alpha x \rightarrow u = (1+\alpha)x \\ y = \beta x \rightarrow x = u - \beta x \rightarrow u = (1+\beta)x \end{cases} \end{aligned}$$

$$y = uv \rightarrow \begin{cases} y = \alpha x \rightarrow \alpha x = v(1+\alpha)x \rightarrow v = \frac{\alpha}{1+\alpha} \\ u = (1+\alpha)x \end{cases}$$

$$y = uv \rightarrow \begin{cases} y = \beta x \rightarrow \beta x = v(1+\beta)x \rightarrow v = \frac{\beta}{1+\beta} \\ u = (1+\beta)x \end{cases}$$

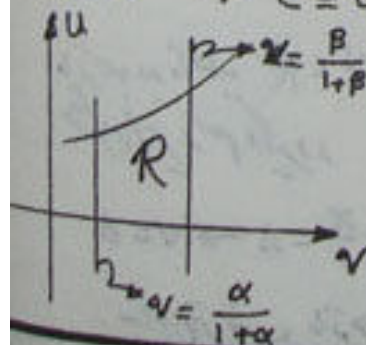
$$x=0, y=0 \rightarrow \begin{cases} u-uv=0 \rightarrow u=0 \\ uv=0 \end{cases}$$

$$x=e \rightarrow e = u - uv \rightarrow u = \frac{e}{1-v}$$

به این ترتیب ناحیه G

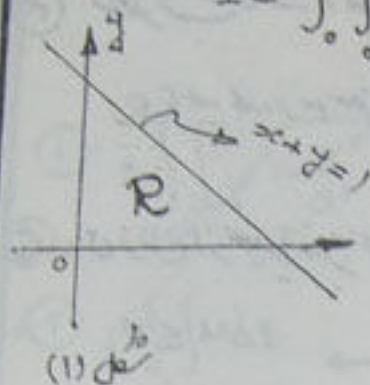
می تواند شکل زیر باشد و مقدار انتگرال به صورت زیر بدست می آید

$$I = \int_0^e \int_{\alpha x}^{\beta x} f(x,y) \, dy \, dx = \int_{\frac{\alpha}{1+\alpha}}^{\frac{\beta}{1+\beta}} \int_{\frac{e}{1-v}}^{\frac{e}{1-v}} f(u-uv, uv) \, u \, du \, dv$$



۳) مطلوب است محاسبه انتگرال

$$I = \int_0^1 \int_0^{1-y} \cos \frac{x-y}{x+y} dx dy$$

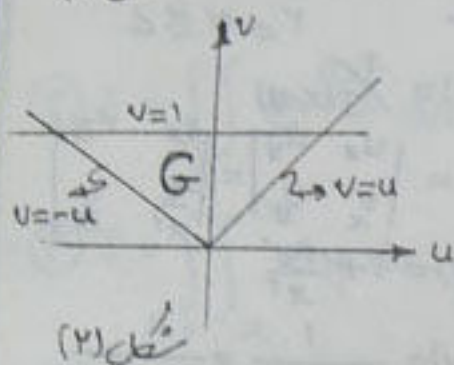


شکل (۱)

ج: این انتگرال در دستگاه دکارتی، قطعی به هیچ طریقی قابل حل نمی باشد زیرا مستقیم زاویه یعنی $\frac{x-y}{x+y}$ نسبت x و y موجود نمی باشد.

آنگاه از تعویض متغیرهای $\begin{cases} u = x-y \\ v = x+y \end{cases}$ استفاده می کنیم

مقدار انتگرال به راحتی بدست می آید برای این کار، بشرح زیر عمل می کنیم



شکل (۲)

$$\iint_R f(x,y) dA_1 = \iint_G f(u,v) |J(u,v)| dA_2$$

$$dA_1 = dy dx, \quad dA_2 = dv du$$

$$J(u,v) = \frac{1}{J(x,y)}, \quad J(x,y) = \begin{vmatrix} u_x & u_y \\ v_x & v_y \end{vmatrix}$$

$$J(x,y) = \begin{vmatrix} 1 & -1 \\ 1 & 1 \end{vmatrix} = 2 \rightarrow J(u,v) = \frac{1}{2}$$

برای مشخص کردن ناحیه G در دستگاه uv از مرزهای ناحیه R در دستگاه xy استفاده می کنیم.

$$x+y=1 \rightarrow v=1$$

$$y=0 \rightarrow \begin{cases} u=x-0 \\ v=x+0 \end{cases} \rightarrow u=v, \quad x=0 \rightarrow \begin{cases} u=0-y \\ v=0+y \end{cases} \rightarrow v=-u$$

به این ترتیب شکل ۲ ناحیه G در دستگاه uv بدست می آید.

مقدار انتگرال به شرح زیر خواهد بود

$$I = \iint_G \cos \frac{u}{v} dA_2 = \frac{1}{2} \int_0^1 \int_{-v}^v \cos \frac{u}{v} \cdot du dv$$

$$I = \frac{1}{2} \int_0^1 v \left(\sin \frac{u}{v} \right) \Big|_{-v}^v \cdot dv = \frac{1}{2} \int_0^1 (2 \sin 1) v dv$$

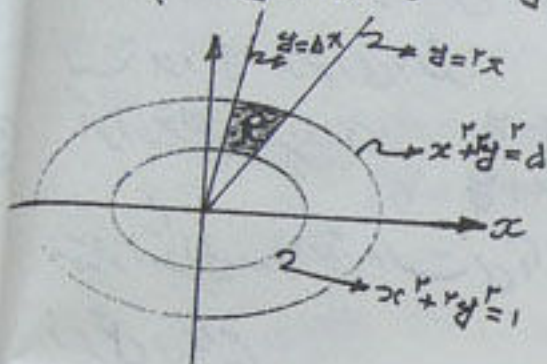
$$I = \frac{1}{2} \sin(1)$$

$$I = \iint_R dA$$

(مطلوب است محاسبه انتگرال)

R ناحیه محدود شده توسط منحنی‌های زیر است

$$\begin{cases} x^2 + y^2 = 1, & x^2 + y^2 = 4 \\ y = 2x, & y = dx \end{cases}$$



می‌توان از تغییر متغیرهای زیر استفاده نمود

$$u = x^2 + y^2 \rightarrow 1 \leq u \leq 4$$

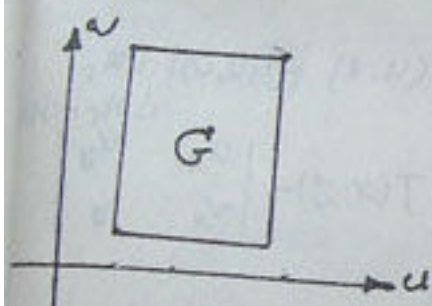
$$v = \frac{y}{x} \rightarrow r \leq v \leq d$$

$$J(u, v) = \frac{1}{J(x, y)}$$

$$J(x, y) = \begin{vmatrix} u_x & u_y \\ v_x & v_y \end{vmatrix} = \begin{vmatrix} 2x & 2y \\ -\frac{y}{x^2} & \frac{1}{x} \end{vmatrix}$$

$$J(x, y) = 2 + \frac{4y^2}{x^3}$$

$$J(u, v) = \frac{1}{2 + 4(\frac{v}{x})^2} = \frac{1}{2(1 + 2v^2)}$$



به این ترتیب طبق قضیه (۳) می‌توان نوشت

$$= \iint_G f(u, v) |J(u, v)| dA_v = \int_1^4 \int_1^d \frac{du dv}{2(1 + 2v^2)} = \int_1^d \frac{1}{2v^2} \text{Arctg}(\sqrt{2}v) \Big|_1^4 du$$

$$I = \frac{3}{2\sqrt{2}} \text{Arctg}\left(\frac{\sqrt{2}}{3}\right)$$

تئوریمات برای حل

با استفاده از تعویض متغیر انتگرالی زیر را محاسبه نمائید

$$① \quad I = \iint_R \sqrt{1 - \frac{x^2}{a^2} - \frac{y^2}{b^2}} \, dA \quad R: \frac{x^2}{a^2} + \frac{y^2}{b^2} \leq 1$$

$$② \quad I = \iint_R dA \quad R: \left(\frac{x^2}{a^2} + \frac{y^2}{b^2}\right)^2 = \frac{x^2}{h^2} - \frac{y^2}{k^2}$$

ناحیه محدود به سهم

$$③ \quad I = \iint_R e^{\frac{y-x}{y+x}} \, dA \quad \begin{matrix} u = y-x \\ v = y+x \end{matrix} \quad R: C|_1, B|_0, A|_0$$

محدوده رتزیس

$$④ \quad I = \int_0^1 \int_x^{2x} dy \, dx \quad \begin{matrix} x = u(1-v) \\ y = uv \end{matrix}$$

$$⑤ \quad \text{اگر } x = u^2 - v^2, \quad y = 2uv \text{ و ناحیه } R \text{ در صفحه } uv \text{ شکل زیر باشد}$$

$$R_{uv}: 1 \leq u \leq 2, -1 \leq v \leq 1$$

مطلوبت محاسبه انتگرال $I = \iint_{R_{xy}} x \, dA$ (ناحیه R_{xy} را نیز رسم کنید)

⑥ مطلوبیت محاسبه انتگرال زیر

$$I = \iint_R (x-y)^2 \sin^2(x+y) \, dA \quad R: A|_0^\pi, B|_\pi^{2\pi}, C|_{2\pi}^\pi, D|_\pi^0$$

توزی لاغری بار رتزیس

⑦ مطلوبیت محاسبه انتگرال $\iint_R (x^2 + y^2) \, dA$ ناحیه محدود به معنی های زیری باشد

$$R: x^2 - y^2 = 1, x^2 - y^2 = 4, xy = 2, xy = 4$$

انتگرال دوگانه : محاسبه انتگرال دوگانه با استفاده از تعویض متغیر

جواب تمرینات

① $\frac{2\pi}{3} ab$

② $ab \left[\left(\frac{a^2}{h^2} - \frac{b^2}{k^2} \right) \operatorname{Arctg} \frac{ak}{bh} + \frac{ab}{hk} \right]$

③ $\frac{1}{4} (e - e')$

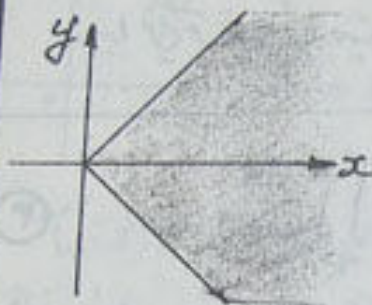
④ $\frac{1}{2}$

⑤ ۴۸

⑥ $\frac{\pi^2}{4}$

⑦ ۸

در هریک از مسائل زیر ابتدا ناحیه R را رسم، سپس همگرانی یا واگرایی انتگرالهای دو گانه زیر را بررسی نمایید.



$$R: \begin{matrix} -x \leq y \leq x \\ x \geq 0 \end{matrix} \quad I = \iint_R e^{-x^2} dA \quad (1)$$

⑤: چون e^{-x^2} در انتگرال موجود نمی باشد، لذا ما بوسیله ابتدا نسبت به y انتگرال گرفته پس نسبت به x اما با توجه به شکل حدود x به صورت زیر می باشد

$$x \geq 0, \quad -x \leq y \leq x$$

$$I = \int_0^{\infty} \int_{-x}^x e^{-x^2} dy dx = \int_0^{\infty} \left(\int_{-x}^x dy \right) e^{-x^2} dx$$

به این ترتیب داریم

$$I = \int_0^{\infty} (y|_{-x}^x) e^{-x^2} dx = \int_0^{\infty} (2x e^{-x^2}) dx = -e^{-x^2} \Big|_0^{\infty} = -(0-1) = 1$$

$$\left(e^{-x^2} \Big|_0^{\infty} = \lim_{b \rightarrow +\infty} e^{-x^2} \Big|_0^b = \lim_{b \rightarrow +\infty} (e^{-b^2} - 1) = 0 - 1 = -1 \right)$$

$$R: \begin{cases} y = \frac{1}{x} \\ x \geq 1 \end{cases}$$



$$I = \iint_R \frac{dA}{x+y} \quad (2) \text{ همگرانی یا واگرایی انتگرال}$$

⑥: با توجه به شکل انتگرال به صورت زیر نوشته می شود

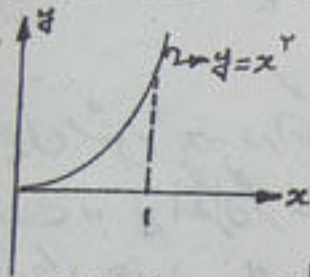
$$I = \iint_R \frac{dA}{x+y} = \int_1^{\infty} dx \int_0^{\frac{1}{x}} \frac{dy}{x+y}$$

$$I = \int_1^{\infty} \ln(x+y) \Big|_0^{\frac{1}{x}} dx = \int_1^{\infty} \left[\ln\left(x + \frac{1}{x}\right) - \ln x \right] dx = \int_1^{\infty} \ln\left(1 + \frac{1}{x^2}\right) dx$$

نکته: اگر $u > 0$ آنگاه $0 < \ln(1+u) < u$ به این ترتیب می توان نوشت

$$0 < \iint_R \frac{dA}{x+y} = \int_1^{+\infty} \ln\left(1 + \frac{1}{x^r}\right) dx < \int_1^{+\infty} \frac{1}{x^r} dx = \left. \frac{-1}{x} \right|_1^{+\infty} = -(0-1) = 1$$

بر این ترتیب ثابت شد $0 < I < 1$ ، یعنی مقدار انتگرال حدی را می باشد.

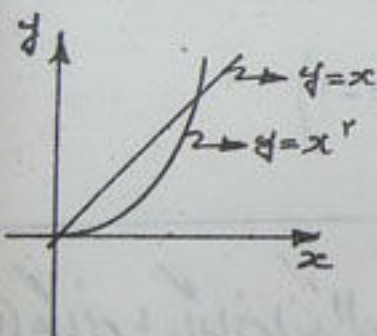


$$R: \begin{cases} 0 \leq x \leq 1 \\ 0 \leq y \leq x^r \end{cases} \quad I = \iint_R \frac{dA}{(x+y)^r} \quad (3)$$

$$I = \iint_R \frac{dA}{(x+y)^r} = \int_0^1 \left(\int_0^{x^r} \frac{dy}{(x+y)^r} \right) dx = \int_0^1 \left. \frac{-1}{(x+y)^{r-1}} \right|_0^{x^r} dx$$

$$I = \int_0^1 \left(\frac{1}{x} - \frac{1}{x^r+x} \right) dx = \int_0^1 \frac{dx}{x+1} = \ln(x+1) \Big|_0^1 = \ln 2$$

(ج) : با توجه به شکل داریم



$$R: \begin{cases} y \leq x \\ y \geq x^r \end{cases} \quad I = \iint_R \frac{dA}{xy} \quad (4)$$

$$I = \iint_R \frac{dA}{xy} = \int_0^1 \int_{x^r}^x \frac{dy}{xy} \cdot dx = \int_0^1 \frac{1}{x} (\ln y) \Big|_{x^r}^x dx$$

$$I = \int_0^1 \frac{1}{x} (\ln x - \ln x^r) dx = \int_0^1 \frac{1}{x} \ln \frac{1}{x} dx = - \int_0^1 \frac{1}{x} \ln x dx$$

$$u = \ln x \rightarrow \begin{cases} x \rightarrow 0^+ \rightarrow u = -\infty \\ x = 1 \rightarrow u = 0 \end{cases} \rightarrow I = - \int_{-\infty}^0 u du = \left. \frac{1}{2} u^2 \right|_{-\infty}^0 = -\infty$$

بر این ترتیب مشاهده می شود انتگرال را نمی باشد.

y

R

$$R: \begin{cases} x \geq 0 \\ y \geq 0 \end{cases}, I = \iint_R e^{-(x+y)} dA \quad (4)$$

x

(5) : با توجه به شکل R، حدود انتگرال به شکل زیر می باشد

چون متغیر $(x+y)$ بر حسب x یا y در کنار تابع $e^{-(x+y)}$ وجود ندارد از مختصات قطبی استفاده می نماییم زیرا امکان است در این حالت انتگرال ساده تر شود. لذا می توان نوشت

$$I = \int_0^{+\infty} \int_0^{+\infty} e^{-(x+y)} dy dx = \int_0^{\frac{\pi}{2}} \int_0^{+\infty} e^{-r} r dr d\theta = \int_0^{\frac{\pi}{2}} \left[-\frac{1}{r} e^{-r} \right]_0^{+\infty} d\theta$$

$$I = \int_0^{\frac{\pi}{2}} \left[-\frac{1}{r} (0 - 1) \right] d\theta = \frac{1}{r} \left(\frac{\pi}{2} \right) = \frac{\pi}{4}$$

(6) $I = \int_0^{\infty} \int_0^{\infty} xy e^{-(x+y)} dy dx$ (ناحیه R همانند تمرین 5 می باشد)

(7) : ناحیه انتگرال نیز به اولی باشد. با استفاده از مختصات قطبی می توان نوشت

$$I = \int_0^{\frac{\pi}{2}} \int_0^{+\infty} r^2 \cos \theta \sin \theta e^{-r} r dr d\theta = \frac{1}{4} \int_0^{\frac{\pi}{2}} \sin 2\theta \left(\int_0^{\infty} r^3 e^{-r} dr \right) d\theta$$

$$\int r^3 e^{-r} dr = \int r^2 \cdot r e^{-r} dr \rightarrow \begin{cases} u = r^2 \\ dv = r e^{-r} dr \\ du = 2r dr \\ v = -\frac{1}{r} e^{-r} \end{cases}$$

$$\int r^3 e^{-r} dr = -\frac{1}{r} r^2 e^{-r} + \frac{1}{r} \int r e^{-r} dr = -\frac{1}{r} r^2 e^{-r} - \frac{1}{r} e^{-r} = -\frac{1}{r} (r+1) e^{-r}$$

$$\int_0^{+\infty} r^3 e^{-r} dr = \lim_{b \rightarrow \infty} \left[-\frac{1}{r} (r+1) e^{-r} \right]_0^b = -\frac{1}{r} \lim_{b \rightarrow \infty} (b+1) e^{-b} - \left(-\frac{1}{r} \right)$$

$$\lim_{b \rightarrow \infty} \frac{b+1}{e^b} = 0 \rightarrow \int_0^{+\infty} r^3 e^{-r} dr = \frac{1}{r} \rightarrow I = \left(\frac{1}{r} \right) \int_0^{\frac{\pi}{2}} \sin 2\theta d\theta = \frac{1}{r} \left[-\frac{1}{2} \cos 2\theta \right]_0^{\frac{\pi}{2}}$$

$$I = \frac{1}{r} (-1 - 1) = -\frac{2}{r}$$

تمرینات برای حل

حکمان یا برای انتگرالهای زیر را مشخص کنید. در صورت صحت حکم بودن مقدار آنرا بدست آورید

$$① \quad I = \int_{-\infty}^{\infty} \int_{-\infty}^{\infty} \frac{dx dy}{1+x^2+y^2}$$

$$② \quad I = \int_{-\infty}^{\infty} \int_{-\infty}^{\infty} \frac{dx dy}{(1+x^2+y^2)^{3/2}}$$

$$③ \quad I = \int_0^{\infty} \int_0^{\infty} \frac{dx dy}{(a^2+x^2+y^2)^{3/2}}$$

$$④ \quad I = \int_{-\infty}^{\infty} \int_{-\infty}^{\infty} e^{-|x|-|y|} dx dy$$

$$⑤ \quad I = \int_0^{\infty} \int_0^{\infty} (x+y) e^{-(x+y)} dx dy$$

$$⑥ \quad I = \int_0^{\infty} \int_0^{\infty} xy e^{-(x^2+y^2)} dx dy$$

$$⑦ \quad I = \int_0^{\infty} \int_x^{\infty} e^{-y^2} dy dx$$

$$⑧ \quad I = \int_0^{\infty} dx \int_{rx}^{\infty} x e^{-y} \frac{\sin y}{y^2} dy$$

$$⑨ \quad I = \int_0^1 \int_0^{y^2} e^{\frac{x}{y}} dx dy$$

$$⑩ \quad I = \iint_R \frac{dA}{x^2+y^2} \quad R: \begin{cases} x \geq 1 \\ y \geq x^2 \end{cases}$$

جواب تمرینات

① \sqrt{a}

② 2π

③ $\frac{\pi}{4a^2}$

④ 4

⑤ 2

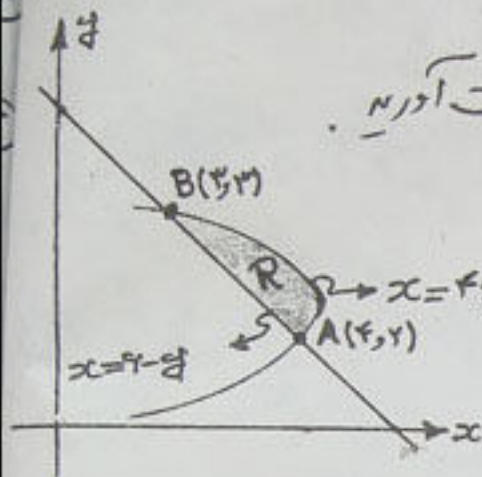
⑥ $\frac{1}{4}$

⑦ $\frac{1}{2}$

⑧ $\frac{1}{6}$

⑨ $\frac{1}{2}$

⑩ $\frac{\pi}{4}$



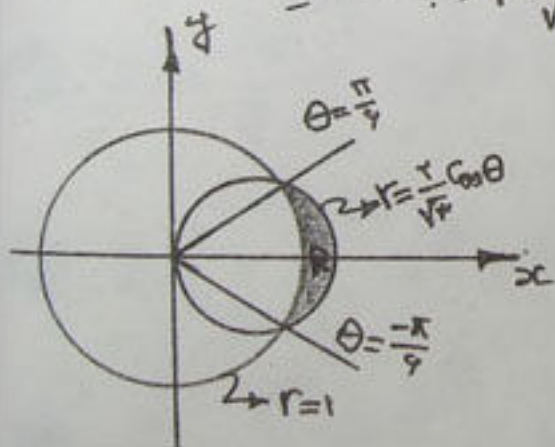
① سطح محدود به ناحیه R : $\begin{cases} x = 4y - y^2 \\ x + y = 6 \end{cases}$ را بدست آورید.

② در انتگرال دو گانه $\iint_R f(x, y) dA$ اگر

$f(x, y) = 1$ ، آنگاه مقدار انتگرال برابر با سطح ناحیه R خواهد بود. طبق مشکل با این از نو از افقی استفاده نمود. لذا خواهم داشت

$$A = \int_2^3 \int_{6-y}^{4y-y^2} dx dy = \int_2^3 x \Big|_{6-y}^{4y-y^2} dy = \int_2^3 [(4y-y^2) - (6-y)] dy = \frac{1}{6}$$

③ مساحت محدود به خارج $r=1$ و در $r = \frac{2}{\sqrt{3}} \cos \theta$ را بدست آورید.

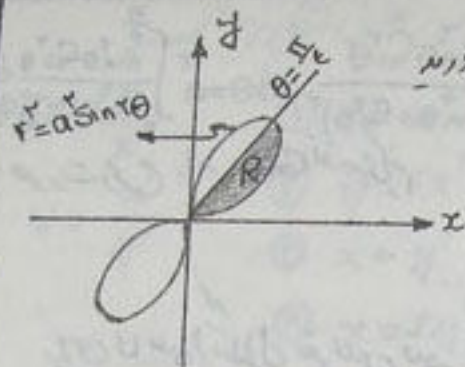


④ روشی را قطع می‌کنیم تا مختصات محل برخورد دو دایره بدست آید. چون در شکل تقارن مشاهده می‌شود می‌توان مساحت در ربع اول را در ۲ ضرب نماییم.

$$\begin{aligned} r &= 1 \\ r &= \frac{2}{\sqrt{3}} \cos \theta \rightarrow \frac{2}{\sqrt{3}} \cos \theta = 1 \\ \cos \theta &= \frac{\sqrt{3}}{2} \quad \theta = \frac{\pi}{6} \\ \cos \theta &= \frac{\sqrt{3}}{2} \quad \theta = \frac{\pi}{3} \end{aligned}$$

$$A = 2 \int_0^{\pi/6} \int_{\frac{2}{\sqrt{3}} \cos \theta}^1 r dr d\theta = 2 \int_0^{\pi/6} \left[\frac{1}{2} r^2 \right]_{\frac{2}{\sqrt{3}} \cos \theta}^1 d\theta = \int_0^{\pi/6} \left(\frac{4}{3} \cos^2 \theta - 1 \right) d\theta$$

$$A = \int_0^{\pi/6} \left(\frac{2}{3} + \frac{2}{3} \cos 2\theta - 1 \right) d\theta = \frac{1}{18} (2\sqrt{3} - \pi)$$



مساحت محدود به منحنی $(x^2 + y^2)^2 = a^2 xy$ را بیابید.

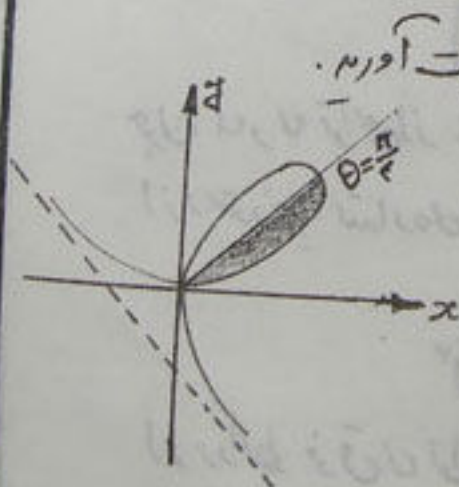
ج: ابتدا از دستگاه قطبی استفاده می‌کنیم و شکل را رسم می‌کنیم. زیرا در مختصات دکارتی بدلیل بالا بودن درجه نمی‌توان به راحتی آنرا رسم نمود.

$$\begin{aligned} x &= r \cos \theta \\ y &= r \sin \theta \end{aligned} \rightarrow \begin{aligned} r^4 &= a^2 r^2 \sin \theta \cos \theta \\ r^2 &= a^2 \sin 2\theta \rightarrow r^2(r^2 - a^2 \sin 2\theta) = 0 \\ r &= 0 \quad \text{و} \quad r^2 = a^2 \sin 2\theta \end{aligned}$$

با توجه به شکل می‌توان مساحت در فاصله $[0, \frac{\pi}{4}]$ را محاسبه نمود و ۴ برابر نمود.

$$A = 4 \int_0^{\frac{\pi}{4}} \int_0^{a\sqrt{\sin 2\theta}} r \, dr \, d\theta = 4 \int_0^{\frac{\pi}{4}} \left[\frac{1}{2} r^2 \right]_0^{a\sqrt{\sin 2\theta}} d\theta$$

$$A = 2 \int_0^{\frac{\pi}{4}} a^2 \sin 2\theta \, d\theta = a^2$$



مساحت داخل حلقه $T = \frac{a \sin \theta \cos \theta}{\sin^3 \theta + \cos^3 \theta}$ را بیابید.

ج: می‌توان نشان داد که این منحنی نسبت به خط $\theta = \frac{\pi}{4}$ متقارن می‌باشد. طبق شکل می‌توان مساحت را در فاصله $[0, \frac{\pi}{4}]$ محاسبه نمود و در ۲ ضرب کرد.

به این ترتیب مقدار مساحت به صورت زیر محاسبه می‌گردد

$$A = 2 \int_0^{\frac{\pi}{4}} \int_0^{\frac{a \sin \theta \cos \theta}{\sin^3 \theta + \cos^3 \theta}} r \, dr \, d\theta$$

$$A = \int_0^{\frac{\pi}{4}} \int_0^{\frac{1}{\sqrt{1+\tan^2 \theta}}} \frac{a \sin \theta \cos \theta}{\sin^2 \theta + \cos^2 \theta} d\theta = \int_0^{\frac{\pi}{4}} a \frac{\sin^2 \theta \cos^2 \theta}{(\sin^2 \theta + \cos^2 \theta)^2} d\theta = a \int_0^{\frac{\pi}{4}} \frac{\sin^2 \theta \cos^2 \theta}{\cos^4 \theta (1 + \tan^2 \theta)^2} d\theta$$

صورت و مخرج را به $\tan \theta$ تقسیم کنیم

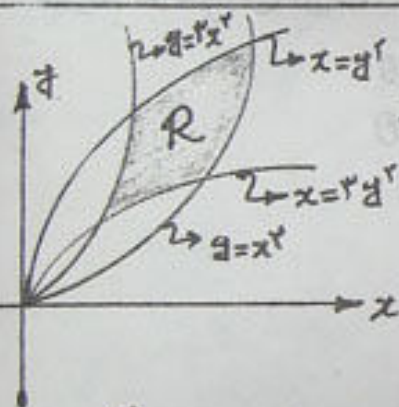
$$= a \int_0^{\frac{\pi}{4}} \frac{\tan^2 \theta \cos^2 \theta}{(1 + \tan^2 \theta)^2} d\theta$$

برای محاسبه انتگرال تعویض متغیر زیر را در نظر می‌گیریم

$$u = 1 + \tan^2 \theta \begin{cases} \theta = 0 \rightarrow u = 1 \\ \theta = \frac{\pi}{4} \rightarrow u = 2 \end{cases} \rightarrow I = \frac{a^2}{3} \int_1^2 \frac{du}{u^2} = \frac{a^2}{6}$$

$$du = 2 \tan \theta \cdot \frac{1}{\cos^2 \theta} d\theta$$

$$\rightarrow A = \frac{1}{4} a^2$$



⑤ محدوده به هم می‌چسبند $\begin{cases} x = y^2, & y = x^2 \\ x = 2y^2, & y = 2x^2 \end{cases}$ را به دست آوریم

⑥: طبق شکل استفاده از مختصات دکارتی نیاز به محاسبات پیچیده و طولانی دارد. لذا از تعویض متغیر زیر استفاده می‌کنیم:

$$\begin{cases} u = \frac{y}{x^2} \\ v = \frac{x}{y^2} \end{cases} \quad \frac{\partial(x, y)}{\partial(u, v)} = J(u, v) = \begin{vmatrix} x_u & x_v \\ y_u & y_v \end{vmatrix}$$

چون u, v توابعی از x, y باشند، لذا برای محاسبه $J(u, v)$ از معادله زیر استفاده می‌کنیم

$$J(u, v) = \frac{1}{J(x, y)}$$

$$J(x, y) = \begin{vmatrix} u_x & u_y \\ v_x & v_y \end{vmatrix} = \begin{vmatrix} -\frac{2y}{x^3} & \frac{1}{x^2} \\ \frac{1}{y^2} & -\frac{2x}{y^3} \end{vmatrix} = \frac{3}{x^2 y^2}$$

از روابط فوق می‌توان نوشت:

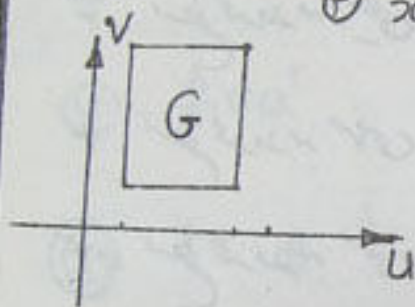
$$uv = \frac{1}{xy} \rightarrow \frac{1}{x^2 y^2} = u^2 v^2$$

$$J(u, v) = \frac{1}{J(x, y)} = \frac{1}{3u^2 v^2}$$

در نتیجه

باتوجه به شکل ناحیه G در صفحه uv دارای مرزهای شکل زیر است

$$u = \frac{y}{x^2} \quad \begin{array}{l} \textcircled{1} \quad y = x^2 \rightarrow \frac{y}{x^2} = u = 1 \\ \textcircled{2} \quad y = 2x^2 \rightarrow \frac{y}{x^2} = 2 \rightarrow u = 2 \\ \textcircled{3} \quad x = y^2 \rightarrow \frac{x}{y^2} = v = 1 \\ \textcircled{4} \quad x = 3y^2 \rightarrow \frac{x}{y^2} = 3 \rightarrow v = 3 \end{array}$$



به این ترتیب مقدار مساحت به شکل زیر محاسبه میگردد

$$A = \iint_R dA = \iint_G J(u, v) dv du$$

$$A = \int_1^3 \int_1^2 \frac{1}{u^2} \left(\frac{1}{u^2 v^2} \right) dv du = \frac{1}{u^2} \int_1^2 \frac{1}{u^2} \left(\frac{-1}{v} \right) \Big|_1^2 du = \frac{1}{u^2} \int_1^2 \left(1 - \frac{1}{u} \right) \frac{1}{u^2} du$$

$$\rightarrow A = \frac{1}{9}$$

تئریات برای حل

مطلوب محاسبه سطح محدود به منحنی‌های زیر با استفاده از انتگرال دوگانه

۱- سطح محدود به خطوط $y=x$ ، $y=dx$ و $x=1$

۲- سطح محدود به منحنی $\frac{x^2}{a^2} + \frac{y^2}{b^2} = 1$

۳- سطح محدود به منحنی $y = \frac{b}{a}x$ و خط $y = \frac{b}{a}x$

۴- سطح محدود به منحنی $(x^2 + y^2)^2 = x^2 + y^2$

۵- سطح محدود به منحنی $(x+y)^3 = xy$ در ربع اول

۶- سطح محدود به منحنی‌های $x^2 + y^2 = 4x$ ، $x^2 + y^2 = 2x$ ، $y=0$ ، $y=x$

۷- ناحیه محدود به منحنی‌های $r=a(1+\cos\theta)$ و $r=a\cos\theta$ ($a>0$)

۸- ناحیه محدود به منحنی $(x-2y+3)^2 + (2x+4y-1)^2 = 100$

۹- ناحیه محدود به منحنی‌های $y^2=bx$ ، $y^2=ax$ ، $xy=d$ ، $xy=\beta$ (از تقاطع متغیر استفاده نمائید)
($0 < a < b$ و $0 < \alpha < \beta$)

۱۰- سطح داخل ناحیه $x^2 + y^2 = 4$ و خارج ناحیه $y^2 = 4(1-x)$

۱۱- خارج ناحیه $r = (2 - \cos\theta)$ و داخل ناحیه $r = 2$

۱۲- سطح محدود به منحنی‌های $y = 2x^2 - dx$ و $y = 4x - x^2$

۱۳- سطح محدود به منحنی $(x-a)^2 + (y-a)^2 \leq a^2$ ، $(x^2 + y^2)^2 = 8a^2xy$ ($a>0$)

۱۴- سطح محدود به منحنی‌های $y = ax^p$ ، $y = bx^p$ ، $y = cx^q$ ، $y = dx^q$ ($0 < p < q$; $0 < a < b$, $0 < c < d$)

جواب تمرینات

① ۲

② πab

③ $\frac{ab}{6}$

④ $\frac{3\pi}{4}$

⑤ $\frac{1}{6}$

⑥ $3(\frac{\pi}{4} + \frac{1}{2})$

⑦ $\frac{3}{4}\pi a^2$

⑧ 10π

⑨ $\frac{1}{r}(\beta - \alpha) \ln \frac{a}{b}$

⑩ $2\pi - \frac{\pi}{4}$

⑪ $\pi - \pi$

⑫ $\frac{2\sqrt{r}}{r}$

⑬ $a^r \left(\frac{\sqrt{r}}{r} + \text{ArcSin} \frac{\sqrt{r}}{a} \right)$

⑭ $\frac{q-p}{(p+1)(q+1)} \times \left(b^{\frac{q+1}{q-p}} - a^{\frac{q+1}{q-p}} \right) \left(c^{-\frac{p+1}{q-1}} - d^{-\frac{p+1}{q-1}} \right)$

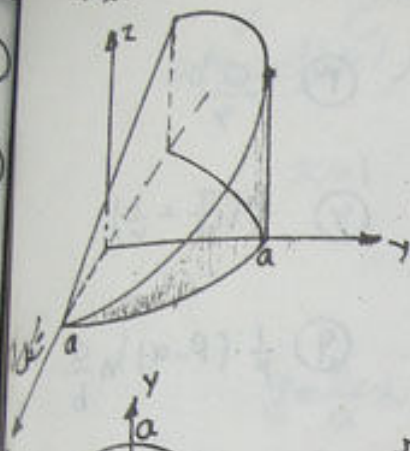
انتگرال دوگانه : محاسبه حجم با استفاده از انتگرال دوگانه

ابتدا ناحیه V را رسم، سپس حجم محدود به آن را با استفاده از انتگرال دوگانه بدست آورید.

① حجم محدود به رویه های

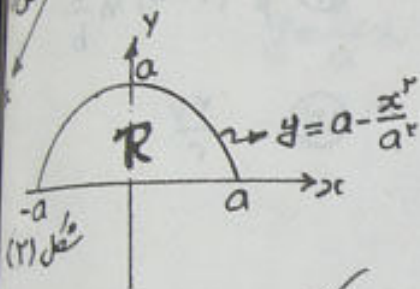
$$\begin{cases} z=0 \text{ و } y=0 \\ z=a-x+y \\ y=a-\frac{x^2}{a} \end{cases} \quad (a>0)$$

را محاسبه نمایند.



ج: بارسم رویه ها مثل مورزقاریت می آید.

ناحیه R در صفحه xy به شکل زیر کشیده است.



مثل ۱، از اطراف به عنوان $y=a-\frac{x^2}{a}$ ،
از بالا به عنوان $z=a-x+y$ و از کنار به عنوان
 $y=0$ و از پایین به عنوان $z=0$ محدود می باشد.

به این ترتیب حدود انتگرال جهت محاسبه حجم به شکل زیر تعیین می گردد.

$$V = \int_{-a}^a \int_0^{a-\frac{x^2}{a}} (a+y-x) dy dx$$

چون تابع x فرد و R نسبت به محور y ها
متقارن می باشد. لذا مقدار انتگرال

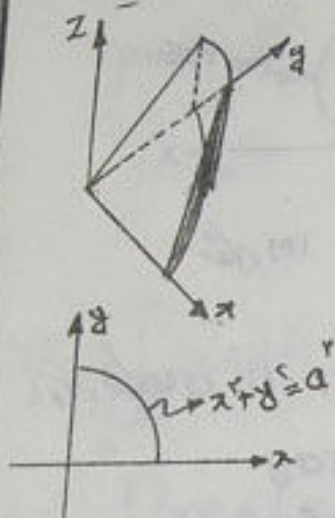
$$V = \int_{-a}^a \int_0^{a-\frac{x^2}{a}} (a+y) dy dx = \int_{-a}^a \left(ay + \frac{1}{2} y^2 \right) \Big|_0^{a-\frac{x^2}{a}} dx$$

$$V = \int_{-a}^a \left[a^2 - x^2 + \frac{1}{2} \left(a^2 - 2x^2 + \frac{x^4}{a^2} \right) \right] dx$$

پس از محاسبه انتگرال اخیر مقدار حجم به شکل زیر خواهد بود

$$V = \frac{28}{15} a^3$$

۲) حجم محدود به استوانه $x^2 + y^2 = a^2$ و صفحه $z = \frac{1}{8}$ را در ناحیه $\frac{1}{8}$ بدست آورید.



ج: چون ناحیه $\frac{1}{8}$ مورد نظر است لذا باید $x \geq 0$ ، $y \geq 0$ و $z \geq 0$ باشد.

شکل مورد نظرها نظری که مشاهده می شود از اطراف به استوانه $x^2 + y^2 = a^2$ و صفحه $z = 0$ و از بالا به صفحه $z = \frac{1}{8}$ و از زاویه منحنی محدودی باشد در شکل (۲) نیز ناحیه R رسم شده است به این ترتیب مقدار حجم V از انتگرال دو گانه زیر محاسبه می گردد.

$$V = \int_0^{\frac{a\pi}{4}} \int_0^{\sqrt{a^2 - x^2}} \frac{1}{8} dy dx$$

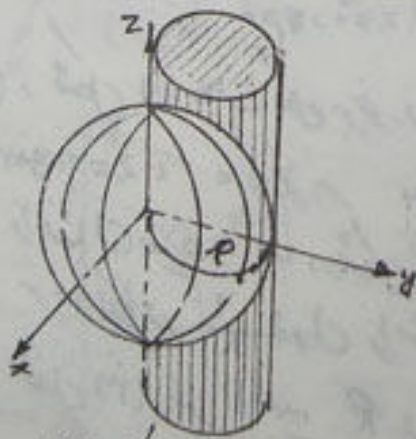
می توان از مختصات قطبی استفاده نمود.

برای این کاری نوسیم $y = r \sin \theta$ در نتیجه $0 \leq \theta \leq \frac{\pi}{4}$ ، $0 \leq r \leq a$

$$V = \int_0^{\frac{\pi}{4}} \int_0^a (r \sin \theta) r dr d\theta = \int_0^{\frac{\pi}{4}} \sin \theta \cdot \left(\frac{1}{2} r^2 \right) \Big|_0^a d\theta$$

$$\rightarrow V = \frac{a^3}{8}$$

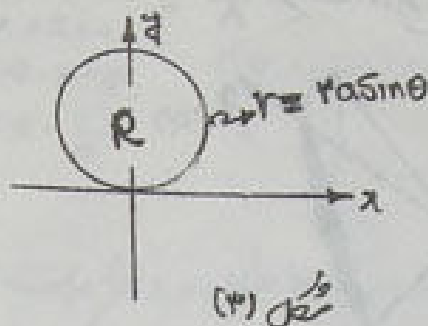
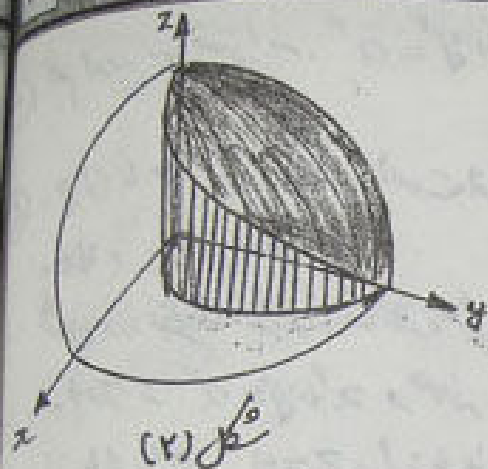
۳) حجم محدود به ناحیه داخل کره $x^2 + y^2 + z^2 = 4a^2$ و استوانه $x^2 + y^2 = 2ay$ را بدست آورید.



شکل (۱)

ج: با توجه به شکل حجم در ناحیه $\frac{1}{8}$ را

در ۸ ضرب می کنیم. شکل (۱) و شکل (۲) ناحیه را در $\frac{1}{8}$ مشخص می کند.



با توجه به شکل‌های (۱)، (۲) و (۳) مقدار حجم از دستور زیر محاسبه می‌گردد

$$V = \int_0^{\pi/2} \int_0^{a \sin \theta} \sqrt{a^2 - r^2} \cdot r \, dr \, d\theta$$

$$V = \int_0^{\pi/2} \left[-\frac{1}{3} (a^2 - r^2)^{3/2} \right]_0^{a \sin \theta} \cdot d\theta$$

$$= \int_0^{\pi/2} \left[-\frac{1}{3} (a^2 - a^2 \sin^2 \theta)^{3/2} - \left(-\frac{1}{3} a^3 \right) \right] d\theta$$

$$V = \frac{1}{3} \int_0^{\pi/2} (a^3 - a^3 \cos^2 \theta) d\theta = \frac{16}{9} (2\pi - 4) a^3$$

$$x^2 + y^2 = r^2 \sin^2 \theta$$

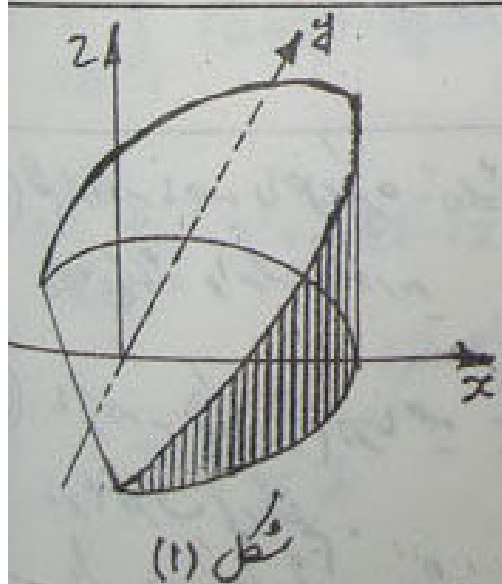
$$r^2 = r^2 \sin^2 \theta$$

$$\rightarrow r(r - r \sin \theta)$$

$$r = 0, r = r \sin \theta$$

$$x^2 + y^2 + z^2 = a^2$$

$$z = \sqrt{a^2 - (x^2 + y^2)} = \sqrt{a^2 - r^2}$$



۴) حجم محدود به رویه‌های $\begin{cases} z = x + y + 2 \\ z = 0 \\ x^2 + y^2 = 16 \\ x \geq 0, y \geq 0 \end{cases}$ را به کمک آوریم.

۵) : شکل (۱) حالت کلی برشور رویه‌های

$$z = x + y + 2, z = 0, x^2 + y^2 = 16$$

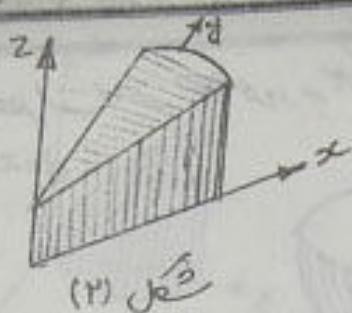
را نشان می‌دهد. اما در شکل (۲) ناحیه

بر روی نظر در $\frac{1}{\pi}$ اول را مشخص می‌کند.

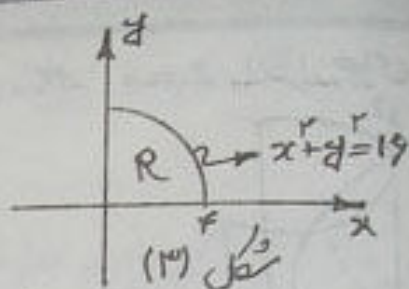
شکل (۳) نیز ناحیه R در صفحه x-y را نشان می‌دهد.

انتگرال دو گانه : محاسبه حجم با استفاده از انتگرال دو گانه

۴۲: صفحه



شکل (۲)



شکل (۳)

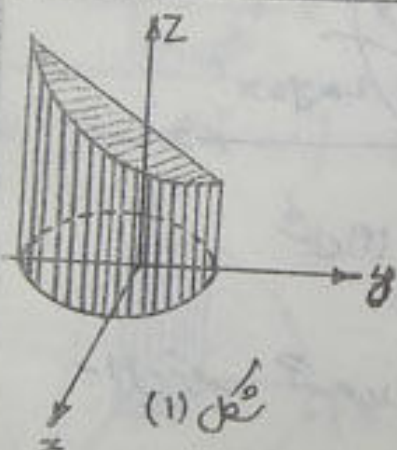
به این ترتیب حجم مورد نظر (تسطیح زیر محاسبه می‌گردد)

$$V = \iint_R (x+y+2) dA = \int_0^4 \int_0^{\sqrt{16-x^2}} (x+y+2) dy dx$$

$$V = \int_0^4 \left(xy + \frac{1}{2}y^2 + 2y \right) \Big|_0^{\sqrt{16-x^2}} dx = \int_0^4 \left[x\sqrt{16-x^2} + \frac{1}{2}(16-x^2) + 2\sqrt{16-x^2} \right] dx$$

$$V = \frac{128}{3} + 8\pi$$

که پس از محاسبه انتگرال خواهم داشت



شکل (۱)

⑤ حجم محدود به رویه‌های $\begin{cases} x^2 + y^2 = 4 \\ y + z = 4 \\ z = 0 \end{cases}$ را بیابید.

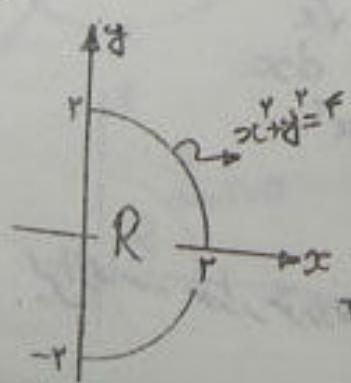
⑥: شکل (۱) ناحیه مورد نظر را نشان می‌دهد و شکل (۲) ناحیه R در صفحه xy را مشخص می‌کند.

$$V = \int_{-2}^2 \int_0^{\sqrt{4-y^2}} (4-y) dx dy$$

به این ترتیب خواهم داشت

$y + z = 4 \rightarrow z = 4 - y$

با استفاده از مختصات قطبی خواهم داشت



$$V = \int_{-\pi/4}^{\pi/4} \int_0^2 (4 - r \sin \theta) r dr d\theta$$

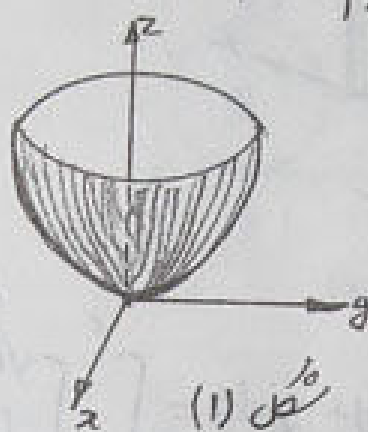
$$V = \int_{-\pi/4}^{\pi/4} \left(2r^2 - \frac{1}{3}r^3 \sin \theta \right) \Big|_0^2 d\theta = \int_{-\pi/4}^{\pi/4} \left(4 - \frac{8}{3} \sin \theta \right) d\theta$$

$$V = 8\pi$$

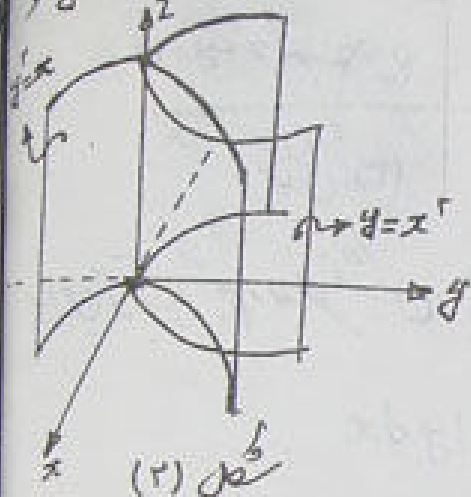
۶. منظور از محاسبه حجم مورد نظر به شکل زیر
 $z = x^2 + \frac{4}{3}y^3$ و $z = 0$ ، بتواند های $y = x^2$

۶. $y = x^2$

۷. :

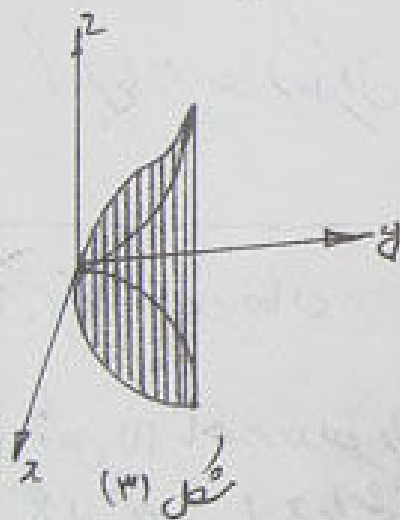


شکل (۱)

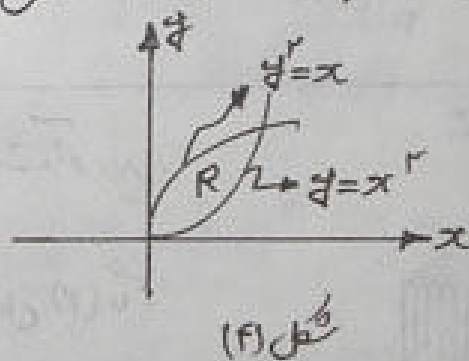


شکل (۲)

ما حید مورد نظر از محل برخورد دو شکل (۱) و (۲) و منفر $z = 0$ حارت میگرد. شکل (۳) نمای
 از محل برخورد دو سطح فوق را باشد.
 ناحیه R در صفحه xy در شکل (۴) مشخص شده است



شکل (۳)



شکل (۴)

به این ترتیب حجم مورد نظر از دستور زیر محاسبه میگرد

$$V = \int_0^1 \int_{x^2}^{\sqrt{x}} (x^2 + \frac{4}{3}y^3) dy dx = \int_0^1 \left(x^2 y + \frac{4}{9} y^4 \right) \Big|_{x^2}^{\sqrt{x}} dx$$

$$V = \int_0^1 \left[(x^2 \sqrt{x} + \frac{4}{9} x \sqrt{x}) - (x^4 + \frac{4}{9} x^2) \right] dx$$

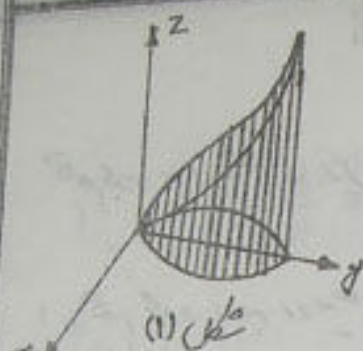
پس از محاسبه مقدار مورد نظر شکل زیر بدست می آید

$$V = \frac{3}{5}$$

صفحه: ۲۵

⑦ مطلوب است محاسبه حجم محدود به رویه های

$$\begin{cases} x^2 + y^2 = 4z \\ x^2 + y^2 = 16 \\ z = 0 \end{cases}$$



شکل (۱)

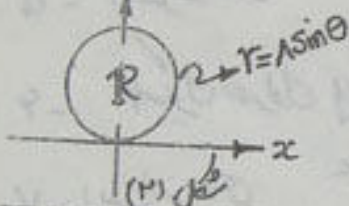
$$x^2 + y^2 = 16$$

$$r^2 - 16 \sin^2 \theta = 0$$

$$r = 0, r = 4 \sin \theta$$

$$x^2 + y^2 = 4z$$

$$z = \frac{1}{4} r^2$$

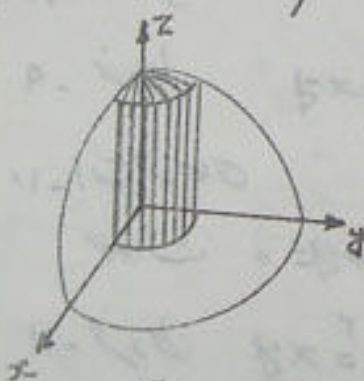


$$V = \int_0^\pi \int_{0}^{4 \sin \theta} z r dr d\theta = \int_0^\pi \int_{0}^{4 \sin \theta} \frac{1}{4} r^3 dr d\theta$$

$$V = \frac{1}{16} \int_0^\pi r^4 \Big|_0^{4 \sin \theta} d\theta = \frac{1}{16} \int_0^\pi 16 \sin^4 \theta d\theta$$

$$V = 96\pi$$

⑧ حجم محدود به کره به شعاع $2a$ و استوانه $r^2 = a^2$ را به ترتیب آورده (کره $x^2 + y^2 + z^2 = 4a^2$)



⑨ ناحیه های V و R به ترتیب در شکل های (۱) و (۲) رسم شده اند.

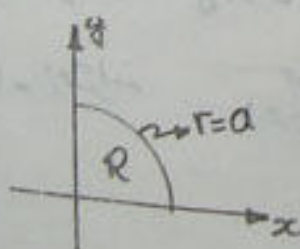
لذا حجم مورد نظر شکل زیر محاسبه میگردد.

$$V = \int_0^\pi \int_0^a \sqrt{4a^2 - r^2} r dr d\theta$$

حجم ناحیه $\frac{1}{8}$ را در ۸ ضرب میکنیم

$$V = \frac{-1}{(\frac{3}{2})r} \int_0^\pi (4a^2 - r^2)^{\frac{3}{2}} d\theta = \frac{8}{3} \int_0^\pi (1a^3 - 3\sqrt{3}a^3) d\theta$$

$$V = \frac{4}{3} (1 - 3\sqrt{3}) a^3 \pi$$



تمرینات برای حل

حجم محدود به رویه های زیر را با استفاده از انتگرال دوگانه به دست آورید

۱- حجم محدود به رویه های $z = \frac{x^2}{2p} + \frac{y^2}{2q}$ ، $x=a$ ، $y=b$ در $\frac{1}{8}$ اول.

۲- حجم محدود به صفحات $z=0$ ، $y=0$ ، $3x+y=6$ ، $3x+2y=12$ و $x+y+z=6$

۳- حجم محدود به استوانه های $y=\sqrt{x}$ ، $y=2\sqrt{x}$ و صفحات $z=0$ و $x+z=6$

۴- استوانه $\frac{x^2}{4} + y^2 = 1$ و صفحات $z=12-2x-4y$ و $z=1$

۵- استوانه های $z=4-y^2$ ، $y=\frac{1}{4}x^2$ و صفحه $z=0$

۶- سه پیکره مخروطی $z=xy$ ، استوانه $y=\sqrt{x}$ و صفحات $x+y=2$ ، $y=0$ و $z=0$

۷- استوانه های $y=e^x$ ، $y=e^{-x}$ ، $z=e^2-y^2$ و صفحه $z=0$

۸- استوانه های $y=\ln x$ ، $y=\ln 2x$ و صفحات $z=0$ و $y+z=1$

۹- مخروط $z^2=xy$ ، استوانه $\sqrt{x}+\sqrt{y}=1$ و صفحه $z=0$

۱۰- استوانه های $x^2+y^2=x$ ، $x^2+y^2=2x$ ، مخروط $z=\sqrt{x+y}$ و $z=\sqrt{x+y^2}$

صفحات $x+y=0$ ، $x-y=0$ و $z=0$

۱۱- مخروط $z^2=xy$ و استوانه $(x^2+y^2)^2=2xy$ در $\frac{1}{8}$ اول

۱۲- استوانه $\frac{x^2}{a^2} + \frac{y^2}{b^2} = 1$ و صفحات $y=0$ ، $z=\frac{x}{c}$ و $z=x$

جواب تمرینات

۱ $\frac{ab}{6} \left(\frac{a^2}{p} + \frac{b^2}{q} \right)$

۲ ۱۲

۳ $\frac{41}{5} \sqrt{6}$

۴ 22π

۵ $\frac{252}{21}$

۶ $\frac{3}{8}$

۷ $2 \left(e^2 - \frac{2e^3 + 1}{9} \right)$

۸ $3e^{-1}$

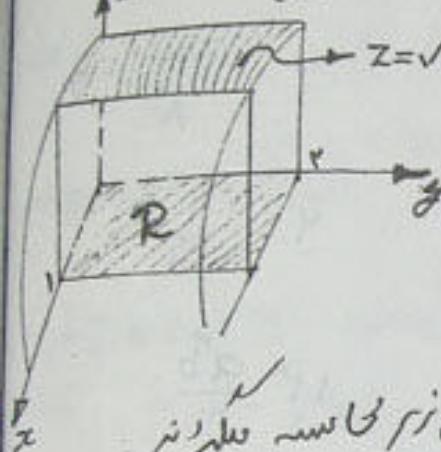
۹ $\frac{1}{2a}$

۱۰ $\frac{15}{8} \left(\frac{3\pi}{8} + 1 \right)$

۱۱ $\frac{\pi\sqrt{2}}{24}$

۱۲ $\frac{ab}{3}$

① مساحت آن قسمت از سطح $z = \sqrt{4-x^2}$ که توسط صفحات $\begin{cases} x=0 \\ y=0 \\ x=1 \\ y=2 \end{cases}$ در $\frac{1}{4}$ از $\frac{1}{4}$ قطع شده است، بدست آورید.



ج: سطح مورد نظر از دستوار $S = \iint_R dS$

که در آن $dS = \frac{|\vec{\nabla} f|}{|\vec{\nabla} f \cdot \vec{p}|} dA$ ، بدست می آید.

$\vec{\nabla} f$ بردار سطح مورد نظر، \vec{p} بردار قائم در صفحه

تصور رویه می باشد. در این مثال موارد مذکور به شکل زیر محاسبه می گردند.

$$f = z - \sqrt{4-x^2} \rightarrow \vec{\nabla} f = \frac{x}{\sqrt{4-x^2}} \vec{i} + \vec{k}$$

سطح مورد نظر برای توان در صفحه $z=0$ تصور می گردد که به این ترتیب $\vec{p} = \vec{k}$ در این صورت dS به شکل زیر بدست می آید.

$$|\vec{\nabla} f| = \sqrt{\frac{x^2}{4-x^2} + 1} = \frac{2}{\sqrt{4-x^2}}, \quad \vec{\nabla} f \cdot \vec{k} = 1$$

$$dS = \frac{|\vec{\nabla} f|}{|\vec{\nabla} f \cdot \vec{k}|} dA = \frac{2}{\sqrt{4-x^2}} dA$$

در نتیجه خواهیم داشت

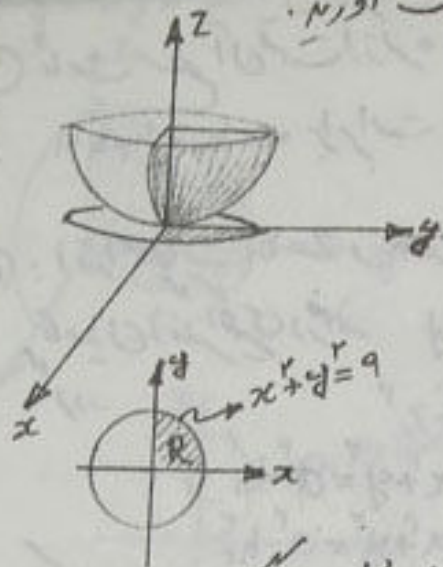
$$S = \iint_R dS = \iint_R \frac{2}{\sqrt{4-x^2}} dA$$

طبق نام R داریم

$$S = \int_0^1 \int_0^2 \frac{2}{\sqrt{4-x^2}} dy dx = \int_0^1 \frac{2}{\sqrt{4-x^2}} \left[y \right]_0^2 dx = 4 \int_0^1 \frac{dx}{\sqrt{4-x^2}} = 4 \left[\arcsin \left(\frac{x}{2} \right) \right]_0^1$$

$$S = \frac{2\pi}{3}$$

۲) سطح $z = x^2 + y^2$ را که زیر صفحه $z = 9$ می باشد، بدست آوریم.



۳) برای محاسبه $d\sigma = \frac{|\vec{\nabla} f|}{|\vec{\nabla} f \cdot \vec{p}|} dA$ ، فعل زیر عمل می‌کنیم

$$f = x^2 + y^2 - z \rightarrow \vec{\nabla} f = (2x)\vec{i} + (2y)\vec{j} - \vec{k}$$

$$|\vec{\nabla} f| = \sqrt{4x^2 + 4y^2 + 1}$$

$$\vec{p} = \vec{k} \rightarrow \vec{\nabla} f \cdot \vec{p} = -1 \rightarrow |\vec{\nabla} f \cdot \vec{k}| = 1$$

$$d\sigma = \sqrt{4(x^2 + y^2) + 1} dA \quad \text{به این ترتیب داریم}$$

در نتیجه مقدار سطح از دستوره $S = \iint_{\sigma} d\sigma$ شکل زیر محاسبه می‌گردد

$$S = \iint_{\sigma} d\sigma = \iint_R \sqrt{4(x^2 + y^2) + 1} dA$$

برای مشخص کردن ناحیه R ، روی $z = x^2 + y^2$ را با صفحه $z = 9$ قطع می‌کنیم

$$\begin{cases} z = x^2 + y^2 \\ z = 9 \end{cases} \rightarrow x^2 + y^2 = 9$$

چون ناحیه R متقارن و روی $z = x^2 + y^2$ نیز نسبت به صفحات $x = 0$ و $y = 0$ متقارن است، لذا می‌توان مساحت مورد نیاز را محاسبه و سپس ۴ برابر نمود.

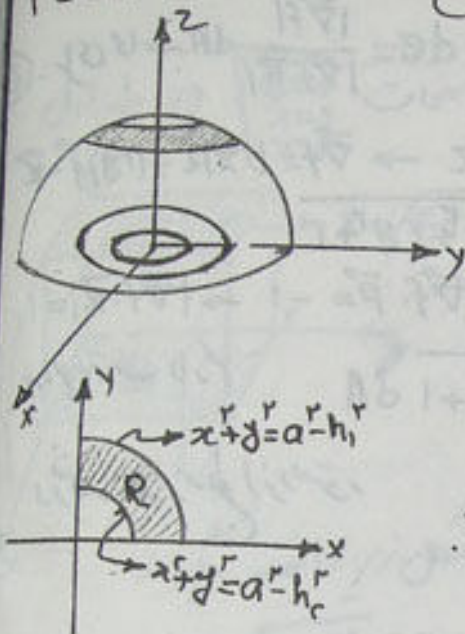
$$S = 4 \int_0^{\frac{\pi}{2}} \int_0^3 \sqrt{4r^2 + 1} \cdot r dr d\theta$$

به این ترتیب می‌توان نوشت (از مختصات قطبی استفاده می‌کنیم)

$$S = 4 \int_0^{\frac{\pi}{2}} \left[\frac{1}{4} x^{\frac{3}{2}} (1 + 4r^2)^{\frac{3}{2}} \right]_0^3 d\theta = 4 \int_0^{\frac{\pi}{2}} \frac{1}{12} (3\sqrt{5} - 1) d\theta$$

$$S = \frac{\pi}{4} (3\sqrt{5} - 1)$$

۳) ثابت سطح آن قسمت از کره $x^2 + y^2 + z^2 = a^2$ قطع شده توسط صفحات $z = h_1$ و $z = h_2$ برابر است با $S = 2\pi a(h_2 - h_1)$ $0 < h_1 \leq h_2 \leq a$



ج: ابتدا صفحات $z = h_1$ و $z = h_2$ را با کره قطع می‌کنیم تا میان آن‌ها را در صفحه xy (یعنی R) مشخص کرد.

$$x^2 + y^2 = a^2 - z^2$$

$$z = h_1 \rightarrow x^2 + y^2 = a^2 - h_1^2$$

$$z = h_2 \rightarrow x^2 + y^2 = a^2 - h_2^2$$

فرض کنید ناحیه R سطح یک حلقه طوقی شکل باشد که در ربع اول صفحه xy واقع باشد.

برای محاسبه سطح مایل زیر را انجام می‌دهیم

ضریب ۴ در محاسبه S بدلیل محاسبه کل سطحی باشد

$$S = 4 \iint_R \frac{|\nabla f|}{|\nabla f \cdot \vec{k}|} dA$$

$$f = x^2 + y^2 + z^2 - a^2$$

$$\vec{\nabla} f = 2x\vec{i} + 2y\vec{j} + 2z\vec{k} \rightarrow |\vec{\nabla} f| = \sqrt{4(x^2 + y^2 + z^2)}$$

* چون نقاط روی سطح کره مورد نظر باشند لذا می‌توان بجای $x^2 + y^2 + z^2$ مقدار a^2 را قرار داد و در آنرا داخل کره مورد نظر باشد نمی‌توان a^2 قرار داد به این ترتیب داریم

$$|\vec{\nabla} f| = 2a, \quad |\vec{\nabla} f \cdot \vec{k}| = |2z| = 2z \rightarrow z = \sqrt{a^2 - x^2 - y^2}$$

در این صورت می‌توان نوشت

$$S = 4 \iint_R \frac{2a}{2\sqrt{a^2 - x^2 - y^2}} dA$$

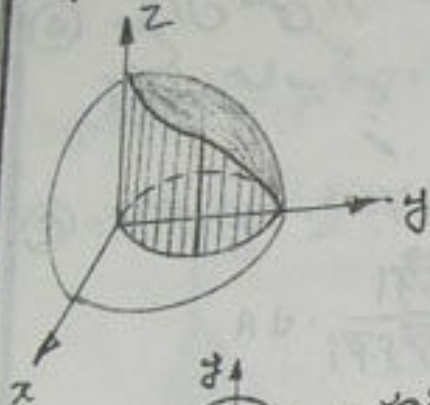
طبق شکل R با استفاده از مختصات قطبی می‌توان نوشت

$$S = 4 \int_0^{\frac{\pi}{2}} \int_0^c \frac{ra}{r\sqrt{a^2 - r^2}} r dr d\theta = 4a \int_0^{\frac{\pi}{2}} (-\sqrt{a^2 - r^2}) \Big|_0^c d\theta = 4a \int_0^{\frac{\pi}{2}} (\sqrt{a^2 - c^2} - \sqrt{a^2 - 0}) d\theta$$

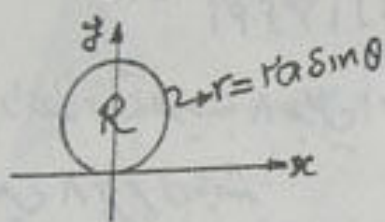
$$S = 2a(h_2 - h_1)\pi$$

مسئله ۵۱

۴) مطلوب است سطح آن قسمت از کره $x^2 + y^2 + z^2 = 4a^2$ که درون استوانه $x^2 + y^2 = 2ay$ قرار دارد.



۵) طبق شکل بدقت از سطح را محاسبه و در برابر آن بنویسیم مراحل زیر را بخوانید



$$S = 2 \iint_R \frac{|\nabla f|}{|\nabla f \cdot \bar{k}|} dA$$

$$f = x^2 + y^2 + z^2 - 4a^2 \quad \nabla f = \begin{bmatrix} 2x \\ 2y \\ 2z \end{bmatrix}$$

$$|\nabla f| = 2\sqrt{x^2 + y^2 + z^2} = 4a$$

$$|\nabla f \cdot \bar{k}| = |2z| = 2\sqrt{4a^2 - (x^2 + y^2)}$$

$$x^2 + y^2 = 2ay \Rightarrow r^2 - 2ar \sin \theta = 0$$

$$S = 2 \iint_R \frac{4a}{2\sqrt{4a^2 - (x^2 + y^2)}} dA = 4a \int_0^\pi \int_0^{2a \sin \theta} \frac{1}{\sqrt{4a^2 - r^2}} r dr d\theta$$

$$S = 4a \int_0^\pi \left[-\sqrt{4a^2 - r^2} \right]_0^{2a \sin \theta} d\theta = 4a \int_0^\pi [2a - \sqrt{4a^2 - 4a^2 \sin^2 \theta}] d\theta$$

$$S = 8a \int_0^\pi (1 - \sqrt{\cos^2 \theta}) d\theta$$

اما برای $\sqrt{\cos^2 \theta}$ با توجه به فاصله $[0, \pi]$ باستی نوشت

$$\sqrt{\cos^2 \theta} = \begin{cases} \cos \theta & 0 \leq \theta \leq \frac{\pi}{2} \\ -\cos \theta & \frac{\pi}{2} < \theta < \pi \end{cases}$$

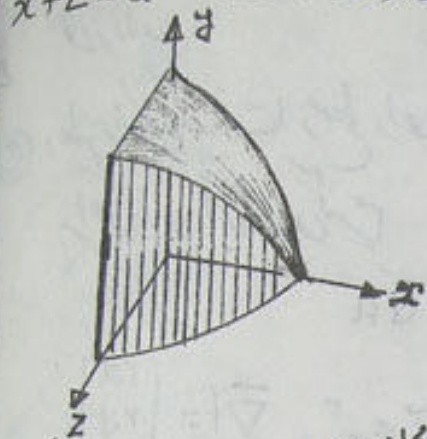
در نتیجه داریم

$$S = 8a \left[\int_0^{\frac{\pi}{2}} (1 - \cos \theta) d\theta + \int_{\frac{\pi}{2}}^\pi (1 + \cos \theta) d\theta \right]$$

$$S = 8a^2(\pi - 2)$$

⑤ سطح آن قسمتی از استوانه $x^2 + y^2 = a^2$ را که درون استوانه $x^2 + z^2 = a^2$ قرار دارد حساب کنید.

⑥ : مراحل زیر باید انجام شود



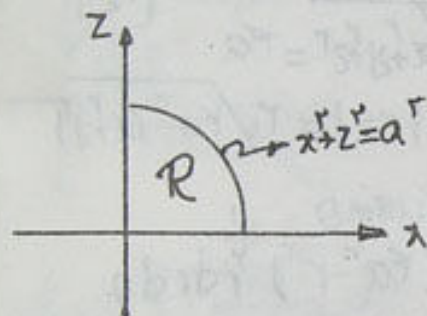
$$S = \iint_R \frac{|\vec{\nabla} f|}{|\vec{\nabla} f \cdot \vec{P}|} \cdot dA$$

در رابطه فوق ضریب ۸ بدلیل اینست که سطح در $\frac{1}{8}$ محاسبه

و سپس ۸ برابر می باشد.

R ناحیه است که در صفحه xz می باشد.

$\vec{P} = \vec{j}$ زیرا قائم بر صفحه xz می باشد.



$$f = x^2 + y^2 - a^2 \rightarrow \vec{\nabla} f = 2x\vec{i} + 2y\vec{j}$$

$$|\vec{\nabla} f| = \sqrt{4(x^2 + y^2)} = 2a \rightarrow (x^2 + y^2 = a^2)$$

$$\vec{\nabla} f \cdot \vec{P} = \vec{\nabla} f \cdot \vec{j} = 2y \rightarrow |\vec{\nabla} f \cdot \vec{P}| = 2y$$

$$|\vec{\nabla} f \cdot \vec{P}| = 2\sqrt{a^2 - x^2}$$

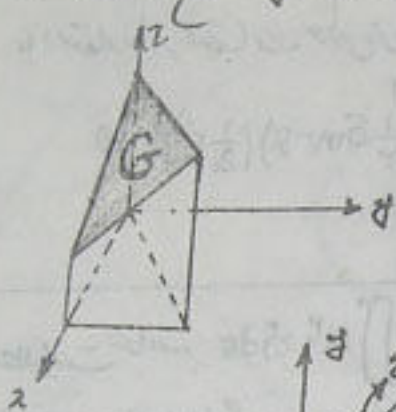
$$S = 8 \iint_R \frac{2a}{2\sqrt{a^2 - x^2}} dA$$

$$dA = dz dx$$

$$S = 8a \int_0^a \int_0^{\sqrt{a^2 - x^2}} \frac{dz dx}{\sqrt{a^2 - x^2}} = 8a \int_0^a \frac{1}{\sqrt{a^2 - x^2}} (z) \Big|_0^{\sqrt{a^2 - x^2}} \cdot dx$$

$$S = 8a^2$$

⑥ مطلوب است محاسبه انتگرال رویه ای $\iint_G (xy+z) dS$ که G قسمتی از صفحه $x-y+z=3$ می باشد که توسط صفحات $x=1$ ، $y=0$ و $z=0$ قطع شده است.



⑦ سطح مورد نظر و ناحیه انتگرالی در شکل ها مشخص می شوند
برای محاسبه انتگرال مورد نظر شکل زیر عمل می نمایم

$$dS = \frac{|\nabla f|}{|\nabla f \cdot \vec{K}|} dA, \quad \vec{P} = \vec{K}$$

$$f = 2x - y + z - 3 \rightarrow \nabla f = 2\vec{i} - \vec{j} + \vec{k}$$

$$|\nabla f| = \sqrt{6}, \quad |\nabla f \cdot \vec{K}| = 1$$

به این ترتیب می توان نوشت

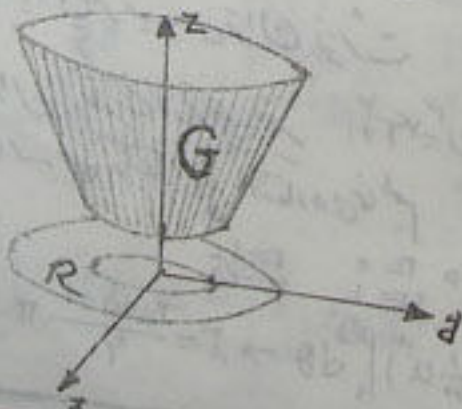
$$z = 3 - 2x + y$$

$$I = \iint_G (xy+z) dS = \iint_R [xy + (3-2x+y)] \frac{\sqrt{6}}{1} dA$$

$$I = \sqrt{6} \int_0^1 \int_0^{1-x} (xy + 3 - 2x + y) dy dx = \sqrt{6} \left[\frac{x}{2} y^2 + (3-2x)y + \frac{1}{2} y^2 \right] \Big|_0^{1-x} dx$$

$$I = \frac{9\sqrt{6}}{8}$$

⑦ مطلوب است محاسبه $\iiint_G xyz dS$ که G آن قسمت از سطح مخروط $z^2 = x^2 + y^2$ برده شده توسط صفحات $z=1$ و $z=4$ می باشد.



⑧ مراحل محاسبه انتگرال فوق شکل زیر عمل می نمایم

$$f = x^2 + y^2 - z^2 \rightarrow \nabla f = 2x\vec{i} + 2y\vec{j} - 2z\vec{k}$$

$$|\nabla f| = \sqrt{4(x^2 + y^2 + z^2)} = 2\sqrt{x^2 + y^2 + (x^2 + y^2)}$$

$$|\nabla f| = 2\sqrt{2} \cdot \sqrt{x^2 + y^2}$$

$$|\nabla f \cdot \vec{K}| = 2z = 2\sqrt{x^2 + y^2}$$

$$d\sigma = \frac{|\nabla f|}{|\nabla f \cdot \vec{k}|} dA = \frac{\sqrt{1+x^2+y^2}}{1} dA = \sqrt{1+x^2+y^2} dA$$

به این ترتیب مقدار انتگرال شکل زیر محاسبه می‌شود

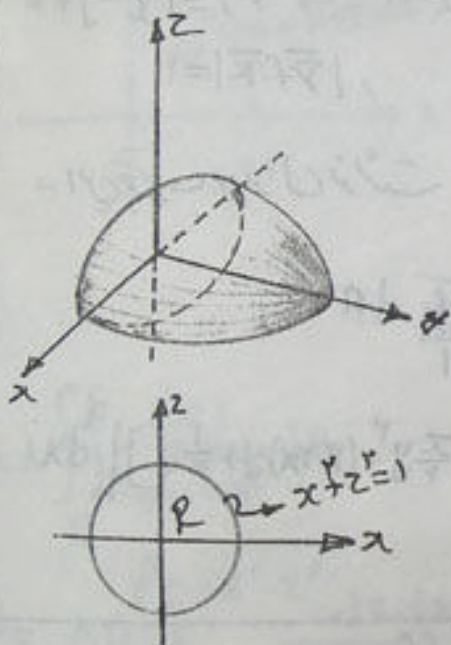
$$I = \iint_R x \, d\sigma = \iint_R x \sqrt{1+x^2+y^2} dA$$

با استفاده از مختصات قطبی می‌توان نوشت

$$I = \int_0^{2\pi} \int_0^1 r \cos \theta \sqrt{1+r^2} \cdot r \, dr \, d\theta = \int_0^{2\pi} \left(\frac{1}{3} \sin^3 \theta \right) \left(\frac{1}{2} r^2 \right) \Big|_0^1 d\theta$$

$$\rightarrow I = 0$$

۸) مطلوب است محاسبه $\iint_G (x^2+z^2) d\sigma$ آن قسمت از سطح $\sigma = 1-x^2-z^2$ قطع شده توسط صفحه $z=0$ می‌باشد.



ج: $f = x^2 + y^2 + z^2 - 1$ $\vec{P} = \vec{0}$

$$\nabla f = 2x\vec{i} + 2y\vec{j} + 2z\vec{k} \quad |\nabla f \cdot \vec{P}| = 1$$

$$|\nabla f| = \sqrt{4(x^2+y^2+z^2)} = 2\sqrt{x^2+y^2+z^2}$$

$$I = \iint_G (x^2+z^2) d\sigma = \iint_R (x^2+z^2) \frac{2\sqrt{x^2+y^2+z^2}}{1} dA$$

در اینجا $R: x^2+z^2 \leq 1$ زیرا اثر سطح

با $\sigma = 1-x^2-z^2$ را با صفحه $z=0$ قطع می‌کنیم. ناحیه R به دست می‌آید.

به این ترتیب می‌توان نوشت

در این شکل از تعویض متغیر برای

محاسبه $\int_0^1 \sqrt{1-u^2} \, du$ استفاده می‌کنیم

$$\begin{cases} x = r \cos \theta \\ z = r \sin \theta \end{cases} \quad x^2+z^2=1$$

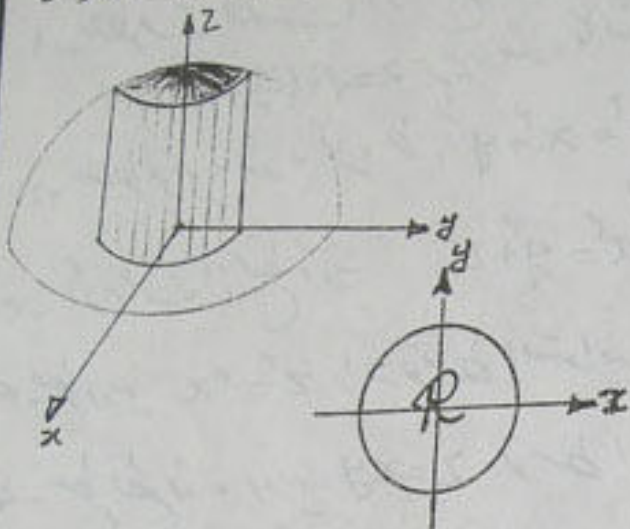
$$I = \int_0^{2\pi} \int_0^1 r^2 \sqrt{1+r^2} \cdot r \, dr \, d\theta$$

$$u = 1+r^2 \rightarrow r \, du = 2r \, dr \rightarrow r \, dr = \frac{1}{2} u \, du$$

$$r^2 = \frac{1}{2} (u-1) \rightarrow \begin{matrix} r=0 & r=1 \\ u=1 & u=2 \end{matrix}$$

$$\rightarrow I = \frac{1}{4} \int_0^{2\pi} \int_1^2 (u-1) u^{\frac{1}{2}} \, du \, d\theta = \frac{1}{4} \int_0^{2\pi} \left(\frac{2}{5} u^{\frac{5}{2}} - \frac{2}{3} u^{\frac{3}{2}} \right) \Big|_1^2 d\theta \rightarrow I = \frac{2\sqrt{5}+1}{6} \pi$$

۱) مطلوب است محاسبه $\iint_G z \, d\sigma$ که G سطح قطع شده نیمکره استوانه $x^2 + y^2 = 4$ می باشد.



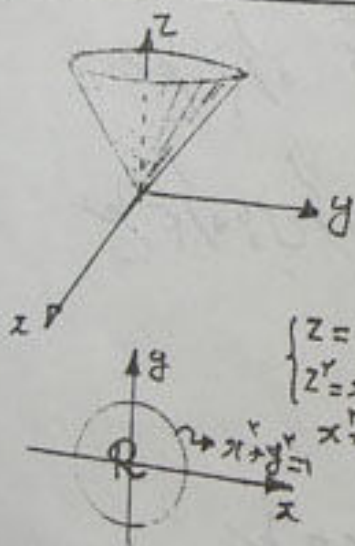
۲) جهت محاسبه انتگرال را محول زیر را انجام می دهیم

$$\begin{aligned} f &= x^2 + y^2 + z^2 - 4 \\ \nabla f &= 2x\vec{i} + 2y\vec{j} + 2z\vec{k} \\ |\nabla f| &= \sqrt{4(x^2 + y^2 + z^2)} = 6 \\ |\nabla f \cdot \vec{k}| &= 2|z| = 2z \\ d\sigma &= \frac{|\nabla f|}{|\nabla f \cdot \vec{k}|} dA = \frac{6}{2z} dA \end{aligned}$$

$$I = \iint_G z \, d\sigma = \iint_R z \left(\frac{6}{2z} dA \right) = 3 \iint_R dA$$

اما مقدار $\iint_R dA$ که $R: x^2 + y^2 \leq 4$ برابر مقدار مساحت ناحیه R می باشد

$$I = 3(4\pi) = 12\pi$$



۱) مطلوب است محاسبه انتگرال $I = \iint_G (x^2 + y^2) \, d\sigma$ که G سطح مخروط $z^2 = x^2 + y^2$ قطع شده توسط صفحات $z=0$ و $z=1$ می باشد.

$$\begin{aligned} f &= x^2 + y^2 - z^2 = 0 \rightarrow \nabla f = 2x\vec{i} + 2y\vec{j} - 2z\vec{k} \\ |\nabla f| &= \sqrt{4x^2 + 4y^2 + 4z^2} = 2\sqrt{x^2 + y^2 + z^2} = 2\sqrt{2}z \\ |\nabla f \cdot \vec{k}| &= 2|z| = 2z \quad z > 0 \\ d\sigma &= \frac{|\nabla f|}{|\nabla f \cdot \vec{k}|} dA = \frac{2\sqrt{2}z}{2z} dA = \sqrt{2} dA \end{aligned}$$

$$I = \iint_G (x^2 + y^2) \, d\sigma = \iint_R (x^2 + y^2) \sqrt{2} \, dA = \sqrt{2} \int_0^{2\pi} \int_0^1 r^2 \cdot r \, dr \, d\theta = 4\sqrt{2} \int_0^{2\pi} \left[\frac{1}{4} r^4 \right]_0^1 d\theta$$

$$I = \frac{\pi}{\sqrt{2}} \sqrt{2}$$

تشریحات برای حل

- ۱- مطلوبیت آن قسمت از سطح مخروط $z^2 = x^2 + y^2$ در بالای صفحه xy که توسط صفحه $z = \sqrt{2}(\frac{x}{2} + 1)$ بریده شده باشد.
- ۲- سطح بریده شده مخروط $z^2 = x^2 + y^2$ توسط استوانه $z^2 = 2px$ را بدست آوریم.
- ۳- آن قسمت از سطح رویه $x^2 = y^2 + z^2$ که داخل استوانه $x^2 + y^2 = a^2$ می باشد بدست آوریم.
- ۴- سطح رویه $z^2 = 4x$ را که توسط استوانه $y^2 = 4x$ و صفحه $x=1$ قطع شده است بدست آوریم.
- ۵- سطح قطع شده رویه $z = xy$ توسط استوانه $x^2 + y^2 = a^2$ را بدست آوریم.
- ۶- سطح آن قسمت از کره $x^2 + y^2 + z^2 = a^2$ قطع شده توسط استوانه زیر را بدست آوریم.

$$(x^2 + y^2)^2 = a^2(x^2 - y^2)$$

در مسائل زیر انتگرال روی سطوح داده شده را بدست آوریم.

۷. $\iint_G (z + 2x + \frac{4}{y}y) d\sigma$ سطح صفحه $1 = \frac{x}{2} + \frac{y}{3} + \frac{z}{4}$ در $\frac{1}{8}$ $G:$

۸. $\iint_G y d\sigma$ سطح نیم کره $z = \sqrt{a^2 - x^2 - y^2}$ $G:$

۹. $\iint_G x^2 y^2 z dx dy$ سطح نیم کره با مرکز $x^2 + y^2 + z^2 = a^2$ $G:$

۱۰. $\iiint_G xz dx dy + xy dy dz + yz dz dx$

سطح حجم مثلث از صفحات $G: \begin{cases} x+y+z=1 \\ x=0 \\ y=0 \\ z=0 \end{cases}$

جواب تشریحات

- ۱ π ۲ $2\sqrt{2} \pi r^2$ ۳ $2\pi a^2$
 ۴ $\frac{1}{2}(\sqrt{2}-1)$ ۵ $\frac{2\pi}{3}[(1+a^2)^{\frac{3}{2}}-1]$
 ۶ $2a^2(\pi+4-4\sqrt{2})$ ۷ $4\sqrt{6}$
 ۸ \cdot ۹ $\frac{2\pi a^2}{1-a}$ ۱۰ $\frac{1}{8}$